

ВСЕРОССИЙСКАЯ ОЛИМПИАДА ШКОЛЬНИКОВ ПО ГЕОГРАФИИ  
МУНИЦИПАЛЬНЫЙ ЭТАП  
2023-2024 учебный год  
ТЕОРЕТИЧЕСКИЙ (ТЕСТОВЫЙ) ТУР  
по предмету география  
10 классы

Уважаемые участники олимпиады!

Вашему вниманию предлагаются 30 заданий: 25 заданий тестового тура и 5 заданий теоретического тура. Внимательно прочитайте каждое задание и предлагаемые варианты ответа. Отвечайте только после того, как вы поняли вопрос и проанализировали все варианты ответа. **Ответы на задания вносятся в бланки ответов.**

Выполняйте задания в том порядке, в котором они даны. Если какое-то задание вызывает у вас затруднение, пропустите его и постарайтесь выполнить те задания, в ответах на которые вы уверены. К пропущенным заданиям вы можете вернуться, если у вас останется время.

После выполнения всех предложенных заданий ещё раз удостоверьтесь в правильности ваших ответов и если потребуется корректировка выбранного Вами варианта ответа, то неправильный вариант ответа зачеркните крестиком, и рядом напишите новый

Постарайтесь выполнить как можно больше заданий и набрать наибольшее количество баллов.

**Максимальное количество баллов - 100.**


**Время на выполнение заданий - 180 минут**

Желаем вам успехов!

## Тестовый тур

1. Выберите из списка самый узкий пролив Атлантического океана. **(16)**
- а. Гибралтарский
  - б. Босфор
  - в. Дрейка
  - г. Керченский
2. Укажите прибор, который поможет вам определить высоту объекта. **(16)**
- а. анемометр
  - б. психрометр
  - в. барометр
  - г. гигрометр
3. Выберите из списка город, который не является столицей государства. **(16)**
- а. Маскат
  - б. Додома
  - в. Рио-де-Жанейро
  - г. Каракас
4. В своём отчёте о землях этой реки Василий Поярков писал: «.....родится 6 хлебов: ячмень, овёс, просо, греча, горох и конопля.... родится овощ: огурцы, мак, бобы, чеснок, яблоки, груши, орехи грецкие, орехи русские». Выберите из списка эту реку. **(16)**
- а. Алдан
  - б. Амур
  - в. Хатанга
  - г. Оленёк
5. До революции эту улицу в Екатеринбурге называли Покровский проспект. Выберите из списка современное название этой улицы. **(16)**
- а. Вайнера
  - б. Хохрякова
  - в. 8 марта
  - г. Малышева

6. Укажите, в окрестностях какого из представленных на фото историко-культурных объектов можно наблюдать многочисленные следы ледниковой экзарации. (16)



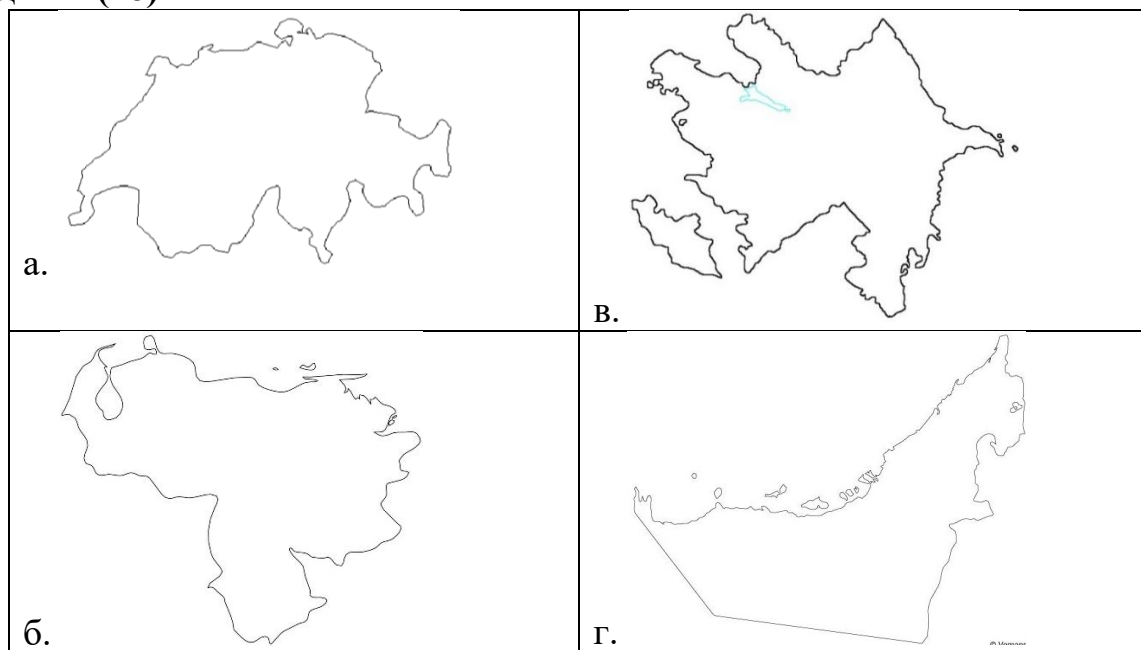
7. Водосборный бассейн какого из морей имеет наибольшую площадь в пределах России? Укажите верный ответ. (16)

- а. Балтийского моря
- б. Баренцева моря
- в. Карского моря
- г. Моря Лаптевых

8. Выберите верное сочетание: полезное ископаемое – название месторождения – субъект РФ. (16)

- а. железная руда – Ковдорское – республика Карелия
- б. природный газ – Ковыктинское – Иркутская область
- в. каменный уголь – Печорский бассейн – Архангельская область
- г. медная руда – Удоканское – республика Бурятия

9. Выберите из предложенных рисунков контур государства Азербайджан. (16)



10. Выберите реку, которая не относится к бассейну Атлантического океана. (16)

- а. Свирь
- б. Сонна
- в. Сухона
- г. Кагера
- д. Луалаба

11. Укажите природно-хозяйственный регион России, в котором выращивают горчицу. (16)

- а. Европейский ЮГ
- б. Центральный
- в. Дальневосточный
- г. Поволжский

12. Выберите два высказывания с информацией об этническом и религиозном составе населения России. (16)

а. Согласно данным последней переписи населения, в России проживают представители более 200 национальностей.

б. Основную долю населения Европейского Севера составляют коренные народы финно-угорской группы – карелы, вепсы, ижорцы.

в. Большие казачьи селения в бассейнах Дона и Кубани численностью в несколько тысяч человек называются сёлами.

г. Якуты – самоназвание «саха» проживают в бассейне реки Енисей.

д. Большая часть мусульман России придерживаются одного из направлений ислама – суннизма.

13. Выберите из предложенного списка два центра по производству автобусов. **(16)**


- а. Ликино-Дулёво
- б. Набережные Челны
- в. Павлово
- г. Энгельс
- д. Самара

14. Одним из важнейших видов энергетических ресурсов является природный газ. Учащиеся нашли в интернете информацию, что в странах Европейского Союза в 2019г. объёмы добычи природного газа составили 117,8 млрд.м<sup>3</sup>, при этом показатель ресурсообеспеченности за этот год составлял 10 лет. Определите, какова в 2019г. величина разведанных запасов природного газа в странах Европейского Союза. Ответ запишите в виде целого числа. **(16)**

15. Расположите перечисленные города в порядке увеличения продолжительности ночи, начиная с того, в котором 20 июня уличное освещение необходимо включать на более короткий срок. **(26)**

- а. Архангельск
- б. Махачкала
- в. Казань

16. На картинках представлены логотипы крупных промышленных компаний России. Напишите отрасль, к которой относятся данные промышленные компании. **(16)**



17. Выберите из списка официально признанное мировым сообществом государство, которое не является членом ООН. **(16)**

- а. Маршалловы острова
- б. Ватикан
- в. Тайвань
- г. Федеративные Штаты Микронезии

18. Выберите верный ответ. Линии, соединяющие точки с одинаковой солёностью поверхностных вод океанов и морей, называются: **(16)**

- а. изогииеты
- б. изогалины
- в. изобары
- г. изотахи
- д. изотермы

19. Выберите утверждение, которое не является примером рационального природопользования. **(16)**

- а. Перевод ТЭС с угля на природный газ.
- б. Продольная распашка склонов.
- в. Рекультивация земель после выработки месторождений.
- г. Использование металлолома в металлургии.

20. Выберите два субъекта России с развитой угольной промышленностью. **(16)**

- а. Смоленская область
- б. Ростовская область
- в. Республика Коми
- г. Свердловская область
- д. Челябинская область

21. Выберите группу стран с монархической формой правления, в которой допущена ошибка. **(16)**

- а. Иордания, Кувейт, Саудовская Аравия
- б. Таиланд, Камбоджа, Бруней
- в. Марокко, Лесото, Мозамбик
- г. Норвегия, Люксембург, Андорра

22. На побережье Финского залива Балтийского моря расположены ключевые торговые порты – Усть-Луга, Кронштадт, Выборг. Распределите города России в порядке их удалённости от этих портов. **(26)**

- а. Магнитогорск
- б. Череповец
- в. Липецк

23. Установите соответствие между ГЭС и рекой, на которой она расположена: **(26)**

ГЭС	Река
1. Богучанская	а. Куныя
2. Цимлянская	б. Енисей
3. Воткинская	в. Ангара
4. Саяно-Шушенская	г. Дон
5. Загорская	д. Кама

24. Установите соответствие между страной и мысом, на территории которой этот мыс находится: **(26)**

Названия мыса	Страна
1. мыс Доброй Надежды	а. Турция
2. мыс Рока	б. Малайзия
3. мыс Пиай	в. ЮАР
4. мыс Баба	г. Панама
5. мыс Марьято	д. Португалия

25. Расположите столицы соседних с Россией государств, начиная с государства, граничащего с самой восточной точкой России, по часовой стрелке. **(26)**

- а. Пекин
- б. Баку
- в. Хельсинки
- г. Токио
- д. Минск
- е. Вашингтон
- ж. Рига

### Теоретический тур

26. «Течением реки Балчуговки завод Балчуговский делился на две неровные половины, - правая Нагорная и левая Низменная – Низы. Название завода сохранилось здесь от стародавних времён, когда в Нагорной стоял казённый винокуренный завод..... . Впоследствии, когда открылось \_\_\_\_\_ , Балчуговка была запружена, а при запруде поставлена \_\_\_\_\_ промывальная мельница, в течение времени превратившаяся в фабрику». Д.Н.Мамин Сибиряк. **(86)**

а. Искателям какого минерала посвятил свой одноименный роман Д.Н.Мамин-Сибиряк. Укажите этот минерал.

б. Назовите имя первооткрывателя, нашедшего в долине реки Болчуговки, о которой говорится в отрывке, первое на Урале месторождение этого минерала.

в. Какому современному городу Свердловской области и реке Д.Н. Мамин-Сибиряк в своём романе дал название «Болчуговка»


27. Гимназист Петя все летние каникулы провёл в деревне. У дедушки сохранились старые журналы «Вокруг Света», которые очень заинтересовали Петю. В одном из журналов Петя нашёл статью об уникальных природных объектах мира, однако, о том на территории каких стран расположены эти объекты, как они называются, в статье не написано. Помогите Пете определить эти объекты и найти их месторасположение. Впишите название объектов и стран в таблицу. Ответы на задание внесите в бланк ответов. **(206)**

Описание объекта	Название объекта	Страны
1. Пустыня, расположенная на побережье океана и богатая алмазами.		
2. На языке гуарани его название означает «большая вода».		
3. Случившаяся в 19 веке в этом месте природная катастрофа на несколько лет изменила состав атмосферы.		
4. Наскальные фрески говорят о том, что климат этих мест был когда-то гораздо влажнее.		
5. На языке суахили её называют «гора, которая блестит».		
6. Этому гигантскому каменному останцу поклоняются аборигены.		
7. Эти острова стали Чарльзу Дарвину «лабораторией».		
8. «...Вода пресная, а нерпы и зайцы велики в нем: во океане-море большом, живучи на Мезени, таких не видал».		
9. Как уверяют местные жители, тропа, окаймляющая эту гору на высоте 2500 м. указывает дорогу в иной мир.		



10. Коренные жители Севера называют это плато «горами без вершин».		
--	--	--

28. (106)



- а. Определите по картинкам субъект РФ.
- б. Назовите экономический район, в состав которого входит данный субъект.
- в. Назовите соседей субъекта.
- г. «Пройдёт в обручальное кольцо и поместится в гусиное яйцо» - так говорят об этом изделии, которое производят в данном субъекте. Назовите это изделие.
- д. В 1883г. административный центр субъекта посетил А.С.Пушкин. С какой целью поэт посетил этот город?

29. Изучите фрагмент топографической карты Свердловской области (Приложение 1). Ответьте на вопросы. (206)

- а. В какой природной зоне расположена данная территория?
- б. Определите состав древостоя и его основные характеристики к северу от Тёплого Ключа.
- в. Рассчитайте падение р.Уфа. Укажите скорость её течения.
- г. Какое происхождение имеют озёра в долине р.Уфа? Как они называются?
- д. Охарактеризуйте брод к северу от пос.Бишково.
- е. К северо-западу от пос.Карги и к югу от пос.Крылово имеются линейные условные знаки, обозначенные пунктиром, что они обозначают?
- ж. Охарактеризуйте паромную переправу к северо-востоку от пос. Рахмангулово.

30. Раньше различные территории и колонии называли «берегами». Как называются эти территории на современной карте мира? Ответы на задание внесите в бланке ответов. **(12б)**

Старое название территории	Современное название территории (страны)
А. Берег Маклая	
Б. «Пиратский» берег	
В. Берег Слоновой кости	
Г. «Перцовый» берег	
Д. «Золотой» берег	
Е. Берег Москитов	