

11 класс  
Тестовый раунд

1. Выберите страну из списка ТОП-15 по общей стоимости объёма ВВП, которая специализируется на выращивании мандаринов, занимая первое место в мире по этому показателю.

- А) Турция    Б) Республика Корея    В) Испания    Г) Мексика    Д) Китай

2. Выберите страну, которая является мировым лидером по числу легковых автомобилей на душу населения.

- А) Китай    Б) США    В) Япония    Г) Россия    Д) Индия

3. Выберите ошибочное утверждение о физико-географических особенностях Европы.

- А) наибольшая по площади природная зона Западной Европы – широколиственные леса  
Б) умеренно-континентальный климат представлен в странах Восточной Европы  
В) самые высокие горы Зарубежной Европы имеют абсолютные высоты более 4500 м  
Г) самый большой вулканический остров Европы – Исландия  
Д) самое большое по площади водного зеркала море у берегов Европы – Балтийское

4. Выберите строку, в которой представлена первая тройка стран Азии по площади.

- А) Китай, Индия, Казахстан    Б) Китай, Индия, Саудовская Аравия  
В) Китай, Индия, Иран    Г) Китай, Индия, Монголия    Д) Китай, Индия, Пакистан

5. Выберите утверждение, в котором идёт речь о международном географическом разделении труда.

- А) Австралия обладает крупными запасами железных руд  
Б) Россию и Китай связывают современные трубопроводные системы  
В) Ямайка поставляет свой глинозём в Россию  
Г) объём производства автомобилей в Европе год от года уменьшается  
Д) Россия занимает третье место в мире по выращиванию пшеницы

6. Выберите строку, в которой правильно указаны показатели, измеряемые прибором, изображённым на рисунке.

- А) влажность и давление    Б) давление и облачность  
В) облачность и влажность    Г) температура и влажность  
Д) температура и давление



7. Выберите федеративное государство с монархической формой правления.

- А) Саудовская Аравия    Б) Испания    В) Великобритания    Г) ОАЭ    Д) Марокко

8. Выберите страну, получившую независимость раньше других.

- А) Южный Судан    Б) Эритрея    В) Восточный Тимор    Г) Абхазия    Д) Намибия

9. Выберите страну, которая занимает первое место по экспорту микрочипов.

- А) Малайзия    Б) Китай    В) США    Г) Япония    Д) Сингапур

10. Выберите город на Дальнем Востоке, который называют «город Юности» за то, что в 1932 г. его возводили методом всеобъемлющей стройки. Долгое время он считался самым «молодым» городом по возрасту его жителей.

- А) Комсомольск-на-Амуре    Б) Магадан  
В) Свободный    Г) Благовещенск  
Д) Биробиджан



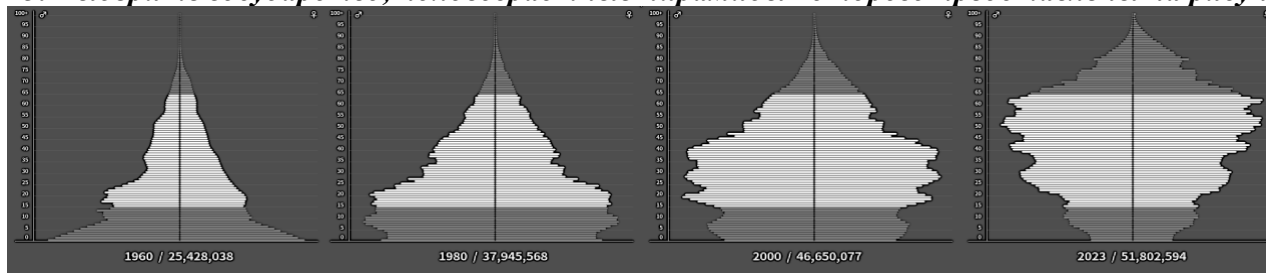
11. Выберите язык, относящийся к тюркской группе алтайской языковой семьи.

- А) албанский    Б) персидский    В) арабский    Г) киргизский    Д) кабардинский

12. Выберите страну, которая занимает последнее место по ВВП на душу населения среди перечисленных стран Европы.

- А) Албания    Б) Молдова    В) Северная Македония    Г) Босния и Герцеговина    Д) Беларусь

13. Выберите государство, половозрастные пирамиды которого представлены на рисунке.




- А) Республика Корея    Б) Саудовская Аравия    В) Мексика    Г) Сенегал    Д) Германия

14. Выберите сельскохозяйственное животное, о котором идёт речь в следующем тексте: «Республика Калмыкия занимает второе место по поголовью этих сельскохозяйственных животных, среди которых основные породы: советский меринос, грозненская, ставропольская, кавказская, каракульская, эдильбаевская и калмыцкая курдючная. Все эти породы характеризуются большой выносливостью и приспособленностью к пастбищному содержанию в условиях полупустыни Калмыкии».

- А) верблюд    Б) лошадь    В) овца    Г) осёл    Д) коза

15. Выберите металлическую руду, о которой идёт речь в следующем тексте: «Россия обладает крупной сырьевой базой этих руд, входя в десятку мировых держателей их запасов, однако товарно-сырьевую продукцию не производит. В 2021 г. Россия занимала третье место в мире по объёму импорта товарных руд и концентратов этого металла, а лидерами отрасли являются ЮАР, Габон и Австралия».



- А) стронциевая    Б) марганцевая    В) оловянная    Г) литиевая    Д) платиновая

16. Этот горнолыжный курорт находится в субъекте РФ, где на 100 жителей в 2022 г. пришлось 329 туристов (третье место по России). Наивысшая точка курорта 1240 м над уровнем моря. Хотя сам курорт создан только в 2010 г. Это место получило известность благодаря прошедшему здесь в 1966 г. фестивалю советско-монгольской дружбы и песне в исполнении Эдиты Пьехи «Расскажи-ка мне, дружок, / Что такое...?», написанной для фестиваля.

- А) Чегет    Б) Шерегеш    В) Холдоми    Г) Манжерок    Д) Большой Вудъявр

17. Выберите государство, которое на 2023 г. входит в десятку лидеров по добыче золота.

- А) Ангола    Б) Бурунди    В) Камерун    Г) Гана    Д) Джибути

18. Выберите народ России, о котором идёт речь в следующем тексте: «Традиционным занятием этого тюркского народа является коневодство. Не случайно в русских документах XVII в. их называли «конными людьми». До принятия христианства они исповедали «аар айыы». До сих пор быт народа во многом определяется шаманизмом».

- А) башкиры    Б) буряты    В) калмыки    Г) чукчи    Д) якуты

19. Выберите древесную породу, НЕ характерную для широколиственных лесов.



А) бук



Б) граб



В) дуб



Г) ива



Д) липа

20. Выберите строку, в которой правильно указаны полезные ископаемые, необходимые для производства кокса.

- А) бурый уголь и торф    Б) горючие сланцы и нефть    В) каменный и бурый уголь  
Г) каменный уголь и нефть    Д) природный газ и торф

21. Выберите вид карты, изображённый на рисунке.

- А) абрис    Б) анаморфоза    В) план  
Г) портулан    Д) проекция



22. Выберите реку, протекающую по территории Пермского края.

- А) Юг    Б) Весляна    В) Хопёр    Г) Сура    Д) Кеть

**23. Выберите объект атомной электроэнергетики России.**

- А) Вилюйская    Б) Жигулёвская    В) Мутновская    Г) Кочубеевская    Д) Академик Ломоносов

**24. Выберите страну с наибольшей долей пожилого населения (старше 60 лет).**

- А) ОАЭ    Б) Япония    В) США    Г) Латвия    Д) Россия

**25. Выберите город, где зимой наиболее сильно проявляется влияние Азиатского (Сибирского) антициклона.**

- А) Норильск    Б) Хабаровск    В) Кызыл    Г) Екатеринбург    Д) Новосибирск

**Теоретический раунд**

**Задача 1.** Перед Вами фрагмент топографической карты (приложение 1). Посмотрите на неё внимательно.

**Выполните задания на бланке ответов на соответствующую задачу.**

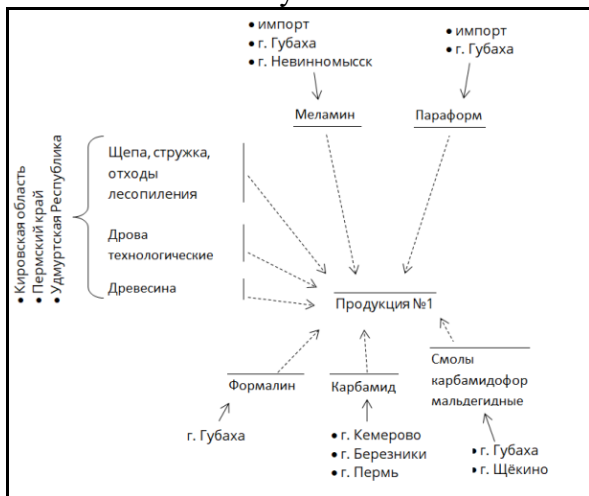
**Задача 2.** На рисунках представлены схемы сырьевых потоков для производства трёх видов продукции лесопромышленного комплекса в трёх субъектах РФ. Регионы расположены в разных федеральных округах. Про регионы известно следующее (по данным на 2022 г.):

Регион А: Лесистость – 63,8%, объём заготовленной древесины – 1,98 млн куб. м (III место в федеральном округе). По территории этого региона протекает река, являющаяся крупнейшим водотоком, впадающим в самое глубокое озеро планеты.

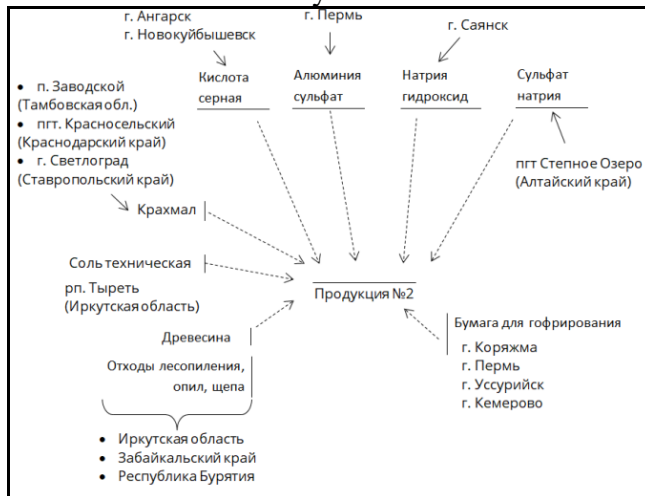
Регион Б: Лесистость – 68,3%, объём заготовленной древесины – 14,58 млн куб. м (I место в федеральном округе). В этом регионе крупнейший по численности населения город не является его административным центром.

Регион В: Лесистость – 45,9%, объём заготовленной древесины – 2,16 млн куб. м (V место в федеральном округе). В этом регионе производится военная продукция, изображаемая на флагах и гербах многих стран мира.

**Рисунок 1**



**Рисунок 2**

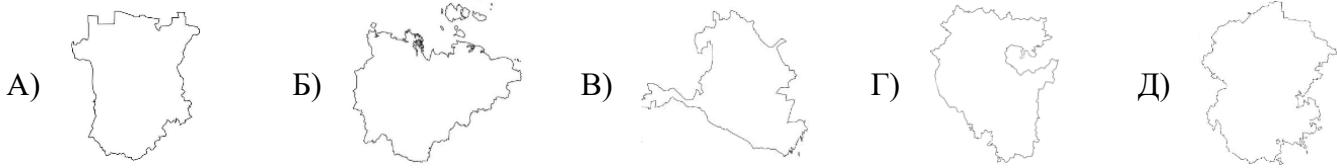


**Рисунок 3**



**Выполните задания на бланке ответов на соответствующую задачу.**

**Задача 3.** На рисунках изображены картосхемы пяти субъектов Российской Федерации. Все они представлены в разных масштабах. Все эти субъекты названы в честь одного из проживающих на его территории народов. Все являются республиками.



Перед вами строчки из гимнов этих республик в составе Российской Федерации на языке титульного народа.

1) Сарул сээхн Хальмг Таңһч  
Сансн тоотан күцэнэ,  
Авта жүрһлин бат жэолаг  
лдр харман атхна.

2) Халкыбыззың изге Ватаны.  
Сал Уралдан калка бар тарафка  
Тыуган илдең тыныс ал таңы

3) Туруй бары дойду кырыстаах,  
Аччык кулут дьон аймаҕа!  
Өйдөөх санаабыт саталанна,  
Өлөр өскө тэрилиннэ

4) Сурхи тёнче вйраннй чух:  
Хаваслй кун шйраннй чух  
Чун савйнатъ: чёре сикет,  
Сёршывйм синчен юрлас килет.

5) Харцоно це тесна хийла хьо ягарх,  
Нохчийчоь ца йоьжна, глаьттина яха.  
Кавказан ткъес хилла, маршонан ага,  
Хьан лаьттан сий дина яхь йолчу наха.

**Выполните задания на бланке ответов на соответствующую задачу.**

**Задача 4.** Рельеф Земли в настоящее время существенно преобразуется деятельностью человека. Техногенные формы рельефа образуются в результате добычи полезных ископаемых, строительства, нарушений землепользования или техногенных катастроф. Перед вами спутниковые снимки и фотографии пяти различных техногенных форм рельефа (приложение 2).

**Выполните задания на бланке ответов на соответствующую задачу.**

**Задача 5.** Российская Федерация признаёт 197 независимых стран мира. Из них 193 являются членами Организации Объединенных Наций. Остальные 4 страны – это Ватикан и Палестина, являющиеся наблюдателями в Генеральной Ассамблее ООН, а также Абхазия и Южная Осетия, которые частично признаны мировым сообществом. Тем не менее, в ближайшее десятилетие этот список может быть увеличен за счёт Шотландии, а также меланезийского острова Бугенвиль.

**Выполните задания на бланке ответов на соответствующую задачу.**