

	Задание 1.	Задание 2.	Задание 3.	Задание 4.	Задание 5.	тест	ИТОГО
Баллы							

**Задания муниципального этапа****всероссийской олимпиады школьников по географии****2023-2024 учебный год, 11 КЛАСС**

Время выполнения – 180 минут

Максимальный балл – 143

**Не разрешается** пользоваться атласами, и любыми справочными данными, в том числе сотовыми телефонами и прочими гаджетами. Пишите разборчиво! Удачи!

**Аналитический раунд**

**Задание 1.** Максимальное количество баллов – 15

**Найдите** в таблице лишние географические объекты или термины, т.н. «белые вороны». В каждой строке и каждом столбце таблицы есть только одна «белая ворона». В цепочках, расположенных по горизонтали и вертикали, общим признаком для остальных слов и словосочетаний является принадлежность к одному из десяти островов, входящих в число тридцати крупнейших по площади островов мира. Определите эти десять островов.

## Экземпляр № 2

		Е	Ж	З	И	К
1	А	Викинги	Английский язык	Христофор Колумб	Доминион	Америка
2	Б	Монархия	Мегалополис	Более 100 млн. жителей	Буддизм	Французский язык
3	В	Протестантизм	Джеймс Кук	Вулканы	Атлантический океан	Мангровые леса
4	Г	Кристаллический фундамент	Кайнозойская складчатость	Австронезийская семья	Гондвана	Пассаты
5	Д	Тайга	Столица государства	АСЕАН	Тропические муссоны	Католицизм

Выберите «белые вороны» для строк 1–5 и запишите названия островов А–К в таблицу ниже.

«Белая ворона»		Острова		
1		А		Е
2		Б		Ж
3		В		З
4		Г		И
5		Д		К

## Экземпляр № 2

**Задание 2.** Максимальное количество баллов – 23

В задании под буквами А,Б,В,Г,Д даны 5 государств, одно из которых имеет сухопутные границы с оставшимися четырьмя странами. Определите государства, заполните таблицу: впишите пропущенные в тексте слова вместо цифр.

А. Государство вытянуто в субмеридиональном направлении. В силу своей протяженности государство расположено во влажном тропическом, 1 и экваториальном климатах. Государство – один из крупнейших производителей зерновой культуры - 2. Столица - 3. Форма правления - 4. Название государства 5.

Б. Государство на западе омывается самым большим в мире заливом – 1. Максимум речного стока приходится на 2 сезон. Крупнейшая река государства - 2. Подавляющее большинство исповедуют религию 3. Название государства 5.

В. Часть государства расположена на острове 1, а другая часть - на полуострове, мыс 2 (название) которого является крайней точкой самого большого континента. На территории государства ведётся вырубка деревьев и очистка территории в

основном под плантации масленичной пальмы. В лесах встречается самый крупный цветок в мире - 3. Государство является крупным экспортёром электротехники и продуктов информационно-коммуникационных технологий. Столица - 4. Название государства 5.

Г. Государство не имеет выхода к морю. Крупнейший город - 1. Основой экономики является 2. Значительная часть населения сосредоточена вдоль реки 3. Название государства 4.

Д. Территория государства на юге и юго-западе омывается водами залива. Столица - 1. В прошлом это государство было колонией 2 (страна). Наибольшим биоразнообразием характеризуется район озера Тонлесап, где расположен одноименный уникальный биосферный 3, созданный для сохранения уникальной природы. Название государства 4.

	А	Б	В	Г	Д
1					
2					

## Экземпляр № 2

3					
4					
5					

5. На карте обведите область (области) на которой (которых) возможны наибольшие скорости ветра

6. Кратко опишите погоду, которая характерна для верховий р.Вилюя (левого притока р.Лена)



**Задание 3.** Максимальное количество баллов – 15

Внимательно посмотрите на карту и ответьте на вопросы.

1. Как называются такие карты?

\_\_\_\_\_

2. Как называются изолинии, изображенные на карте? \_\_\_\_\_

3. Заполните таблицу 1. Запишите расшифровку условных знаков.

4. Заполните таблицу 2. а) Что должно быть написано на карте вместо цифр 1,2,3?

б) Какие атмосферные образования обозначают замкнутые изолинии вокруг цифр 1,2,3?

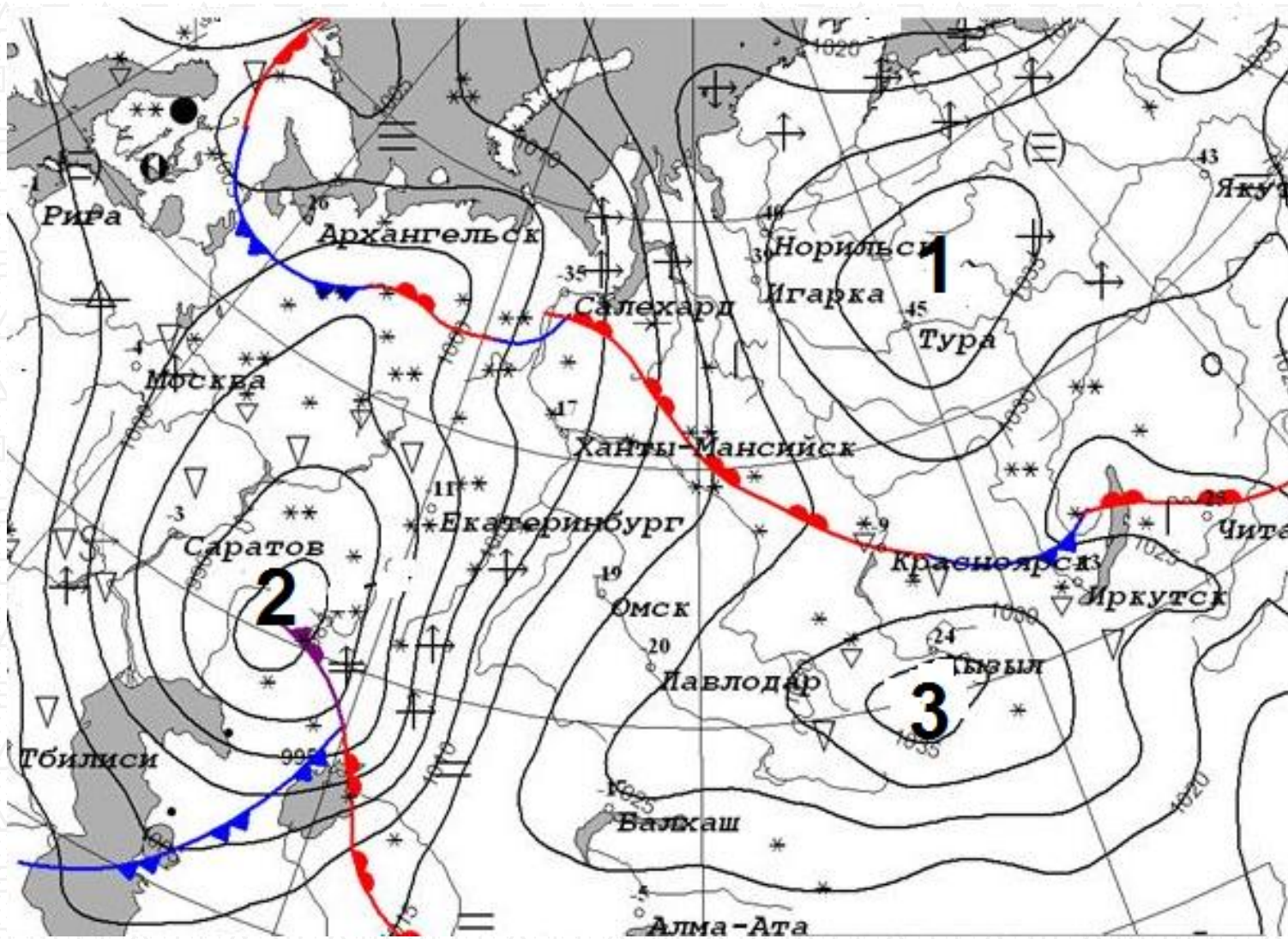


Таблица 1.






Условные обозначения				
				

Таблица 2.

Цифра на карте	1	2	3
а) Отметка на карте			
б) Атмосферное образование			

**Задание 4.** Максимальное количество баллов – 56.


Задания на знание географической номенклатуры (по 1 баллу за верный ответ)

Во вторую колонку таблицы следует записывать номер объекта, который в вопросах отмечен подчеркиванием.

Вопрос	номер на карте	Дополнительный вопрос	Ответ
1. В каком <u>городе</u> находится музей «Царство вечной мерзлоты»?		а) запишите его название; б) к какой языковой семье и к какой группе относится язык коренного народа этой территории	
2. Какой <u>город</u> является административным центром <u>Алтайского края</u> ?		а) запишите его название; б) каково название реки, на берегах которой стоит город	
3. Что объединяет перечисленные в списке топонимы: <u>Астана</u> , Акмолинск, Целиноград, Акмола, Нур-Султан		а) запишите ответ на заданный вопрос; б) в какой природной зоне находится данная	

## Экземпляр № 2

	территория		6. В какой из перечисленных стран нет Альп? а) <u>Франция</u> ; б) <u>Испания</u> ; с) <u>Германия</u> ; д) <u>Австрия</u> <i>(при указании номеров в ответе соблюдайте заданную последовательность, если ответ не знаете, ставьте прочерк)</i>	а: б: с: д:	Запишите: а) название страны; б) название высочайшей вершины Альп	
4. Какой факт о <u>Саргассовом море</u> является правдой: а) оно находится на границе двух океанов; б) вода в море слабосоленая; с) в его акватории находятся Бермудские острова; д) в его акватории находятся Азорские острова	а) запишите буквенное обозначение правильного ответа; б) запишите название крупной формы рельефа океанического дна, над которой находится это море		7. Где в России находится самый длинный троллейбусный маршрут (86 км)?		Запишите: а) название субъекта РФ; б) начальный и конечный пункты этого маршрута	
5. Юань – валюта какой страны?	Запишите: а) название государства и его <u>столицы</u> ; б) опишите государственный флаг и/или нарисуйте его схему		8. Какая страна самая посещаемая туристами?	-	Запишите: а) название страны;	
			9. Герб какой <u>страны</u> отличается от других изображением на нём шахматной доски?		Запишите: а) название страны; б) название её столицы	

<p><b>10.</b> Где находится необычный выступ скалы, известный как «Язык тролля»? (при указании номеров в ответе соблюдайте заданную последовательность, если ответ не знаете, ставьте прочерк)</p> 	<p>Выберите ответ и запишите: а) название страны/территории: <b>a) Швеция; б) Канада; в) Аляска; г) Норвегия</b> б) название столицы</p>		<p><b>12.</b> В этой стране въезжающие рискуют быть оштрафованными на сумму от 10000 до 72000 местных долларов за ввоз жевательной резинки. Особенная черта городов - на улицах, во дворах и вообще повсюду очень чисто и аккуратно. Здесь очень легко получить штраф за курение, жевание жвачки, употребление пищи в местах, для этого не предназначенных. За плевков – штраф 1000 S\$.</p>	<p>Запишите: <b>а)</b> название страны; <b>б)</b> климатический пояс, в котором расположена страна;</p>	
<p><b>11.</b> Какой из химических элементов отличается от остальных трёх своим именем, данным ему в честь географического объекта? <b>а)</b> сера; <b>б)</b> хлор; <b>в)</b> рутений; <b>г)</b> йод</p>	<p>Запишите: <b>а)</b> буквенное обозначение правильного ответа; <b>б)</b> о каком географическом объекте идёт речь?</p>		<p><b>13.</b> Кто такие нивхи? <b>а)</b> птицы, обитающие на побережье <u>Белого моря</u>; <b>б)</b> малочисленный народ на <u>Сахалине</u>; <b>в)</b> ядовитые насекомые <u>Антильских островов</u>; <b>г)</b> приматы на <u>острове Калимантан</u></p>	<p>Запишите: <b>а)</b> буквенное обозначение верного ответа; <b>б)</b> где ещё имеются значительные группы названных популяций</p>	
			<p><b>14.</b> В этом Азиатском государстве нет постоянных водотоков. Это одно из трёх современных государств, имеющих название, данное в честь правящей династии.</p>	<p>Запишите: <b>а)</b> название страны; <b>б)</b> укажите <u>две другие страны</u>, названия которых образованы от имён их</p>	



## Экземпляр № 2

	правителей	
<p>15. Где пробурена самая глубокая скважина?</p>	<p>Запишите:</p> <p>а) <u>название территории</u>;</p> <p>б) тектоническая структура, в пределах которой осуществлялось бурение</p>	

**Задача 5.**

Максимальное количество баллов – 14

2. Укажите высоту сечения рельефа

\_\_\_\_\_.

3. Определите географические координаты

г.Карьерная \_\_\_\_\_

\_\_\_\_\_.

4. Определите высоту г.Карьерная относительно

р.Соть \_\_\_\_\_.

5. Определите истинный и магнитный азимуты направления движения с г.Карьерная на г.Михалинская, если магнитное склонение в данной местности  $3^{\circ}$  западное \_\_\_\_\_

\_\_\_\_\_.

\_\_\_\_\_.

6. Дайте характеристику древостоя Северного леса \_\_\_\_\_

\_\_\_\_\_.

\_\_\_\_\_.

7. Укажите, в каком направлении течет

р.Соть \_\_\_\_\_.

8. Определите расход воды в реке, расчеты запишите:

\_\_\_\_\_.

9. Определите минимальную отметку абсолютной высоты местности на данной карте \_\_\_\_\_.

10. Обведите на карте территорию(ии), для которой(ых) характерен редкий и вырубленный лес с примесью кустарников.

**Тест** Максимальное количество баллов – 20

Вопрос	ответ
1. День всегда равен ночи на Земле на: а) полюсах, б) полярных кругах, в) тропиках, г) экваторе.	
2. Выберите реки с летним половодьем: а) Везер, Тежу, Висла; б) Сырдарья, Кубань, Индигирка; в) Кызылырмак, Ингул, Эмба; г) Онега, Западная Двина, Тигр	

3. Монархией в Океании является: а) Вануату, б) Кирибати, в) Тонга, г) Фиджи.	
4. Выберите два родственных языка: а) китайский, японский; б) латышский, литовский; в) шведский, финский; г) чувашский, мордовский	
5. Государство с населением менее 200 млн. чел.: а) Бразилия, б) Индонезия, в) Нигерия, г) Япония.	
6. Самое глубокое озеро из перечисленных: а) Виктория, б) Ньяса, в) Тана, г) Чад.	
7. Горные системы этой складчатости относятся к высочайшим на Земле: а) герцинская, б) каледонская, в) кайнозойская, г) мезозойская.	
8. Остров, на котором нет столицы государства: а) Сент-Китс, б) Сан-Томе, в) Сен-Пьер, г) Сантьягу.	
9. Самый южный город-миллионер в мире: а) Веллингтон, б) Кейптаун, в) Мельбурн, г) Монтевидео.	



10. Больше всего осадков в июле выпадает в: <i>а) Манаме, б) Марселе, в) Манчестере, г) Мумбаи.</i>	
11. Высшей точкой Скалистых гор является гора: <i>а) Эльбурс, б) Элберт, в) Эребус, г) Эрцберг.</i>	
12. Ветер, дующий с тридцатых широт к экватору, называется: <i>а) бриз, б) муссон, в) мистраль, г) пассат.</i>	
13. Город Йоханнесбург находится в: <i>а) Германии, б) Нидерландах, в) США, г) ЮАР.</i>	
14. Азиатская пустыня: <i>а) Атакама, б) Карру, в) Сонора, г) Гоби.</i>	
15. Крупнейшая по численности населения мусульманская страна в мире: <i>а) Индонезия. б) Иран, в) Пакистан, г) Саудовская Аравия.</i>	
16. Линия на карте, соединяющая точки с одинаковым количеством осадков:	

<i>а) изогиета, б) изогипса, в) изобара, г) изобата.</i>	
17. Море, являющееся наиболее солёным: <i>а) Баффина, б) Содружества, в) Сулу, г) Лигурийское</i>	
18. Наибольшее среднегодовое количество осадков выпадает на восточных склонах: <i>а) Гвианского пл-я, б) Скалистых гор, в) Чилийских Анд, г) Урала.</i>	
19. Стоячие волны, возникающие в замкнутых или полузамкнутых водоёмах в результате резонансных явлений: <i>а) ватты, б) курумы, в) марши, г) сейши.</i>	
20. Географический объект в честь купца, географа и путешественника, прозванного Русским Колумбом: <i>а) Берингов пролив, б) остров Врангеля, в) залив Шелихова, г) город Хабаровск.</i>	

