



12. Выберите отрасль, объединяющую города: Новокузнецк, Норильск, Волгоград, Красноярск:  
а) гидроэнергетика  
б) цветная металлургия  
в) чёрная металлургия  
г) целлюлозно-бумажная промышленность
13. Выберите ошибку в списке атомных электростанций России:  
а) Ленинградская  
б) Кольская  
в) Сургутская  
г) Белоярская
14. Выберите федеральный округ с наименьшей средней плотностью населения:  
а) Сибирский  
б) Северо-Западный  
в) Уральский  
г) Дальневосточный
15. Найдите ошибку в списке стран с федеративной формой территориального устройства:  
а) Германия  
б) Бразилия  
в) Великобритания  
г) Мексика
16. Выберите неверное составленную пару городов и их бывших названий:  
а) Нижний Новгород - Молотов  
б) Тверь - Калинин  
в) Екатеринбург - Свердловск  
г) Самара - Куйбышев
17. Выберите страну, имеющую двух сухопутных соседей и не выходящую к Мировому океану:  
а) Монголия  
б) Казахстан  
в) Перу  
г) Лесото
18. Эта страна расположена в бассейне Индийского океана и омывается водами самого длинного в мире пролива, одноимённого названию страны. Выберите эту страну:  
а) Сомали  
б) Мозамбик  
в) Судан  
г) Танзания
19. Выберите природную зону, наиболее характерную для областей субэкваториального климатического пояса:  
а) степи  
б) дождевые леса  
в) полупустыни и пустыни  
г) саванны и редколесья
20. Расстояние между западной и восточной точками Южной Америки в месте её пересечения экватором - 3400 км. В течение какого времени Солнце будет в зените над материком 23 сентября (выберите наиболее близкий вариант)?  
а) 2 часа  
б) 1 час 15 минут  
в) 3 часа  
г) 3 часа 40 минут

### Теоретический тур

**Задание 1.** В таблице представлены данные по объёму экспорта и объёму импорта четырёх стран мира (в млрд. долл. США). Вычислите сальдо внешнеторгового баланса для этих стран («чистый экспорт» - разница между объёмами экспорта и импорта).

| Страна      | Объём экспорта, млрд. долл. США | Объём импорта, млрд. долл. США |
|-------------|---------------------------------|--------------------------------|
| Германия    | 1658,44                         | 1571,06                        |
| Кот-д'Ивуар | 16,4                            | 17,97                          |
| Нидерланды  | 770,3                           | 712,8                          |
| Аргентина   | 88,27                           | 76,16                          |






**Ответьте на дополнительные вопросы:**

- Штаб-квартиры компаний **отрасли X** находятся в таких городах Германии, как *Мюнхен, Штутгарт, Вольфсбург, Рюссельхайм*. Назовите **отрасль X**.
- Какая тонирующая сельскохозяйственная культура играет значимую роль в экспорте Кот-д'Ивуара?
- Через какой порт вывозится основная часть грузов из Нидерландов?

4. Важной статьёй экспорта Нидерландов является овощеводство. Для какого типа сельского хозяйства характерна данная подотрасль? Для этого типа сельского хозяйства также характерны птицеводство, свиноводство, плодоводство, цветоводство.

5. К развитию какой отрасли **животноводства** привели природно-климатические особенности равнинной части Аргентины?

**Задание 2.** Перед Вами силуэты 5 городов мира, имеющих общую особенность географического положения (список неисчерпывающий). Рассмотрите силуэты, определите, к какому городу они относятся, и ответьте на дополнительные вопросы.

| № | Силуэт   |
|---|--|
| 1 |    |
| 2 |    |
| 3 |   |
| 4 |  |
| 5 |  |

### Дополнительные вопросы

1. Какую общую особенность географического положения имеют представленные города?
2. Большинство городов обладает теми или иными историческими памятниками. Как называется международная организация в структуре ООН, занимающаяся охраной разного рода достопримечательностей?
3. В Античности в городе №5 находилось одно из семи старых чудес света. Напишите материк, на котором расположено наибольшее количество новых семи чудес света.
4. На силуэте города №4 изображён вулкан, сыгравший важную роль в историческом прошлом. В этой же стране находится другой, самый высокий вулкан Европы. Назовите его.
5. Назовите крупный антропогенный водный объект, находящийся в стране, что и город №5, и играющий важную роль в торговле.

**Задание 3.** Найдите ошибочный элемент в каждом логическом ряду, обоснуйте свой выбор. Приведите пример для продолжения логического ряда. Ответ считается верным, если определён общий признак для четырёх объектов, найден ошибочный элемент и дано обоснование исключения.

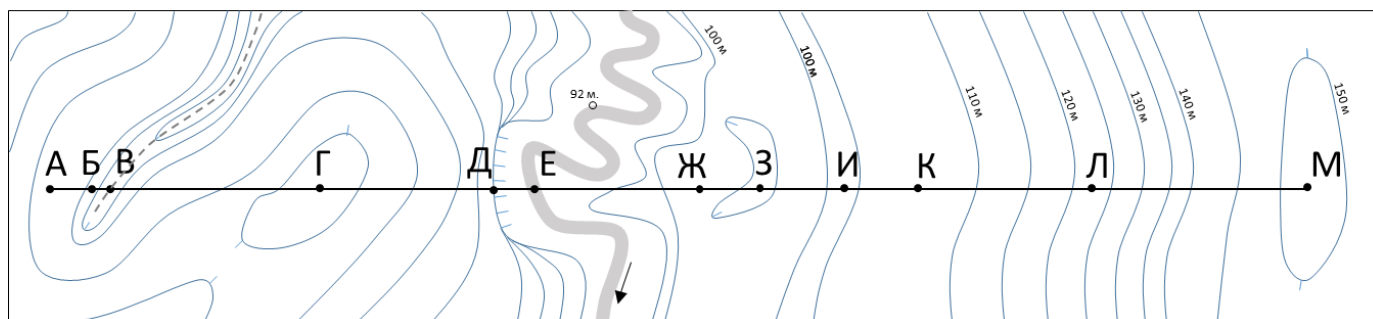
1. Иордания, Катар, ОАЭ, Турция, Саудовская Аравия
2. Алжир, Ирак, Саудовская Аравия, Россия, Венесуэла

### 3. Аргентина, Бразилия, Венесуэла, Мексика, Гондурас

#### **Задание 4.** Прочитайте текст, заполните пропуски.

Предприятия цветной металлургии распределены по миру в зависимости от факторов производства конкретного металла. Так, производство (1) – одного из главных металлов, использующихся в электронике и электротехнике, тяготеет к местам добычи руд. Лидером по его производству является (2) с крупнейшим месторождением Чукикамата. В данном случае главным фактором размещения выступает (3). Самый распространённый цветной металл (4) тяготеет к местам производства дешёвой электроэнергии. Поэтому по данному металлу специализируются, например, Норвегия, где большая часть энергии вырабатывается на (5), и страны (6) залива за счёт добычи и переработки нефти. Сырьём для (4) служат (7), по добычке которых лидируют такие страны как Австралия, Гвинея, Бразилия и островное государство в Карибском море – (8). По производству никеля выделяются Россия, Индонезия, Канада, Новая Каледония, принадлежащая формально государству (9). В России лидером по производству (1) и никеля является предприятие, расположенное в городе (10).

#### **Задание 5.** Перед вами часть топографического плана с горизонталями. Постройте профиль рельефа по линии А-М в специальном поле (в бланках ответов).



Ответьте на вопросы:

1. Какими буквами на плане обозначен водораздел?
2. Какой буквой на плане обозначен тальвег балки?
3. Какой буквой на плане обозначена пойма реки?
4. Какой буквой на плане обозначена пересохшая старица?
5. Какой буквой на плане обозначена надпойменная терраса?