

**Муниципальный этап всероссийской олимпиады школьников
по географии
2023-2024 учебный год
Московская область**

7 класс

Тестовый тур

Максимальная оценка — 25 баллов

1. Какой из перечисленных масштабов крупнее?
 - А. 1:250
 - Б. 1:500
 - В. 1:2500
 - Г. 1:5000

2. Сколько градусов составляет угол наклона оси вращения Земли?
 - А. 23,5°
 - Б. 45°
 - В. 66,5°
 - Г. 90°

3. Какое животное не обитает в Африке?
 - А. Антилопа гну
 - Б. Антилопа канна
 - В. Ехидна
 - Г. Окапи

4. Выберите высочайшее в мире судоходное озеро.
 - А. Байкал
 - Б. Титикака
 - В. Убсу-Нур
 - Г. Цинхай

5. Сколько промилле (‰) составляет средняя солёность Мирового океана?
 - А. 0,35‰
 - Б. 3,5‰
 - В. 35‰
 - Г. 350‰

6. Выберите самый молодой из перечисленных геологический период:
 - А. Каменноугольный
 - Б. Неогеновый
 - В. Ордовикский
 - Г. Пермский

7. Выберите правильное сочетание «материк – крайняя северная точка»
- А. Евразия – Пиай
 - Б. Африка – Игольный
 - В. Южная Америка – Фроуард
 - Г. Антарктида – Сифре
8. В каком климатическом поясе по классификации Б.П. Алисова расположен город Сингапур?
- А. Экваториальный
 - Б. Субэкваториальный
 - В. Тропический
 - Г. Субтропический
9. Какая река впадает в Индийский океан?
- А. Дунай
 - Б. Сырдарья
 - В. Тигр
 - Г. Нил
10. Какой из городов России в этом списке находится севернее остальных?
- А. Братск
 - Б. Новосибирск
 - В. Пермь
 - Г. Санкт-Петербург
11. Выберите море Тихого океана.
- А. Аравийское
 - Б. Баренцево
 - В. Берингово
 - Г. Бофорта
12. На какой территории самая высокая плотность населения?
- А. Долина реки Амазонки
 - Б. Долина реки Ганга
 - В. Долина реки Конго
 - Г. Долина реки Маккензи
13. Как называется угол, отсчитываемый по часовой стрелке от северного конца стрелки компаса до направления на местный предмет?
- А. Географический меридиан
 - Б. Географический азимут
 - В. Магнитный меридиан
 - Г. Магнитный азимут

14. Какое морское течение является холодным?
- А. Бразильское
 - Б. Бенгельское
 - В. Куроисио
 - Г. Южное пассатное
15. Этот район Атлантического океана называют «морем без берегов», именно здесь происходит действие произведения Александра Беляева «Остров погибших кораблей». Как называется это море?
- А. Альборан
 - Б. Лабрадор
 - В. Саргассово
 - Г. Карибское
16. На карте полушарий масштаба 1:64 000 000 расстояние между городами, расположенными на одной долготе, равнялось 14° . Чему равно расстояние между городами в километрах?
- А. 649
 - Б. 1000
 - В. 1558
 - Г. 2941
17. Какие почвы распространены в экваториальных лесах?
- А. Аллювиальные
 - Б. Буроземы
 - В. Красно-желтые ферралитные
 - Г. Пеплово-вулканические
18. Этот архипелаг Тихого океана имеет второе название «Острова Россиян», благодаря открытиям русских мореплавателей XIX века. Какое название более известно?
- А. Туамоту
 - Б. Тувалу
 - В. Феникс
 - Г. Фиджи
19. Что в Северной Америке называется прерией?
- А. Широколиственные леса
 - Б. Степи
 - В. Пустыни
 - Г. Саванны

20. Какой складчатый пояс соответствует Южным Аппалачам?
- А. Байкальский
 - Б. Герцинский
 - В. Мезозойский
 - Г. Кайнозойский
21. Укажите группу государств, у которых большинство земель занято пустыней (пустынями)?
- А. Австралия, Афганистан, Габон
 - Б. Австралия, Аргентина, Эквадор
 - В. Алжир, Габон, Ливия
 - Г. Алжир, Египет, Саудовская Аравия
22. Какие облака из перечисленных располагаются выше всего?
- А. Высококучевые
 - Б. Кучевые
 - В. Перистые
 - Г. Слоистые
23. Какую страну НЕ пересекает Гринвичский меридиан?
- А. Гана
 - Б. Буркина-Фасо
 - В. Кот-д'Ивуар
 - Г. Мали
24. Как называют организмы, которые обитают на грунте и в грунте дна водоёмов?
- А. Бентос
 - Б. Нейстон
 - В. Нектон
 - Г. Планктон
25. Какую страну пересекает экватор?
- А. Боливия
 - Б. Венесуэла
 - В. Гайана
 - Г. Колумбия

7 класс
Теоретический тур
 Максимальная оценка — 75 баллов

Задание 1. Объекты ЮНЕСКО (максимум 20 баллов)

Россия на 9 месте среди стран мира по суммарному количеству природных и культурных объектов ЮНЕСКО.




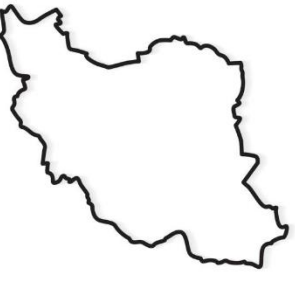

Определите по кратким описаниям российские объекты ЮНЕСКО и заполните таблицу (название объекта ЮНЕСКО; в каком субъекте или субъектах России он расположен (укажите другие страны, если объект расположен в нескольких); тип климата на территории объекта (достаточно указать климатическую область); укажите в бассейне стока какого океана находится объект).

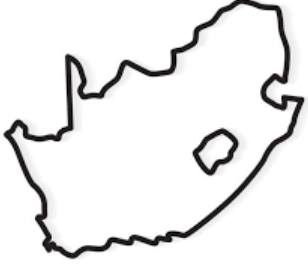




№	Описание	Название	Субъект(ы)	Тип климата	Бассейн стока
1	Этот объект ЮНЕСКО защищает скальные образования, которые достигают в высоту около 100 метров и располагаются вдоль берега реки.				
2	Одно из немногих мест на планете Земля, где есть действующие гейзеры.				
3	Большая годовая амплитуда температур. Здесь наблюдается особый котловинный тип климата, который создаёт различные природные условия на ограниченном пространстве.				
4	Именно этот объект наиболее полно в Сибири представляет высотную поясность. Эти районы важны для сохранения популяций таких редких животных, как ирбис, сибирский горный козёл и аргали.				
5	Первый российский природный объект, включенный в список ЮНЕСКО. Это один из крупнейших оставшихся в Европе массив первичных бореальных лесов.				

6	Единственный объект в этой таблице, который отнесён к объектам ЮНЕСКО по культурным критериям, а не по природным. Сохранение этого уникального культурного ландшафта до наших дней стало возможным только благодаря непрекращающейся борьбе человека с процессами эрозии (закрепление дюн, лесопосадки).				
7	Решение о включении в список обосновано тем, что на изолированном горном массиве (плато) наблюдается «идеальное сочетание» экосистем, тайги, лесотундры, арктических пустынь. Отмечается также наличие нетронутых речных и озёрных систем. Особый интерес представляет исключительная по масштабам миграция северных оленей. На территории объекта обитает подвид снежного барана (другие названия чубук, толсторог).				
8	Крупнейший природный резервуар пресной воды и самое большое по площади пресноводное озеро Евразии. Много видов животных эндемичны				
9	На территории объекта восстанавливают популяцию европейских зубров. С 2009 года работает Центр восстановления леопарда, на территории объекта хотят создать жизнеспособную популяцию этого вида.				
10	Объект находится на острове, который разделяется 180-м меридианом на две почти равные части. Отделён от материка проливом Лонга, шириной в самой узкой части около 140 км.				

Задание 2. Страны мира (максимум 15 баллов, ячейка 0,5 баллов)

Определите страны мира по контуру, заполните таблицу.

№	Контур (не в масштабе)	Название	Столица	Официальный язык
1				
2				
3				
4				
5				

6				
7				
8				
9				
10				

Задание 3. Климатические пояса, преобладающий тип растительности и почвы (максимум 21 б.)

Определите по неполному описанию климатические пояса. Выберите из списка преобладающих типов растительности и почв, которые занимают значительные территории в определённых климатических поясах.

1. Зима немного прохладнее лета, но отличается сухостью

Климатический пояс: _____

Преобладающий тип растительности: _____

Почвы: _____

2. Большие сезонные колебания температуры. На материках – многолетняя мерзлота, на океанах – плавучие льды.

Климатический пояс: _____

Преобладающий тип растительности: _____

Почвы: _____

3. На материках зимой – снежный покров. На океанах частые штормы, особенно в Южном полушарии. Возможны плавучие льды.

Климатический пояс: _____

Преобладающий тип растительности: _____

Почвы: _____

4. Сезонные колебания температуры и влажности воздуха очень малы.

Климатический пояс: _____

Преобладающий тип растительности: _____

Почвы: _____

5. Хорошо заметны сезонные изменения температуры воздуха, особенно на материках.

Климатический пояс: _____

Преобладающий тип растительности: _____

Почвы: _____

6. Очень холодная зима и холодное лето.

Климатический пояс: _____

Преобладающий тип растительности: _____

Почвы: _____

7. Значительные сезонные различия температуры и осадков. Возможны снегопады.

Климатический пояс: _____

Растительность: _____

Почвы: _____

Преобладающий тип растительности: кустарничковые тундры, суккулентные пустыни, вечнозеленые постоянно влажные леса, несомкнутые группировки мхов,

жестколистные вечнозелёные леса и кустарники, саванны и редколесья, смешанные леса

Почвы равнинных территорий: коричневые, красные ферралитные саванн, пустынные, дерново-подзолистые, арктические, красно-желтые ферралитные, глеевые.

Задание 4. (максимум 19 баллов)

Определите по описанию страну и ответьте на дополнительные вопросы.

1. Государство со всех сторон омывается водой. Долгое время оно входило в состав крупной колониальной империи. Основная масса населения проживает в прибрежной полосе в зоне субтропического климата, но большую часть территории занимают пустыни. В стране очень много эндемичных видов флоры и фауны. Крупнейший город проводил глобальное мероприятие в 2000 году.

Назовите эту страну, колониальную империю, в состав которой она входила, крупнейший город и глобальное мероприятие, проходившее в нем. Вспомните и напишите 2 любых эндемика из этой страны

Страна: _____

Колониальная империя: _____

Крупнейший город: _____

Глобальное мероприятие: _____

Эндемики: _____

2. Это государство лидер по численности населения в своей части света. На юге страны климат жаркий и влажный. Страна является крупнейшим в своей части света экспортером полезного ископаемого, которое используется в энергетике и химической промышленности. Север страны занимает переходный природный регион. Здесь продолжается процесс замещения одного типа растительности другим в связи с повышением температур и повышенной хозяйственной деятельностью людей.

Назовите страну, климатические пояса в котором она расположена, полезное ископаемое, природный регион на севере и упомянутый процесс.

Страна: _____

Климатические пояса: _____

Полезное ископаемое: _____

Природный регион: _____

Процесс: _____

3. На территории этой страны существовало много древних государств. От них осталось множество архитектурных памятников, многие из которых признаны объектами всемирного наследия. Государство считается самым северным в своем культурно-историческом макрорегионе. Основную массу населения составляют потомки смешения коренных жителей с европейцами. На севере граничит с одной страной, на юге — с двумя.

Назовите это государство, культурно-исторический макрорегион, к которому оно относится, любую из древних цивилизаций, проживавших на его территории и любой памятник всемирного культурного наследия этой страны. Вспомните и напишите, каким термином называют смешанные расы, подобные той, к которой принадлежит большинство жителей этой страны.

Страна: _____
 Культурно-исторический регион: _____
 Древняя цивилизация: _____
 Памятник всемирного культурного наследия: _____
 Термин: _____

4. Столица этого государства пользуется репутацией одного из красивейших городов мира. Страна занимает первое место в мире по числу туристических посещений. Дважды в своей истории она становилось крупной колониальной империей, благодаря чему государственный язык пользуется популярностью во всем мире, а сама страна удерживает рекорд по числу часовых поясов. Относится к числу лидеров по сельскохозяйственным площадям, занятым выращиванием сырья для одного из самых популярных в мире напитков. В приморском городе на юге страны проходит знаменитый ежегодный кинофестиваль.

Назовите реку, на которой стоит столица страны, число имеющихся в ней временных зон, город в котором проходит известный кинофестиваль, упоминаемая сельскохозяйственная культура и любое другое государство, официальным языком которого является язык описываемой страны

Река: _____
 Число часовых поясов: _____
 Город: _____
 Сельскохозяйственная культура: _____