

**МУНИЦИПАЛЬНЫЙ ЭТАП
ВСЕРОССИЙСКОЙ ОЛИМПИАДЫ ШКОЛЬНИКОВ ПО ГЕОГРАФИИ**

8 КЛАСС

Тестовый тур

1. Какое из течений Мирового океана НЕ омывает берега Африки?
а) Гвинейское б) Гвианское в) Мыса Игольного г) Бенгельское
2. Выберите НЕверное сочетание: “Материк - река, протекающая в его пределах”:
а) Ла-Плата - Южная Америка в) Оранжевая - Евразия
б) Замбези - Африка г) Дарлинг - Австралия
3. Расстояние между западной и восточной точками Южной Америки в месте её пересечения экватором - 3400 км. В течение какого времени Солнце будет в зените над материком 23 сентября (выберите наиболее близкий вариант)?
а) 2 часа б) 1 час 15 минут в) 3 часа г) 3 часа 40 минут
4. Города Калькутта (Колката) и Новокузнецк находятся на одной долготе, но на разных широтах. Широта Калькутты - $22,5^{\circ}$ с.ш., а Новокузнецка - $53,5^{\circ}$ с.ш. Каково расстояние между ними по прямой (выберите наиболее близкий вариант)?
а) 2500 км б) 2800 км в) 3450 км г) 3820 км
5. Из представленных масштабов выберите наиболее крупный:
а) 1:5000 б) в 1 см 50 м в) в 1 см 500 м г) 1:500
6. Выберите широты, над которыми в течение года преобладают западные ветры:
а) умеренные б) субэкваториальные в) тропические г) полярные
7. Выберите реку, для которой характерно летне-осеннее половодье:
а) Дунай б) Рейн в) Нил г) Амур
8. На топографических картах заливкой зелёного цвета обозначается:
а) пашня б) лес в) водоём (озеро, пруд и т.д.) г) пески
9. Выберите материк, полностью окружённый кольцом океанического течения:
а) Австралия б) Евразия в) Антарктида г) Южная Америка
10. Выберите НЕверно составленную пару: “климатический пояс - остров, находящийся в его пределах (полностью или частично)”:
а) Огненная Земля - умеренный в) Южный остров Новой Зеландии - тропический
б) Мадагаскар - тропический г) Новая Гвинея - экваториальный
11. Выберите море, имеющее наименьшую среднюю солёность:
а) Белое б) Баренцево в) Северное г) Балтийское
12. Выберите страну, имеющую исключительно сухопутную границу с Российской Федерацией.
а) Норвегия б) Финляндия в) Латвия г) Польша
13. На каком из перечисленных архипелагов находится биосферный заповедник - территория Всемирного наследия ЮНЕСКО, задачей которого является охрана слоновых черепах, древесных выюрков и местных пингвинов?
а) Галапагос в) Японские острова
б) Филиппинские острова г) Большие Зондские острова

14. В какой стороне горизонта бывает Солнце во время полярного дня в полночь в северном полушарии?

- а) на юге б) на востоке в) на севере г) на западе

15. Какой из российских архипелагов находится НЕ в акватории Северного Ледовитого океана?

- а) Новая Земля в) Северная Земля
б) Курильские острова г) Новосибирские острова

16. Выберите пару регионов, в первом из которых располагается крайняя северная материковая точка России, а во втором - крайняя северная островная:

- а) Красноярский край и Республика Саха (Якутия);
б) Архангельская область и Ненецкий автономный округ;
в) Чукотский автономный округ и Красноярский край;
г) Красноярский край и Архангельская область.

17. Выберите реку, на которой не бывает выраженного половодья (полноводна в течение всего года):

- а) Миссисипи б) Нил в) Дунай г) Конго

18. Какой из материков при одинаковом размере карты будет показан в наиболее крупном масштабе?

- а) Евразия б) Северная Америка в) Австралия г) Африка

19. Какой из материков Земли открыт русскими мореплавателями?

- а) Антарктида б) Южная Америка в) Австралия г) Северная Америка

20. Координаты Ижевска - 57° с.ш., 53° в.д. Выберите координаты точки, являющейся антиподом Ижевска (находящейся на противоположной стороне Земли):

- а) 57° ю.ш., 53° з.д. б) 57° ю.ш., 127° з.д. в) 57° с.ш., 127° з.д. г) 57° ю.ш., 53° в.д.

Теоретический тур






Задание 1. Перед Вами климатограммы нескольких городов мира. Рассчитайте среднегодовое количество осадков для этих городов и ответьте на дополнительные вопросы.



Дополнительные вопросы

1. С приходом какого типа воздушной массы связано повышение количества осадков в летний период в городе 1?
2. Города 2 и 3 находятся по разные стороны от одной горной системы, что привело к различиям в среднегодовом количестве осадков в них. Как называется эффект, связанный с выпадением осадков на наветренных склонах горной системы?
3. Горная система из вопроса 2 располагается в России и является границей между двумя типами климата умеренного пояса. Как называется свойство климата, которое усиливается при пересечении этой горной системы с запада на восток?
4. В какой природной зоне находится город 4?

Задание 2. Перед Вами силуэты 5-и некоторых крупных городов мира. Рассмотрите силуэты, определите, к какому городу они относятся, и ответьте на дополнительные вопросы.

№	Силуэт
1	
2	
3	
4	
5	

Дополнительные вопросы

1. Все представленные города являются лидерами по одному показателю в своих частях света (среди полностью расположенных в данных частях света). Напишите этот показатель.
2. Город №2 находится в стране, где протекает самая полноводная река в мире. Назовите реку.
3. Город №1 образует вокруг себя самую обширную зону притяжения. А как называется такая компактная территориальная группировка населённых пунктов?
4. Назовите реку, которая протекает по городу №3.
5. Город №5 расположен в той части света, где можно увидеть огромное количество коралловых островов. Как они называются?

Задание 3. Найдите ошибочный элемент в каждом логическом ряду, обоснуйте свой выбор. Приведите пример для продолжения логического ряда. Ответ считается верным, если определён общий признак для четырёх объектов, найден ошибочный элемент и дано обоснование исключения.

1. Аконкагуа, Джомолунгма, Монблан, Денали, Килиманджаро
2. Амазонка, Нил, Миссисипи, Обь, Муррей
3. Бен-Секка, Челюскин, Йорк, Мерчисон, Фроуард

Задание 4. Прочитайте текст, заполните пропуски.

Самым крупным по площади морем на Земле является (1) море. Его особенностью является отсутствие берегов в виде суши, вместо неё эту функцию выполняют течения. С запада море ограничивается тёплым течением (2), с севера — Северо-Атлантическим, с востока — холодным (3), на юге — Северным Пассатным. Первыми европейцами, увидевшими (1) море стала первая экспедиция мореплавателя (4), которая и назвала море в честь распространённых здесь водорослей. В центральной части моря господствует антициклон — область высокого атмосферного давления, поэтому здесь наблюдается отсутствие ветра - (5) и почти всегда (6) погода. Вторым в мире морем по площади является (7), в которой располагается самое глубокое место на Земле — (8). Восточная граница (7) моря находится в пределах (9) огненного кольца, поэтому здесь часты (10) и извержения вулканов.

Задание 5. Перед вами часть топографического плана с горизонталями. По линии от А до М построен профиль рельефа местности. Каким буквам на линии профиля соответствуют:

1. Обрыв
2. Днище балки
3. Линия водораздела
4. Самый крутой склон (кроме обрыва)

Ответьте на вопрос:

5. На сколько метров самая высокая точка на линии профиля выше, чем самая низкая?

