

Всероссийская олимпиада школьников по истории
II (муниципальный) этап
2023-2024 учебный год
7-8 классы (задания)

Максимальный балл за работу – 100

Время выполнения – 100 минут

Удачи и успехов при выполнении олимпиадных заданий!

Задание 1. «От центра – к центру» (максимум баллов – 4)

Распределите перечисленные ниже исторические факты (события) в соответствии с тем, относятся они к периоду централизации государства или децентрализации (раздробленности).

ЦЕНТРАЛИЗАЦИЯ	ДЕЦЕНТРАЛИЗАЦИЯ

- | | |
|---|---|
| 1. Любечский съезд князей 1097 года | 6. Образование лагеря Лжедмитрия II |
| 2. Введение единой «денеги» Еленой Глинской | 7. Создание местных систем мер и весов |
| 3. Верденский договор внуков Карла Великого | 8. Создание Священной Римской Империи |
| 4. Строительство кремлёвского ансамбля в Москве при Иване III | 9. Ирландские восстания 1569, 1641, 1798 гг. |
| 5. Церковная реформа патриарха Никона | 10. Образование Западной и Восточной римской империи в 395 году |

Задание 2 – «Логические ряды» (максимум баллов – 20)

2.1. Определите, по какому принципу созданы ряды и напишите обобщающее слово или выражение (по 1 баллу за верный ответ):

А) Русская правда, Судебник, Соборное уложение - _____

Б) 1603, 1648, 1662, 1682, 1698 - _____

В) Рязань, Коломна, Москва, Владимир, Козельск - _____

Г) Аристотель Фиораванти, Алевиз Новый, Бон Фрязин - _____

2.2. Определите, что лишнее в каждом ряду и укажите причину своего выбора (по 1 баллу за верный ответ, по 1 баллу за пояснение):

А) Велес, Макошь, Дажьбог, Лада, Фрейя, Перун - _____

Б) Киевское, Черниговское, Новгород-Северское, Переяславское, Полоцкое - _____

В) Волжская Булгария, Крымское ханство, Речь Посполитая - _____

Г) Василий III, В. Косой, Д. Шемяка, Василий II, Ю. Звенигородский - _____

2.3. Найдите обобщающее слово или выражение и дополните каждый ряд ещё одним элементом (по 1 баллу за верный ответ, по 1 баллу за дополнение):

А) древляне, поляне, кривичи, словене - _____

Б) Антоний и Феодосий Печёрские, Сергей Радонежский, Кирилл Белозерский - _____

В) зернь, скань, филигрань, финифть - _____

Г) Максим Грек, Андрей Рублёв, Симон Ушаков - _____

Задание 3. «Государства в истории» (максимум баллов – 12)

Установите соответствие между историческими личностями и их деятельностью по формированию и развитию своего государства (по 0,5 балла за соответствие).

3.1	РОССИЯ (РУСЬ)	СОБЫТИЯ (ФАКТЫ)	
1	Пётр I Великий	А	Принятие христианства
2	Иван III Васильевич	Б	Создание морского флота
3	Ярослав Мудрый	В	Присоединение к Московскому государству осколков Золотой Орды
4	Дмитрий Донской	Г	Принятие концепции «Москва – Третий Рим», символики и церемониала по византийскому образцу
5	Иван IV Грозный	Д	Принятие первого свода законов Руси
6	Владимир Святославович	Е	Временное прекращение выплаты дани Орде, первая крупная победа над ордынцами на поле боя

3.2	ИСПАНИЯ	СОБЫТИЯ (ФАКТЫ)	
1	Фердинанд Арагонский и Изабелла Кастильская	А	Завершение борьбы с национально-освободительным движением в Нидерландах
2	Карл V Габсбург	Б	Кругосветная экспедиция Ф. Магеллана
3	Филипп II Габсбург	В	Завершение Реконквисты
4		Г	Открытие Америки Колумбом
5		Д	Экспедиции Э. Кортеса и Ф. Писарро, завоевание территорий в Центральной и Южной Америке
6		Е	Первый официальный титул «король Испании»

3.3	ВЕЛИКОБРИТАНИЯ	СОБЫТИЯ (ФАКТЫ)	
1	Елизавета Тюдор	А	Образование Великобритании
2	Генрих Тюдор	Б	Победа английского флота над Непобедимой армадой
3	Анна Стюарт	В	Образование английской Ост-Индской компании
4	Карл I Стюарт	Г	Начало реформации в Англии
5		Д	Гражданская война в Англии, победа парламента над королём
6		Е	Работа «Долгого парламента»

3.4	ФРАНЦИЯ	СОБЫТИЯ (ФАКТЫ)	
1	Карл Великий	А	Установление равенства католиков и гугенотов во Франции
2	Генрих IV Наваррский	Б	Расцвет абсолютизма во Франции
3	Наполеон Бонапарт	В	Провозглашение Империи франков, коронация в Риме
4	Людовик XIV	Г	Провозглашение императора Франции, коронация в Париже
5		Д	Открытие бассейна реки Миссисипи в Новой Франции, провозглашение Луизианы
6		Е	Военные победы времён революционной Франции, снятие угрозы потери независимости

Задание 4. «Царский титулярник» (максимум баллов – 9)

Рассмотрите гербы русских городов из «Царского титулярника» 1672 года. Определите названия городов с помощью исторических характеристик (по 1 баллу за каждое).

		
<p>Г1. _____</p>	<p>Г2. _____</p>	<p>Г3. _____</p>
		
<p>Г4. _____</p>	<p>Г5. _____</p>	<p>Г6. _____</p>
		
<p>Г7. _____</p>	<p>Г8. _____</p>	<p>Г9. _____</p>

Для определения названий городов воспользуйтесь следующей информацией:

- Г1. В этом городе есть сильная традиция самоуправления, поэтому частью Московского государства он стал одним из последних. Этот город не раз оказывался в руках врагов, но кремль его ни разу не был взят. Читит память князя литовских кровей Довмонта.
- Г2. Долгое время крупнейший торговый город северо-западной Руси, «ворота» в Европу. Купеческая верхушка города приглашала князя как военного лидера и судью. Колыбель Древнерусского государства.
- Г3. Этот город, находясь на границе, стал «яблоком раздора» между соседями и дал название одной из небольших войн XVII века. Стоит на Днестре.
- Г4. Этот город отстраивался Андреем Боголюбским как столица русского государства. Его потомки продолжили это дело на фоне ослабления Киева. Славится памятниками древнерусского зодчества – Успенским и Дмитриевским соборами, Золотыми воротами.
- Г5. Этот город возник на месте финно-угорского Сарского городища на озере Неро. Стал ядром самостоятельного княжества в начале XIII века, частью Московского государства – в XV веке.
- Г6. По легенде город основан на месте встречи князя с медведем. В 2010 году отметил своё тысячелетие. Один из центров транзитной торговли по Волге. Резиденция князя Константина Всеволодовича и его сына Всеволода, погибшего на реке Сить.
- Г7. Этот город принял на себя первый удар монгольского нашествия. Древнерусская повесть сохранила легенду о воине-мстителе Евпатии Коловрате, уроженце разорённого города. Впоследствии стал центром княжества, не принявшего участие в Куликовской битве.
- Г8. Город – соперник Москвы в борьбе за объединение русских земель. Местные князья, искавшие поддержки у Литвы и Орды, в итоге проиграли борьбу за лидерство. В 1327 году – центр мощного антиордынского восстания, жестоко подавленного.
- Г9. Один из древнейших городов на Руси, по легенде принявший сподвижника Рюрика. Местная дружина во главе с Фёдором Романовичем героически пала на Куликовом поле. Вошёл в состав Московского княжества мирным путём во второй половине XV века.

Задание 5. «Великое сходбище» (максимум баллов – 20)

Прочитайте текст и ответьте на вопросы.

С 1641 года Макарьевская ярмарка становится всероссийским торжищем. А с 1666 года сюда начинают съезжаться уже не только российские, но и иноземные купцы из Индии, Персии, Швеции, Германии и других стран. Главными товарами на ярмарке оставались соль, хлеб, мед, лошади и скот. А из привозных - английское сукно, немецкие зеркала и металл, в том числе и оружие, а также драгоценные камни, индийский жемчуг, ткани и вина. Из Павлова-на-Оке, Тулы, Галича и Тихвина также доставлялись железо и сталь-уклад,

холодное и огнестрельное оружие (ружья, пушки, **пищали**). Значительными партиями к Макарьеву свозили товары местные кожевники и меховщики, резчики по дереву и кости, горшечники и кузнецы, ткачи-пряделщики и войлочники.

Борьба за таможенный сбор между правительством и монастырскими властями говорит об огромных доходах с ярмарочных торгов. В 1685 году на ярмарке было продано 680 тысяч **пудов** соли, оцененной в 42120 рублей. С 15 астраханских и 15 самарских **стругов** за продажу рыбы, в основном осетров и белуг, взяли пошлины 1582 рубля 6 **алтын** и 4 деньги. Огромные осетра с белугами, от 3 до 5 метров длиной, даже не выгружались на берег, а при продаже перебрасывались с борта одного судна на другое. Проданная в тот год рыба оценивалась в огромную по тем временам сумму – 31640 рублей. Еще большего размаха в тот год достигла торговля лошадьми, их было продано 3 тысячи голов. Общая цена пригнанных на ярмарку лошадей составила более 11 тысяч рублей.

Наряду с Сольвычегодским пушным рынком Макарьевская ярмарка была известным местом оптовой закупки мехов, – шкурки тысячи зайцев стоили 30 рублей, сто рысей отдавались за 3 рубля, десяток лисиц шли по 8 рублей, сотня горностаевых шкурок по 8 рублей.

Из продуктов питания, кроме хлеба, продававшегося крупными партиями из монастырских амбаров, в особо крупных объемах привозился на ярмарку мед и воск. Только с проданного в 1685 году меда монастырские власти получили в качестве пошлины 200 руб.

Всего в 1685 году Макарьевский монастырь с ярмарки получил 10673 рубля дохода. Проданный товар оценивался в 120 тысяч рублей, что составляло, приблизительно, десятую часть годового бюджета Российского государства во второй половине XVII века. Однако ярмарка росла, и объем торгового оборота с каждым годом увеличивался, а с ним увеличивался и доход монастыря, который в 1700 году составил уже 19775 руб. К середине XVIII века оборот ярмарки достигал 490 тысяч рублей, а к концу его исчислялся в 30 млн. рублей.

В связи с этим возник новый этап подчинения Макарьевской ярмарки государственной казне. В 1700 году указ Петра I кладет конец господству монастыря над ярмаркой. Монастырю в виде компенсации, за потерю доходов с ярмарки особым указом от 28 октября 1702 года приказывает выплачивать 2 тысячи рублей ежегодно. При этом обители разрешалось и дальше беспошлинно торговать.

Монастырские власти не забывали заботиться о приезжих купцах. К началу открытия торгов они готовили жилье, складские охраняемые помещения и торговые места – 672 лавки и 448 шалашей. А также гостиный двор, загоны для продажного скота и лошадей, паромную переправу через Волгу с лысковского берега, бани, **харчевни**. Словом, все, что требовалось состоятельному человеку во время многодневной жизни в чужом месте.

Не забывались и престолюдины. Для **бурлаков** и работного люда недалеко вверх по Керженцу строятся бани, вокруг которых образовалось небольшое поселение под народным названием Вшивая Горка. По всей территории торгового двора устраивались до сотни хлебных печей-каменок, на которых два-три **инока** прямо на открытом воздухе пекли блины, калачи, пироги, варили щи и кашу. Вся эта деятельность приносила обители значительные прибыли. К примеру, в 1685 году только от услуги торговцев монастырь получил 2978 рублей.

Гостиный двор располагался близ монастыря за Святым ручьем. Над проезжими башнями располагались горенки монастырских таможенных сборщиков, и никто не мог войти на гостиный двор без их досмотра. А с наступлением темноты ворота запирались и отдавались под надзор ночной стражи. Еще в гостином дворе находилась судная изба, где все споры и конфликты между торговцами решались **игуменом**, казначеем и сборщиком, специально назначенным для этого старцами.

5.1. Выберите из перечисленных ниже суждений те, которые можно отнести к правильным выводам на основе приведённой в тексте информации.

А) До петровских времён большая часть доходов с ярмарки шла в казну Макарьевского монастыря.

Б) Годовой бюджет Российского государства во второй половине XVII века составлял примерно 1 миллион 200 тысяч рублей.

В) Государство в начале XVIII века подчинило себе ярмарку, отстранив монастырь от управления и организации дел.

Г) Монастырские власти обеспечивали хорошие условия проживания только для богатых приезжих купцов.

Д) Макарьевская ярмарка была крупнейшим оптовым пушным рынком в стране.

Е) Ярмарка проходила у стен Макарьевского монастыря, в том числе, потому что он мог обеспечить защиту интересов купцов и безопасность гостей.




Ж) Наличие данной ярмарки свидетельствует о складывании в XVII веке всероссийского рынка.

5.2. Дайте определение пяти любым понятиям из выделенных в тексте.

5.3. Составьте перечень товаров, производимых внутри страны, и перечень тех, что привозили из других стран. На основе сопоставления этих данных, сделайте два вывода.

5.4. На основе дат, содержащихся в тексте, составьте хронологический список правителей, на период правления которых приходится деятельность ярмарки.

5.5. Выберите изображение, на котором может быть представлена Макарьевская ярмарка. Поясни свой выбор.



Задание 6. «Однажды в Вологде» (максимум баллов – 6)

Расставьте в хронологическом порядке события каждого блока. Определите век для каждого блока (по 1 баллу за правильную последовательность, по 0,5 за век).

I	1) В Вологде открывается первый ломбард и первый общественный ссудный банк. 2) Император Александр Павлович осматривает мужскую гимназию в Вологде. 3) Александр Можайский под Вологдой ставит опыты по подъёму прототипа самолёта в воздух.
II	1) Генерал-губернатор А.П. Мельгунов открывает в Вологде театр. 2) Царь Пётр Алексеевич слушает «Комаринскую» на Соборной площади Вологды. 3) Тотемский мещанин Иван Кусков заключает контракт с Александром Барановым о морской экспедиции к американским берегам.
III	1) Василий III с женой Еленой Глинской прибывает в Вологду на богомолье. 2) Вологжанин Осип Непея отправляется в Лондон на кораблях Ричарда Ченслера. 3) Царь Иван Васильевич повелел начать строительство Вологодского Кремля и Софийского собора.
IV	1) По повелению князя Андрея Меньшого начинается строительство Спасо-Преображенский собор Спасо-Каменного монастыря. 2) В вологодскую ссылку отправляют опальных Михаила Холмского, хана Ильгама, углицких князей Ивана и Дмитрия. 3) Разорение Вологды и её окрестностей Дмитрием Шемякой. Легенда о появлении белоризцев.

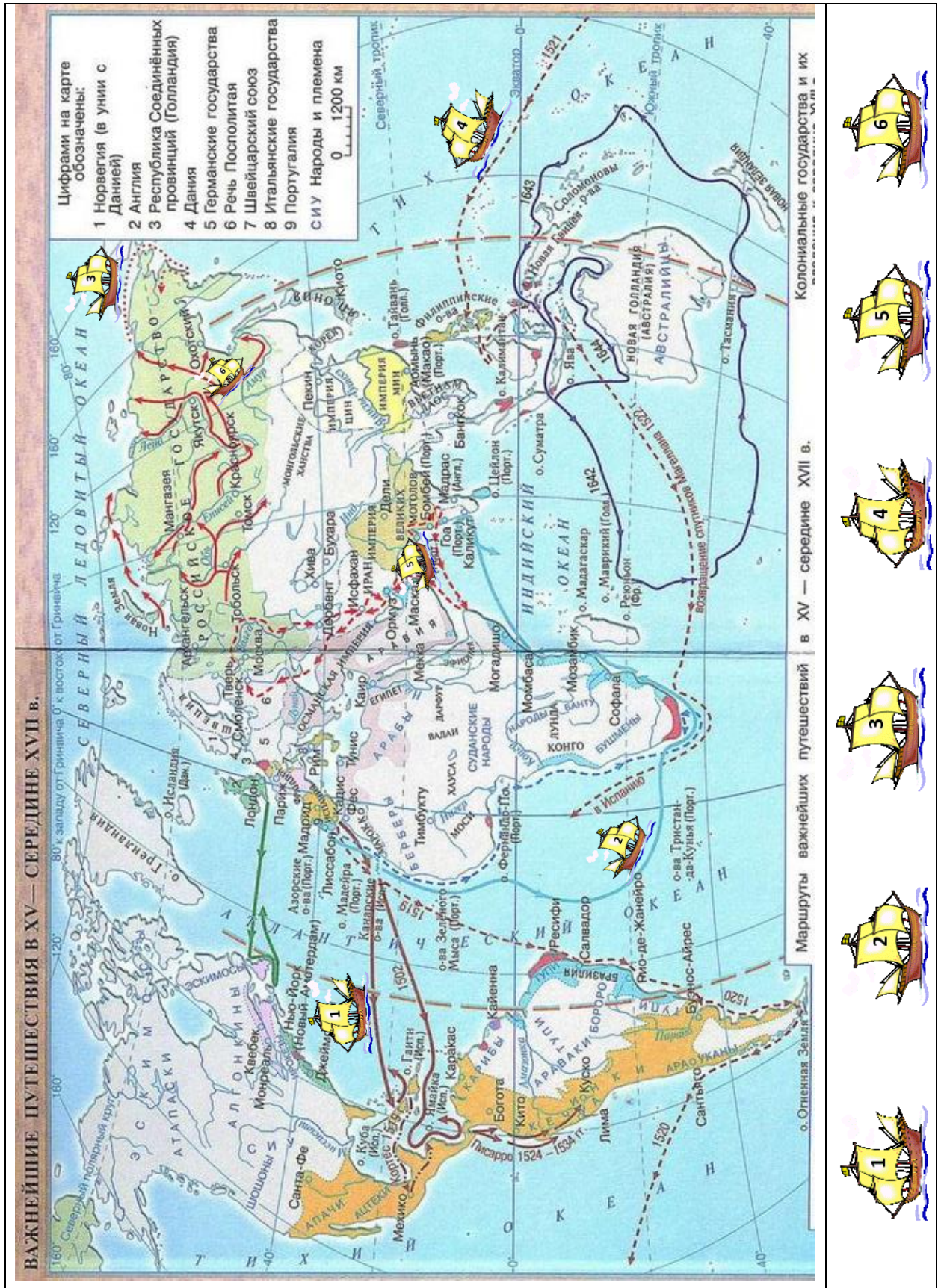
Задание 7. «Причины и следствия» (максимум баллов – 10)

Опираясь на информацию в 1 и 3 столбиках таблицы, определите, о каких событиях идёт речь. Укажите даты данных событий (по 1 баллу за правильное название, по 1 баллу за верную дату).

Причина	Событие	Последствие
Попытка хана Большой Орды восстановить уплату дани и ослабить возрастающую мощь Московского княжества	А	Окончательное свержение ига, утверждение Москвы как центра независимых русских земель, подъём авторитета московского князя.
Стремление шведов поставить под свой контроль территории по Неве и Карельский перешеек, высадка десанта	Б	Шведское проникновение остановлено, войска Ливонского ордена будут действовать одни, князь-победитель получил прозвище и боевую славу.
Стремление Великого князя московского собрать русские земли «под рукой» Москвы. Деление элиты города на «московскую» и «литовскую» «партии».	В	Ликвидация республики, присоединение к Москве. Высылка части боярских семей в другие территории, конфискация части имений и вечевое колокола – символа независимости.
Стремление князя сделать Москву духовным и религиозным центром Руси, укрепить свою власть с помощью церкви.	Г	Владимир утрачивает своё значение, как первый город Руси, так как глава русской православной церкви поменял резиденцию.
Стремление Темучина подтвердить свой титул «великого хана» перед всеми объединёнными тюрко-монгольскими племенами и начать новый этап истории Великой Степи.	Д	Принятие первой редакции Великой Ясы (сборника древних законов) и провозглашение великого завоевательного похода «от моря до моря».

Задание 8. «Открытие мира» (максимум баллов - 10)


8.1. Рассмотрите карту важнейших географических открытий и определите, под флагом какой страны или размещённые на карте корабли. Укажите главу экспедиции.



8.2. Расположите в порядке возникновения города Российского государства, отмеченные на карте (1 балл за верную последовательность).

Задание 9 – «Ансамбль в камне» (максимум баллов - 4)

9.1. Рассмотрите изображения и определите место их расположения (место содержит название города, но не является им) и хронологические рамки постройки ансамбля (с точностью до десятилетия).



9.2. Выберите все верные утверждения из предложенных:

- А) На Изображении 2 объект гражданской архитектуры;
- Б) Объект на Изображении 1 был завершён в XVI веке;
- В) Объект на Изображении 1 стал местом проведения первой официальной церемонии «венчания на царство»;
- Г) Объект на Изображении 4 является усыпальницей русских царей;
- Д) Объект на Изображении 3 – самая высокая точка города до начала XX века;
- Е) Работа над данными архитектурными объектами велась под руководством английских зодчих и инженеров.

Задание 10 – «Эхо войны» (максимум баллов – 5)

10.1. Прочитайте текст. Определите дважды пропущенное слово (место сражения).

"В районе _____ мы сосредоточились часов в 10-11 утра. (...) этот рубеж мы до последнего дня не сдавали. Здесь мы как раз [о]седлали железную дорогу и шоссе. Здесь танковые бои носили исключительно жестокий характер. Не столько была артиллерия, авиация, как танки. У нас был в тот момент полноценный корпус, мы имели много танков "Т-34". Выходили на поле боя более сотни танков. Весь горизонт был покрыт заревом: горели танки, машины как с его, так и с нашей стороны, кругом шли взрывы, всё было окутано чёрными клубами дыма.

(...) он [противник] кидал на нас большие силы, но не имел успеха. Он только прошёл 25-30 км и острием входил в _____. Мы пошли этот клин срезать. Пошёл весь корпус. Наша бригада пошла рвать первый ярус, но соседи наши несколько запоздали. У нас было такое положение, что мы должны были смять противника на этом участке и выйти на Белгород и Харьков. Правда, его силы здесь были большие, и в конечном счёте эта атака решающего успеха не имела. Мы сорвали его наступление.

Измотав его силы, мы перешли к обороне. А он действовал здесь такими крупными соединениями, как "Адольф Гитлер", эсэсовские части "Мёртвая голова", и у некоторых наших частей был страх перед ними. А потом, когда их разбили, то мы уже пошли и пошли, эти эсэсовские части повернулись в оборону пехотной дивизии. То же самое было и с "тиграми", и "фердинандами", и "пантерами". Они уже нашим танкистам были не страшны..."

(Из стенограммы беседы с гвардии полковником Пискарёвым Петром Васильевичем, командиром 58-й гвардейской (ранее 26-й) танковой бригады 8-го танкового корпуса)

10.2. Укажите год и название битвы Великой Отечественной войны, частью которой было описанное в тексте сражение.

10.3. Объясните, чем являются подчёрнутые в тексте слова в кавычках.

10.4. Рассмотрите фотографии. Какое событие, отражённое на данных фото, связывает Вологодскую область с этой важной битвой.



Спасибо за участие в олимпиаде!

Дальнейших успехов!