



ВСЕРОССИЙСКАЯ ОЛИМПИАДА ШКОЛЬНИКОВ 2016/17 гг.
МУНИЦИПАЛЬНЫЙ ЭТАП
ИСТОРИЯ
7 КЛАСС

Критерии оценивания олимпиадных заданий по истории

№	Тип задания	Критерии оценивания	Максимальное количество баллов
1	Знание основных фактов, процессов, явлений, исторических дат и событий. Тестовое задание с выбором одного правильного ответа	За правильный ответ по каждому вопросу - 1 балл.	4
2	Знание терминологии, процессов, исторических имен. Тестовое задание с выбором нескольких правильных ответов	За каждый правильный элемент ответа - 1 балл, за каждый вопрос – 2 балла.	8
3	Знание дат, событий, терминологии. Определение принципа образования логического ряда и исключение лишнего	За каждый правильный элемент ответа – 2 балла, за каждый логический ряд – 4 балла	16
4	Установление хронологической последовательности	За правильный ответ (правильное сочетание цифр) - 2 балла, нарушение хронологии - 0.	4
5	Соотнесение событий отечественной и всеобщей истории, исторических фактов и исторических явлений. Определение лишнего элемента	За каждый правильный ответ - 1 балл.	15
6	Работа с текстом	За каждый правильный ответ на вопросы №№1-4 - 1 балл, на вопрос №5 – 2 балла.	6
7	Работа с исторической картой	За каждый правильный ответ на вопросы №№1-6 - 2 балла, на вопросы №№ – 2 балла.	14



ВСЕРОССИЙСКАЯ ОЛИМПИАДА ШКОЛЬНИКОВ 2016/17 гг.
МУНИЦИПАЛЬНЫЙ ЭТАП
ИСТОРИЯ
7 КЛАСС

8	Работа с текстом, заполнение пропусков в тексте	За каждый правильный ответ - 1 балл.	9
9	Работа с иллюстративным рядом	За правильные ответ на вопросы №№2-4 - 1 балл, на вопрос №1 – 2 балла, до 5 баллов за ответ по каждой репродукции.	20
10	Работа с текстом и выбором ответа, задание по региональной истории	За каждый из перечисленных элементов ответа - 1 балл.	4
Итого			100

Ответы на задания по истории
Инструкция по выполнению задания
7 класс
Время выполнения заданий – 120 минут
Максимальный балл – 100 баллов

Задание 1. Выберите по одному верному ответу в каждом задании [1 балл за каждый правильный ответ, максимальный балл – 4].

1.1. В каком году, согласно летосчислению от сотворения мира, был издан документ, отрывок из которого дан ниже?

«А христианам отказываться из волости, и с села в село, один срок в году... Дворы пожилые платят в полях за двор рубль, а в лесех полтина. А которой христианин поживет за ким год, да пойдет прочь, и он платит четверть двора, а два года поживет да поидеть прочь, и он полдвора платит; а три годы поживет, а пойдет прочь, и он платит три четверти двора; а четыре года поживет, и он весь двор платит».

1) 6370 г.

3) 7005 г.

2) 6748 г.

4) 7055 г.

1.2. Прочтите отрывок и укажите произведение, фрагментом которого он является: «Плыдем мы мимо Астрахани, а месяц светит, и царь нас увидел, и татары нам кричали: "Качма - не бегите!" А мы этого ничего не слыхали и бежим себе под парусом. За грехи наши послал царь за нами всех своих людей. Настигли они нас на Богуне и начали в нас стрелять. У нас застрелили человека, и мы у



ВСЕРОССИЙСКАЯ ОЛИМПИАДА ШКОЛЬНИКОВ 2016/17 гг.
МУНИЦИПАЛЬНЫЙ ЭТАП
ИСТОРИЯ
7 КЛАСС

них двух татар застрелили. А меньшее наше судно у еза застряло, и они его тут же взяли да разграбили, а моя вся поклажа была на том судне. Дошли мы до моря на большом судне, да стало оно на мели в устье Волги, и тут они нас настигли и велели судно тянуть вверх по реке до еза».

- 1) «Хождение игумена Даниила в Святые места»
- 2) «Хождение за три моря»
- 3) «Задонщина»
- 4) «Сказание Епифания мниха о пути в Иерусалим»

1.3. Одним из последствий распада Древнерусского государства является

- 1) пресечение династии Рюриковичей
- 2) развитие местного летописания
- 3) принятие христианства
- 4) поражение русских князей от печенегов

1.4. О каком королевиче идет речь в данном тексте?

«А мы бояре дали гетману запись... королевичу, коли придет в царствующий град Москву, венчать на государство царским венцом по прежнему чину. А будучи королевичу на Российском государстве, церкви Божий иконам и чудотворным мощам поклоняться и почитать, костелов и иных молебных в Московском государстве нигде не ставить...».

- | | |
|---------------------|-----------------|
| 1) Сигизмунд III | 3) Владислав IV |
| 2) Дмитрий Иванович | 4) Казимир IV |

Ответ:

1.1.	1.2.	1.3.	1.4.
3	2	2	3

Задание 2. Выберите несколько верных ответов в каждом задании [2 балла за каждый правильный ответ, максимальный балл – 8].

2.1. Выберите из предложенного перечня события, относящиеся к правлению Ивана Грозного:

- | | |
|----------------------------------|------------------------------------|
| 1) присоединение Рязани к Москве | 4) учреждение патриаршества |
| 2) созыв Земского собора | 5) присоединение Крымского ханства |
| 3) создание «Стоглава» | 6) создание стрелецкого войска |

2.2. Какие из перечисленных деятелей были современниками Ивана III?

- | | |
|--------------------------|-------------------------|
| 1) Стефан Баторий | 4) Александр Ягеллончик |
| 2) Карл I Великий | 5) Сигизмунд II Август |
| 3) Аристотель Фиорованти | 6) Сандро Боттичелли |

2.3. Какие события связаны с борьбой против монгольской зависимости в XIV вв.?

- | | |
|------------------------|-------------------------|
| 1) битва на реке Калке | 4) битва на р. Воже |
| 2) Куликовская битва | 5) сражение на р. Пьяни |
| 3) битва на р. Угре | 6) сражение на р. Сить |



ВСЕРОССИЙСКАЯ ОЛИМПИАДА ШКОЛЬНИКОВ 2016/17 гг.
МУНИЦИПАЛЬНЫЙ ЭТАП
ИСТОРИЯ
7 КЛАСС

2.4. Какие из перечисленных понятий относятся к категориям населения в Киевской Руси?

- 1) закуп
2) вира
3) смерд
4) урок
5) погост
6) рядович

Ответ:

2.1.	2.2.	2.3.	2.4.
236	346	245	136

Задание 3. Определите и запишите принцип образования каждого логического ряда, найдите и выпишите лишний элемент в каждом ряду. [2 балла за каждый правильный элемент ответа, до 4 баллов за каждый логический ряд, максимальный балл – 16].

3.1. Пядь, аршин, верста, пищаль, сажень

Ответ: _____

Ответ: древнерусские меры длины, лишнее: пищаль

3.2. Макарий, Сильвестр, И.М. Висковатый, М. Скуратов, А.М. Курбский

Ответ: _____

Ответ: участники Избранной Рады, лишнее: М. Скуратов

3.3. Паперть, струг, притвор, неф, алтарь

Ответ: _____

Ответ: части христианского храма, лишнее: струг

3.4. Изборник, Судебник 1497 г., Русская правда, Устав Владимира Мономаха, Судебник 1550 г.

Ответ: _____

Ответ: свод законов, лишнее: Изборник

Задание 4. Восстановите правильную хронологическую последовательность событий. Ответ запишите в виде ряда цифр, отражающего последовательность событий [2 балла за каждую правильную хронологическую последовательность, максимальный балл – 4].

4.1. А) учреждение патриаршества

Б) поход Андрея Боголюбского на Киев

В) образование Речи Посполитой

Г) походы Олега в Византию

Д) строительство Софийского собора в Новгороде

Е) московско-тверская война

Ответ:

Г	Д	Б	Е	В	А
---	---	---	---	---	---

4.2. А) Иван Калита



ВСЕРОССИЙСКАЯ ОЛИМПИАДА ШКОЛЬНИКОВ 2016/17 гг.
МУНИЦИПАЛЬНЫЙ ЭТАП
ИСТОРИЯ
7 КЛАСС

- Б) Василий Темный
- В) Даниил Московский
- Г) Иван Грозный
- Д) Симеон Гордый
- Е) Иван Красный

Ответ:

В	А	Д	Е	Б	Г
---	---	---	---	---	---

Задание 5. Соотнесите элементы правого и левого столбцов таблицы. Запишите в таблицу выбранные цифры под соответствующими буквами [1 балл за каждый правильный ответ, максимальный балл – 15].

5.1. Установите соответствие между историческим событием и датой. Обратите внимание, в правом столбце таблицы содержится лишний элемент [5 баллов].

Историческое событие	Дата
А) гибель Святослава Игоревича	1) 1185 г.
Б) сражение на р. Альте	2) 1581 г.
В) битва при Клушино	3) 1378 г.
Г) введение заповедных лет	4) 972 г.
Д) поход новгород-северского князя Игоря против половцев	5) 1068 г.
	6) 1610 г.

Ответ:

№	А	Б	В	Г	Д
5.1.	4	5	6	2	1

5.2. Установите соответствие между историческими деятелями и происходившими при них событиями. Обратите внимание, в правом столбце таблицы содержится лишний элемент [5 баллов].

Событие	Деятель
А) ограничение кровной мести	1) А. Курбский
Б) венчание на царство	2) Биргер
В) Невская битва	3) Иван Грозный
Г) битва на р. Шелонь	4) Дмитрий Донской
Д) созыв Земского собора	5) Дмитрий Борецкий
	6) Владимир Мономах

Ответ:

№	А	Б	В	Г	Д
5.2.	6	3	2	5	1

5.3. Установите соответствие между историческими деятелями отечественной истории и всемирной истории. Обратите внимание, в правом



ВСЕРОССИЙСКАЯ ОЛИМПИАДА ШКОЛЬНИКОВ 2016/17 гг.
МУНИЦИПАЛЬНЫЙ ЭТАП
ИСТОРИЯ
7 КЛАСС

столбце таблицы содержится лишний элемент [5 баллов].

Деятели отечественной истории	Деятели всемирной истории
А) Ярослав Мудрый	1) Карл Великий
Б) Алексей Михайлович Романов	2) Оттон I
В) Дмитрий Донской	3) Вильгельм I Завоеватель
Г) Княгиня Ольга	4) Мартин Лютер
Д) Василий III	5) Кромвель
	6) Ф. Петрарка

Ответ:

№	А	Б	В	Г	Д
5.3.	3	5	6	2	4

Задание 6. Прочтите отрывок из документа и ответьте на вопросы [максимальный балл – 6].

«Крестьянам разрешается переходить из волости в волость, из села в село лишь в течение одного срока в году: за неделю до осеннего Юрьева дня (26 ноября) и в течение недели после осеннего Юрьева дня. За пользование двором крестьяне платят в степной полосе рубль, а в лесной — полтину. Если крестьянин проживет у господина год, то при уходе он платит четверть стоимости двора, если два года - половину стоимости двора, три года - три четверти, а за четыре года он уплачивает стоимость всего двора».

1. Напишите название данного документа, в котором содержится данная норма? [1 балл].

Ответ: _____

Ответ: Судебник

2. Укажите год, когда он был принят? [1 балл].

Ответ: _____

Ответ: 1497 г.

3. Как называлась описанная плата и кому она предназначалась? [1 балл].

Ответ: _____

Ответ: пожилое, землевладельцу, вотчиннику, дворянину

4. Начало какому процессу было положено этим документом? [1 балл].

Ответ: _____

Ответ: процессу закрепощения крестьян, складыванию крепостного права

5. Укажите название и дату принятия документов, в которых данная норма была подтверждена [2 балла].

Ответ: _____

Ответ: Судебник 1550 г., Соборное Уложение 1649 г.

Задание 7. Внимательно рассмотрите карту и ответьте на вопросы [1 балл]



ВСЕРОССИЙСКАЯ ОЛИМПИАДА ШКОЛЬНИКОВ 2016/17 гг.
МУНИЦИПАЛЬНЫЙ ЭТАП
ИСТОРИЯ
7 КЛАСС

за каждый из перечисленных элементов ответа, максимальный балл за все задание – 14].



1. Напишите название города, обозначенного на карте цифрой «1», и название озера, которое расположено рядом с ним [2 балла].

Ответ: _____

Ответ: Новгород, Ильмень-озеро.

2. Какой город являлся центром полянской земли? Напишите название города и укажите цифру, которой он обозначен на карте [2 балла].

Ответ: _____

Ответ: Киев, цифра «4».

3. Назовите не менее двух славянских племен, получивших свое название от легендарных предков [2 балла].

Ответ: _____

Ответ: радимичи, кривичи, вятичи.

4. Какой город был политическим центром древлян и какое историческое событие было с ним связано? [2 балла].

Ответ: _____

Ответ: Искоростень, поход Игоря в древлянскую землю для сбора дани, попытка вторичного сбора дани Игорем, убийство Игоря за попытку вторичного сбора дани.

5. Укажите название племени, на территории которого было образовано Черниговское княжество, и цифру, обозначающую город Чернигов на карте [2 балла].



ВСЕРОССИЙСКАЯ ОЛИМПИАДА ШКОЛЬНИКОВ 2016/17 гг.
МУНИЦИПАЛЬНЫЙ ЭТАП
ИСТОРИЯ
7 КЛАСС

Ответ: _____

Ответ: северяне, цифра «3».

6. Напишите название племен, через земли которых пролегал маршрут полюдя при Олеге? [2 балла].

Ответ: _____

Ответ: Это область *древлян* (между Днепром, Горынью и верховьями Южного Буга); область *дреговичей* (от Припяти на север до водораздела с бассейном Немана и Двины, на востоке – от Днепра включительно); область *кривичей* в верховьях Днепра, Двины и Волги и, наконец, область *северян*, охватывающая Среднюю Десну, Посемье и бассейны верховий Пела и Ворсклы. [Указаны названия 1-2 племен – 1 балл, 3-4 племен - 2 балла].

7. Какому государству уплачивали дань северяне и радимичи до похода Олега в 880-е гг.? [1 балл].

Ответ: _____

Ответ: Хазарский каганат.

8. К какому из указанных на карте племен относится поговорка «погибоша аки обре»? [1 балл].

Ответ: _____

Ответ: авары, Аварский каганат.

Задание 8. Заполните пробелы в тексте. Ответ оформите в виде перечня элементов под соответствующими номерами [1 балл за каждый правильно заполненный пропуск, максимальный балл – 9].

Смертью царя _____ (1) в 1598 году, не оставившего после себя детей, пресеклась династия _____ (2) московских государей. _____ (3) избрал на царство боярина _____ (4), правившего государством при царе Феодоре. Вскоре после этого избрания начались смуты, которые постепенно развились в страшное потрясение государства, окончившееся только со вступлением на московский престол первого царя новой династии, Михаила, в _____ (5) году. Эти годы (1598—1613) известны в нашей истории как _____ (6) или эпоха самозванцев. Эти самозванцы большею частью выдавали себя за младшего сына _____ (7) царевича _____ (8), погибшего насильственной смертью в _____ (9) году, обстоятельства которой остались неразъясненными. Такое насильственное и таинственное пресечение династии и послужило первым поводом к смуте, которую поддержало сопровождавшее его появление самозванцев.

Ответ:


1. Федора Иоанновича
2. Рюриковичи
3. Земский собор
4. Борис Годунов




ВСЕРОССИЙСКАЯ ОЛИМПИАДА ШКОЛЬНИКОВ 2016/17 гг.
МУНИЦИПАЛЬНЫЙ ЭТАП
ИСТОРИЯ
7 КЛАСС

5. 1613 г.
6. Смутное время
7. Ивана IV
8. Дмитрия Иоанновича
9. 1591 г.

Задание 9. Посмотрите на архитектурные сооружения и укажите: 1) название архитектурных сооружений [2 балла]; 2) время их создания (с точностью до половины столетия) [1 балл]; 3) имя князя, при котором они были построены [1 балл]; 4) место их расположения [1 балл] [до 6 баллов за ответ по одному архитектурному сооружению, максимальный балл за все задание – 20].




1.



2.



3.



4.

Ответ:



ВСЕРОССИЙСКАЯ ОЛИМПИАДА ШКОЛЬНИКОВ 2016/17 гг.
МУНИЦИПАЛЬНЫЙ ЭТАП
ИСТОРИЯ
7 КЛАСС

№	Название [2 балла]	Время создания [1 балл]	Имя князя [1 балл]	Место располо- жения [1 балл]
1	Золотые ворота	II поло- вина XII в.	Андрей Бого- любский	Владимир
2	Архангельский со- бор	начало XVI в.	Иван III	Москва
3	Дмитриевский собор	II поло- вина XII в.	Всеволод Боль- шое Гнездо	Владимир
4	Собор Покрова Пре- святой Богородицы, что на Рву	II поло- вина XVI в.	Иван IV	Москва

Задание 10. Прочтите отрывок из монографии современных историков и выберите из предложенных вариантов ответов те, которые пропущены в тексте. Получившуюся последовательность цифр перенесите в бланк ответов [1 балл за каждый правильно заполненный пропуск, максимальный балл – 4].

«Сибирский губернатор князь М.П. Гагарин донес царю _____ (А) про «городок калмыцкой Эркет, под которым на реке Дарье промышляют песошное золото»... Царь на доношении губернатора написал резолюцию об отправке туда экспедиции и о назначении руководителем этой военной экспедиции _____ (Б)... Только в августе _____ (В) года подполковник с небольшим отрядом отправился из Москвы в _____ (Г).

1) 1715 г.

2) Петр I

3) 1617 г.

4) Тобольск

5) Санк-Петербург

6) Михаил Романов

7) И.Д. Бухгольц

8) М.В. Скопин-Шуйский

Ответ:

А	Б	В	Г
2	7	1	4