



ВСЕРОССИЙСКАЯ ОЛИМПИАДА ШКОЛЬНИКОВ 2016/17 гг.
МУНИЦИПАЛЬНЫЙ ЭТАП
ИСТОРИЯ
7 КЛАСС

**Информация об участнике Муниципального этапа
Всероссийской олимпиады школьников по истории
7 класс**

Фамилия _____

Имя _____

Отчество _____

Школа _____

Класс _____

Шифр (заполняется членами Оргкомитета) _____



ВСЕРОССИЙСКАЯ ОЛИМПИАДА ШКОЛЬНИКОВ 2016/17 гг.
МУНИЦИПАЛЬНЫЙ ЭТАП
ИСТОРИЯ
7 КЛАСС

Инструкция по выполнению задания
Время выполнения заданий – 120 минут
Максимальный балл – 100 баллов

Задание 1. Выберите по одному верному ответу в каждом задании [1 балл за каждый правильный ответ, максимальный балл – 4].

1.1. В каком году, согласно летоисчислению от сотворения мира, был издан документ, отрывок из которого дан ниже?

«А христианам отказываться из волости, и с села в село, один срок в году... Дворы пожилые платят в полях за двор рубль, а в лесех полтина. А которой христианин поживет за ким год, да пойдет прочь, и он платит четверть двора, а два года поживет да поидеть прочь, и он полдвора платит; а три годы поживет, а поидет прочь, и он платит три четверти двора; а четыре года поживет, и он весь двор платит».

- | | |
|------------|------------|
| 1) 6370 г. | 3) 7005 г. |
| 2) 6748 г. | 4) 7055 г. |

1.2. Прочтите отрывок и укажите произведение, фрагментом которого он является: «Плывем мы мимо Астрахани, а месяц светит, и царь нас увидел, и татары нам кричали: "Качма - не бегите!" А мы этого ничего не слышали и бежим себе под парусом. За грехи наши послал царь за нами всех своих людей. Настигли они нас на Богуне и начали в нас стрелять. У нас застрелили человека, и мы у них двух татар застрелили. А меньшее наше судно у еза застряло, и они его тут же взяли да разграбили, а моя вся поклажа была на том судне. Дошли мы до моря на большом судне, да стало оно на мели в устье Волги, и тут они нас настигли и велели судно тянуть вверх по реке до еза».

- 1) «Хождение игумена Даниила в Святые места»
- 2) «Хождение за три моря»
- 3) «Задонщина»
- 4) «Сказание Епифания мниха о пути в Иерусалим»

1.3. Одним из последствий распада Древнерусского государства является

- 1) пресечение династии Рюриковичей
- 2) развитие местного летописания
- 3) принятие христианства
- 4) поражение русских князей от печенегов

1.4. О каком королевиче идет речь в данном тексте?

«А мы бояре дали гетману запись... королевичу, коли придет в царствующий град Москву, венчать на государство царским венцом по прежнему чину. А будучи королевичу на Российском государстве, церкви Божий иконам и чудотворным мощам поклоняться и почитать, костелов и иных молебных в Московском государстве нигде не ставить...».



ВСЕРОССИЙСКАЯ ОЛИМПИАДА ШКОЛЬНИКОВ 2016/17 гг.
МУНИЦИПАЛЬНЫЙ ЭТАП
ИСТОРИЯ
7 КЛАСС

1) Сигизмунд III

3) Владислав IV

2) Дмитрий Иванович

4) Казимир IV

Ответ:

1.1.	1.2.	1.3.	1.4.

Задание 2. Выберите несколько верных ответов в каждом задании [2 балла за каждый правильный ответ, максимальный балл – 8].

2.1. Выберите из предложенного перечня события, относящиеся к правлению Ивана Грозного:

1) присоединение Рязани к Москве

4) учреждение патриаршества

2) созыв Земского собора

5) присоединение Крымского ханства

3) создание «Стоглава»

6) создание стрелецкого войска

2.2. Какие из перечисленных деятелей были современниками Ивана III?

1) Стефан Баторий

4) Александр Ягеллончик

2) Карл I Великий

5) Сигизмунд II Август

3) Аристотель Фиорованти

6) Сандро Боттичелли

2.3. Какие события связаны с борьбой против монгольской зависимости в XIV вв.?

1) битва на реке Калке

4) битва на р. Воже

2) Куликовская битва

5) сражение на р. Пьяни

3) битва на р. Угре

6) сражение на р. Сить

2.4. Какие из перечисленных понятий относятся к категориям населения в Киевской Руси?

1) закуп

4) урок

2) вира

5) погост

3) смерд

6) рядович

Ответ:

2.1.	2.2.	2.3.	2.4.

Задание 3. Определите и запишите принцип образования каждого логического ряда, найдите и выпишите лишний элемент в каждом ряду. [2 балла за каждый правильный элемент ответа, до 4 баллов за каждый логический ряд, максимальный балл – 16].

3.1. Пядь, аршин, верста, пищаль, сажень

Ответ: _____

3.2. Макарий, Сильвестр, И.М. Висковатый, М. Скуратов, А.М. Курбский

Ответ: _____

3.3. Паперть, струг, притвор, неф, алтарь

Ответ: _____



ВСЕРОССИЙСКАЯ ОЛИМПИАДА ШКОЛЬНИКОВ 2016/17 гг.
МУНИЦИПАЛЬНЫЙ ЭТАП
ИСТОРИЯ
7 КЛАСС

3.4. Изборник, Судебник 1497 г., Русская правда, Устав Владимира Мономаха, Судебник 1550 г.

Ответ: _____

Задание 4. Восстановите правильную хронологическую последовательность событий. Ответ запишите в виде ряда цифр, отражающего последовательность событий [2 балла за каждую правильную хронологическую последовательность, максимальный балл – 4].

- 4.1. А) учреждение патриаршества
Б) поход Андрея Боголюбского на Киев
В) образование Речи Посполитой
Г) походы Олега в Византию
Д) строительство Софийского собора в Новгороде
Е) московско-тверская война

Ответ:

--	--	--	--	--	--

- 4.2. А) Иван Калита
Б) Василий Темный
В) Даниил Московский
Г) Иван Грозный
Д) Симеон Гордый
Е) Иван Красный

Ответ:

--	--	--	--	--	--

Задание 5. Соотнесите элементы правого и левого столбцов таблицы. Запишите в таблицу выбранные цифры под соответствующими буквами [1 балл за каждый правильный ответ, максимальный балл – 15].

5.1. Установите соответствие между историческим событием и датой. Обратите внимание, в правом столбце таблицы содержится лишний элемент [5 баллов].

Историческое событие	Дата
А) гибель Святослава Игоревича	1) 1185 г.
Б) сражение на р. Альте	2) 1581 г.
В) битва при Клушино	3) 1378 г.
Г) введение заповедных лет	4) 972 г.
Д) поход новгород-северского князя Игоря против половцев	5) 1068 г.
	6) 1610 г.

Ответ:



ВСЕРОССИЙСКАЯ ОЛИМПИАДА ШКОЛЬНИКОВ 2016/17 гг.
МУНИЦИПАЛЬНЫЙ ЭТАП
ИСТОРИЯ
7 КЛАСС

№	А	Б	В	Г	Д
5.1.					

5.2. Установите соответствие между историческими деятелями и происходившими при них событиями. Обратите внимание, в правом столбце таблицы содержится лишний элемент [5 баллов].

Событие	Деятели
А) ограничение кровной мести	1) А. Курбский
Б) венчание на царство	2) Биргер
В) Невская битва	3) Иван Грозный
Г) битва на р. Шелонь	4) Дмитрий Донской
Д) созыв Земского собора	5) Дмитрий Борецкий
	6) Владимир Мономах

Ответ:

№	А	Б	В	Г	Д
5.2.					

5.3. Установите соответствие между историческими деятелями отечественной истории и всемирной истории. Обратите внимание, в правом столбце таблицы содержится лишний элемент [5 баллов].

Деятели отечественной истории	Деятели всемирной истории
А) Ярослав Мудрый	1) Карл Великий
Б) Алексей Михайлович Романов	2) Оттон I
В) Дмитрий Донской	3) Вильгельм I Завоеватель
Г) Княгиня Ольга	4) Мартин Лютер
Д) Василий III	5) Кромвель
	6) Ф. Петрарка

Ответ:

№	А	Б	В	Г	Д
5.3.					

Задание 6. Прочтите отрывок из документа и ответьте на вопросы [максимальный балл – 6].

«Крестьянам разрешается переходить из волости в волость, из села в село лишь в течение одного срока в году: за неделю до осеннего Юрьева дня (26 ноября) и в течение недели после осеннего Юрьева дня. За пользование двором крестьяне платят в степной полосе рубль, а в лесной — полтину. Если крестьянин проживет у господина год, то при уходе он платит четверть стоимости двора, если два года - половину стоимости двора, три года - три четверти, а за четыре года он уплачивает стоимость всего двора».



ВСЕРОССИЙСКАЯ ОЛИМПИАДА ШКОЛЬНИКОВ 2016/17 гг.
МУНИЦИПАЛЬНЫЙ ЭТАП
ИСТОРИЯ
7 КЛАСС

1. Напишите название данного документа, в котором содержится данная норма?
[1 балл].

Ответ: _____

2. Укажите год, когда он был принят? [1 балл].

Ответ: _____

3. Как называлась описанная плата и кому она предназначалась? [1 балл].

Ответ: _____

4. Начало какому процессу было положено этим документом? [1 балл].

Ответ: _____

5. Укажите название и дату принятия документов, в которых данная норма была подтверждена [2 балла].

Ответ: _____

Задание 7. Внимательно рассмотрите карту и ответьте на вопросы [1 балл за каждый из перечисленных элементов ответа, максимальный балл за все задание – 14].



1. Напишите название города, обозначенного на карте цифрой «1», и название озера, которое расположено рядом с ним [2 балла].

Ответ: _____



ВСЕРОССИЙСКАЯ ОЛИМПИАДА ШКОЛЬНИКОВ 2016/17 гг.
МУНИЦИПАЛЬНЫЙ ЭТАП
ИСТОРИЯ
7 КЛАСС

2. Какой город являлся центром полянской земли? Напишите название города и укажите цифру, которой он обозначен на карте [2 балла].

Ответ: _____

3. Назовите не менее двух славянских племен, получивших свое название от легендарных предков [2 балла].

Ответ: _____

4. Какой город был политическим центром древлян и какое историческое событие было с ним связано? [2 балла].

Ответ: _____

5. Укажите название племени, на территории которого было образовано Черниговское княжество, и цифру, обозначающую город Чернигов на карте [2 балла].

Ответ: _____

6. Напишите название племен, через земли которых пролегал маршрут полюдья при Олеге? [2 балла].

Ответ: _____

7. Какому государству уплачивали дань северяне и радимичи до похода Олега в 880-е гг.? [1 балл].

Ответ: _____

8. К какому из указанных на карте племен относится поговорка «погибоша аки обре»? [1 балл].

Ответ: _____

Задание 8. Заполните пробелы в тексте. Ответ оформите в виде перечня элементов под соответствующими номерами [1 балл за каждый правильно заполненный пропуск, максимальный балл – 9].

Смертью царя _____ (1) в 1598 году, не оставившего после себя детей, пресеклась династия _____ (2) московских государей. _____ (3) избрал на царство боярина _____ (4), правившего государством при царе Феодоре. Вскоре после этого избрания начались смуты, которые постепенно развились в страшное потрясение государства, окончившееся только со вступлением на московский престол первого царя новой династии, Михаила, в _____ (5) году. Эти годы (1598—1613) известны в нашей истории как _____ (6) или эпоха самозванцев. Эти самозванцы большею частью выдавали себя за младшего сына _____ (7) царевича _____ (8), погибшего насильственной смертью в _____ (9), обстоятельства которой остались неразъясненными. Такое насильственное и таинственное пресечение династии и послужило первым поводом к смуте, которую поддержало сопровождавшее его появление самозванцев.

Ответ:




1. _____



ВСЕРОССИЙСКАЯ ОЛИМПИАДА ШКОЛЬНИКОВ 2016/17 гг.
МУНИЦИПАЛЬНЫЙ ЭТАП
ИСТОРИЯ
7 КЛАСС

- 2. _____
- 3. _____
- 4. _____
- 5. _____
- 6. _____
- 7. _____
- 8. _____
- 9. _____

Задание 9. Посмотрите на архитектурные сооружения и укажите: 1) название архитектурных сооружений [2 балла]; 2) время их создания (с точностью до половины столетия) [1 балл]; 3) имя князя, при котором они были построены [1 балл]; 4) место их расположения [1 балл] [до 6 баллов за ответ по одному архитектурному сооружению, максимальный балл за все задание – 20].





ВСЕРОССИЙСКАЯ ОЛИМПИАДА ШКОЛЬНИКОВ 2016/17 гг.
МУНИЦИПАЛЬНЫЙ ЭТАП
ИСТОРИЯ
7 КЛАСС

Ответ:

№	Название [2 балла]	Время создания [1 балл]	Имя князя [1 балл]	Место располо- жения [1 балл]
1				
2				
3				
4				

Задание 10. Прочтите отрывок из монографии современных историков и выберите из предложенных вариантов ответов те, которые пропущены в тексте. Получившуюся последовательность цифр перенесите в бланк ответов [1 балл за каждый правильно заполненный пропуск, максимальный балл – 4].

«Сибирский губернатор князь М.П. Гагарин донес царю _____ (А) про «городок калмыцкой Эркет, под которым на реке Дарье промышляют песошное золото»... Царь на доношении губернатора написал резолюцию об отправке туда экспедиции и о назначении руководителем этой военной экспедиции _____ (Б)... Только в августе _____ (В) года подполковник с небольшим отрядом отправился из Москвы в _____ (Г).

- | | |
|-------------|------------------------|
| 1) 1715 г. | 5) Санкт-Петербург |
| 2) Петр I | 6) Михаил Романов |
| 3) 1617 г. | 7) И.Д. Бухгольц |
| 4) Тобольск | 8) М.В. Скопин-Шуйский |

Ответ:

А	Б	В	Г