

МИНИСТЕРСТВО ОБРАЗОВАНИЯ,  
НАУКИ И МОЛОДЕЖНОЙ ПОЛИТИКИ  
КРАСНОДАРСКОГО КРАЯ

Государственное бюджетное учреждение  
дополнительного образования Краснодарского  
края  
«ЦЕНТР РАЗВИТИЯ ОДАРЕННОСТИ»

350000 г. Краснодар,  
ул. Красная, 76  
тел. 259-84-01  
E-mail: cro.krd@mail.ru

Всероссийская олимпиада школьников  
по истории

2017-2018 учебный год

Муниципальный этап

7 класс, ответы

Председатель предметно-методической  
комиссии: Касьянов В.В., д.и.н., профессор

Задание 1 (8 баллов)

Юбилейные даты 2017 г.

Соотнесите верно столбцы таблицы, определив сколько лет назад произошло каждое из событий

<i>событие</i>		<i>юбилей</i>	
1	Поход Олега на Византию, князь прибил щит к воротам Царьграда	А	780
2	Закладка церкви св.Софии в Киеве	Б	520
3	Съезд князей в Любече	В	1110
4	Первое летописное упоминание о Москве	Г	980
5	Судебник Ивана III	Д	870
6	Крещение княгини Ольги в Константинополе	Е	1060
7	Строительство белокаменного Кремля в Москве	Ж	920
8	Начало похода Батые на Северо-Восточную Русь	З	650

**Ответ: За каждое 1 правильное соотнесение - 1 балл. Всего - 8 баллов. Соотнесение возможно в удобной для участника форме: буквенное или с указанием лет**

<i>событие</i>		<i>юбилей</i>	
1	Поход Олега на Византию, князь прибил щит к воротам Царьграда	В	1110
2	Закладка церкви св.Софии в Киеве	Г	980
3	Съезд князей в Любече	Ж	920
4	Первое летописное упоминание о Москве	Д	870
5	Судебник Ивана III	Б	520
6	Крещение княгини Ольги в Константинополе	Е	1060
7	Строительство белокаменного Кремля в Москве	З	650
8	Начало похода Батые на Северо-Восточную Русь	А	780

### Задание 2 (10 баллов)

**Прочитайте текст исторического источника. Выполните задания.**

I. "И когда же начало восходить солнце, он услышал на море страшный шум и увидел ладью, плывущую по морю, а посередине ладьи - святых мучеников Бориса и Глеба, стоящих в одеждах багряных ... И сказал Борис: "Брат Глеб, вели грести, да поможем сроднику своему Александру"... И была сеча великая с латинянами, и перебил их бесчисленное множество, и самому королю возложил печать на лицо острым своим копьем".

- а) Определите век, в котором погибли указанные в тексте святые
- б) С точностью до года, определите, когда происходили события, указанные в тексте
- в) Какое прозвище получил князь, предводитель русского войска, после этой битвы?

**Ответ: а) XI век б) 1240 в) Невский.**

**За каждый названный правильно элемент - по 2 балла. Всего - 6 баллов**

II. Когда князь \_\_\_\_\_ сел в Киеве на великое княжение, то начал держать совет со своими князьями, с боярами и с вельможами, говоря так: «Когда я был еще мал, то слышал от царствовавших до меня и державших скипетр великой России о том, что великий князь Олег ходил на Царьград и взял с него большую дань на всех своих воинов, потом великий князь Всеслав Игоревич [\*] ходил и взял с Константинополя еще большую дань. А мы, божьей милостью наследники своих прародителей и отца своего великого князя Всеволода Ярославича, удостоены богом быть наследниками того же жребия, и ныне же прошу у вас, моих советников, князей, бояр, воевод и всего над нами христолюбивого воинства, и да превознесется вашей храбростью и мужеством имя святой и живоначальной Троицы по божьей воле и нашему повелению!»

- а) Определите, о каком князе идет речь в отрывке.
- б) Назовите событие, в результате которого он получил Киевский престол.

**Ответ: а) Князь: Владимир Мономах – 2 балла**

**б) Событие: Восстание в Киеве 1113 г. – 2 балла (если дата не указана, то только 1 балл)**

**Всего 4 балла.**

При выполнении олимпиады, участники могут указывать имя князя (правителя), дополняя его прозвищем, отчеством или тронным порядковым номером. Все верные варианты должны быть засчитаны.

### Задание 3 (5 баллов)

**Объясните, по какому принципу образованы ряды?**

- 1) Сварог, Стрибог, Хорс, Ярило
- 2) Гедимин, Ольгерд, Кейстут, Ягайло, Витовт
- 3) Василий II, Василий Косой, Дмитрий Шемяка, Дмитрий Красный, Юрий Звенигородский

**Ответ:**

**1) Языческие боги славян (языческие боги Древней Руси, божества восточнославянского пантеона)**

– **1 балл.**

2) Литовские князья. Засчитывается "Гедиминовичи" – **2 балла**

3) Участники междоусобной войны (1425-1453). Засчитываются: феодальная война (1425-1453), феодальная война между потомками Дмитрия Донского, династическая война XV в. – и другие формулировки, верно характеризующие события – **2 балла.** Если ответ сформулирован в предельно краткой форме, без соотнесения с хронологией (династическая война, междоусобная война) – **1 балл.**

**Задание 4 (7 баллов)**

Назовите имена богатырей - героев известной картины В.М. Васнецова. Соотнесите изображения богатырей с их мультипликационными образами. Назовите картину.

1		2		3	
А		Б		В	

**Ответ:**

№	Имя князя	Мультипликационный образ (буква)
1	<b>Добрыня Никитич</b>	<b>В</b>
2	<b>Илья Муромец</b>	<b>А</b>
3	<b>Алеша Попович</b>	<b>Б</b>

**Название картины: "Богатыри" (1 балл).** Не принимается "Три богатыря"

**Задание 5 (4 балла)**

**Расположите в хронологической последовательности события. Ответы занесите в таблицы**

I. а) Восстание в Твери; б) Битва на реке Сити; в) Ферраро-Флорентийская уния; г) смерть Александра Невского в Городце д) строительство Успенского собора под руководством зодчего Аристотеля Фиораванти.

**Ответ: 2 балла - все правильно, 1 балл при 1 ошибке (в том числе и когда участник «поменял местами» события, т.е. формально 2 неверные позиции).**

<b>1</b>	<b>2</b>	<b>3</b>	<b>4</b>	<b>5</b>
<b>б</b>	<b>г</b>	<b>а</b>	<b>в</b>	<b>д</b>

II. а) княжение Андрея Боголюбского; б) правление Юстиниана в Византийской империи; в) установление вечевого строя в Новгороде («новгородская революция»); г) возникновение английского парламента; д) провозглашение Карла Великого императором.

**Ответ: 2 балла - все правильно, 1 балл при 1 ошибке (в том числе и когда участник «поменял местами» события, т.е. формально 2 неверные позиции).**

<b>1</b>	<b>2</b>	<b>3</b>	<b>4</b>	<b>5</b>
<b>б</b>	<b>д</b>	<b>в</b>	<b>а</b>	<b>г</b>

**Задание 6 (4 балла)**

**Определите, о какой исторической личности идет речь:**

I. «Время \_\_\_\_\_ ознаменовалось распространением христианской религии по всем русским землям. <...> продолжал дело своего отца: он в Новгороде собрал 300 детей у старост и попов и отдавал их «учиться книгам». <...> собрал знатоков и поручил переводить с греческого на русский язык разные сочинения духовного содержания и переписывать уже переведенные; таким образом составила библиотека.» (Н.И. Костомаров)

**Ответ: Ярослав Мудрый – 2 балла.**

II. «Когда я жил в Москве, там проживал и преславный мудрец, <...> среди иконописцев отменный живописец, который собственною рукой расписал много различных церквей каменных – более сорока, какие имеются по городам: в Константинополе, и в Халкидоне, и в Галате, и в Каффе, и в Великом Новгороде, и в Нижнем. Но в Москве им расписаны три церкви: Благовещения Святой Богородицы, св. Михаила и еще одна. В церкви св. Михаила он изобразил на стене город, подробно вырисовав его красками; у князя Владимира Андреевича он изобразил на каменной стене также самую Москву; терем у великого князя расписан им невиданною раньше и необычайной росписью, а в каменной церкви св. Благовещения он написал «Корень Иесеев» и «Апокалипсис». Когда он все это изображал или писал, никто не видел, чтобы он когда-либо

взирал на образцы, как это делают некоторые наши иконописцы, которые в недоумении постоянно в них всматриваются, глядя туда и сюда, и не столько пишут красками, сколько смотрят на образцы. Он же, казалось, руками пишет роспись, а сам беспрестанно ходит, беседует с проходящими и умом обдумывает высокое и мудрое, чувственными же очами разумными разумную видит доброту». (из описаний Епифания)

**Ответ:** Феофан Грек – 2 балла

**Задание 7 (12 баллов)**

**Историк должен грамотно писать исторические термины и понятия. Впишите вместо каждого пропуска правильную букву:**

- 1) з\_рнь – узор из мельчайших золотых или серебряных зерен, которые напаивались на металлическую пластинку
- 2) ка\_ан – титул правителя государства у древних тюркских кочевых племен.
- 3) кл\_чник – помощник огнищанина в вотчине.
- 4) ле\_\_вица – система престолонаследия, по которой престол переходил к старшему в роду.
- 5) м\_жи – свободные общинники, участники народных собраний у восточных славян.
- 6) от\_\_на – наследственное владение князей.

**Ответ:** зернь, каган, ключник, лествица, мужи, отчина – по 2 балла за верно написанное слово.

**Задание 8 (12 баллов)**

**Соотнесите события Российской и Всемирной истории, сопоставив факты, указанные в столбцах (совпадение в рамках нескольких лет, максимально десяти)**

1	Начало княжения Рюрика в Новгороде	А	Падение династии Тан в Китае
2	Куликовская битва	Б	Битва османов и сербов на Косовом поле
3	Съезд русских князей в Любече	В	Захват османами Константинополя
4	Первый поход великого киевского князя Олега на Византию	Г	Прибытие Святых Кирилла и Мефодия в Великоморавскую державу
5	Стояние на реке Угре	Д	Создание королевства Испания
6	Установление автокефалии Русской православной церкви	Е	Захват крестоносцами Иерусалима

**Ответ:** 1-Г, 2-Б, 3-Е, 4-А, 5-Д, 6-В – по 2 балла за ответ.

**Соотнесение возможно в удобной для участника форме: буквенное или полное.**

**Задание 9 (8 баллов)**

**Определите, правдивы ли данные утверждения. Ответ оформите в виде таблицы:**

1. Правда ли то, что Столетняя война длилась 96 лет
2. Князь Игорь Новгород-Северский носил хитон
3. Иван IV Грозный любил читать книги и играть в шахматы
4. Иван III любил есть картофельное рагу

5. Современный город Рязань находится на том самом месте, где в конце 1237 г. Евпатий Коловрат увидел руины родного города
6. Сын Андрея Боголюбского некоторое время был соправителем Грузии, мужем царицы из династии Багратионов
7. Юрий Долгорукий во время встречи в Москве получил в подарок от князя Святослава Ольговича "пардуса" (гепарда)
8. В результате боярских интриг фаворитка князя Ярослава Осмомысла Анастасия была сожжена на костре, а их общий сын Олег Настасьич унаследовал престол, но был отравлен боярами.


**Ответ:**

Верно	Ложно
3, 6, 7, 8.	1, 2, 4, 5.

**1 баллов - 1 правильное соответствие. Если одна и та же цифра записана в два столбца, то балл не ставится. Всего - 8 баллов.**

**Задание 10 (12 баллов)**

**Установите соответствие между изображениями и литературными произведениями. Укажите название произведений.**





А. «Сидя на саях, помыслил я в душе своей и воздал хвалу богу, который меня до этих дней, грешного, сохранил. Дети мои или иной кто, слушая эту грамотку, не посмейтесь, но кому из детей моих она будет любя, пусть примет ее в сердце свое и не станет лениться, а будет трудиться. Прежде всего, бога ради и души своей, страх имейте божий в сердце своем и милостыню подавайте нескудную, - это ведь начало всякого добра. Если же кому не любя грамотка эта, то пусть не посмеются, а так скажут: на дальнем пути, да на саях сидя, безлепицу молвил».

Б. «Послал Ярослав сына своего Владимира на греков и дал ему много воинов, а воеводство поручил Вышате, отцу Яня. И отправился Владимир в ладьях, и приплыл к Дунаю, и направился к Царьграду. И была буря велика, и разбила корабли русских, и княжеский корабль разбил ветер».

В. «Ведь закон предтечей был и служителем благодати и истины, истина же и благодать — служитель будущего века, жизни нетленной. Ибо закон приводил подзаконных к благодатному крещению, а крещение провождает сынов своих в жизнь вечную. Моисей ведь и пророки проповедали о пришествии Христовом, Христос же и апостолы — о воскресении и жизни будущего века».

Г. «Неужели ты, по своему безумному разуму, полагаешь, что царь всегда должен действовать одинаково, независимо от времени и обстоятельств? Неужели не следует казнить разбойников и воров? А ведь лукавые замыслы этих преступников еще опаснее! Тогда все царства распадутся от беспорядка и междоусобных браней. Что же должен делать правитель, как не разбирать несогласия своих подданных?»

Ответ:		
Номер изображения	Отрывок из литературного произведения	Название произведения
1	В	«Слово о Законе и Благодати»
2	Г	«Послание Ивана Грозного Курбскому» (принимаются и другие, передающие смысл формулировки – «Переписка Грозного и Курбского», письмо...)
3	А	«Поучение Владимира Мономаха», «Поучение детям»,

		«Завещание Владимира Мономаха детям»
4	Б	«Повесть временных лет»

По 1 баллу за каждое верно установленное соответствие номера и отрывка – **4 балла**  
По 2 балла за верное определение названий отрывков – **8 баллов**  
Суммарно **12 баллов**.

**Задание 11 (6 баллов)**

**Что или кто является лишним в ряду? Лишнее слово подчеркните.**

- 1) Темучин, Кучум, Батый, Сартак, Неврюй, Берке.
- 2) Изяслав, Мстислав, Святополк, Мечислав, Борис, Глеб.
- 3) Дмитрий Михайлович, Михаил Ярославич, Александр Михайлович, Михаил Александрович, Даниил Александрович.

**Ответ:** 1) Кучум. 2) Мечислав. 3) Даниил Александрович – по 2 балла за ответ

**Задание 12 (12 баллов)**

**А) Установите соответствие между текстом исторических источников и картами.**

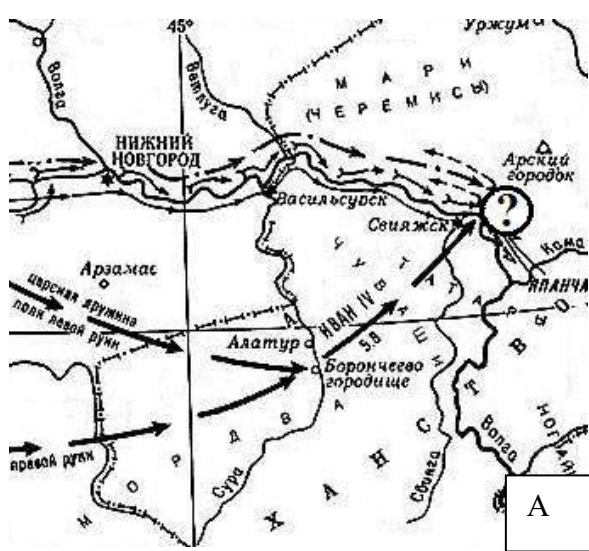
**Б) Укажите названия пропущенных на карте городов.**

**В) В каком году происходили описываемые источником события?**

**Ответ занесите в таблицу.**

1. «Евпатий Коловрат был в то время в Чернигове. И услышал о нашествии верному злу царя Батыея, и уехал из Чернигова с малою дружиною, и мчался быстро. И приехал в землю <...> и увидел ее опустошенной, грады разорены, церкви сожжены, люди убиты».
2. «В лето 6473 пошёл Святослав на хазар. Услышав же, хазары вышли навстречу ему со своим князем каганом и сошлись биться, и в битве одолел Святослав хазар, и столицу их и Белую Вежу взял. И победил ясов и касогов».
3. «Пальба умолкла; в дыму города раздавались только удары мечей, стон убиваемых, клик победителей. Тогда главный военачальник, Князь Михайло Воротынский, прислал сказать Государю: «Радуйся, благочестивый Самодержец! Твоим мужеством и счастьем победа совершилась... <...> Славить Всевышнего, ответственвал Иоанн, воздел руки на небо, велел петь молебен под святою хоругвию и, собственною рукою на сем месте водрузив Животворящий Крест, назначил быть там первой церкви Христианской».
4. «Немцы же и чудь, пробишася свиньею сквозь полки. <...> Те, которые находились в войске братьев-рыцарей, были окружены. Братья-рыцари достаточно упорно сопротивлялись, но их там одолели. Часть дерптцев вышла из боя, это было их спасением, они вынужденно отступили. <...> И возвратился князь Александр с победою славною, и было много пленных в войске его, и вели босыми подле коней тех, кто называет себя «Божьими рыцарями».

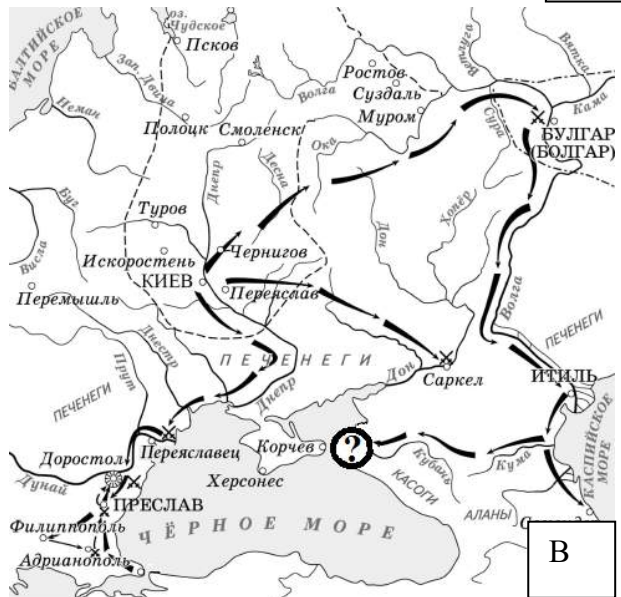




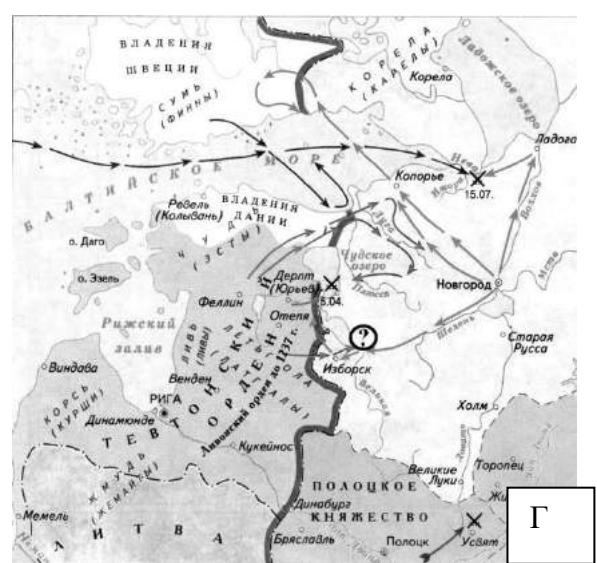
А



Б



В



Г

**Ответ:**

Текст	Карта	Название города	Год
1.	Б	Рязань	1237
2.	В	Тмутаракань	965
3.	А	Казань	1552
4.	Г	Псков	1242

По 3 балла за каждую верную строку. 1 ошибка в строке – 2 балла. 2 ошибки – 1 балл. В сумме – **12 баллов.**