

История, 7 класс, муниципальный этап

Указания к проверке

Историческая хронология

1. Произведите хронологические расчеты. Найдите значение выражения, составленного из исторических дат.

Куликовская битва + съезд князей в Любече – судебник Ивана III – крещение княгини Ольги + смерть великого владимирского князя Андрея Александровича и начало великого владимирского княжения Михаила Ярославича Тверского = X.

Назовите событие, которое произошло в год X.

Ответ: $1380 + 1097 - 1497 - 957 + 1304 = 1327$ (восстание тверичей против монгольского баскака Чол-хана)

Высшая оценка: 7 баллов (по 1 баллу за каждую правильную дату и 2 балла – за названное событие).

2. Что из перечисленного не произошло в XV веке:

- превращение Русской церкви в автокефальную (самоуправляющуюся);
- поход Едигея на Русь;
- смерть великого князя Ивана III;
- Грюнвальдская битва;
- роспись Андреем Рублевым Троицкого собора Троице-Сергиева монастыря;
- разгром Золотой Орды войсками Тимура (Тамерлана) и бегство Тохтамыша в Литву;
- поход Ивана III на Новгород.

Ответ: смерть великого князя Ивана III (1505); разгром Золотой Орды войсками Тимура (Тамерлана) и бегство Тохтамыша в Литву (1395 г.).

Высшая оценка: 2 балла (по 1 баллу за каждый правильный ответ; 1 балл при одном правильном и одном неправильном ответе, при двух правильных и одном неправильном ответе).

3. Установите правильное соответствие между элементами левого и правого столбцов. Полученные результаты запишите в таблицу.

Событие	Дата
1. Битва на р.Калке	А. 1157 г.
2. Смерть Юрия Долгорукого	Б. 1051 г.
3. Поставление священника Илариона киевским митрополитом без санкции Константинопольского патриарха	В. 1425 г.
4. Битва на реке Пьяне	Г. 1474 г.
5. Присоединение Ростовского княжества к московским владениям	Д. 1377 г.
	Е. 1223 г.

Ответ:

1	2	3	4	5
Е	А	Б	Д	Г

Высшая оценка: 5 баллов за правильный ответ, 3 балла – при одной допущенной ошибке.

Историческая личность

4. Имена каких исторических деятелей образуют ряд, кто в ряду лишний и почему?
Миндовг, Биргер, Гедимин, Ольгерд, Витовт.

Ответ: это – правители Великого княжества Литовского. Биргер – легендарный предводитель войск шведов в Невской битве.

Высшая оценка: 2 балла (по 1 баллу за правильные последовательность и исключение).

5. О ком идет речь?

Эта женщина родилась в семье правителя соседнего с Русью государства и вышла замуж за московского великого князя. Овдовев, включилась в борьбу с братом мужа за передачу престола своему сыну. Ее действия на свадьбе сына стали поводом к военным действиям и взятию Москвы ее противниками. Продолжала принимать активное участие в борьбе вплоть до полной победы сына. Напишите ее имя и отчество.

На иллюстрации – ее вышитое изображение вместе с мужем на церковном одеянии:



Ответ: Софья Витовтовна.

Высшая оценка: 2 балла (по 1 баллу за правильно написанные имя и отчество).

6. Напишите, кто сказал эти фразы:
- 1) «Да будет это мать городам русским»
 - 2) «Се написах свое грешное хождение за три моря...»
 - 3) «Аще ли умру, с вами, аще ли жив буду, с вами же!»
 - 4) «Иду на вы!»

Ответ:

- 1) князь Олег;
- 2) Афанасий Никитин;
- 3) Дмитрий Донской;
- 4) князь Святослав Игоревич.

Высшая оценка: 4 балла (по 1 баллу за каждый правильный ответ).


История культуры

7. Что из нижеперечисленного не является элементами древнерусского костюма:
- нучи
 - ричелина
 - зипун
 - летник
 - кика

Ответ: ричелина – элемент конструкции русской избы (доска, прикрывающая на фасаде торец крыши).

Высшая оценка: 1 балл.

8. Посмотрите на рисунок и ответьте на вопросы:



- А) около какого города расположен этот храм
- Б) как он называется
- В) в правление какого князя он был построен

Ответ:

- А) Владимир
- Б) церковь Покрова на Нерли
- В) Андрей Боголюбский

Высшая оценка: 3 балла (по 1 баллу за каждый правильный ответ).

Работа с историческими источниками

9. Прочитайте выдержку из документа и ответьте на вопросы:

«... А христианом отказыватися из волости, ис села в село, один срок в году за неделю до _____ осеннего и неделю после _____ осеннего. Дворы пожилые платят в полах за двор рубль, а в лесех полтина. А который христианин поживет за ким год, да поидет прочь, и он полдвора платит; а три годы поживет, да поидет прочь и он платит три четверти двора, а четыре года поживет и он весь двор платит»

Вопросы:

- 1) Как называется документ?
- 2) В каком году он составлен?
- 3) При каком правителе он составлен?
- 4) Какое выражение пропущено?

Ответ:

- 1) Судебник
- 2) 1497
- 3) Иван Третий
- 4) Юрьев день

Высшая оценка: 4 балла (по 1 баллу за каждый правильный ответ).

Работа с терминами

10. Дайте определение перечисленным ниже терминам или впишите термины, соответствующие определениям. Заполните пустые ячейки таблицы:

1.	Название общины в Древней Руси.
Полюдье	2.
3.	Княжеские раздоры на Руси.
Пожилое	4.
5.	Ханская грамота на право властвования в своих землях русским князьям или управления митрополией для митрополитов.

Ответ:

1. Вервь
2. Объезд князем с дружиной своих земель для сбора дани
3. Усобицы
4. Денежный сбор с крестьянина за право уйти от феодала в Юрьев день
5. Ярлык

Высшая оценка: 5 баллов (по 1 баллу за каждый правильный ответ).

Историческая география

11. Эта крепость располагается в Псковской области. Сейчас этот населенный пункт имеет статус деревни, однако исторически – это один из древнейших городов нашей страны. По легенде, в нем обосновался один из братьев Рюрика. Какое название древнего города?



Ответ: Изборск.

Высшая оценка: 1 балл.

12. Заполните таблицу, вписывая соответствующие названия племенных союзов восточных славян или их племенных центров (городов).

Племенной союз	Его племенной центр
1. поляне	
2.	Новгород
3. северяне	
4.	Смоленск
5. древляне	

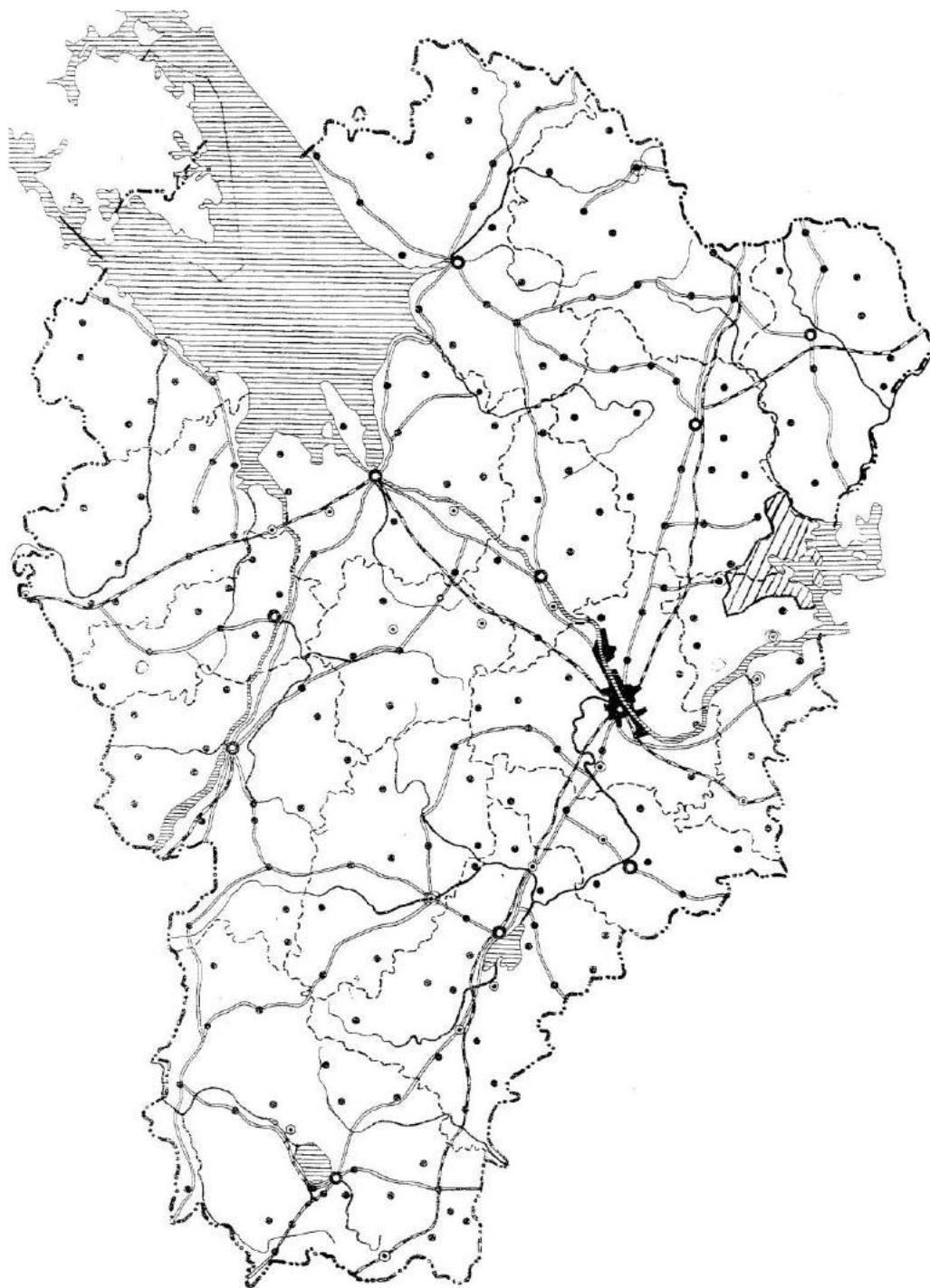
Ответ:

Племенной союз	Его племенной центр
1. поляне	Киев
2. ильменские (новгородские) словене	Новгород
3. северяне	Чернигов
4. кривичи	Смоленск
5. древляне	Искоростень





Высшая оценка: 5 баллов (по 1 баллу за каждый правильный ответ).

Историческое краеведение


13. Рассмотрите контурную карту Ярославской области и выполните следующие задания.



- 1) Выделите и подпишите на карте те города Ярославской области, которые существовали в городском статусе в домонгольское время.
- 2) Рассмотрите изображения гербов городов Ярославской области. Каким из отмеченных городов они принадлежат (могут быть заполнены не все ячейки, не все гербы могут понадобиться).

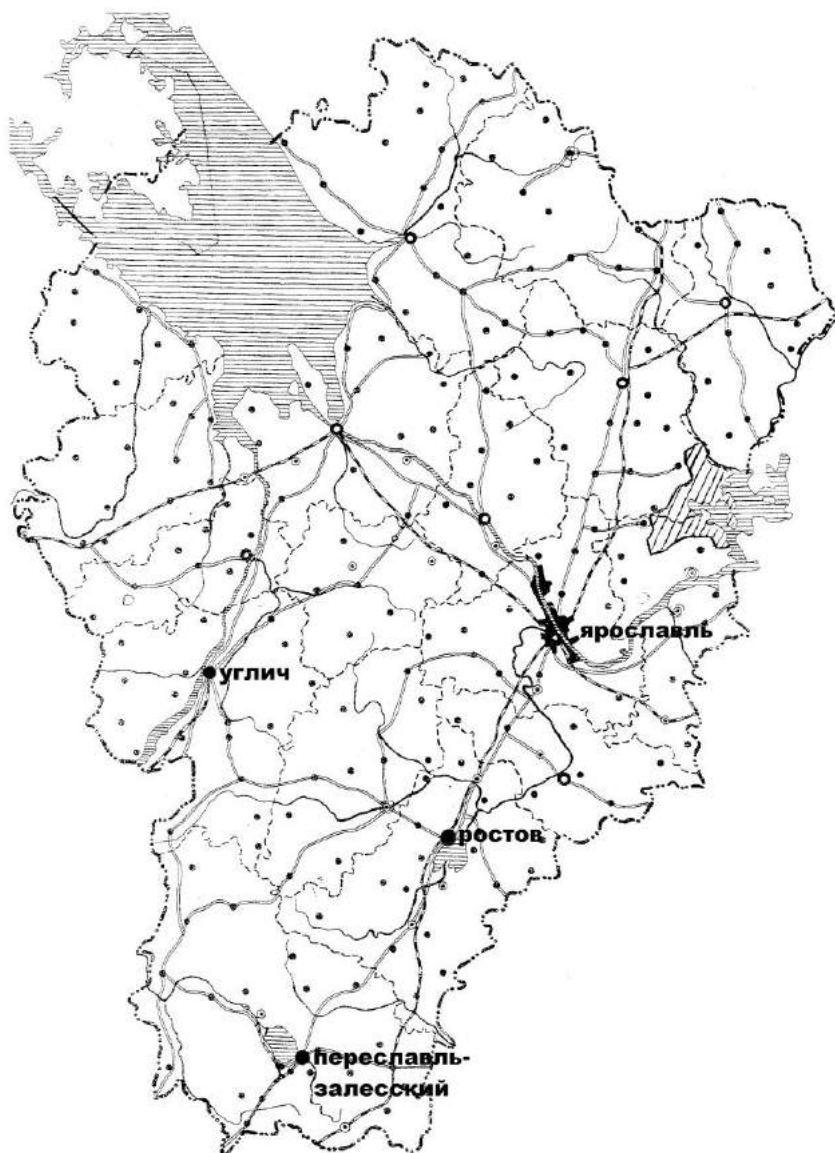
герб	город
	
	
	
	

3) Один из городов, появившихся еще в домонгольский период, не попал в таблицу с гербами. Какой это город? Схематично нарисуйте его герб.



Город _____


Ответ:



герб	город
	Ярославль
	

	Ростов
	Углич

**Нет герба Переславля Залесского.
Его герб:**



Высшая оценка: 9 баллов

*(в задании 1 – по 1 баллу за каждый правильно отмеченный и подписанный город;
в задании 2 – по 1 баллу за каждый из трех правильно подписанных городов у соответствующих гербов, если около герба Суздаля будет вписано название какого-то города – минус 1 балл;*

в задании 3 должны быть нарисованы две рыбы, плывущие в противоположные стороны, и написано «Переславль-Залесский» – за полностью правильно выполненное это задание – 2 балла).

Максимальное количество баллов за все задания олимпиады – 50 баллов.