

Муниципальный этап всероссийской олимпиады школьников
по истории
7 класс
ЗАДАНИЯ

Время выполнения заданий – 120 минут
Максимальный балл – 100 баллов

Задание 1. Выберите по одному верному ответу в каждом задании
[1 балл за каждый правильный ответ, максимальный балл – 4].

1.1. В каком году, согласно летоисчислению от сотворения мира, был издан документ, отрывок из которого дан ниже?

«Придоша Свѣи в силѣ велицѣ, и Мурмане, и Сумь, и гѣмь в кораблехъ множество много зѣло; Свѣи съ княземъ и съ пискупы своими; и сташа в Невѣ устье Ижеры, хотяче восприяти Ладогу, просто же реку и Новѣгородъ и всю область Новгородскую».

- | | |
|------------|------------|
| 1) 6370 г. | 3) 7005 г. |
| 2) 6748 г. | 4) 7055 г. |

1.2. Прочтите отрывок и укажите произведение, фрагментом которого он является: «Сойдемся, братья и друзья, сыновья русские, сложим слово к слову, возвеселим Русскую землю, отбросим печаль в восточные страны — в удел Симов, и восхвалим победу над поганым Мамаем, а великого князя Дмитрия Ивановича и брата его, князя Владимира Андреевича, прославим! И скажем так: лучше, братья, поведать не привычными словами о славных этих нынешних рассказах про поход великого князя Дмитрия Ивановича и брата его, князя Владимира Андреевича, потомков святого великого князя Владимира Киевского»

- 1) «Хождение игумена Даниила в Святые места»
- 2) «Хождение за три моря»
- 3) «Задонщина»
- 4) «Сказание Епифания мниха о пути в Иерусалим»

1.3. Одним из последствий распада Древнерусского государства является

- 1) пресечение династии Рюриковичей
- 2) развитие местного летописания
- 3) принятие христианства
- 4) поражение русских князей от печенегов

1.4. О каком королевиче идет речь в данном тексте?

«А мы бояре дали гетману запись... королевичу, коли придет в царствующий град Москву, венчать на государство царским венцом по прежнему чину. А будучи королевичу на Российском государстве, церкви Божий иконам и чудотворным мощам поклоняться и почитать, костелов и иных молебных в Московском государстве нигде не ставить...».

- 1) Сигизмунд III
- 2) Дмитрий Иванович

- 3) Владислав IV
- 4) Казимир IV

Ответ:

1.1.	1.2.	1.3.	1.4.

Задание 2. Выберите несколько верных ответов в каждом задании
[2 балла за каждый правильный ответ, максимальный балл – 8].

2.1. Выберите из предложенного перечня события, НЕ относящиеся к правлению Ивана Грозного:

- 1) присоединение Рязани к Москве
- 2) созыв Земского собора
- 3) создание «Стоглава»
- 4) учреждение патриаршества
- 5) присоединение Крымского ханства
- 6) создание стрелецкого войска

2.2. Какие из перечисленных деятелей были современниками Бориса Годунова?

- 1) Стефан Баторий
- 2) Карл I Великий
- 3) Аристотель Фиораванти
- 4) Александр Ягеллончик
- 5) Сигизмунд III Ваза
- 6) Питер Рубенс

2.3. Какие события связаны с борьбой против монгольской зависимости в XIV вв.?

- 1) битва на реке Калке
- 2) Куликовская битва
- 3) битва на р. Угре
- 4) битва на р. Воже
- 5) сражение на р. Пьяни
- 6) сражение на р. Сить

2.4. Какие из перечисленных понятий относятся к категориям привилегированного населения в Киевской Руси?

- | | |
|----------|------------|
| 1) закуп | 4) тиун |
| 2) муж | 5) отрок |
| 3) смерд | 6) рядович |

Ответ:

2.1.	2.2.	2.3.	2.4.

Задание 3. Определите и запишите принцип образования каждого логического ряда, найдите и выпишите лишний элемент в каждом ряду. [2 балла за каждый правильный элемент ответа, до 4 баллов за каждый логический ряд, максимальный балл – 16].

3.1. Пядь, аршин, верста, пищаль, сажень

Ответ:

–

3.2. А. Вяземский, В. Грязной, Ф. Колычев, М. Скуратов, П. Басманов

Ответ:

–

3.3. Паперть, струг, притвор, неф, алтарь

Ответ:

–

3.4. «Слово о полку Игореве», «Задонщина», «Хождение за три моря», «Устав Мономаха»

Ответ:

Задание 4. Восстановите правильную хронологическую последовательность событий. Ответ запишите в виде ряда цифр, отражающего последовательность событий [2 балла за каждую правильную хронологическую последовательность, максимальный балл – 4].

- 4.1.** А) гибель царевича Дмитрия в Угличе
 Б) поход Чингис-хана в Среднюю Азию
 В) образование Речи Посполитой
 Г) походы Олега в Византию
 Д) строительство Софийского собора в Новгороде
 Е) Тверское восстание

Ответ:

--	--	--	--	--	--

- 4.2.** А) Иван Калита
 Б) Василий Темный
 В) Даниил Московский
 Г) Иван Грозный
 Д) Симеон Гордый
 Е) Иван Красный

Ответ:

--	--	--	--	--	--

Задание 5. Соотнесите элементы правого и левого столбцов таблицы. Запишите в таблицу выбранные цифры под соответствующими буквами [1 балл за каждый правильный ответ, максимальный балл – 15].

5.1. Установите соответствие между историческим событием и датой. Обратите внимание, в правом столбце таблицы содержится лишний элемент [5 баллов].

Историческое событие	Дата
А) поход Олега Вещего на Киев	1) 1185 г.
Б) сражение на р. Альте	2) 1581 г.
В) смерть Лжедмитрия I	3) 1378 г.
Г) введение заповедных лет	4) 882 г.
Д) поход новгород-северского князя Игоря против половцев	5) 1068 г.
	6) 1606 г.

Ответ:

№	А	Б	В	Г	Д
5.1.					

5.2. Установите соответствие между историческими деятелями и происходившими при них событиями. Обратите внимание, в правом столбце таблицы содержится лишний элемент [5 баллов].

Событие	Деятель
А) Любечский съезд князей	1) А. Курбский
Б) венчание на царство	2) Александр Невский
В) Невская битва	3) Иван Грозный
Г) поход Тохтамыша	4) Дмитрий Донской
Д) бегство в Литву	5) Дмитрий Борецкий
	6) Владимир Мономах

Ответ:

№	А	Б	В	Г	Д
5.2.					

5.3. Установите соответствие между историческими деятелями отечественной истории и всемирной истории. Обратите внимание, в правом столбце таблицы содержится лишний элемент [5 баллов].

Деятели отечественной истории	Деятели всемирной истории
А) Ярослав Мудрый	1) Карл Великий
Б) Алексей Михайлович Романов	2) Оттон I
В) Дмитрий Донской	3) Вильгельм I Завоеватель
Г) Княгиня Ольга	4) Мартин Лютер
Д) Василий III	5) Кромвель
	6) Ф. Петрарка

Ответ:

№	А	Б	В	Г	Д
5.3.					

Задание 6. Прочтите отрывок из документа и ответьте на вопросы [максимальный балл – 6].

«Крестьянам разрешается переходить из волости в волость, из села в село лишь в течение одного срока в году: за неделю до осеннего Юрьева дня (26 ноября) и в течение недели после осеннего Юрьева дня. За пользование двором крестьяне платят в степной полосе рубль,

а в лесной — полтину. Если крестьянин проживет у господина год, то при уходе он платит четверть стоимости двора, если два года - половину стоимости двора, три года - три четверти, а за четыре года он уплачивает стоимость всего двора».

1. Напишите название данного документа, в котором содержится данная норма? [1 балл].

Ответ:

2. Укажите год, когда он был принят? [1 балл].

Ответ:

3. Как называлась описанная плата и кому она предназначалась? [1 балл].

Ответ:

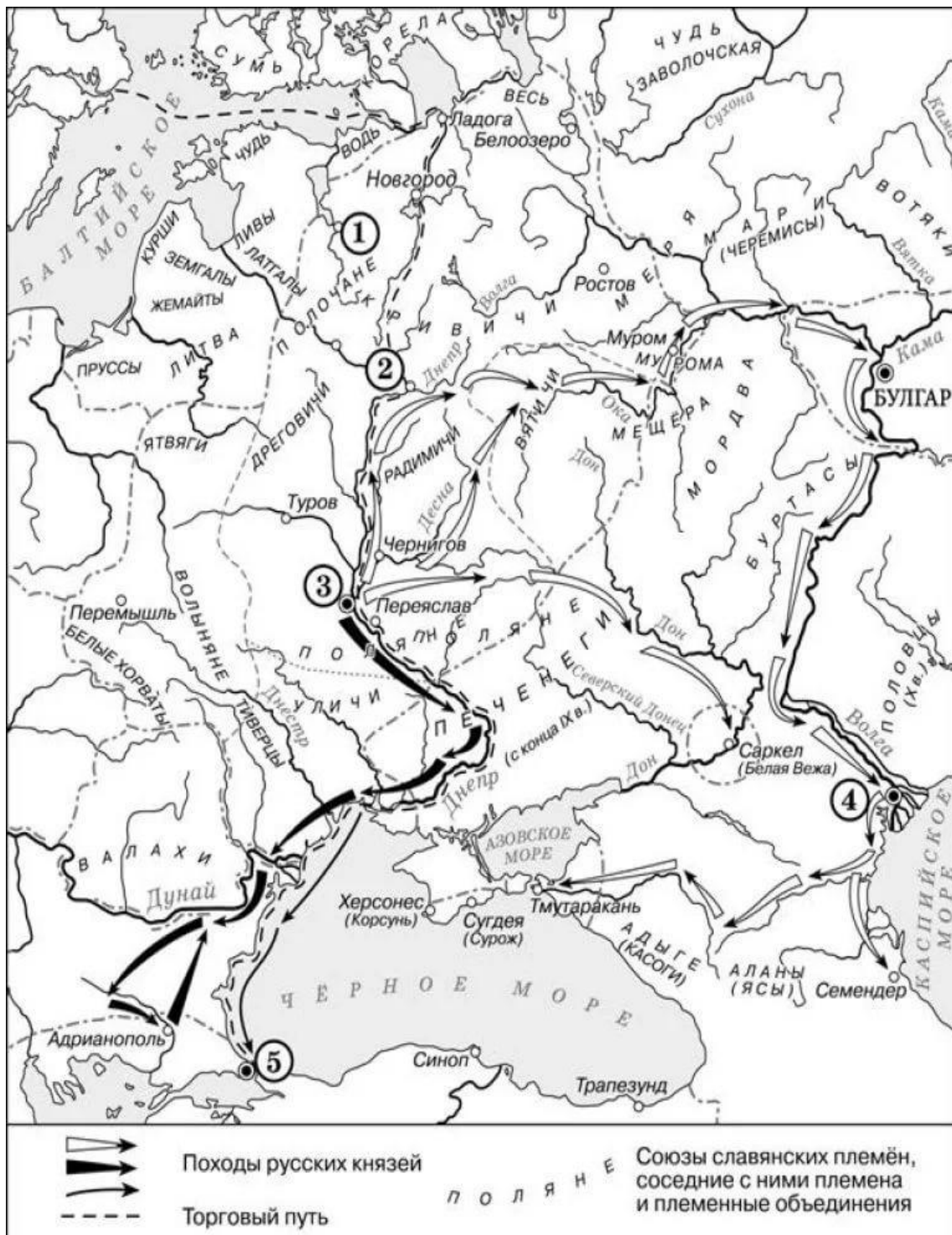
4. Начало какому процессу было положено этим документом? [1 балл].

Ответ:

5. Укажите название и дату принятия документов, в которых данная норма была подтверждена [2 балла].

Ответ:

Задание 7. Внимательно рассмотрите карту и ответьте на вопросы [1 балл за каждый из перечисленных элементов ответа, максимальный балл за все задание – 14].



1. Напишите название города, обозначенного на карте цифрой «2», и название реки, которая расположена рядом с ним [2 балла].

Ответ:

2. Какой город являлся центром полянской земли? Напишите название города и укажите цифру, которой он обозначен на карте [2 балла].

Ответ:

3. Назовите не менее двух славянских племен, получивших свое название от легендарных предков [2 балла].

Ответ:

4. Какой город обозначен по цифрой 5 и какое историческое событие 988 года в истории Руси было с ним связано? [2 балла].

Ответ:

5. Укажите название государства, на территории которого был построен город, обозначенный на карте цифрой 4 [2 балла].

Ответ:

6. Напишите название государств, через земли которых пролегли обозначенные стрелками походы Киевских князей? [2 балла].

Ответ:

7. Назовите три главных города на территории Древнерусского государства, через которые проходил торговый путь «из варяг в греки»? [1 балл].

Ответ:

8. Назовите город на карте, около которого построен и функционирует сегодня знаменитый Крымский мост? [1 балл].

Ответ:

Задание 8. Заполните пробелы в тексте. Ответ оформите в виде перечня элементов под соответствующими номерами [1 балл за каждый правильно заполненный пропуск, максимальный балл – 9].

Смертью царевича _____(1) в 1591 году, и царя _____(2) не оставившего после себя детей, пресеклась династия московских государей. _____(3) избрал на царство боярина _____(4), шурина покойного государя. Вскоре после этого

избрания начались смуты, которые постепенно развились в страшное потрясение государства, окончившееся только со вступлением на московский престол первого царя новой династии, Михаила, в _____ (5) году. Эти годы (1598—1613) известны в нашей истории как _____ (6) или эпоха самозванцев. Эти самозванцы большей частью выдавали себя за младшего сына _____ (7) царевича _____ (8), погибшего насильственной смертью, обстоятельства которой остались неразъясненными. Такое насильственное и таинственное пресечение династии и послужило первым поводом к смуте, которую поддержало сопровождавшее его появление самозванцев. Государство было спасено только при широком участии народа, который, образовав ополчение, в _____ (9) году изгнал интервентов из Москвы.

Ответ:

1. _____

2. _____

3. _____

4. _____

5. _____

6. _____


7. _____

8. _____


9. _____

Задание 9. Посмотрите на архитектурные сооружения и укажите: 1) название архитектурных сооружений [2 балла]; 2) время их создания (с точностью до половины столетия) [1 балл]; 3) имя князя, при котором они были построены [1 балл]; 4) место их


расположения [1 балл][до 6 баллов за ответ по одному архитектурному сооружению, максимальный балл за все задание – 20].



1.



2.



3.



4.

Ответ:

№	Название [2 балла]	Время создания [1 балл]	Имя князя [1 балл]	Место расположения [1 балл]
1				
2				
3				

4				
----------	--	--	--	--

Задание 10. Прочтите отрывок из монографии современных историков и выберите из предложенных вариантов ответов те, которые пропущены в тексте. Получившуюся последовательность цифр перенесите в бланк ответов [1 балл за каждый правильно заполненный пропуск, максимальный балл – 4].

«Сибирский губернатор князь М.П. Гагарин донес царю _____(А) про «городок калмыцкой Эркет, под которым на реке Дарье промышляют песошное золото»... Царь на доношении губернатора написал резолюцию об отправке туда экспедиции и о назначении руководителем этой военной экспедиции _____(Б)... Только в августе _____(В) года подполковник с небольшим отрядом отправился из Москвы в _____(Г).

- | | |
|-------------|------------------------|
| 1) 1715 г. | 5) Санкт-Петербург |
| 2) Петр I | 6) Михаил Романов |
| 3) 1617 г. | 7) И.Д. Бухгольц |
| 4) Тобольск | 8) М.В. Скопин-Шуйский |

Ответ:

А	Б	В	Г