

История, 8 класс, муниципальный этап

Время выполнения – 1,5 часа

Максимальное количество баллов – 50

Историческая хронология

- 1. Произведите хронологические расчеты. Найдите значение выражения, составленного из исторических дат.**

Соборное Уложение + отмена опричнины – Бахчисарайский договор России с Турцией + снятие войсками Скопина-Шуйского блокады Троице-Сергиева монастыря – свержение Василия Шуйского и переход власти к «семибоярщине» + Стоглавый собор – начало восстания Степана Разина + смерть Василия III – 1300 = X.

Назовите событие, которое произошло в год X.

Высшая оценка: 10 баллов

- 2. Установите правильное соответствие между элементами левого и правого столбцов. Полученные результаты запишите в таблицу.**

<i>События правления Елизаветы Петровны</i>	<i>Дата</i>
1. Взятие войсками Стефана Батория Великих Лук	А) 1589 г.
2. Поляновский мирный договор	Б) 1634 г.
3. Осада Пскова войсками Стефана Батория	В) 1578 г.
4. Деулинское перемирие	Г) 1581 г.
5. Учреждение в России патриаршества	Д) 1580 г.
	Е) 1618 г.

1	2	3	4	5

Высшая оценка: 5 баллов

- 3. Что из перечисленного не произошло в годы правления Федора Ивановича:**

- Плюсское перемирие со Швецией;
- строительство Тобольска;
- строительство каменного кремля в Смоленске;
- ликвидация Сибирского ханства после победы русских войск в Барабинской степи;
- Тявзинский мирный договор;
- гибель Ермака Тимофеевича.

Высшая оценка: 2 балла

Историческая личность

4. Определите, о ком писали историки:

А) «Был только испечен в польской печке, а заквашен в Москве». (В.О. Ключевский)

Б) «... сделал первую до Петра попытку ликвидировать культурную отсталость России от стран Западной Европы. Вероятно, если бы в распоряжении ... оказалось еще несколько спокойных лет, Россия более мирно, чем при Петре, и на сто лет раньше пошла бы по пути модернизации». (В.Б. Кобрин)

В) «Его главная роль одна: он был тихий, спокойный, милый. Хороший человек. Он соответствовал тому, как надо было представлять себе царя. Русский мужичек, добрый, славный, его папа был патриарх. Вот и хорошо, вот такой царь и был нужен тогда. Потом будут другие, которые будут проводить реформы». (И.В. Курукин)

Г) «Человек огромной воли и бурных страстей, ... поражал современников, причем не только подчиненных, но и врагов, боявшихся его как огня и серьезно веривших слухам о его колдовской, сверхъестественной силе. В обстановке первых успехов, когда целые отряды противника переходили на сторону ... без сопротивления, а пушкари и стрельцы палили [в его сторонников] холостыми зарядами или нарочно целились в небо, появились легенды: пушки-де в него не стреляли, пули его не брали». (В.И. Буганов)

Высшая оценка: 4 балла

5. Кому принадлежат эти фразы:

А) «Зачем, царь, воевод, дарованных тебе Богом для борьбы с врагами, различным казням предал»? _____

Б) «А жаловать своих холопов мы всегда были вольны, вольны были и казнить».

В) «Ничего не жалеть – дворы продавать, жен и детей закладывать».

Г) «Долго ли муки сея, протопоп, будет? – Марковна, до самая смерти!»

Высшая оценка: 4 балла

6. Определите, о ком идет речь?

Этот монарх воевал с Россией несколько раз, причем как правитель разных стран. В русско-шведской войне 1590 – 1595 – как король Швеции, а в начале XVII века – как король Речи Посполитой.



Высшая оценка: 1 балл

Работа с терминами

7. Дайте определение перечисленным ниже терминам или впишите термины, соответствующие определениям. Заполните пустые ячейки таблицы:

1.	Боярское правительство во главе с Ф. Мстиславским, управлявшее Россией после свержения В. Шуйского.
Даточные люди	2.
3.	Предприятие, основанное на разделении труда и ручной ремесленной технике.
Шляхтич	4.

5.	Зерновые культуры, засеваемые весной и собираемые осенью.
----	---

Высшая оценка: 5 баллов

История культуры

8. Этот удивительный деревянный дворцовый комплекс, к сожалению, не сохранился. Однако, сейчас он воссоздан по старым чертежам и является музеем. Ранее это была загородная резиденция монарха, но теперь эта территория вошла в состав города.

Ответьте на вопросы:

А) В каком городе находится дворец? _____

Б) Как он называется? _____

В) При каком правителе он был построен? _____

Высшая оценка: 3 балла

9. Что такое парсуна? (дайте определение).

Высшая оценка: 1 балл

10. Определите, о каком деятеле культуры идет речь:

В миру (до пострижения в монахи) его звали Самуил Гаврилович Петровский-Ситнианович. Белорус. Получил хорошее богословское образование и начал работать учителем. После переезда в Москву стал наставником царских детей. В 1678 организовал типографию, первой изданной книгой которой был «Букварь». В 1679 составил проект указа о создании Славяно-греко-латинской академии. Получил широкую известность как поэт, драматург, проповедник, публицист, педагог, переводчик.



Высшая оценка: 1 балл

Работа с источником

11. Прочтите выдержку из «Расспросных речей» (материалов следствия) и ответьте на вопросы:

1) Каким годом датируется документ?

2) О каком событии идет в нем речь?

3) Кто такая упоминаемая в документе «ворова жена»?

«119 году декабря в 14 день, приехали к Москве из Колуги выходцы Романовские татровя Чорныш Екбеев, Ян Гурчеев, а в роспросе сказали: тому ныне четвертой день, выезжал вор из Колуги, во вторник, декабря в 11 день, за острог, гулять на поле к речке Ячейке, а с ним ездили гулять русские люди да Юртовские тотаровя и того ж часу прибежали с поля, в острог, русские люди да Юртовские тотаровя, и учили говорить всем людем вслух: «вор де побежал», а иные говорили, что вора убил Юртовской тотарин. И на то смотря, зазвонили в сплошные колокола; а дворяня и дети боярские, и посадцкие и всякие люди, не поняв тому веры, ездили того воровского тела смотреть, а они Чорныш и Ян ездили с ними ж; и того вора видели они за речкою за Ячейкою, на горке, у креста, лежит убит, голова отсечена прочь, да по правой руке сечен саблею. И увидев казаки, что вор подлинно убит, прибежали в слободу, где стояли Юртовские тотаровя, и лутчих мурз, Алея мурзу Шейдякова, да Сопралея мурзу, да Кара богатыря и иных лутчих мурз казаки побили наголову многих, а дворы их розграбили. И на завтрее того, в среду ввечеру, хотел бежати из острогу Ивашко Зарутцкой, и его изымали миром, а из острогу не упустили. И они розсмотря того вора подлинно, побежали к Москве; а отъехав от Колуги верст с десять, слышали они, что в Колуге выстрелил из пушки одиножды, а тело ворово взяли, а где дели, того не ведают. А как вора убили, и князь Петр Урусов с татары из Колуги побежал вниз по Оке, а того не ведают, куды побежал; а в Колуге остались князь Григорей Шеховской и все лутчие воровские люди. И назавтрее того, после воровского убивства, в среду, говорил князь Григорей Шеховской миру, чтоб его отпустили из Колуги, с повинною к Москве, и ему не поверили; а кого с повинною хотят к Государю прислать, про то не слышали, а ворова жена при них была на воровском дворе, а где ныне, про то не ведают».

Высший балл: 3 балла

Историческое краеведение

12. Ростов Великий знаменит своей историей, а также Ростовским Кремлем. Сейчас здесь музей, а для чего изначально предназначались эти постройки? (выберите правильный ответ, отметив его в таблице):

<input type="checkbox"/>	средневековые городские укрепления;
<input type="checkbox"/>	главный храм города с подсобными постройками;
<input type="checkbox"/>	резиденция ростовского митрополита;
<input type="checkbox"/>	сразу возводился как музейный комплекс.

Высшая оценка: 1 балл

13. Перед Вами список некоторых городов Ярославской области. Напишите, какие из них в XVII веке уже имели городской статус:

Любим, Мышкин, Пошехонье, Данилов, Гаврилов-Ям.

Высшая оценка: 2 балла

14. В 1591 году в одном из городов нынешней Ярославской области произошло событие общероссийской важности. Вспомните, что Вы знаете об этом событии и ответьте на вопросы:

А) в каком городе это произошло _____

Б) что произошло _____

В) как звали царя, в период правления которого это произошло _____


Г) вызванное этим событием восстание было подавлено, участники наказаны. Было отправлено в ссылку и это, названное «первоссыльным неодошевленным». Что это?

Высшая оценка: 4 балла


15. В Ярославской области находится много храмов, построенных в XVII веке. Напишите, в каких городах расположен каждый из изображенных ниже храмов:




1)



2)



3)



4)

Высшая оценка: 4 балла