

Всероссийская олимпиада школьников по истории

Муниципальный этап

7-8 класс

120 мин.

- 1. В каком году, согласно летосчислению от сотворения мира, был издан документ, отрывок из которого дан ниже? [2 балла]**

Придоша иноплеменьници на Рускую землю, половци мнозѣ. Изяславъ же, и Святославъ и Всеволодъ изиидоша противу имъ на Лѣто. И бывши ноци, поидоша противу собѣ. Грѣхъ ради нашихъ попусти Богъ на ны поганья, и побѣгоша русьскыя князи, и побѣдиша половци.

- 2. Установите соответствие между присоединёнными территориями и правителями, при которых они вошли в состав государства. Запишите выбранные цифры под соответствующими буквами в таблицу в бланке работы [по 1 баллу за каждое совпадение, всего 4 балла].**

ТЕРРИТОРИЯ	ПРАВИТЕЛЬ
А) Галич, Углич, Белоозеро	1) Василий I
Б) Нижний Новгород, Муром	2) Даниил Московский
В) Переславль-Залесский, Коломна	3) Василий III
Г) Пермь Великая, Вятская земля	4) Иван III
	5) Иван I Калита

- 3. Прочитайте отрывок из исторического источника и ответьте на вопросы к нему.**

«...VIII. На вопрос, какой знак она дала своему королю в подтверждение того, что она пришла от бога, она ответила: «Я всегда вам отвечала, что вы не вырвете у меня этого признания. Идите узнавать у него самого».

На вопрос, клялась ли она не рассказывать о том, о чем у нее будут спрашивать и что касается процесса, она ответила: «Я уже прежде вам говорила, что не расскажу вам об имеющем отношении к нашему королю. И того, что касается нашего короля, я и теперь не открою вам».

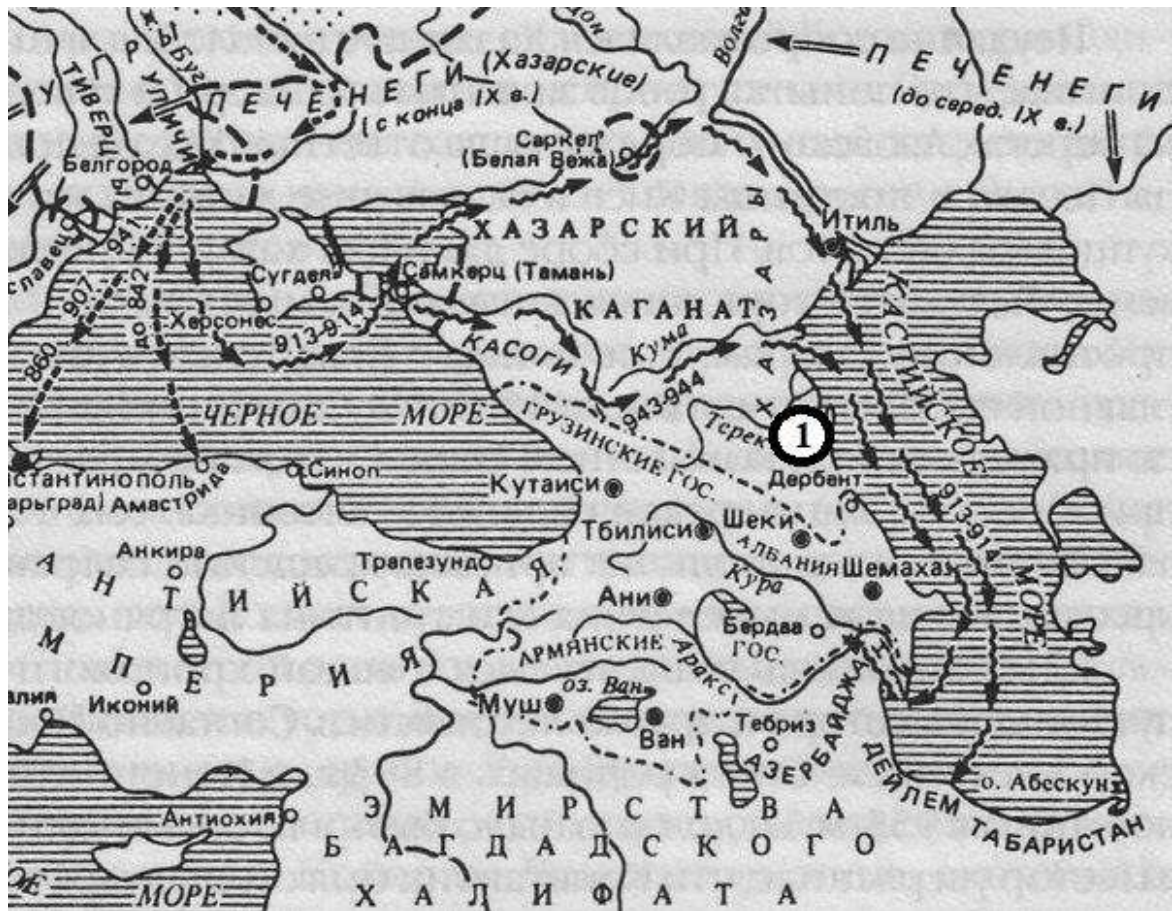
На вопрос, знает ли она сама тот знак, который дала своему королю, она ответила: «Вы не узнаете этого от меня». А затем, так как ей сказали, что это затрагивает процесс, она ответила: «То, что я обещала держать в полном секрете, я вам не открою». И далее сказала: «Я это обещала при таких обстоятельствах, что не могла бы вам сказать этого без клятвопреступления».

На вопрос, кому она это обещала, она ответила, что обещала св. Екатерине и св. Маргарите и это было указано королю. Далее сказала, что это она обещала двум упомянутым святым, хотя те от нее этого не требовали...»

- 3.1. О каком событии идёт речь в данном источнике? Назовите дату, когда произошло данное событие. Какой тип исторического источника перед Вами? [по 2 балла за каждый ответ, всего 6 баллов]**
- 3.2. Назовите короля, упомянутого в отрывке. Каким государством правил этот король? Какова степень участия короля в данных событиях? [по 2 балла за каждый ответ, всего 6 баллов]**
- 3.3. Какая война стала причиной, описываемых в историческом источнике событий? Назовите войну [2 балла], её хронологические рамки [2 балла] и основные государства, участвовавшие в ней [1 балл за каждую страну, максимально 7 баллов].**

3.4. Назовите ключевые сражения этой войны [1 балл за каждое сражение, максимально 4 балла].

4. Рассмотрите историческую карту и ответьте на вопросы к ней.



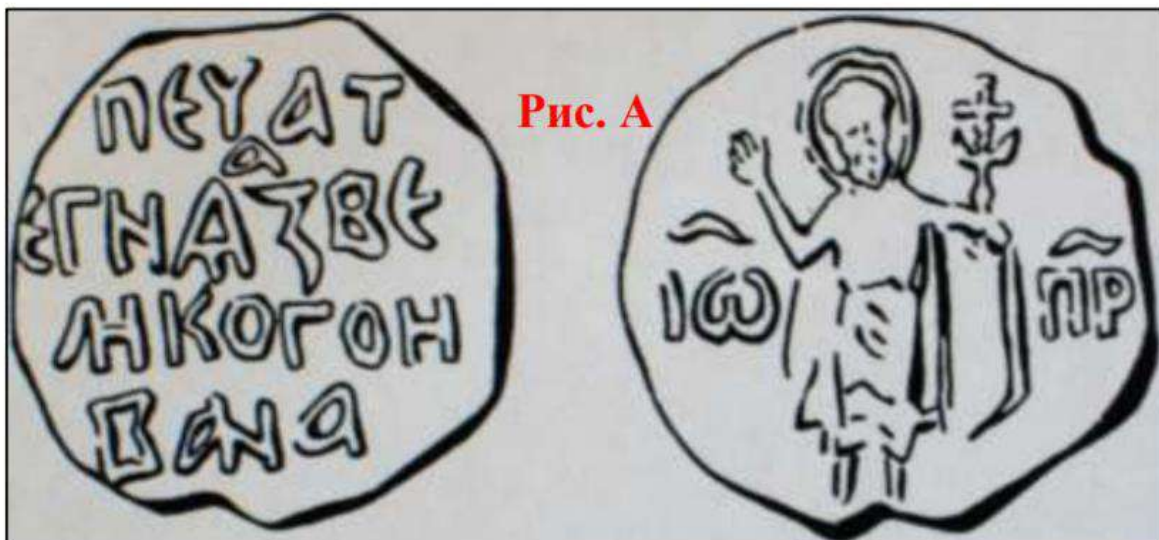
4.1. Дайте название данному историческому событию [2 балла].

4.2. Прочтите отрывок и напишите название города, обозначенного на схеме цифрой «1» и пропущенного в тексте [2 балла].

Князь повёл дружины по берегу Каспийского моря на юг, к старой столице Хазарского каганата – _____. Это был крупный город, в котором правил монарх, имевший своё войско. Поход на этот город был скоротечен.

Неприятельское войско было разгромлено и рассеяно по окрестным горам,
_____ заняли без боя.

- 4.3. Чем были продиктованы походы, изображённые на схеме [2 балла]?
- 4.4. Назовите племенной союз, обозначенный на карте, представители которого являлись предками современных адыгов [3 балла].
5. Существует вспомогательная историческая дисциплина, которую историки называют сфрагистика. Она изучает матрицы и печати, которые позволяют историкам установить хронологические рамки периода, подлинность источников, понять внутригосударственные и международные отношения.





Перед Вами печати известных московских князей, причём один из них приходится внуком другого. Попробуйте расшифровать записи и назвать данных правителей с хронологическими рамками их правления [по 2 балла за каждого князя, по 2 балла за правильные даты правления, всего 8 баллов].

6. По какому принципу образованы ряды? Дайте максимально точный ответ.

6.1. Вотчина, бенефиций, феодал, поместье, лен [4 балла]

6.2. Михаил Ярославич, Дмитрий Грозные Очи, Михаил Борисович, Иван Иванович Молодой [4 балла]

7. Перед вами шесть памятников русской архитектуры. Укажите их название, город и век, где и когда они были построены и правителя, при котором они появились [по 2 балла за правильные ответы, по 1 баллу за правильно заполненное поле таблицы – до 24 баллов]

Ответы внесите в таблицу.

Строительством одного из этих памятников руководил итальянский зодчий.

Укажите этот памятник и этого архитектора,


Ответ: _____ - буквенное обозначение памятника

Ответ: _____ - итальянский зодчий.

Для двух памятников Вы не сможете указать правителя-князя. Объясните, почему.

Ответ: _____.

А



Б



В



Г



Д

Е



Ответ

Буквенное обозначение памятника	Название памятника и город	Правитель	Век
А			
Б			
В			
Г			
Д			
Е			

8. Какие из представленных государств были созданы в результате Великого переселения народов IV-VI вв. н.э.? [по 2 балла за правильный ответ]

- 1) Бургундское королевство
- 2) Королевство Астурия
- 3) Королевство лангобардов
- 4) Королевство вестготов
- 5) Батавское королевство
- 6) Княжество Трансильвания

9. Прочитайте отрывок из работы историка В.О. Ключевского и ответьте на вопросы.

«...Изложенными в прошлый час экономическими последствиями расселения восточных славян по русской равнине были подготовлены и последствия политические, которые становятся заметны несколько позднее, с начала IX в. С этого времени хозарское владычество, казавшееся столь прочным дотоле, начало, видимо, колебаться. Причиной этого было то, что с востока, в тылу у хозар, появились новые орды печенегов и следовавших за ними узов-торков. Хозары с трудом сдерживали напор этих новых пришельцев. Чтобы сдержать этот напор, около 835 г. по просьбе хозарского кагана византийские инженеры построили где-то на Дону, вероятно, там, где Дон близко подходит к Волге, крепость _____, известную в нашей летописи под именем _____. Но этот оплот не сдержал азиатского напора. В первой половине IX в. варвары, очевидно, прорвались сквозь хозарские поселения на запад за Дон и засорили дотоле чистые степные дороги днепровских славян. Есть два указания на это, идущие с разных сторон...»

9.1. Напишите название пропущенного города [4 балла].

9.2. На территории какого объекта Ростовской области расположен этот город? [5 баллов]

9.3. Какую религию исповедовала знать Хазарского каганата? [3 баллов]