

**ВСЕРОССИЙСКАЯ ОЛИМПИАДА ШКОЛЬНИКОВ ПО ИСТОРИИ.
МУНИЦИПАЛЬНЫЙ ЭТАП. 8 КЛАСС.**

ЗАДАНИЕ 1. Установите правильную хронологическую последовательность событий всемирной и отечественной истории (1 балл за каждый правильный ответ, +2 балла если вся строка в таблице ответов заполнена правильно, максимально – **9 баллов**)

:

А. Столетняя война. **Б.** Нашествие Батыя на Русь. **В.** Первый крестовый поход **Г.** Война Алой и Белой розы. **Д.** Северная война **Е.** Тридцатилетняя война **Ж.** Воссоединение Украины с Россией.

Ответы:

1	2	3	4	5	6	7

ЗАДАНИЕ 2. Установите правильное соответствие между выдающимися событиями и деятелями мировой культуры. (1 балл за каждый правильный ответ, максимально – **5 баллов**)

1. Гелиоцентрическая система мира	А. Иоганн Гутенберг
2. Портрет Моны Лизы «Джоконда»	Б. Рафаэль Санти
3. Начало книгопечатания в Европе	В. Леонардо да Винчи
4. «Сикстинская мадонна»	Г. Томас Мор
5. Сочинение «Утопия»	Д. Николай Коперник
	Е. Иван Федоров

Ответы:

События мировой культуры	1.	2.	3.	4.	5.
Деятели мировой культуры					

ЗАДАНИЕ 3. Установите правильное соотношение между названиями и функциями коллегий Петра I. Ответе на вопрос в конце задания (1 балл за каждый правильный ответ, вопрос в конце задания – 2 б., максимально – **14 баллов**):

Наименование коллегий	Функции коллегий
1. Военная	А. Управление сухопутной армией
2. Адмиралтейская	Б. Управление флотом
3. Иностранных дел	В. Вопросы торговли

4. Берг	Г. Внешняя политика
5. Мануфактур	Д. Metallургия, военная промышленность
6. Комерц	Е. Легкая промышленность
7. Камер	Ж. Государственные расходы
8. Штатс-контор	З. Государственные доходы (налоги)
9. Ревизион	И. Управление городами
10. Юстиц	К. Контроль за финансами
11. Вотчинная	Л. Управление землями, решение земельных вопросов
12. Главный магистран	М. Судопроизводство

Ответы:

1	2	3	4	5	6	7	8	9	10	11	12

Какую функцию в эпоху создания петровских коллегий исполнял **Преображенский приказ**? 2 б

ЗАДАНИЕ 4. Установите правильное соответствие между событиями и российскими монархами в период правления которых произошли эти события. (1 балл за ответ, максимально – 5 б.).

События	Монархи
1. Создание полков нового строя	А. Алексей Михайлович
2. Отмена местничества	Б. Петр I
3. Отмена кормлений	В. Федор Алесеевич
4. Постройка первого военного корабля «Орел»	Г. Федор Иванович
5. Рекрутские наборы	Д. Иван Грозный
	Е. Михаил Федорович

Ответы:

1	2	3	4	5

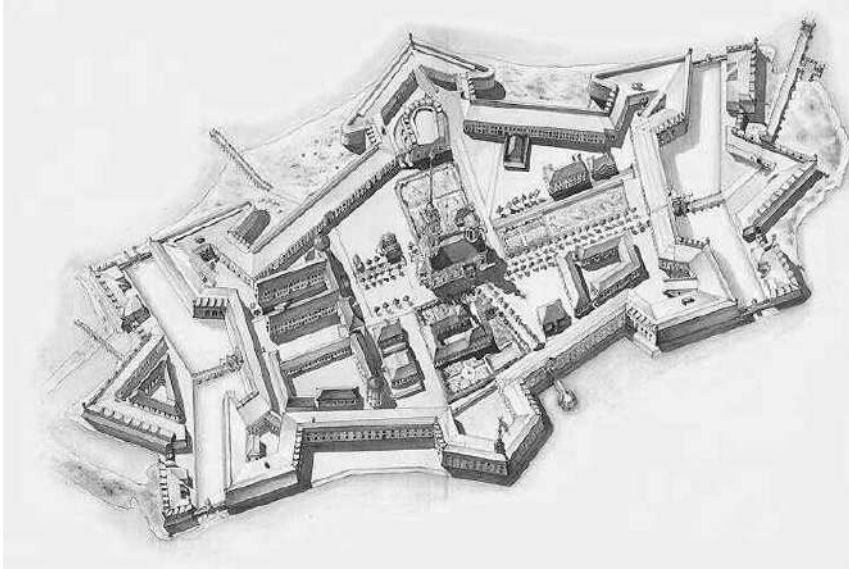
ЗАДАНИЕ 5. Перед вами две художественные картины, посвященные одному и тому же важному историческому событию. Ответьте на вопросы, представленные в таблице ниже. (1 балл за ответ, максимально – 5 б.).



Вопросы	Ответы
1. Князь изображенный на картинах	
2. Деятель православной церкви изображенный на картинах	
3. Какое важное событие последует за действием представленным на картинах?	
4. Укажите год, в котором произошло это важное событие.	
5. Какое историческое событие произошло еще через 100 лет?	

ЗАДАНИЕ 6. Ответе на вопросы связанные с представленной на иллюстрациях знаменитой российской крепостью (1 – 4 балла за каждый правильный ответ, максимально – 8 баллов):





6.1. Укажите название крепости. Когда была основана эта крепость (день, месяц, год)? 4б.

6.2. Дата закладки крепости является ... (продолжите фразу). 1 б

6.3. Выберите правильные фразы, характеризующую роль этой крепости в российской истории (в таблице правильную фразу отмечаем знаком «+») 3б.

Фразы	Правильно или Неправильно
1. <i>«Враги трижды штурмовали эту крепость, но не смогли ее взять»</i>	
2. <i>«Эта крепость не знала сражений – враги никогда ее не атаковали»</i>	
3. <i>«Эту крепость называли – Русская Бастилия»</i>	
4. <i>«В этой крепости находится усыпальница российских императоров»</i>	
5. <i>«Эту крепость Петр I строит в честь победы в Полтавском сражении»</i>	
6. <i>«Знаменитый собор в этой крепости построен в стиле наришкинское барокко»</i>	

ЗАДАНИЕ 7. Перед вами четыре юбилейные монеты, посвященные важным историческим событиям и личностям. Расположите монеты в хронологической последовательности, указав имя правителя России к эпохе которого относятся события и

личности отображенные на монетах (1 балл за каждый правильный ответ, +1 балл если последовательность соблюдена правильно - максимально 5 баллов).

А.



Б.



В.

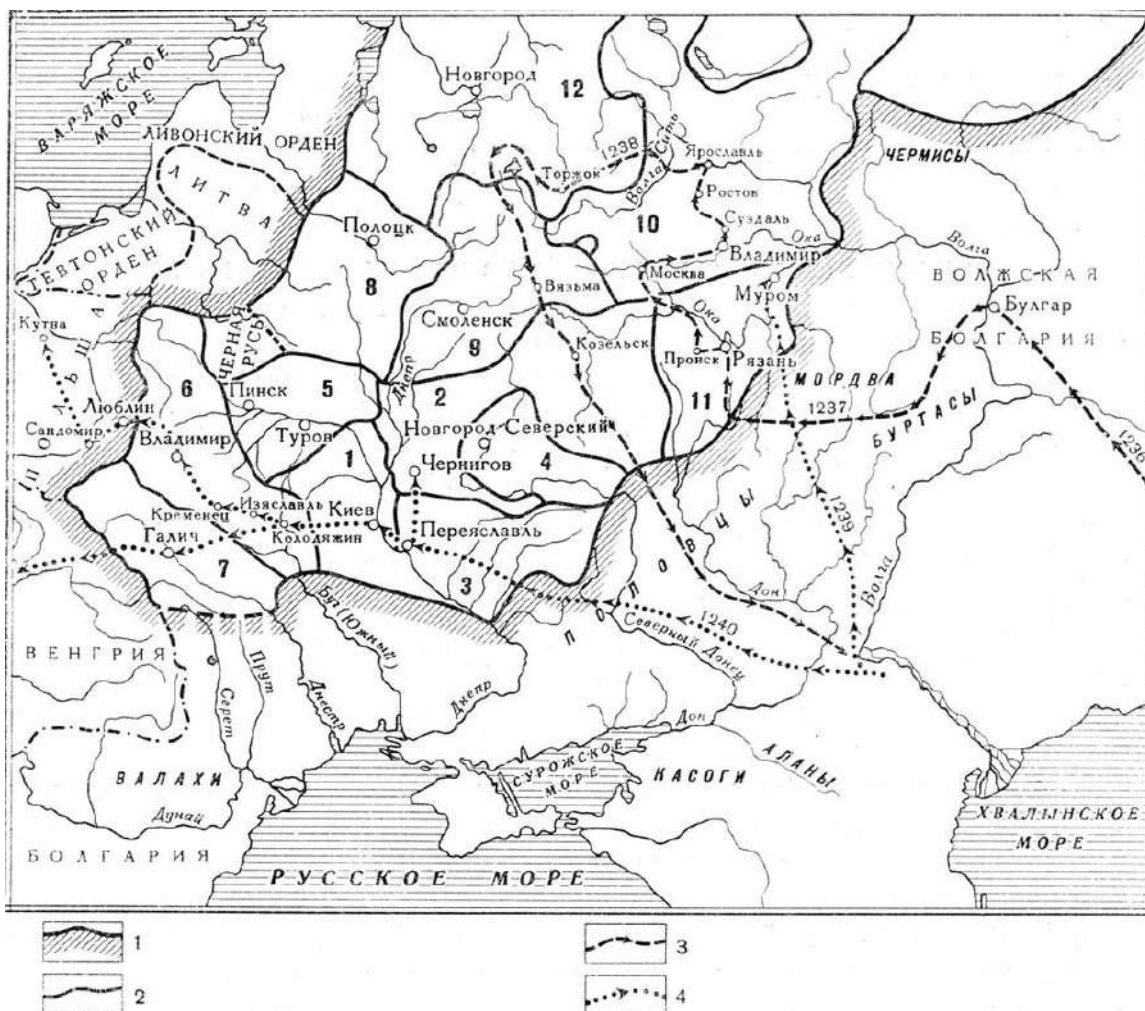


Г.



Хронологическая последовательность	Буквенное обозначение картины	Правитель России в эпоху, которой посвящена монета
1		
2		
3		

ЗАДАНИЕ 8. Используя две исторические карты, напишите ответы на вопросы (1 балл за каждый ответ, максимально – **11 баллов**). Ответы внесите в таблицу.



Вопросы	Ответы
8.1. Укажите цифру, обозначающее на карте княжество, в котором правил Андрей Боголюбский – 1б.	
8.2. Укажите цифру, обозначающее на карте княжество, откуда начался неудачный поход против половцев, воспетый в «Слове о полку Игореве» – 1б.	
8.3. Термин, обозначающий выборного главу древнерусской республики обозначенной на карте цифрой 12 – 1б.	

8.4. Название государства, которое создал полководец руководивший походами обозначенными в легенде карты цифрами 3 и 4 – 1б.	
8.5. Укажите цифру, обозначающее на карте княжество в военную историю которого вписан подвиг Евпатия Коловрата – 1б.	
8.6. Укажите цифру, обозначающее на карте княжество в котором была построена церковь Покрова на Нерли – 1б.	



Вопросы	Ответы
8.7. Укажите имя руководителя похода, который представлен на карте – 1б.	
8.8. Укажите фамилию купцов-солепромышленников, способствовавших организации этого похода – 1б.	
8.9. Как называются горы, обозначенные на карте цифрой I и которые преодолели участники похода – 1б.	

8.10. Название государства, которое было присоединено к России в результате данного похода – 1б.	
8.11. Термин, обозначающий натуральную дань мехами, которую русские власти собирали с племен населяющих территорию присоединенную в результате данного похода – 1б.	

ЗАДАНИЕ 9. Заполните пронумерованные пропуски в тексте, посвященном известной исторической личности. Вставляемые имена и годы занесите под соответствующими порядковыми номерами (**имена в именительном падеже**) в таблицу (1 – 2 балла за каждый правильный ответ, максимально – **14 баллов**).

«Патриарх (1) (в миру Никита Минич Минин) родился в мае 1605 г. в нижегородской крестьянской семье. В 12 лет будущий патриарх покинул отчий дом и после принятия пострига на Соловках, в 1643 г. стал игуменом в Кожеезерском монастыре. В 1646 г. за сбором милостыни приехал в Москву. Знакомство с молодым московским государем (2) стало ключевым событием в жизни Никона. Царь назначил его архимандритом Ново-Спасского монастыря в Москве, где была родовая усыпальница династии (3). В 1652 г. после смерти патриарха Иосифа царь предложил (1) стать патриархом. Желая показать степень своего доверия и уважения новому патриарху, царь фактически сделал его своим соправителем. Влияние патриарха на гражданские дела было велико: при его активном содействии в 1654 г. состоялось историческое воссоединение (4) с Россией. Он всячески поощрял церковное строительство. При нем строится Воскресенский монастырь под Москвой, именуемый (5). Начатая патриархом (1) в (6) г. церковная реформа, была направлена на (7) церковных обрядов. В качестве образца патриархом были выбраны не славянские (древнерусские), а (8) богослужебные книги. Изменился ряд важных для верующих церковных обрядов – например, вместо прежнего крещения двумя перстами введено крещение тремя перстами. Реформы вызвали массовое недовольства и породили (9) в русской православной церкви. Те, кто не принял новые реформы стали именоваться (10). Главным критиком и противником патриарха Никона стал протопоп (11). Патриарх (1) претендовал на первенство своей власти и в светской жизни страны, заявляя, что «священство выше царства». Это породило конфликт патриарха с царем. Церковный собор 1666 г. лишил Никона патриаршества и сослал его в отдаленный Ферапонтов монастырь».

№ пропуска	Вставка (в именительном падеже)
1 – Имя патриарха – 2б.	
2 – Имя и отчество русского царя – 2б.	
3 – Правящая в России династия – 1б.	
4 – Страна, воссоединившаяся с Россией – 1б.	
5 – Название монастыря – 1б.	

6 – Год начала церковной реформы – 1б	
6 – Главная цель церковной реформы – 1б.	
7 – Происхождение богослужебных книг (из какой страны) – 1б.	
8 – Главное негативное последствие церковной реформы – 1б.	
10 – Термин обозначающий противников церковной реформы – 1б.	
11 – имя церковного деятеля – 2б.	

ЗАДАНИЕ 10. Заполните пронумерованные пропуски в тексте, посвященном важному событию отечественной истории. Вставляемые имя, фразы и годы занесите под соответствующими порядковыми номерами (**имя в именительном падеже**) в таблицу (2 балл за каждый правильный ответ, максимально – **10 баллов**).

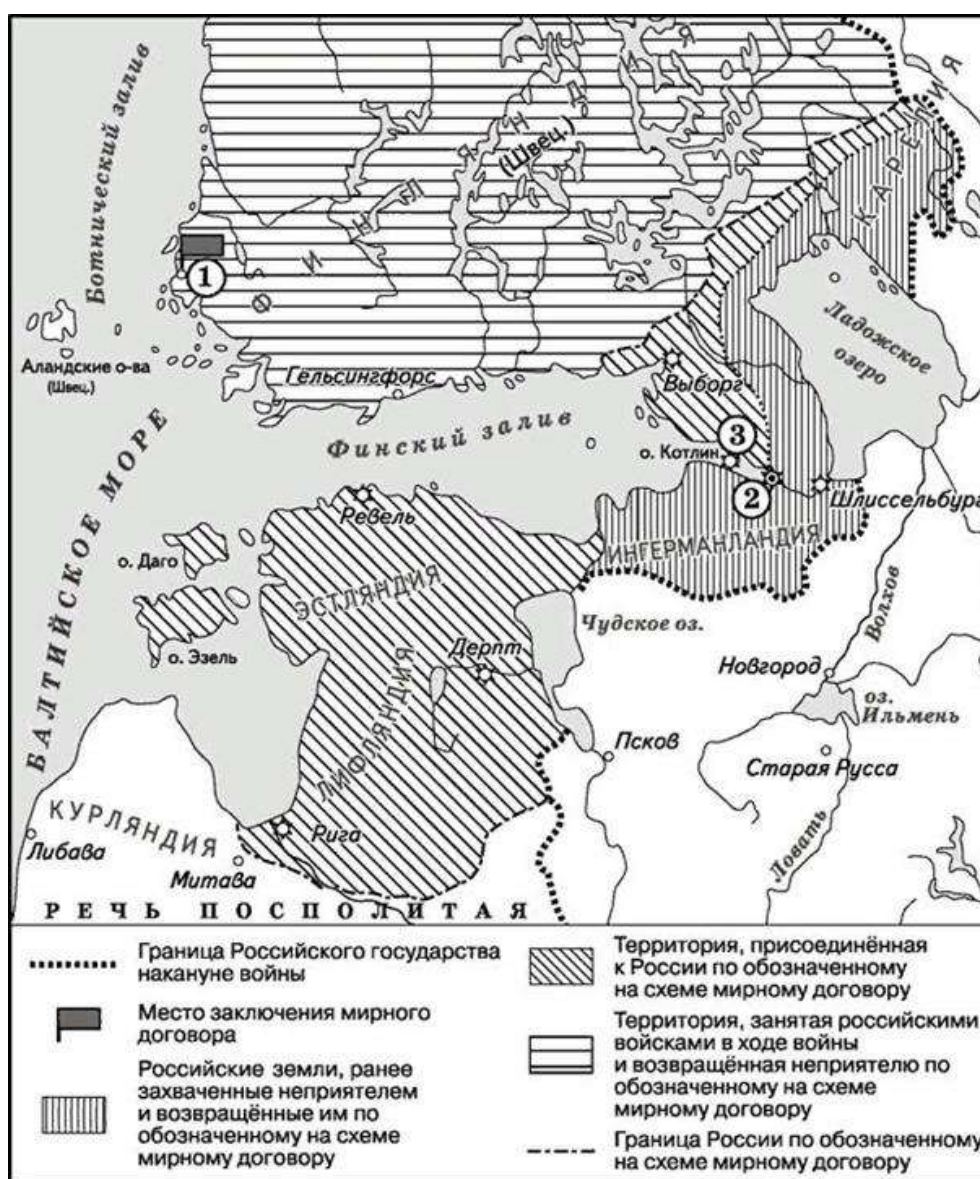
Указ (1)
«О праздновании Нового года»

«7208 году декабря в 20 день великий государь царь и великий князь (1), всея Великия и Малыя и Белья России указал сказать: Известно ему великому государю стало, не только что во многих европейских христианских странах, но и в народах словенских, которые с восточную православную нашу церковь во всем согласны... и все греки, от которых вера наша православная принята, все те народы согласно лета свои счисляют от (2), то есть, генваря с 1 числа, а не от (3), за многую рознь и считание в тех летах, и ныне от (2) доходит (4) год, а будущего генваря с 1 числа настает новый (5) год, купно и новый столетний век; и для того доброго и полезного дела указал впредь лета счислять в приказах, и во всяких делах и крепостях писать с нынешнего генваря с 1 числа (2) (5) года».

№ пропуска	Вставка (в именительном падеже)
1 – Имя правителя России – 2б.	
2 – Событие, от которого велось европейское летоисчисление – 2б.	
3 – Событие, от которого велось российское летоисчисление – 2б.	
4 – Год, который завершался по европейскому летоисчислению – 2б.	
5 – Новый год, который должен начаться по европейскому летоисчислению – 2б.	

ЗАДАНИЕ 11. На основе отрывка из мирного договора и исторической карты ответе на вопросы. (2, 4 балл за ответ, максимально – **14 б.**)

«Е.к.в. (*Его королевское величество*) швейское уступает сим за себя и своих потомков и наследников швейского престола и королевства Швейского е.ц.в. (*Его царскому величеству*) и его потомкам и наследникам Российского государства в совершенное непрекословное вечное владение и собственность в сей войне, чрез е.ц.в. оружия от короны швейской завоеванные провинции: Лифляндию, Эстляндию, Ингерманландию и часть Карелии с дистриктом Выборгского лена, который ниже сего в артикуле разграничения означен и описан, с городами и крепостями: Ригой, Дюнаминдом, Пернавой, Ревелем, Дерптом, Нарвой, Выборгом, Кексгольмом и всеми прочими к помянутым провинциям надлежащими городами ...»



Вопросы	Ответы
11.1. Укажите название города в котором	

был подписан мирный договор – указан на карте цифрой 1 – 2 б.	
11.2. Укажите год, когда был подписан этот мирный договор – 2 б.	
11.3. Укажите название города который указан на карте цифрой 2 – 2 б.	
11.4. Укажите название крепости указанной на карте цифрой 3 – 2 б.	
11.5. Какой титул принимает правитель России после подписания данного мирного договора? – 2 б.	
11.6. Какой юбилей связан с событиями, которым посвящено данное задание? – 4 б.	

ИТОГО – 11 заданий – 100 баллов.

ЖЕЛАЕМ УСПЕХА!