

Муниципальный этап

Всероссийской олимпиады школьников по истории 2022-2023 учебного года

Ответы и критерии. 7 класс

Максимальная оценка – 100 баллов

Время на подготовку – 2 академических часа (120 мин)

1	2	3	4	5	6	7	8	9	10	всего
9	10	6	8	12	10	8	20	7	10	100

Задание I. Выберите несколько верных ответов в каждом задании. Ответы запишите в приведенную ниже таблицу (по 1 баллу за каждый правильный ответ, максимальный балл – 9).

1.1. Укажите произведения культуры, которые были созданы в XI веке:

- 1) «Остромирово Евангелие»
- 2) Собор Парижской Богоматери
- 3) Собор Святой Софии в Новгороде
- 4) «Слово о Законе и Благодати»
- 5) Успенский собор во Владимире
- 6) «Повесть временных лет»

1.2. Выберите из предложенного перечня события, относящиеся к XIII в.:

- 1) Третий крестовый поход
- 2) битва на реке Воже
- 3) битва на реке Сити
- 4) начало Столетней войны
- 5) Грюнвальдская битва
- 6) начало созыва парламента в Англии

1.3. Укажите пары современников:

- 1) Анна Ярославна – Иоанн Безземельный
- 2) Андрей Боголюбский – Фридрих Барбаросса
- 3) Иван Калита- хан Узбек
- 4) Дмитрий Донской – Людовик XI Святой
- 5) Василий II – Фернан Магеллан

б) Иван III – Изабелла Кастильская

1.1	1.2	1.3
134	136	236

Задание II. Изучите представленные ряды, определите и напишите, по какому принципу выстроен каждый ряд (По 2 балла за каждый максимально правильный ответ.

Максимальный балл - 10)

2.1. Ответ: ереси

2.2. Ответ: части древнерусского города

2.3. Ответ: съезды русских князей

2.4. Ответ: участники Куликовской битвы

2.5. Ответ: элементы женской одежды на Руси

Задание III. Дайте краткое обоснование принципа составления рядов исторических событий, назовите один лишний элемент, свой выбор обоснуйте. (Максимум 2 балла за ряд. Лишний элемент - 1 балл, обоснование - 1 балл. Максимальный балл – 6)

3.1. Ответ: Ятвяги; остальные – восточнославянские племена.

3.2. Ответ: Джакомо Кваренги – итальянский архитектор, работавший в России в XVIII в- нач XIX.

3.3. Ответ: _огнищанин
Объяснение: остальные – категории зависимого населения\несвободного населения Древней Руси.

Задание IV. Установите соответствие между событиями отечественной истории и событиями зарубежной истории, произошедшими в том же веке. Запишите выбранные цифры под соответствующими буквами в таблицу в бланке работы (по 2 балла за правильный ответ, максимальный балл- 8)

	СОБЫТИЯ ОТЕЧЕСТВЕННОЙ ИСТОРИИ		СОБЫТИЯ ЗАРУБЕЖНОЙ ИСТОРИИ
А	Правление Юрия Долгорукого	1	Война Алой и Белой розы
Б	Основание крепости Юрьева	2	Второй крестовый поход
В	Второй поход Батые на Русь	3	Жакерия
Г	Строительство белокаменного Московского Кремля	4	Великая хартия вольности
		5	Взятие Иерусалима крестоносцами

Ответ:

А	Б	В	Г
2	5	4	3

Задание V. Перед вами фрагменты исторических источников и портреты монархов. Заполните таблицу. (4 балла за каждую полностью правильно заполненную строку, 1 ошибка – 3 балла, 2 ошибки – 2 балла, 3 ошибки – 1 балл, 4 ошибки – 0 баллов. Максимальный балл - 12 баллов)




Отрывки из исторических источников:

1. О переходе крестьян. Крестьянам разрешается переходить их волости в волость, из села в село лишь в течение одного срока в году: за неделю до осеннего Юрьева дня (26 ноября) и в течение недели после осеннего Юрьева дня. За пользование двором крестьяне платят в степной полосе рубль, а в лесной - полтину. Если крестьянин проживет у господина год, то при уходе он платит четверть стоимости двора, если два года - половину стоимости двора, три года - три четверти, а за четыре года он уплачивает стоимость всего двора.

2. Холопство полное — трех родов: первое, когда кто купит человека, хотя бы и за полгривны, и поставит свидетелей, а отдаст ногату при самом холопе. А второе холопство, когда кто женится на рабе без всякого условия, а если женится с условием, то он остается на тех правах, как было условлено. А вот третье холопство, когда кто без условия же пойдет в тиуны или в ключники; если же было заключено условие, то остается на тех правах, как было условлено.

3. Крестьянам разрешается переходить из волости в волость и из села в село раз в году: за неделю до и неделю после осеннего Юрьева дня. За дворы пожилое платить: в полевой местности за двор рубль и два алтына, в лесной местности, за десять верст до строевого леса, за двор полтина и два алтына. Владельцу земли за уход платить: за год стоимость четверти двора, за два года - полдвора, за три года - три четверти, за четыре года стоимость двора - рубль и два алтына. Пожилое взимать с ворот, а за отъезд брать со двора по два алтына; кроме этого никаких пошлин не брать. Если у крестьянина останется посеянный озимый хлеб, как только он его уберет, или не с убранного, должен заплатить с бороны два алтына. Если посеяна была рожь в его земле, он должен платить подать Царю и Великому Князю со ржи, а боярину, на чьей земле он жил не платить ничего. Священнику пожилого не платить. Если крестьянин продается кому-либо в полные холопы, он уходит в любое время и пожилого не платит; если же у него останется посеянный хлеб, он должен с него заплатить подать Царю и Великому Князю, а не будет платить подать, он лишается всего урожая.

Портреты монархов:

1	2	3
		

Ответ:

Номер отрывка	Номер изображения	Имя правителя	Название документа	Год принятия документа
1	3	Иван III	Судебник	1497

2	1	Владимир Мономах	Устав Владимира Мономаха	1113
3	2	Иван IV	Судебник	1550

Задание VI. Прочитайте отрывок из исторического документа и ответьте на вопросы (Максимальный балл – 10).

Все эти беды от поганых выпали роду христианскому за грехи наши. И так вскоре те злые взяли город Москву месяца августа в двадцать шестой день... Добро же и всякое имущество пограбили, и город подожгли – огню предали, а людей – мечу.

И до той поры, прежде, была Москва для всех градом великим, градом чудным, градом многоядным, в нем было множество народа, в нем было множество господ, в нем было множество всякого богатства. И в один час изменился облик его, когда был взят, и посечен, и пожжен. И не на что было смотреть, была разве только земля, и пыль, и прах, и пепел, и много трупов мертвых лежало, и святые церкви стояли разорены, словно осиротевшие, словно овдовевшие. Не только же одна Москва взята была, но и прочие города и земли пленены были. Князь же великий с княгиней и с детьми находился в Костроме, а брат его Владимир в Волоке, а мать Владимирова и княгиня его в Торжке, а Герасим, владыка коломенский, в Новгороде.

После того как царь разослал силы свои татарские по земле Русской завоевывать княжение великое, одни, направившие к Владимиру, многих людей посекали и в полон повели, а иные полки ходили к Звенигороду и к Юрьеву, а иные к Волоку и к Можайску, а другие – к Дмитрову, а иную рать слал царь на город Переяславль. И они его взяли, и огнем пожгли, а переяславцы выбежали из города; город покинув, на озере спаслись в судах. Татары же многие города захватили, и волости повоевали, и села пожгли, и монастыри пограбили, а христиан посекали, иных же в полон увели, и много зла Руси принесли. Царь же, идя в Орду от Рязани, отпустил посла своего, шурина Шихмата, к князю Дмитрию Суздальскому вместе с его сыном, с князем Семеном, а другого сына его, князя Василия, взял с собой в Орду.

Вопросы:

6.1. О каком событии повествует текст документа? Напишите название события и год (2 балла), в котором оно произошло (2 балла)

Название события - Нашествие хана Тохтамыша на Москву (2 балла)

Год - 1382 г. (2 балла)

6.2. Как звали великого князя, который в это время правил в Москве? (2 балла)

Дмитрий Иванович /Дмитрий Донской

6.3. Напишите причину события, описываемого в документе (2 балла)

Отказ Дмитрия Ивановича платить дань Золотой Орде

(могут быть даны иные формулировки)

6.4. Почему великий князь и москвичи не сумели дать достойный отпор врагу? (2 балла)

Слабость Московского княжества после Куликовской битвы

(могут быть даны иные формулировки)

Задание VII. Перед Вами изображения исторических событий, определите какое событие изображено и укажите его дату (с точностью до года). (По 1 баллу за каждое правильно названное и 1 балл за правильную дату максимальный балл – 8 баллов).

1 	2 
3 	4 

Ответ:

№	Событие	Дата
1	Ледовое побоище	(5 апреля) 1242 год
2	Куликовская битва	(8 сентября) 1380 год
3	Крещение Руси	988 год
4	Призвание варягов	862 год

Задание VIII. Рассмотрите изображения архитектурных сооружений и портреты русских правителей. (За задание 8.1. 3 балла за каждую правильно заполненную строку, 1 ошибка – 2 балла, 2 ошибки – 1 балл, 3 ошибки – 0 баллов. 2 балла за правильный ответ на задание 8.2. Максимальный балл- 20).

8.1. Заполните таблицу: укажите имя правителя, название архитектурных памятников, которые были заложены или построены во время их правления, город, в котором находится каждый представленный памятник архитектуры (Правители и города могут повторяться).

Правители

1	2	3
		
4	5	
		

Памятники архитектуры



Ответ:

8.1.

№ портрета правителя	Имя правителя	Памятник архитектуры (цифра)	Название	В каком городе находятся (название)
1	Андрей Боголюбский	5	Золотые ворота	Владимир
2	Всеволод Большое гнездо	1	Дмитриевский собор	Владимир
3	Ярослав Мудрый	3	Собор Святой Софии/ Софийский собор	Новгород
4	Иван Грозный/Иван IV	2	Собор Покрова на Рву/ Покровский собор/ собор Василия Блаженного/ Собор Покрова Пресвятой Богородицы	Москва
5	Иван III	4	Колокольня Ивана Великого	Москва
5	Иван III	6	Грановитая палата	Москва

8.2. Укажите цифру, под которой дано изображение памятника светской архитектуры, укажите век его постройки.

Цифра – 6 (1 балл)

Век – XV (1 балл)

Задание IX. Рассмотрите карту и решите задания. (Максимальный балл за задание- 7 баллов)



9.1. Укажите название битвы, обозначенной на схеме цифрой «1» (1 балл)

Ответ: Битва на Воже

9.2. Укажите название города, обозначенного на схеме цифрой «2» (1 балл)

Ответ: Нижний Новгород

9.3. Какие суждения, относящиеся к схеме, являются верными? Запишите цифры, под которыми они указаны. (5 баллов за полный ответ, 3 балла -1 ошибка, 2 балла – если 2 ошибки, 1 балл - если 3 ошибки, 4 ошибки - ноль баллов).

- 1) Цифрой «8» на схеме обозначен город – племенной центр кривичей
- 2) В походах русских войск, обозначенных на схеме стрелками, принимали участие стрелецкие полки.
- 3) На схеме обозначена и подписана река, по которой в древности проходил торговый путь,

- связывавший Русь со странами Арабского Востока и Персией.
- 4) Согласно «Повести временных лет», в городе, обозначенном на схеме цифрой «б» в 60-х гг. IX века княжил варяг Синеус.
 - 5) Цифрой «з» на схеме обозначен город, который в XIV века соперничал с Москвой в борьбе за роль центра объединения северо-восточных русских земель.
 - 6) Действиями литовских войск, поход которых обозначен на схеме стрелками, руководил князь Гедимин.
 - 7) На схеме обозначен и подписан город, где в конце XVII века был построен первый русский флот.
 - 8) К концу XIV века Вязьма входила в состав Великого княжества Литовского.

Ответ: 13458

Задание X. Определите пропущенные в тексте названия, слова, имена, даты, обозначенные порядковыми номерами. При необходимости при порядковых номерах даются пояснения о характере требуемой вставки. Необходимые вставки впишите под соответствующими номерами в таблицу в бланке работы (Максимальный балл-10)

Коронация Ивана IV в 1 (дата)_____ и потребность в укреплении государства обусловили необходимость глубоких государственных преобразований. Вскоре вокруг молодого царя образовалась группа приближенных к нему лиц, которую один из ее участников, князь 2 (фамилия)_____, впоследствии назвал 3_____.

Во главе этого кружка служилой знати и придворных встали дворянин из богатого, но незнатного рода 4(фамилия)_____ и протопоп Благовещенского собора Кремля 5(имя)_____. К ним примыкали знатные князья 2(фамилия)_____, Н. Одоевский, М. Воротынский и др. В состав 3_____ входил и первый начальник 6 (название приказа)_____ думный дьяк И.М. Висковатый. Активно поддерживал деятельность этого кружка митрополит 7_____.

Не являясь формально государственным учреждением, 3_____ была, по сути, правительством России и в течение 13 лет управляла государством от имени царя, последовательно осуществляя целую серию крупных реформ. По своему содержанию эти преобразования совпадали с требованиями обращенных к царю челобитных, которые были написаны в 1549 году талантливым публицистом дворянином 8 (фамилия)_____.

В русле централизации находился и новый Судебник, который был принят в 9 (год)_____. Он базировался на Судебнике 1497 года, но включал в себя более упорядоченные статьи о правилах перехода крестьян, ограничил права наместников, ужесточил наказания за разбой, вводил статьи о наказании за взяточничество. В Судебник были внесены изменения и дополнения, связанные с усилением центральной власти. Население должно было нести 10_____ – совокупность натуральных и денежных повинностей.

Ответ:

1	1547
2	Курбский
3	Избранная Рада
4	Адашев
5	Сильвестр

6	Посольский приказ
7	Макарий
8	Пересветов
9	1550
10	тягло