

**ВСЕРОССИЙСКАЯ ОЛИМПИАДА ШКОЛЬНИКОВ ПО ИСТОРИИ  
МУНИЦИПАЛЬНЫЙ ЭТАП  
2022–2023 УЧЕБНЫЙ ГОД**

**8 КЛАСС**

**БЛАНК ОТВЕТОВ**

**Задание 1. (3 балла)**

<b>Назовите имя и фамилию человека, о котором идёт речь в отрывке:</b>	Прокопий Ляпунов (2 балла за имя и фамилию, 1 балл, если верно указана только фамилия)
<b>Укажите век, о событиях которого идёт речь в отрывке:</b>	XVI (1 балл)

**Задание 2. (4 балла)**

**Ответ:** Б В Г Е

*По 1 баллу за каждый верный ответ.*

**Задание 3. (6 баллов)**

**Впишите в ячейки буквы, обозначающие народы:**

<b>Западные славяне</b>	<b>Южные славяне</b>	<b>Не славяне</b>
Е И М	А З К Л	Б В Г Д Ж

*Считаем количество верно распределённых букв. Ставим балл:*

*10-12 букв – 6 баллов;*

*8-9 букв – 5 баллов;*

*6-7 букв – 4 балла;*

*4-5 букв – 3 балла;*

*2-3 буквы – 2 балла;*

*1 буква – 1 балл.*

**Задание 4. (6 баллов)**




**Определите, какие утверждения из списка относятся к изображению № 1, какие – к изображению № 2, а какие – к обоим. Поставьте знак «+» в соответствующей ячейке.**

<b>Утверждение</b>	<b>№ 1</b>	<b>№ 2</b>	<b>Оба</b>
Разновидность графики, к которой относится изображение, – лубок			+
Подпись к изображению сделана кириллическими буквами			+
Изображённый персонаж – реальная историческая фигура		+	
Изображённый персонаж – если верить сохранившимся преданиям о нём, – бывал на территории современной России	+		

Изображённый персонаж – если верить сохранившимся преданиям о нём, – исповедовал христианство	+		
На коне, верхом на котором сидит изображённый персонаж, есть сбруя			+

По 1 баллу за каждый верный ответ.

**Задание 5. (14 баллов)**

Событие отечественной истории	Век (римскими или арабскими цифрами)	Литературное произведение (цифра)
	XV / 15	6
	XVII / 17	7
	XII / 12	2

	<p>XVI / 16</p>	<p>5</p>
	<p>XIV / 14</p>	<p>1</p>
	<p>XIII / 13</p>	<p>4</p>
	<p>XVIII / 18</p>	<p>3</p>

*Сначала считаем верно указанные века. По 1 баллу за каждый верно указанный век. Там, где век указан верно, смотрим верные соотношения с произведениями. За каждый правильный ответ ставим ещё 1 балл. Итого до 14 баллов.*

**Задание 6. (10 баллов)**

Имя женщины	Место рождения (буква)	Имя мужа
Sofija Vytautaitė	Е	Василий I
Maryna Mnischówna	Д	Лжедмитрий I (может быть зачтён и Лжедмитрий II)
Gytha of Wessex	Б	Владимир Мономах
Ingegerd Olofsdotter	Ж	Ярослав Мудрый
Zoή Παλαιολογίνα	Г	Иван III

По 1 баллу за каждую верно определённую точку на карте.

По 1 баллу за каждое верно указанное имя мужа.

**Задание 7. (8 баллов)**

Название дисциплины (заполните пропуски)	Изображение (цифра)
Ф И Л А Т Е Л И Я	1
Н У М И З М А Т И К А	2
Ф А Л Е Р И С Т И К А	3
Б О Н И С Т И К А	4

По 1 баллу за каждое полностью правильно восстановленное слово (без ошибок в пропусках). По 1 баллу за каждое верно соотносённое изображение (даже если название дисциплины заполнено с ошибками).

**Задание 8. (7 баллов)**

<b>1</b>	<b>3</b>	<b>5</b>	<b>7</b>													
М	А	Л	У	Ш	А	К	О	В	П	А	К	Т	О	М	С	К
<b>2</b>	<b>4</b>	<b>6</b>														

За каждый верный ответ, образованный из букв, – 1 балл.

**Задание 9. (13 баллов)**

Изображение	Название города (в годы Великой Отечественной войны)	Местоположение на карте (буква)
-------------	---	------------------------------------

1	Брест	А
2	Ленинград*	Б
3	Орёл	В
4	Краснодон	Г
5	Сталинград*	Д

За каждый верно определённый город – 1 балл. За каждую верно определённое местоположение на карте – 1 балл. Если верно определено только местоположение, а город указан неверно, балл за него **не выставляется**.

\* Засчитываются только эти варианты; названия Санкт-Петербург и Волгоград – не засчитываются.

Какой из этих городов не был удостоен почётного звания «Город-герой» (или «Крепость-герой»)?	Краснодон (1 балл)
Какой ещё город, кроме присутствующего в задании, носит звание «Город Первого салюта»?	Белгород (1 балл)
Какой из городов, присутствующих в задании, долгое время носил название Царицын?	Сталинград (1 балл)

#### Задание 10. (12 баллов)

Год гибели	Имя погибшего	Изображение (цифра)
945	Игорь Рюрикович (зачёт – Игорь Старый, князь Игорь и т. д.)	7
972	Святослав Храбрый (зачёт – Святослав Игоревич, князь Святослав и т. д.)	3
977	Глеб Святославич (зачёт – Глеб Древлянский)	6
980	Ярополк Святославич	1
1015	Глеб Владимирович (зачёт – Глеб Святой)	8
1318	Михаил Черниговский	4
1591	Дмитрий Угличский (зачёт – Дмитрий Иванович, царевич Дмитрий)	5
1606	Лжедмитрий I	2

Сначала считаем количество верно названных имён. За каждое из них ставим 1 балл. Далее считаем количество верно соотнесённых изображений. Считаем **только те изображения**, которые соотнесены с верно названными именами. Выставляем за них балл: 7-8 изображений – 4 балла, 5-6 – 3 балла, 3-4 – 2 балла, 1-2 – 1 балл.

**Задание 11. (7 баллов)**

<b>Название архива</b>	<b>Фонд (буква)</b>
Российский государственный архив военно-морского флота (РГАВМФ)	А
Российский государственный архив древних актов (РГАДА)	Е
Российский государственный архив литературы и искусства (РГАЛИ)	В
Российский государственный архив социально-политической истории (РГАСПИ)	Д
Российский государственный архив экономики (РГАЭ)	Б
Российский государственный военно-исторический архив (РГВИА)	Ж
Российский государственный исторический архив (РГИА)	Г

*По 1 баллу за каждое верное соотнесение.*

**Задание 12. (10 баллов)**

	<b>Принцип образования ряда:</b>	<b>Лишний элемент:</b>
<b>1</b>	Русские летописи	Ирбитская
<b>2</b>	Ханы Золотой Орды	Мамай
<b>3</b>	Краски	смальта
<b>4</b>	Женщины Петра I	Марина Мнишек
<b>5</b>	Места конференций «Большой тройки»	Нагасаки

*По 1 баллу за каждый верно выделенный принцип.*

*Там, где принцип выделен верно, смотрим, верно ли указан лишний элемент. За каждое такое верное указание ставим 1 балл. Если принцип выделен неверно, лишний элемент **не засчитываем**.*