

**Муниципальный этап всероссийской олимпиады школьников
по истории
2022-2023 учебный год**

7 класс

Максимальная оценка – 100 баллов

*1. Тестовые задания. Выберите по одному правильному ответу на каждый вопрос.
(Каждый правильный ответ – 1 балл, максимальный балл – 5).*

1.1. Какие народы были соседями восточных славян в IX в.?

- | | |
|------------------------------|-----------------------------|
| А. угро-финны, балты, тюрки | Б. китайцы, корейцы, японцы |
| В. кельты, римляне, германцы | Г. персы, арабы, армяне |

1.2. Одним из итогов княжения Владимира Мономаха было

- А. окончательная победа над печенегами
- Б. восстановление единства древнерусского государства
- В. перенесение столицы государства в Москву
- Г. введение патриаршества на Руси

1.3. Прочитайте отрывок из произведения древнерусской литературы и ответьте на вопрос. Как называется произведение древнерусской литературы, в котором содержались приведенные сведения?

«Также и эти славяне пришли и сели по Днепру и назвались полянами, а другие - древлянами, потому что сели лесах, а еще другие сели между Припятью и Двиною и назвались полочанами, по речке, впадающей в Двину, по имени Полота, от нее и получили название полочане. Те же славяне, которые сели около озера Ильмена, прозвались своим именем - славянами, и построили город, и назвали его Новгородом».

- | | |
|---------------------|----------------------------|
| А. «Апостол» | Б. «Поучение детям» |
| В. «Русская правда» | Г. «Повесть временных лет» |

1.4. Что с исторической точки зрения объединяет князей Александра Невского, Юрия Даниловича, Ивана Калиту, Симеона Гордого?

- А. Московские князья, боровшиеся с тверскими князьями, за ханские ярлыки на великое Владимирское княжение
- Б. московские князья начала – середины XIV века, обладавшие ярлыком на великое Владимирское княжение
- В. московские князья, воевавшие с Великим княжеством Литовским
- Г. московские князья, породнившиеся с ханами Золотой Орды

1.5. Прочтите отрывок из сочинения современных историков и укажите, о каком событии идет речь.

«Мстислав Удалой перешел реку, поднял в атаку половцев, дружину Данила Романовича и свою дружину. Говорят, даже не посчитал нужным сообщить, что идет в атаку, ни Мстиславу Черниговскому, ни Мстиславу Киевскому... Все русские дружины оказались между правыми и левыми крыльями монголо-татар, перед лицом железного строя главных сил... Удар был крепок. Половцы побежали. Данилова дружина была почти полностью уничтожена. Стиснутая с трех сторон, не могла отразить удара и дружина Мстислава Удалого».

- | | |
|----------------------|-------------------------|
| А. Невской битве | Б. битве на реке Калке |
| В. Куликовской битве | Г. битве на реке Шелони |

1.1	1.2	1.3	1.4	1.5

2. Тестовое задание. Выберите по **четыре** правильных ответа. (Каждый правильный ответ – 1 балл, максимальный балл – 16).

2.1. Какие перечисленных признаков характеризуют особенности устройства Новгородской земли в период с 1130-х по 1470-е гг.?

- А. власть князя передавалась по наследству, но была ограничена сильным боярством
- Б. верховной властью обладало вече
- В. вече являлось постоянно действующим органом и состояло из холопов
- Г. князь приглашался народным собранием
- Д. князь приводил дружину для защиты Новгорода и собирал дань
- Е. главой исполнительной власти был посадник
- Ж. князь являлся верховным земельным собственником

2.2. Какие из перечисленных ниже событий относятся к XIII в.?

- А. образование государства Золотая Орда
- Б. поход хана Едигея на Русь
- В. разгром немецких рыцарей на Чудском озере
- Г. Куликовская битва
- Д. битва на р. Сить
- Е. первое упоминание Москвы в летописях
- Ж. получение Ярославом Всеволодовичем ярлыка на великое княжение Владимирское

2.3. Кто из перечисленных деятелей культуры были иконописцами?

- А. Андрей Рублев
- Б. Епифаний Премудрый
- В. Феофан Грек
- Г. Вассиан Патрикеев
- Д. Пахомий Лагофет
- Е. Дионисий
- Ж. Даниил Черный

2.4. Какие из перечисленных названий денежных единиц имели хождение, могли быть использованы для оплаты товаров в Московском государстве в XV в.?

- А. алтын
- Б. денга
- В. сребренник
- Г. златник
- Д. полушка
- Е. сабленница
- Ж. рубль

2.1	2.2	2.3	2.4

3. Установите соответствие между элементами левого и правого столбиков. Каждому историческому событию и подберите дату. Одному элементу левого столбика соответствуют один элемент правого столбика. Два элемента лишние. (Каждый правильный ответ – 1 балла, максимальный балл – 6).

Историческое событие	Дата
1. призвание варягов	А. 1185 г.
2. восстание закупов в Киеве	Б. 1367 г.
3. смерть в Орде князя Юрия Даниловича	В. 862 г.
4. строительство белокаменного московского Кремля	Г. 1380 г.

5. поход новгород-северского князя Игоря против половцев	Д. 1113 г.
6. съезд князей в Любече	Е. 1325 г.
	Ж. 1097 г.
	З. 882 г.

1	2	3	4	5	6

4. Установите соответствие между характеристиками/описаниями, которые в исторических источниках были даны историческим событиям IX-XIV вв., и этими событиями. К каждому событию подберите соответствующее ему изображение, историческую личность - участника события и портрет / изображение этого человека (среди перечисленных исторических личностей два имени лишние).

Ответы впишите в таблицу в бланке работы. (Каждый правильный ответ – 1 балл, максимальный балл – 24).

Характеристики

1. «Был же тут с князем и брат его Андрей со множеством воинов отца своего; было у князя множество храбрых, сильных и крепких, все наполнились воинственным духом, и были у них сердца подобны львиным. И сказали: "Княже, ныне пришло время положить свои головы за тебя". Был же тогда день субботний, и на восходе солнца сошлись оба войска. И была здесь злая и великая сеча для немцев и чуди, и слышен был треск ломающихся копий и звук от ударов мечей, так что и лёд на замёрзшем озере подломился, и не видно было льда, потому что он покрылся кровью... И обратились немцы в бегство, и гнали их русские с боем, как по воздуху, и некуда им было убежать, били их 7 вёрст по льду до Суболицкого берега, и пало немцев 500, а чуди – бесчисленное множество, а в плен взяли 50 лучших немецких воевод и привели их в Новгород, а другие немцы утонули в озере, потому что была весна».

2. «... Русские же, посоветовавшись вышли против греков с оружием, и в жестоком сражении едва одолели греки. Русские же к вечеру возвратились к дружине своей и ночью, сев в ладьи, отплыли. Феофан же встретил их в ладьях с огнем и стал трубами пускать огонь на ладьи русских. И было видно страшное чудо, Русские же, увидев пламя, бросились в воду морскую, стремясь спастись, и так оставшиеся возвратились домой, И, придя в землю свою, поведали – каждый своим – о происшедшем и ладейном огне. “Будто молнию небесную, – говорили они, – имеют у себя греки и, пуская ее, пожгли нас; оттого и не одолели их”.

3. «И повелел своим воинам сделать колеса и поставить на колеса корабли. И с попутным ветром подняли они паруса и пошли по полю к городу. Греки же, увидев это, испугались и сказали через послов: «Не губи юрода, дадим тебе дани какой захочешь». И остановил (он) воинов, и вынесли ему пищу и вино, но не принял ею, гак. как было оно отравлено... И приказал дать дани на две тысячи кораблей: по двенадцати гривен на человека, а было в каждом корабле по сорок мужей».

4. «Князь же Олег Рязанский услышал, что князь великий соединился со многими силами и следует навстречу безбожному царю Мамаю да к тому же вооружен твердо своею верою, которую на бога-вседержителя, всевышнего творца, со всею надеждою возлагает. И начал остерегаться Олег Рязанский и с места на место переходить с единомышленниками своими, так говоря: “Вот если бы нам можно было послать весть об этой напасти к многоразумному Ольгерду Литовскому, узнать, что он об этом думает, да нельзя: перекрыли нам путь. Думал я по старинке, что не следует русским князьям на восточного царя подниматься, а теперь как все это понять? И откуда князю помощь такая пришла, что смог против нас трех подняться?”»

5. «...И стал воевать царь... окаянный... землю, и пошел ко граду... И осадил град, и бились пять дней неотступно... Войско переменалось, а горожане бесменно бились. И многих горожан убили, а иных ранили, а иные от великих трудов изнемогли. А в шестой день

спозаранку пошли поганые на город – одни с огнями, другие с пороками, а третьи с бесчисленными лестницами – и взяли град... месяца декабря в двадцать первый день...»

6. «Беззаконный же Шевкал, разоритель христианства, пошел на Русь со многими татарами, и пришел в Тверь, и выгнал великого князя с его двора, а сам поселился на великокняжеском дворе, исполненный гордости и ярости. И сотворил великое гонение на христиан – насилие, грабеж, избиение и поругание. Люди же городские, постоянно истребляемые нехристями, много раз жаловались великому князю, прося оборонить их. Он же, видя озлобление своих людей и не имея возможности их оборонить, велел им терпеть. Но тверичи не терпели, а ждали удобного времени. И случилось так, что 15 августа, ранним утром, когда собирается торг, некий диакон-тверянин, – прозвище ему Дудко – повел кобылицу, молодую и очень тучную, напоить водой в Волге. Татары же, увидев ее, отняли. Диакон же очень огорчился и стал вопить: “Люди тверские, не выдавайте!”»

7. «И послала ... к древлянам, и сказала им: “Если вправду меня просите, то пришлите лучших мужей, чтобы с великой честью пойти за вашего князя, иначе не пустят меня киевские люди”. Услышав об этом, древляне избрали лучших мужей, управлявших Деревскою землею, и прислали за ней. Когда же древляне пришли, ... приказала приготовить баню, говоря им так: “Вымывшись, придите ко мне”. И натопили баню, и вошли в нее древляне, и стали мыться; и заперли за ними баню, и повелела ... зажечь ее от дверей, и тут сгорели все»

8. «В 6682 году. Выломав дверь, заговорщики бросились на князя. Сильный <...> долго сопротивлялся. Наконец, израненный и окровавленный, он упал под ударами убийц. Злодеи подумали, что он мёртв, и ушли. Князь очнулся, спустился из своей спальни по лестнице и попытался скрыться за лестничным столбом. Его отыскивали по кровавому следу. Убийцы кинулись на него. <...> в конце молитвы произнёс: «Господи, в руки Твои предаю дух мой!» и скончался».

Исторические личности

Олег Вещий

Князь Игорь Старый

Княгиня Ольга

Ярослав Мудрый

Владимир Мономах

Андрей Боголюбский

Александр Невский

Хан Батый

Иван Калита

Дмитрий Донской

Портреты (изображения)

А



Б



В



Г



Д



Е



Ж




З



Миниатюры с изображениями событиями

I



II



III




IV



V



VI



VII




VIII



Историческое событие	Характеристика события	Историческая личность (портрет)	Изображение события
Поход на Константинополь			
Русско-византийская война 941-943 гг.			
Восстание древлян			
Заговор владимирских бояр			
Осада Рязани			
Битва на Чудском озере			
Антиордынское восстание в Твери			
Куликовская битва			

5. Рассмотрите картину и ответьте на вопросы. (По 2 балла за каждый правильный ответ, максимальный балл – 24).



5.1. Какое историческое событие изображено на картине? (*правильный ответ – 2 балла*) Когда произошло это событие (укажите с точностью до года)? (*правильный ответ – 2 балла, максимальный балл – 4*) _____

5.2. Назовите имя князя, изображенного на картине. (*правильный ответ – 2 балла*) Укажите годы его правления. (*правильный ответ – 2 балла, максимальный балл – 4*) _____

5.3 Назовите имя принцессы, которая стала женой князя, изображенного на картине. (*правильный ответ – 2 балла*) _____

5.4. Назовите мероприятия / политические действия (не менее четырех), которые осуществил князь, изображенный на картине. (*каждый правильный ответ – 2 балла, максимальный балл – 8*) _____

7. По какому принципу образованы ряды? Дайте краткое пояснение / конкретный ответ. Вычеркните лишний элемент в каждом ряду. (Каждый правильный ответ – 1 балла, максимальный балл – 10).

А. Пядь, аршин, верста, пищаль, сажень _____

Б. «Слово о полку Игореве», «Задонщина», «Хождение за три моря», «Устав Владимира Мономаха», «Слово о законе и благодати» _____

В. Дмитрий Боброк-Волынец, Владимир Андреевич Храбрый (Серпуховской), Дмитрий Иванович Донской, Иван Родионович Квашня, Ольгерд Литовский _____

Г. 1258 г., 1262 г., 1327 г., 1374 г., 1378г., 1380г. _____

Д. 1377, 1378, 1380, 1382, 1408, 1448 _____

8. Установите правильную хронологическую последовательность событий. (Каждый правильный ответ – 1 балл, максимальный балл – 5).

А. установление «уроков» и «погостов»

Б. разорение Москвы ханом Тохтамышем

В. образование Древнерусского государства

Г. битва на реке Сить

Д. разгром Хазарского каганата князем Святославом

1	2	3	4	5