

**Всероссийская олимпиада школьников по истории. 2022/23 уч. год.
Муниципальный этап. Ленинградская область. Задания. 7 класс**

Задание № 1. Кто или что лишнее в ряду?

По 1 баллу за каждый верный ответ; максимальный балл – 3 (ответы без пояснения не принимаются).




1.1. 1024, 1039, 1056, 1106, 1111, 1125.

1.2. Бонифаций Монферратский, Боэмунд Тарентский, Готфрид Бульонский, Раймунд Тулузский.

1.3. Венеция, Генуя, Милан, Пиза.

Задание № 2. Рассмотрите фотографии, представленные ниже, и ответьте на вопросы

Максимальный балл – 9.

I)	II)
	
III)	Вопросы
	<p>2.1. Идентифицируйте каждый из храмов на представленных фотографиях (по 1 баллу за каждый верно идентифицированный храм; в сумме – 3 балла).</p> <p>2.2. Укажите время создания этих храмов (с точностью до половины столетия) (1 балл).</p> <p>2.3. Назовите князей, в правление которых они были возведены (по 1 баллу за каждого верно названного князя; в сумме – 2 балла).</p> <p>2.4. Где располагаются храмы под № II и III (1 балл)?</p> <p>2.5. Вблизи какого населенного пункта находится храм под № I (1 балл)?</p> <p>2.6. В память о каком историческом событии, как считается, был выстроен храм под № I (1 балл)?</p>

Задание № 3. Восстановите хронологический порядок и определите его основу (принцип компоновки городов, представленных ниже)

До 8 баллов за полностью верный хронологический порядок, 1 балл за его верно определенную основу; максимальный балл – 9.

а) Галич	б) Киев	в) Козельск	г) Москва	д) Рязань	е) Суздаль	ж) Торжок	з) Чернигов.
----------	---------	-------------	-----------	-----------	------------	-----------	--------------

Задание № 4. Да или нет? Укажите верно или неверно каждое из утверждений, представленных ниже

По 1 баллу за каждый правильный ответ; максимальный балл – 9.

4.1. Инквизиция – особый церковный суд для наказания еретиков и отступников от веры, впервые учрежденный Римско-католической церковью в начале XIII в.

4.2. Битва при Леньяно завершилась поражением армии германского императора Фридриха I Барбароссы от войск северо-итальянских городов, объединенных в Ломбардскую лигу.

4.3. Правление Филиппа II Августа – эпоха крайнего ослабления власти короля Франции, полного торжества феодальной раздробленности.

4.4. В середине XII в. в Англии вспыхнул конфликт между королем Генрихом II Плантагенетом и архиепископом Кентерберийским Томасом Беккетом.

4.5. Захватив Константинополь, участники IV крестового похода отправились в Палестину, где сумели также отбить у мусульман Иерусалим.

4.6. Во второй четверти XIII в. германский император Фридрих II был дважды отлучен от церкви римскими папами.

4.7. «Великая хартия вольностей» – результат борьбы английских баронов с королем Ричардом Львиное Сердце, вынужденным пойти на большие уступки своим мятежным вассалам.

4.8. В правление короля Людовика IX Святого французские феодалы получили право чеканки монеты в своих владениях.

4.9. Битва при Лас-Навас-де-Толоса – одна из важнейших побед христианских государств Пиренейского полуострова в ходе Реконквисты.

Задание № 5. О ком и о чем идет речь? Ознакомьтесь с отрывком из произведения, представленным ниже, и ответьте на вопросы

Максимальный балл – 12.

Отрывок из произведения		Вопросы
<p>В нашем древнем Русском царстве, В древнем Русском государстве Жил царевич молодой, Был он с детства сиротой. Сиротою стал он рано, Был он внуком князь-Ивана, Сам Иваном назван был И на деда походил. За ребенка-государя Русью правили бояре, А меж ними с давних пор Были смуты да раздор. Каждый род тянулся к власти, Разорвать готов на части Всех бояр, соседей всех, Чтобы не было помех. А народу было худо: Враг грозился отовсюду, И татарин — сильный враг, И ливонец, и поляк.</p>	<p>Нынче царское венчанье Все увидят в первый раз. И на зрелище такое Валом повалил народ. Вот из царского покоя Царь с боярами идет. Он идет в большом уборе, Самоцветами горя. Будут в первый раз в соборе На престол венчать царя, <i>Чтоб он царствовал по праву, Не страшился ничего, Чтоб заморские державы Признавали власть его, Чтоб завистливым боярам Было не о чем тужить, Чтоб с царем врагам-татарам Было выгодней дружить, Чтобы польский, шведский, пруссский</i></p>	<p>5.1. Какому «Ивану-царевичу» посвящен представленный отрывок (1 балл) и внуком какого «князь-Ивана» он являлся (1 балл)? 5.2. Укажите временные рамки того, когда «за ребенка-государя / Русью правили бояре» (1 балл). 5.3. Перечислите не менее двух родов бояр, участвовавших в этом правлении (по 1 баллу за каждый верно перечисленный род; в сумме – 2 балла). 5.4. Напишите точную дату исторического события, о котором идет речь во второй части представленного</p>

<p>Нет в стране от них защиты, А боярин родовитый, Не жалея свой народ, Восемь шкур с него дерет. В смутах, спорах время длилось. А Иван-царевич вырос И к шестнадцати годам Стал страную править сам. *** Колокольным низким гудом Воздух утренний дрожит, И на площадь отовсюду Люд взволнованный бежит — Не на казнь, не на гулянье, Не на торг, не на указ:</p>	<p>И другие короли Уважали титул русский И царя большой земли. ... Царь поднялся на ступени, Опустился на колени. Перед ним митрополит В облачении стоит. Должен он, как самый главный, Возложить венец державный. Но в народе говорят — Был нарушен тот обряд: Царь Иван был нравом гордый, Взял венец рукою твердой, Помолился, поглядел И на голову надел.</p>	<p>отрывка (до 2 баллов), и поясните, в каком конкретном соборе оно происходило (1 балл). 5.5. Как по традиции называется «венец державный», упомянутый в представленном отрывке (1 балл)? 5.6. О каком митрополите идет речь в представленном отрывке (1 балл)? 5.7. Кратко прокомментируйте фразы, выделенные в тексте курсивом (до 2 баллов).</p>
---	---	--

Задание № 6. Заполните пропуски в тексте

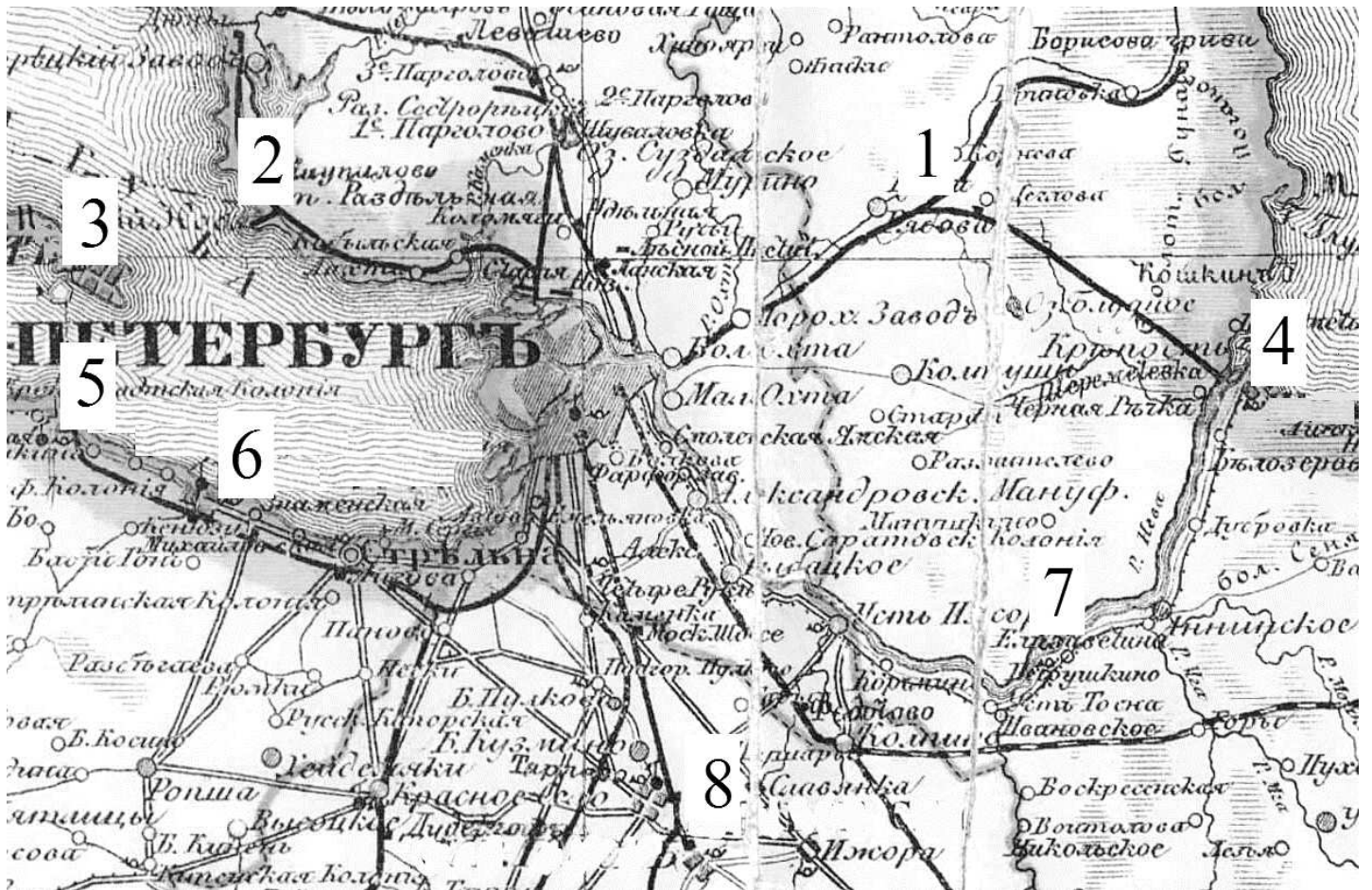
По 1 баллу за каждый верно заполненный пропуск; максимальный балл – 6.

Из сочинения Д.И. Иловайского

Второе самое замечательное событие княжения (6.1) _____ после покорения Новгорода, было свержение татарского ига. Золотая орда в то время находилась в совершенном упадке. От нее отделились два большие владения: на среднем течении Волги образовалось ханство (6.2) _____, а в степях приазовских и в Крыму ханство Крымское. Крымские ханы, из рода (6.3) _____, находились в смертельной вражде с ханами Сарайскими, т.е. владетелями Большой орды. Этой враждою очень искусно воспользовался (6.1) _____. Заключив союз с крымским ханом, он отказал в дани хану Сарайскому [по имени] (6.4) _____. Тот пошел на Москву, но на берегах [реки] (6.5) _____ многочисленное русское войско загородило ему дорогу. Однако (6.1) _____ был до того осторожен, что не решился перейти реку и сразиться с татарами. (6.4) _____ тоже боялся переправиться первый, и, постояв несколько времени друг против друга, оба войска [в (6.6) _____ г.] разошлись без битвы.

Задание № 7. Соотнесите описания населенных пунктов, представленные ниже, с их цифровыми обозначениями на карте. Назовите эти населенные пункты и ответьте на дополнительный вопрос (обратите внимание, что количество цифр на карте превышает количество описаний населенных пунктов)

По 1 баллу за каждое верное соотнесение, по 1 баллу за каждый верно названный населенный пункт, 1 балл за верный ответ на дополнительный вопрос; максимальный балл – 9.



Из сочинения «Россия в 1839 г.»

а) [...] — плоский остров посреди Финского залива; эта морская крепость поднимается над морем ровно настолько, насколько нужно, чтобы преградить путь вражеским кораблям, если они двинутся на Петербург. Ее темницы и башни расположены по большей части ниже уровня моря. [...] артиллерия размещена, по словам русских, с большим искусством; достаточно одного залпа, и все море окажется вспаханным снарядами; по приказу императора град ядер обрушится на всякого противника, который попытается приблизиться к [...], так что крепость эта слывет неприступной. Я, впрочем, не знаю, оба ли водных прохода вдоль острова окажутся при обороне под обстрелом; русские, у которых я пытался это выяснить, не пожелали удовлетворить мое любопытство.

б) Эта древняя шведская крепость, которую Петр I назвал ключом к Балтийскому морю, расположена как раз у истоков Невы, на одном из островов Ладожского озера, водоспуском которого, собственно говоря, и является река: она своего рода естественный канал, по нему воды озера перетекают в Финский залив. Но кроме того канал этот, Неву, питает обильный водный поток, который и считается единственным источником реки; в [...] видно, как ключ этот бьет под накрывающими его водами озера, прямо под стенами крепости, и озерные волны, стекая по водостоку, сразу мешаются с водами источника, вбирают их в себя и увлекают за собой; это одна из величайших природных достопримечательностей, какие есть в России; а здешний пейзаж, хоть и совсем плоский, как и вообще русские пейзажи, все же один из любопытнейших в окрестностях Петербурга.

в) Когда бы я не знал заранее, что дворец Петра III был разрушен, я мог бы об этом догадаться; видя, с каким рвением здесь стараются забыть прошлое, я удивляюсь другому: что-то от него все-таки остается. Вместе со стенами должны были исчезнуть и самые имена. Мало было разрушить крепость, следовало бы стереть с лица земли и дворец, расположенный всего в четверти лье отсюда; всякий, прибыв в [...], беспокойно ищет в нем следы той тюрьмы, где Петра III заставили подписать добровольное отречение от престола, ставшее его смертным приговором, ибо, единожды добившись от него этой жертвы, надобно было помешать ему передумать.

г) Представьте себе дворец, выстроенный на при родной террасе, которая по высоте может сойти за гору в стране беспредельных равнин, в стране столь плоской, что при подъеме на холм в шестьдесят футов высотой горизонт расширяется чуть ли не до бесконечности. У подножия этой внушительной террасы начинается прекрасный парк, доходящий до самого моря, где вытянулись в линию военные суда, иллюминированные в вечер праздника. Волшебное зрелище! Огни загораются, сверкают, растут, как пожар,

и наконец заливают все пространство от дворца до вод Финского залива. В парке становится светло, как днем. Деревья освещаются солнцами всех цветов радуги.

Дополнительный вопрос: укажите не только первоначальное, но и нынешнее название населенного пункта, описание которого помещено под № в).

Задание № 8. Сопоставьте прозвища и портреты, представленные ниже. Укажите годы правления русских князей, изображенных на портретах (обратите внимание, что одно прозвище – лишнее)

По 1 баллу за каждое верное сопоставление, по 1 баллу за каждые верно указанные годы правления; максимальный балл – 12.

а) Великий;	в) Донской;	д) Красный	ж) Темный.
б) Гордый;	г) Калита;	е) Невский;	



Задание № 9. Прочитайте отрывок из произведения, представленный ниже, и ответьте на вопросы

Максимальный балл – 6.

Отрывок из произведения	Вопросы
Дети мои или иной кто, слушая эту грамотку, не посмейтесь, но кому из детей моих она будет любя, пусть примет ее в сердце свое и не станет лениться, а будет трудиться <...>. Послушайте меня; если не	9.1. Назовите представленное произведение (1 балл), его автора (1 балл) и то, кем он являлся (1 балл).

все примете, то хоть половину <...>. А вот вам и основа всему: страх Божий имейте превыше всего <...>. Что умеете хорошего, то не забывайте, а чего не умеете, тому учитесь – как отец мой, дома сидя, знал пять языков, оттого и честь от других стран.

9.2. Напишите время создания представленного произведения (с точностью до десятилетия) (**1 балл**).

9.3. Укажите имя отца автора представленного произведения (**1 балл**), и поясните о какой «чести от других стран» идет речь (**1 балл**).

Задание № 10. Исторический кроссворд на знание терминов, имен и событий

По 1 баллу за каждое верно отгаданное слово; максимальный балл – 25.

Вопросы

По горизонтали

- 1) Город, политический центр восточнославянского племени древлян.
- 2) Византийская царевна, жена киевского князя Владимира Святославича.
- 3) Византийский император, устроитель приема киевской княгини Ольги в 957 г.
- 5) Фиксированный размер дани (налога) на Руси с середины X в., собиравшейся с определенной территории.
- 9) Низшая административно-территориальная единица на Руси, начиная с середины X в.; место сбора дани.
- 11) Король Польши, тесть и военный покровитель киевского князя Святополка Окаянного.
- 12) Ростовский князь, один из сыновей Владимира Святого, жертва Святополка Окаянного.
- 15) Киевский князь, один из организаторов похода Руси на Константинополь в 860 г.
- 16) Знатный варяжский военачальник, сподвижник киевских князей Игоря и Святослава, командующий карательным походом против древлян в правление княгини Ольги.
- 18) Город на Нижней Волге, столица Хазарии.
- 20) Город в Верховьях Волхова, один из древнейших политических центров Руси.
- 22) Способ сбора дани на Руси в IX – XII вв., подразумевавший личный объезд князьями вверенного им населения.

По вертикали

- 3) Печенежский хан, организатор убийства киевского князя Святослава Игоревича.
- 4) Правый приток реки Трубеж, на берегах которого в 1019 г. произошло решающее сражение между Святополком Окаянным и Ярославом Мудрым.
- 6) Село под Киевом, любимая летняя резиденция киевского князя Владимира Святославича и место его смерти.
- 7) Военный и торговый форпост Руси в Приазовье в X – XII вв., центр владений князя Мстислава Владимировича – брата, соперника, а затем фактического соправителя Ярослава Мудрого.
- 8) Старший сын и преемник киевского князя Святослава Игоревича, жертва междоусобицы со своим братом Владимиром Святым.
- 10) Крепость на Нижнем Дунае, последний оплот киевского князя Святослава Игоревича в его походе в Болгарию.
- 13) Древнерусское наименование византийского города Херсонес.
- 14) Древнерусское название столицы Византии.
- 16) «Премудрость Божия», в честь которой освящен кафедральный собор в Киеве.
- 17) Прозвище византийского императора Иоанна I – главного противника киевского князя Святослава Игоревича в его войне за Болгарию.
- 19) Древлянский князь, вдохновитель убийства киевского князя Игоря.
- 21) Столица Ярослава Мудрого в период междоусобицы 1015-1019 гг.
- 22) Город в бассейне реки Трубеж, основанный в 992 г. Владимиром Святым на месте победного для Руси сражения с печенегами.

Максимальный балл по сумме десяти заданий – 100.