

**ВСЕРОССИЙСКАЯ ОЛИМПИАДА ШКОЛЬНИКОВ ПО ИСТОРИИ
МУНИЦИПАЛЬНЫЙ ЭТАП
2022–2023 УЧЕБНЫЙ ГОД**

7 КЛАСС

Задание 1. (2 балла)

Прочитайте отрывок из труда историка С. Ф. Платонова и ответьте на вопросы к нему.

«Именно этому князю приписывается та важная заслуга, что он исхлопотал себе разрешение доставлять «выход» в Орду своими средствами, без участия татарских сборщиков дани. Таким образом был уничтожен главный повод для въезда татар в Русские земли и было достигнуто внутреннее спокойствие и безопасность на Руси».

Задание 2. (4 балла)

Выберите из списка городов Московской области четыре города, которые уже существовали в XVII веке.

- А. Балашиха
- Б. Волоколамск
- В. Дмитров
- Г. Коломна

- Д. Краснознаменск
- Е. Можайск
- Ж. Талдом
- З. Электроугли

Задание 3. (6 баллов)

Перед Вами перечень современных европейских народов. Распределите эти народы по трём группам – 1) западные славяне 2) южные славяне и 3) не славяне. Количество народов в каждой группе может быть любым.

- А. болгары
- Б. венгры
- В. греки

- Г. латыши
- Д. литовцы
- Е. поляки

- Ж. румыны
- З. сербы
- И. словаки

- К. словенцы
- Л. хорваты
- М. чехи

Задание 4. (10 баллов)

Перед Вами изображения, созданные в России в XVII–XVIII веках. Определите, какие факты из перечня (см. бланк ответов) относятся к тому или иному изображению.



ВЫБЖАЕТЪ СИЛЬНЫЙ ХРАБРЫЙ БОГАТЫРЬ ИЛЪЯ МУРОМЕЦЪ

1



2

Задание 5. (10 баллов)

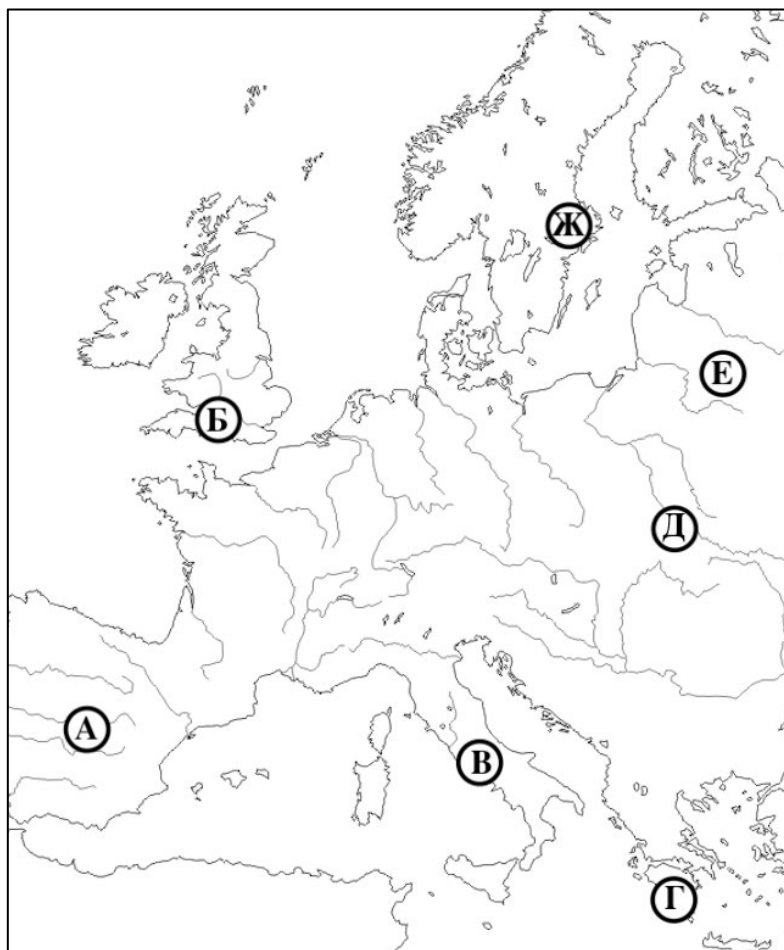
Перед Вами перечни знаменитых произведений зарубежной литературы. В таблице ответа приведены изображения, запечатлевшие знаковые события отечественной истории XII–XVI веков. Соотнесите с каждым изображением литературное произведение, вышедшее в том же веке, к которому относится запечатлённое событие (века не повторяются). При этом укажите сам век.

1. «Божественная комедия» Данте Алигьери
2. «История моих бедствий» Пьера Абеляра
3. «Путешествия Марко Поло» Рустикелло из Пизы
4. «Ромео и Джульетта» Уильяма Шекспира
5. «Смерть Артура» Томаса Мэлори

Задание 6. (12 баллов)

Перед Вами имена женщин, оставивших заметный след в отечественной истории. Имена приведены на современных языках стран, откуда родом были их носительницы. Выберите на карте место рождения каждой из женщин. Обратите внимание, что на карте есть лишние точки. Укажите имя мужа каждой женщины.

- Sofija Vytautaitė
- Gytha of Wessex
- Ingegerd Olofsdotter
- Ζωή Παλαιολογίνα



Задание 7. (8 баллов)

Истории как науке сопутствует целый ряд вспомогательных исторических дисциплин. Ниже даны изображения предметов, изучаемых такими дисциплинами. В таблице ответа заполните пропуски в названиях дисциплин и соотнесите их с соответствующими изображениями.



1



2



3



4


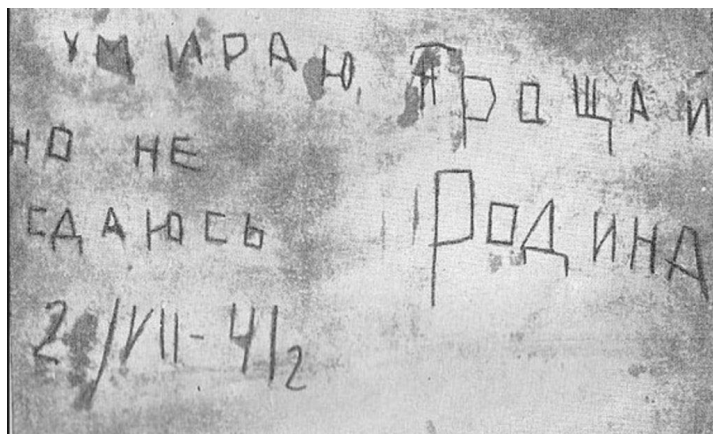
Задание 8. (9 баллов)

Перед Вами линейный кроссворд, в котором зашифрованы семь слов. Впишите эти слова в поле ответа, используя подсказки из приведённого ниже списка.

1. Политическое собрание представителей свободных семей средневекового Новгорода;
2. В годы Великой Отечественной войны была очень популярна песня « ... на рейде», написанная в Ленинграде незадолго до начала блокады;
3. Длинная верхняя монашеская одежда с широкими рукавами;
4. Натуральная податъ, которой облагались народы Поволжья, Урала, а затем Сибири;
5. Другое название кремля во Пскове;
6. Имя князя, объединившего Галицкое и Волынское княжества;
7. Имя дочери киевского князя, которая стала супругой короля Франции;
8. По приговору военной коллегии Верховного суда СССР генерал Власов был лишён всех ... и званий;
9. Легендарный ... Китеж, по преданию, находился на берегу озера Светлояр.

Задание 9. (12 баллов)

Перед Вами карта с отмеченными на ней городами, а также пять изображений, объединённых темой Великой Отечественной войны в судьбе разных городов Советского Союза. Укажите, с каким городом связано каждое изображение, и соотнесите название города с его местонахождением на карте. Обратите внимание – в таблице ответа можно указать и старые, и современные названия городов. Ответьте на три дополнительных вопроса о некоторых городах в задании. Ответьте на два дополнительных вопроса о некоторых городах в задании.



1



3

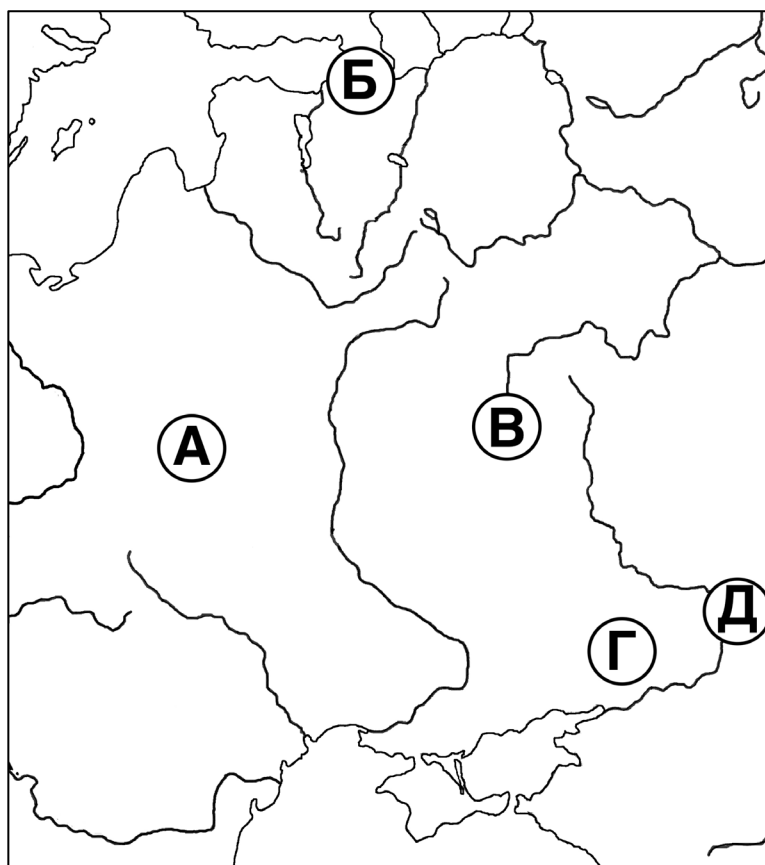
2



4




5




Задание 10. (12 баллов)

Перед Вами иллюстрации событий русской истории, на каждой из которых изображена смерть известного деятеля. В таблице ответа, где уже указаны годы


событий, укажите имена умерших деятелей и соотнесите с ними соответствующие иллюстрации.




1



2




3



4



5



6

Задание 11. (7 баллов)

Многие профессиональные историки в своих исследованиях обращаются к архивным материалам. На территории Московской области находится целый ряд архивов общероссийского значения, в том числе Российский государственный архив кинофотодокументов в Красногорске и Центральный архив министерства обороны в Подольске. Перед Вами названия архивных фондов из собраний разных архивохранилищ России. В таблице ответа соотнесите каждый фонд с архивным учреждением, в котором он хранится.

- А. «Временная счётная комиссия при Адмиралтейств-коллегии, г. Петербург»
- Б. «Всесоюзный сельскохозяйственный банк СССР (Сельхозбанк). 1924–1959»
- В. «Императорская Академия художеств (С.-Петербург, 1757–1918)»
- Г. «Комитет министров (1802–1906)»
- Д. «Международный женский секретариат Коминтерна (МЖС) (1920–1935)»
- Е. «Судный приказ, г. Москва»
- Ж. «Штаб войск в Царстве Польском»

Задание 12. (8 баллов)

Определите принцип образования каждого ряда. Найдите и укажите один лишний элемент в каждом ряду.

1. Билляр / Булгар / Саркел / Сувар;

2. Батый / Мамай / Тохтамыш / Узбек;

3. Киноварь / охра / смальта / умбра;

4. Сергей Ильюшин / Михаил Кошкин / Николай Поликарпов / Александр Яковлев.

ВРЕМЯ НА ВЫПОЛНЕНИЕ ЗАДАНИЙ – 120 МИНУТ.

МАКСИМУМ ЗА ЗАДАНИЯ – 100 БАЛЛОВ.

УДАЧИ!