

Муниципальный этап
Всероссийской олимпиады школьников по истории 2022-2023 учебного года
Задания. 7 класс

1	2	3	4	5	6	7	8	9	10	всего
10	6	8	6	10	12	10	18	12	8	100

Уважаемый участник!

При выполнении работы внимательно читайте текст заданий.

Содержание ответа вписывайте в отведённые поля, запись ведите чётко и разборчиво.

За каждый правильный ответ Вы можете получить определённое членами жюри количество баллов, не выше указанной максимальной оценки.

Сумма набранных баллов за все решённые вопросы – итог Вашей работы. Максимальное количество баллов – **100**.

Задания считаются выполненными, если Вы вовремя сдали их членам жюри.

Время на выполнение работы – 90 минут.

Желаем успеха!

Задание № 1. Выберите верные ответы и внесите их в таблицу. (2 балла за каждый правильный ответ, максимальный балл – 10).

1.1. Прочитайте отрывок из произведения и укажите его название. «Король наш Карл, великий император, Провоевал семь лет в стране испанской. Весь этот горный край до моря занял, Взял приступом все города и замки, Поверг их стены и разрушил башни, Не сдали только Сарагосу мавры». 1) «Ромео и Джульетта» 2) «Повесть временных лет» 3) «Песнь о Роланде» 4) «Старшая Эдда»

1.2. Прочитайте отрывок произведения и укажите князя, о котором в нём идёт речь. «Через год пошёл войной на Корсунь. Корсуняне же крепко сражались из города. Тогда он сказал: “Если не сдадитесь, буду стоять три года”. Они же не послушались и стояли шесть месяцев. А в Корсуне был человек, по имени Анастас, он написал на стреле и пустил её к этому князю: “К колодцу в восточной стороне города по трубам поступает в город вода; перекопав, переймёшь её”». 1) Олег Вещий 2) Святослав Игоревич 3) Владимир Святой 4) Владимир Мономах

1.3. Кто был восприемником (крестным родителем) княгини Ольги? 1) Алексей Комнин 2) Константин VII Багрянородный 3) Иоанн Цимисхий 4) Василий II Болгаробойца

1.4. В 1492 году Христофор Колумб открыл для европейцев: 1) остров Мадейру 2) Америку 3) мыс Доброй Надежды 4) Индию

1.5. В 1238 г. произошло столкновение русских дружин с монголами на 1) реке Калка 2) на реке Сити 3) реке Нева

Ответы:

1.1	1.2	1.3	1.4	1.5

Задание № 2. За полностью верный ответ – **6 баллов.**

2.1. Ниже приведены названия государств. Укажите те из них, которые существовали в Европе к концу XV века. 1) Португалия 2) Греция 3) Священная Римская империя 4) Речь Посполитая 5) Королевство вестготов 6) Великое княжество Литовское

2.2. Ниже приведён список названий городов и княжеств Руси. Укажите те из них, которые не входили в состав Владимирской земли к началу XIII века.

1.Вологда, 2.Углич, 3.Тверь, 4.Кострома, 5.Галич, 6.Белоозеро, 7.Торжок, 8.Вышний Волочёк, 9.Великий Устюг?

Ответы:

2.1	2.2

Задание № 3. Дайте краткое обоснование ряда (событие, процесс) и вычеркните лишнее (8 баллов).

3.1. 971 г., 1036 г., 1223 г., 1240 г., 1380 г. _____

3.2. Ярлык, баскаки, бессермены, тиуны, численники _____

3.3. Посольский приказ, Большой приход, Избранная рада, Большая казна, Нижегородская четверть

3.4. 1327, 1606-1607, 1662, 1667-1671, 1674-1678 _____

Задание № 4. Выберите три верных ответа из шести предложенных. Ответы внесите в таблицу. **Максимум за задание - 6 баллов.**

4.1. Определите, какие события относятся к периоду централизации государства:

- 1) Битва на р.Неве; 2) Война между потомками Дмитрия Донского; 3) Нашествие Батыея; 4) Правление Андрея Боголюбского; 5) Сожжение Москвы Тохтамышем; 6) строительство белокаменного Кремля в Москве

4.2. Выберите из данного перечня имена исторических деятелей современников Дмитрия Донского: 1) Ягайло; 2) Алексей; 3) Узбек; 4) Олег Иванович Рязанский; 5) Неврюй; 6) Чолхан.

Ответы:

4.1.	4.2.

Задание № 5. Установите соответствия. Запишите в таблицу указанные цифры под соответствующими буквами (1 балл за каждое правильное соотнесение, максимальный балл - 10).

5.1. Соотнесите высказывания с обстоятельствами, при которых они были произнесены (5 баллов)

А) «На этом я стою. И не могу иначе!». Б) «Неправду сказали волхвы, конь уже умер, а я жив». В) «Париж стоит мессы». Г) «Не в силе Бог, а в правде!». Д) «А всё-таки она вертится!».	1) Слова Александра Невского, произнесённые после разгрома немецких рыцарей. 2) Реплика Галилео Галилея в суде после его отречения от учения Коперника. 3) Реплика князя Олега при виде черепа своего коня. 4) Ответ Лютера на требование в суде в городе Ворсе отречься от своего учения. 5) Слова Джордано Бруно в ответ на приговор инквизиторам 6) Фраза Генриха Наваррского перед вторичным переходом в католицизм.
--	---



А	Б	В	Г	Д


5.2. Установите соответствие между именами авторов и названиями произведений культуры.

А) Аристотель Фиорованти Б) Иван Федоров В) Андрей Рублев Г) Афанасий Никитин Д) Нил Сорский	1) икона «Троица» 2) книга «Апостол» 3) послание Ивана IV Грозному 4) «Хождение за три моря» 5) Успенский собор в Москве 6) лидер нестяжателей
--	---



А	Б	В	Г	Д

Задание №6. Соотнесите изображения правителей Российского государства и храмы, построенные в их правление. Назовите этих правителей. *Ориентировка по названию храма.* Свой ответ оформите в виде таблицы (12 баллов).

 <p>1.</p>	 <p>А</p>
 <p>2.</p>	 <p>Б</p>



В.



Г.

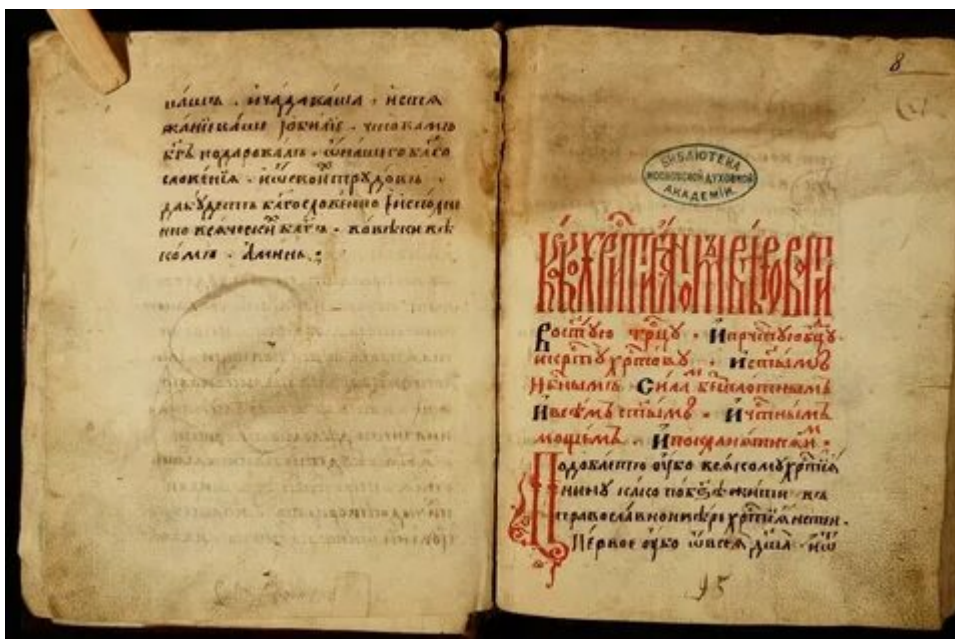
Цифра (правитель)	Правитель	Храм (бук- ва)	Название храма
			Храм Покрова-на-Нерли
			Дмитриевский собор
			Успенский собор в Кремле
			Храм Вознесения в Коломенском

Задание №.7 Внимательно изучите данные ниже изображения и ответьте на вопросы к ней (10 баллов).



А.

1. Взятие какого русского города монголами представлено на изображении «А»?
Когда(год) произошло это событие? _____
(2 балла)
2. Как звали монгольского хана, возглавлявшего войска в этом походе? _____
(1 балл)
3. Столицей какой русской земли (княжества) являлся данный город? _____
(1 балл)
4. Как называются ворота, которые с двух сторон на изображении обходят штурмующие? _____
(1 балл)
5. Как называется кафедральный собор, виднеющийся в отдалении от стен? _____
(1 балл)



Б.

1. Своеобразная энциклопедия древнерусского быта, свод житейских правил и наставлений XVI в. называется (укажите термин)? _____

(2 балла)

2. Круг лиц, составлявших неформальное правительство при Иване Грозном в конце 1540-х-1550-х гг., куда входил и автор вышеуказанной энциклопедии (термин)? _____

(2 балл)

Задание №8. Прочитайте отрывки из исторических источников и ответьте на вопросы:

8.1. В год 6745 пришли безбожные измаильтяне, которые раньше бились с русскими князьями на реке Калке. Первое их нашествие было на Рязанскую землю, и взяли они Рязань, выманили обманом князя Юрия и привели к Пронску, ведь княгиня его была в то время в Пронске. Обманом выманили и княгиню, и убили князя Юрия и его княгиню, и всех жителей его земли перебили...

В год 6478 пришел поганый к Киеву с большой силой, со множеством воинов своих, и окружили они город...и был город в великой осаде... И нельзя было голоса слышать от скрипения телег его, рева множества верблюдов его, ржания коней его...

1. **В каком жанре написан этот документ?**
2. **Проставьте даты по современной системе летоисчисления.**
3. **Кого автор называет измаильтянами?**

8.2 Тогда Игорь взглянул на светлое солнце и увидел, все его воины покрыты от него тьмою. И сказал Игорь своей дружине: «Братья и дружина! Лучше ведь быть зарубленным, чем пленным; так сядем, братья, на своих коней и поглядим на синий Дон»...

Русские сыны великие поля красными щитами перегородили, ища себе чести, а князю – славы.

1. **Как называется это произведение?**
2. **Какое природное явление описано в этом фрагменте?**
3. **Чьи полки автор называет «погаными»?**

Всего 18 баллов.

Задание №9. Внимательно рассмотрите карту. Ответьте на вопросы. Максимум за задание 12 баллов.

1. Укажите век, к которому относятся события, обозначенные на схеме (2 балла)

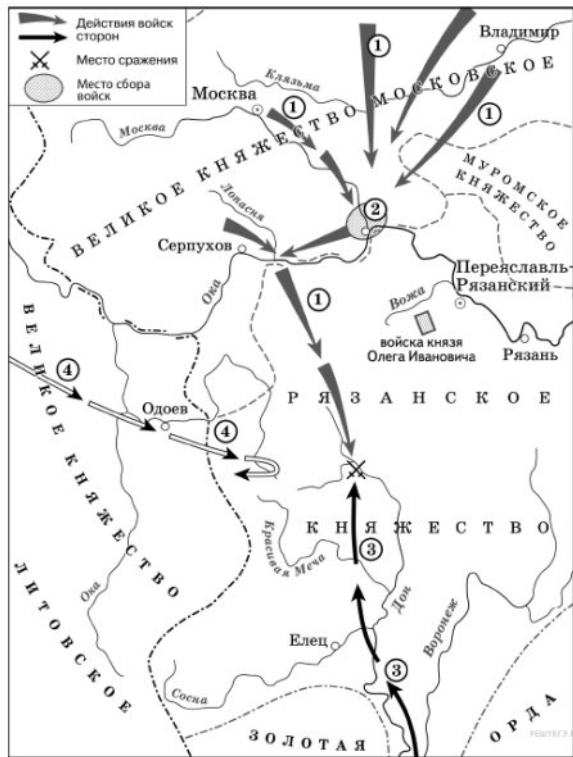
Ответ: _____

2. Укажите полководца, возглавившего поход, направление которого обозначено на схеме цифрой «3» (2 балла)

Ответ: _____

3. Что за город обозначен под цифрой «2» (2 балла)

4. Напишите значение битвы для последующих событий Отечественной истории. Не менее трех положений. (6 баллов).



Задание №10. Вставьте пропущенные в тексте слова. Ответ запишите под соответствующими цифрами (максимальный балл за задание- 8 баллов, по 1 баллу за каждый верный ответ).

В (1)___ в. на Руси начал формироваться (2)___ строй. Богатых людей уже не удовлетворял сложившийся в племенах порядок управления, так как он не мог обеспечить охрану их имущества и создать условия для его приумножения. Первое государство восточных славян получило название (3)____. Верховная власть в нем принадлежала (4)_____. В начале(5)___ в. прозвучал и был узаконен новый лозунг: «Каждый держит отчину свою». Это знаменовало начало (6)____. Формы политического устройства в русских землях в этот период были самыми разнообразными: от феодальной монархии до существования в Новгороде и Пскове (7)____. Верховная власть в этих двух городах принадлежала (8)____. Позднее ведущее место среди городов Руси заняла Москва. Она возглавила борьбу за свержение золотоордынского ига и объединение русских земель. В результате активной политики московских князей к XVI в. завершился процесс образования Российского централизованного государства.

Ответ:

1. _____
2. _____
3. _____
4. _____
5. _____
6. _____
7. _____
8. _____