

**Муниципальный этап всероссийской олимпиады школьников  
по истории  
2022-2023 учебный год  
8 класс  
Максимальный балл – 100.**

**Задание 1. Выберите по 1 верному ответу в каждом задании (Максимальный балл – 6).**

**1.1.** В каком году состоялось последнее нашествие крымского хана на Москву?

- 1) 1591
- 2) 1592
- 3) 1572
- 4) 1571
- 5) 1596

**1.2.** Укажите территорию, не вошедшую в состав Речи Посполитой по Люблинской унии 1569 г.:

- 1) Волынь
- 2) Подолье
- 3) Среднее Поднепровье с Киевом
- 4) Смоленск
- 5) Полоцк

**1.3.** О каком мероприятии повествует отрывок из Лаврентьевской летописи?

«Тое же зимы приехаша численицы исцетоша всю землю Сужальскую и Рязаньскую, и Мюромскую и ставиша десятники, и сотники, и тысящники, и темники. Толико не чтоша игуменовъ, черньцовъ, поповъ...».

- 1) о ежегодном военном пополнении
- 2) о проведении переписи населения
- 3) о проведении учета церковнослужителей
- 4) о набегах на Суздальскую, Рязанское, Муромское княжества
- 5) о проведении новой системы воинского учета

Ответ:

1.1.	1.2.	1.3.

**Задание 2. Выберите несколько верных ответов в каждом задании (Максимальный балл – 9).**

**2.1.** Выберите из предложенного перечня события, которые произошли в период правления Ивана IV:

- 1) Открытие Америки Христофором Колумбом
- 2) Битва на реке Сити
- 3) Принятие Судебника 1550 г.
- 4) Нашествие Девлет-Гирея на Москву
- 5) Варфоломеевская ночь во Франции
- 6) Строительство нового дубового Кремля в Москве

**2.2.** Укажите пары современников:

- 1) Иван Калита – Стефан Душан
- 2) Андрей Боголюбский – Софья Палеолог
- 3) Владимир Мономах – Карл Великий
- 4) Дмитрий Донской – Ян Жижка
- 5) Василий II Темный – хан Узбек
- 6) Иван III – Лоренцо Медичи

**2.3.** Укажите центры производства железа в XVII в.:

- 1) Вологда

- 2) Тихвин
- 3) Тула
- 4) Астрахань
- 5) Серпухов

Ответ:

2.1.	2.2.	2.3.

**Задание 3. Что объединяет понятия, события, имена, даты, образующие каждый из представленных рядов? Дайте краткий ответ (Максимальный балл – 3).**

3.1. Биргер Магнуссон, Гаврила Олексич, Яков Полочанин, Сбыслав Яконович

---

3.2. Ляпунов, Трубецкой, Шаховской, Заруцкий

---

3.3. Яжелбицкий договор, Коростынский договор, Борецкие, р. Шелонь,

---

**Задание 4. Установите соответствие (Максимальный балл – 10)**

**4.1** Соотнесите исторический документ и выдержки из него:

- |   |   |
|---|---|
| 1. Судебник Ивана IV                        | А) ...Будет кто каким умышлением учнет мыслить на государское здоровье злое дело, и про то его злое умышленье кто известит, и по тому извету про то его злое умышленье сыщется допряма, что он на царское величество злое дело мыслил, и делать хотел, и такова по сыску казнить смертию. |
| 2. Русская Правда                           | Б) А христианом (крестьянам) отказываться из волости, ис села в село, один срок в году, за неделю до Юрьева дни осеннего и неделю после Юрьева дни осеннего. Дворы пожилые платят в полах за двое рубль, а в лесех полтина.   |
| 3. Соборное уложение                        | В) А крестианом отказываться из волости в волость и из села в село один срок в году: за неделю до Юрьева дни до осеннего и неделя по Юрьеве дни осеннем. А дворы пожилые платят в поле рубль и два алтына, а в лесех, где десять врѣст до хоромного лесу, за двор полтина и два алтына.   |
| 4. Духовная грамота Ивана Даниловича Калиты | Г) За княжеского сельского старосту или за полевого старосту платить 12 гривен, а за княжеского рядовича 5 гривен   |
| 5. Судебник Ивана III                       | Д) На случай, если бог что решит о моей жизни, даю завещание сыновьям моим и княгине моей. Завещаю сыновьям своим отчину свою Москву, а раздел учинил им такой.   |

**4.2** Установите соответствие между народными выступлениями и датами:

- |                  |  |
|------------------|--|
| 1. 1113 г.       | А. Движение холопов и крепостных крестьян России под руководством Хлопка Косолапа  |
| 2. 1606-1607 гг. | Б. Московское восстание посадского населения, в ходе которого восставшие подожгли Белый город и Китай-город, громили дворы ненавистных бояр. |
| 3. 1603 г.       | В. Антифеодальное восстание городских низов Киева после смерти князя Святополка Изяславича.  |

4. 1648 г. Г. Восстание монахов и беглых крестьян, посадских людей, стрельцов, солдат, не принявших церковных реформ патриарха Никона.
5. 1668-1676 гг. Д. Восстание крестьян, горожан, казаков, холопов, начавшееся в Путивле под лозунгом «Возвратить трон «царевичу» Дмитрию и свергнуть Василия Шуйского»

Ответ:

№	1	2	3	4	5
4.1					
4.2					

**Задание 5. Определите хронологическую последовательность событий. Ответ запишите в виде последовательности букв (Максимальный балл – 3).**

**5.1.** Поставьте в хронологическом порядке территории, которые вошли в состав Московского княжества в XV-XVI вв.:

- 1) Тверское княжество
- 2) Ростов
- 3) Псков
- 4) Ярославское княжество
- 5) Рязань
- 6) Новгород

**5.2.** Расположите в хронологическом порядке внутривосточные события XVII в.:

- 1) Соляной бунт
- 2) Медный бунт
- 3) Восстание под предводительством С.Т. Разина
- 4) Псковское восстание
- 5) Поход Василия Уса
- 6) Соловецкое восстание

**5.3.** Поставьте в хронологическом порядке причины созывов Земских соборов в XVI-XVII вв.

Дата созыва	Причина созыва Земского собора
1)	Созван для обсуждения вопроса о продолжении Ливонской войны
2)	Земский собор завершил Смутное время и избрал на царство Михаила Федоровича Романова
3)	Решение Земского собора о воссоединении Украины с Россией
4)	Избрание на Земском соборе нового царя Бориса Годунова.
5)	Утверждение нового свода законов — Соборного уложения Алексея Михайловича
6)	Созван для решения Азовского вопроса. Казаки самостоятельно захватили крепость Азов и предложили принять ее в состав России, что грозило войной с Турцией. Собор постановил вернуть Азов

Ответ:

5.1	
5.2	
5.3	

**Задание 6. Заполните пробелы в тексте. Ответ оформите в виде перечня элементов под соответствующими номерами (Максимальный балл – 15).**

Русским \_\_\_\_\_ (1 – термин) называется отделение значительной части русского православного общества от господствующей русской православной церкви. Это разделение началось в царствование \_\_\_\_\_ (2 -ия) вследствие церковных новшеств патриарха \_\_\_\_\_ (3 – имя) и продолжается доселе. \_\_\_\_\_ (4- термин) считают себя такими же

православными христианами, какими считаем себя и мы. ...В собственном смысле они не расходятся с нами ни в одном догмате веры..., спрашивается, отчего же произошло церковное разделение.

До [середины века] \_\_\_\_\_ (5 – век) русское церковное общество было единым; но в нем в разное время и из разных источников возникли и утвердились некоторые местные церковные мнения, обычаи и \_\_\_\_\_ (6 – термин), отличные от принятых в церкви \_\_\_\_\_ (7 - принадлежность), от которой Русь приняла христианство. Таковы были \_\_\_\_\_ (8- термин) - [как] крестное знамение, образ написания имени \_\_\_\_\_ (9 – имя), хождение посолонь, двоение возгласа \_\_\_\_\_ (10 – возглас).

Со второй половины XVI в., когда в Москве началось \_\_\_\_\_ (11 – термин), эти разночтения стали проникать из рукописных богослужебных книг в [другие] и через них распространялись по всей России. Так как вообще текст русских богослужебных книг был неисправен, то преемник патриарха Иосифа ревностно принялся за устранение неисправностей. В \_\_\_\_\_ (12 – год) г. он провел на церковном соборе постановление переиздать церковные книги. ...Православные русские люди ... усмотрели в этих новых изданиях новую веру... и прокляли эти книги как еретические.

Московский церковный собор \_\_\_\_\_ (13 – годы) гг., на котором присутствовали два восточных патриарха, положил на непокорных клятву \_\_\_\_\_ (14 – термин) за противление церковной власти и \_\_\_\_\_ (15 – действие) их от православной церкви.

Ответ:

№	пропуск	№	пропуск
1		9	
2		10	
3		11	
4		12	
5		13	
6		14	
7		15	
8			

**Задание 7. Внимательно рассмотрите карту и выполните задания (Максимальный балл – 20).**

1. Под цифрой «1» на карте обозначен город, откуда началось путешествие одного из самых известных русских путешественников в Индию.

- Назовите этот город
- Назовите имя и фамилию путешественника
- Назовите годы путешествия
- Укажите название книги, которая была написана путешественником

2. Под цифрой «2» указано одно из самых известных путешествий периода Великих географических открытий.

- Укажите путешественника и год, когда было совершено плавание
- На карте под цифрой «3» обозначены острова, которые первыми были открыты в ходе этого путешествия. Назовите их

3. Испанские мореплаватели совершили первое кругосветное путешествие.

- Назовите главу этой экспедиции
- Укажите год, когда началось это путешествие
- Назовите географический объект, получивший название в честь мореплавателя (на карте обозначен под цифрой «4»)

4. Укажите имя путешественника, который возглавил экспедицию, обозначенную на карте под цифрой «5»

5. На карте под цифрой «6» обозначен мыс Доброй Надежды.

- Укажите год, когда был открыт мыс португальскими мореплавателями
- Назовите главу экспедиции, совершившей это открытие

Ответ:

1. \_\_\_\_\_

2. \_\_\_\_\_

3. \_\_\_\_\_

4. \_\_\_\_\_

5. \_\_\_\_\_

**Задание 8. Соотнесите скульптурное изображение с произведениями, автором которых является известная историческая личность, изображенная на фотографии. Ответьте на вопросы. (Максимальный балл – 10).**

1. Кому посвящен памятник?

2. Укажите номера произведений, автором которых является личность, изображенная на памятнике.

3. Учение какого религиозного деятеля оказало огромное влияние на мировоззрение и творчество данной исторической личности?


4. Назовите современников, живших в одно время с этим историческим лицом.




1.




2.



3.



4.



Ответ:

1. Кому посвящен памятник?	
2. Номера произведений	
3. Имя религиозного деятеля	
4. Современники	

**Задание 9. Прочитайте отрывок из исторического документа и ответьте на вопросы (Максимальный балл – 17):**

Когда к ним пришла весть, что князь великий выехал из города, они тотчас же внезапно подошли к Москве. И, войдя в город, они пленили великих княгинь Софию и Марию и разграбили казну великого князя и его матери, захватили и ограбили находившихся там бояр, и других многих, и горожан. В воскресенье... прискакал к великому князю человек по имени Бунко, чтобы сообщить, что идут на него ратью князь Дмитрий и князь Иван Можайский. Но великий князь не поверил ему, а все-таки послал сторожевой отряд к Радонежу. Они же, придя, стали на страже на горе над Радонежем, и увидел их издали сторожевой отряд заговорщиков. А сторожевой отряд заговорщиков сообщил князю Ивану, что на горе за Радонежем стоит стража. Он же повелел снарядить много саней, будто возы, а в них спрятать по два человека в доспехах. И когда передние сани уже миновали сторожей, тогда выскочили все из саней и захватили стражу. И так они вскоре подошли к монастырю.

И как увидел их князь великий, бросился он на конюшенный двор, и не было ему готового коня, ибо он сам счел правду ложью, понадеявшись на крестное целование, не повелел ничего приготовить... князь великий, увидев, что ему нет ни от кого помощи, ринулся в монастырь, к каменной церкви Святой Троицы. Пономарь же, инок по имени Никифор, прибежал и отворил церковь, князь вошел в церковь, а Никифор запер его и, отойдя, спрятался.

А они, убийцы, как свирепые волки, ворвались в монастырь на конях, и впереди всех Никита Константинович, и въехал по лестнице на коне к передним дверям церковным.

Потом и сам князь Иван прискакал в монастырь, и все их войско. И стал спрашивать князь Иван: «Где князь великий?»

Князь же великий, находясь внутри церкви, услышал голос князя Ивана и громко возопил: «Брат, помилуй меня, не лиши меня счастья зреть образ Божий и Пречистой его матери и всех его святых! А я не выйду из этого монастыря и постригусь здесь». И тут подошел к нему злой раб, гордый, немилосердный мучитель Никита, взял великого князя за плечи и сказал: «Ты во власти великого князя Дмитрия Юрьевича». Тот же ответил: «Воля Божья да будет». Он же, злодей, вывел его из церкви и увез из монастыря, и посадили его в голые сани, а напротив него чернеца. И так поехали с ним в Москву, а бояр его всех похватили, прочих же всех ограбили, отпустив нагими. А князя великого в понедельник к ночи, на мясопустной неделе, 14 февраля, привели на Москву и посадили его..., а сам князь Дмитрий стал на Поповкином дворе. В среду на той же неделе вечером ослепили великого князя и сослали его с княгиней на Углич, а мать его, великую княгиню Софью, послали на Чухлому.

Вопросы:

1. Назовите событие, которое описано в историческом документе
2. Напишите имя великого князя, имена заговорщиков, упомянутых в документе
3. Где заговорщики схватили великого князя? Как это происходило?
4. О каком историческом периоде повествует текст источника? Какими годами он датируется?
5. На чьей стороне автор документа – заговорщиков или великого князя? Подтвердите свой ответ цитатами из документа.

Ответ:

1. \_\_\_\_\_
2. \_\_\_\_\_
3. \_\_\_\_\_
4. \_\_\_\_\_
5. \_\_\_\_\_


**Задание 10. О каких архитектурных сооружениях говорится в тексте документа? Найдите эти сооружения в иллюстративном ряду, напишите их названия. При каком царе они были построены? (Максимальный балл – 7).**

«Ему было 16 лет, когда он стал царём. В народе царя прозвали «Тишайшим». Вслед за своим отцом Михаилом он оказал довольно существенное влияние на архитектурное развитие России. И как раз в период его царствования в московской архитектуре получает развитие особый новый стиль – стиль узорочья, который многие называют стилем его имени, потому что именно с середины 1640-х годов он получил широкое распространение по всей Руси. В этом стиле в Москве была построена церковь Рождества Богородицы в Путинках. Совсем небольшая, даже миниатюрная для памятника архитектуры, точно игрушка, вынутая из шкатулки.


Во второй половине 60-х годов царь построил для себя великолепный деревянный дворец, ставший олицетворением всех достижений русского зодчества того времени. «Восьмым чудом света» называли его современники.

Многие бояре и купцы ставили много храмов. В годы правления ранее упомянутого нами царя по заказу купцов Скрипиных был построен один из красивейших храмов в Ярославле. Храм представляет собой пятиглавое здание, с запада к нему примыкает шатровый придел. Колокольня храма также выстроена в шатровом стиле, который был запрещён уже после строительства церкви».

**А.**




**Б.**



**В.**




**Г.**






Д.



Е.



Ответ:

Имя царя:

Номер иллюстрации	Название сооружения