

**Муниципальный этап всероссийской олимпиады школьников
по истории
2022-2023 учебный год
8 класс
Максимальный балл – 100.**

Задание 1. Выберите по 1 верному ответу в каждом задании (Максимальный балл – 6).

1.1. В каком году состоялось нашествие крымского хана Девлет-Гирея на Москву?

- 1) 1591
- 2) 1592
- 3) 1572
- 4) 1571
- 5) 1596

1.2. Укажите территорию, не вошедшую в состав Великого княжества Литовского в период правления князя Гедимина:

- 1) Полоцкое княжество
- 2) Витебское княжество
- 3) Менское (Минское) княжество
- 4) Смоленское княжество
- 5) Киевское княжество

1.3. О ком из первых русских князей говорится в историческом документе: «Они говорили мне про своего великого цезаря, чьё имя означает «Святая слава», который был тяжёл в миру и лёгок в войне, и, хотя и был нечестивого языческого племени, ходил воевать христианского государя в Константинополе, иудейского государя у границ Империи, и, как говорят, тридцать трёх сарацинских государей в Азию»

- 1) Игорь
- 2) Олег
- 3) Владимир
- 4) Святослав
- 5) Ярополк

Ответ:

1.1.	1.2.	1.3.

Задание 2. Выберите несколько верных ответов в каждом задании (Максимальный балл – 9).

2.1. Выберите из предложенного перечня события, относящиеся к эпохе правления Алексея Михайловича:

- 1) Азовское сидение казаков
- 2) Реставрация Стюартов
- 3) Открытие Славяно-греко-латинской академии
- 4) Соборное Уложение
- 5) Вестфальский мир
- 6) Вечный мир с Речью Посполитой

2.2. Укажите пары современников:

- 1) Иван Калита – Ян Гус
- 2) Андрей Боголюбский – Софья Палеолог
- 3) Владимир Мономах – Вильгельм Завоеватель
- 4) Дмитрий Донской – Тамерлан
- 5) Василий II Темный – хан Узбек
- 6) Иван III – Лоренцо Медичи

2.3. Укажите центры международной торговли в XVII в.:

- 1) Москва
- 2) Архангельск
- 3) Новгород
- 4) Астрахань
- 5) Серпухов

Ответ:

2.1.	2.2.	2.3.

Задание 3. Что объединяет понятия, события, имена, даты, образующие каждый из представленных рядов? Дайте краткий ответ (Максимальный балл – 3).

3.1. Александр Ярославович, Андрей Ярославович, Герман Буксгевден

3.2. Мстиславский, Трубецкой, Голицын, Воротынский

3.3. Яжелбицкий договор, Коростынский договор, Борецкие, р. Шелонь,

Задание 4. Установите соответствие (Максимальный балл – 10)

4.1 Соотнесите исторический документ и выдержки из него:

- | | |
|--------------------------------|--|
| 1. Судебник Ивана IV | А) ...Будет кто каким умышлением учнет мыслить на государское здоровье злое дело, и про то его злое умышление кто известит, и по тому извету про то его злое умышление сыщется допряма, что он на царское величество злое дело мыслил, и делать хотел, и такова по сыску казнить смертью. |
| 2. Русская Правда | Б) А христианом (крестьянам) отказываться из волости, ис села в село, один срок в году, за неделю до Юрьева дни осеннего и неделю после Юрьева дни осеннего. Дворы пожилые платят в полах за двое рубль, а в лесех полтина. |
| 3. Соборное уложение | В) А крестианом отказываться из волости в волость и из села в село один срок в году: за неделю до Юрьева дни до осеннего и неделя по Юрьеве дни осеннем. А дворы пожилые платят в поле рубль и два алтына, а в лесех, где десять врѣст до хоромного лесу, за двор полтина и два алтына. |
| 4. Русско-византийский договор | Г) Убьет муж мужа, то мстит брат за брата, или сын за отца, или двоюродный брат, или племянник; если не будет никто мстить, то 80 гривен за убитого, если будет княжеский муж или княжеский управитель; если будет русин, или гридь, или купец, или боярский управитель, или мечник, или изгой, или словенин, то 40 гривен за убитого. |
| 5. Судебник Ивана III | Д) Если выкинута будет ладья сильным ветром на чужую землю и будет там кто-нибудь из нас, русских, и поможет сохранить ладью с грузом ее и отправить вновь в Греческую землю, то проводим ее через всякое опасное место, пока не придет в место безопасное; если же ладья эта бурей или на мель сев задержана и не может возвратиться в свои места, то поможем гребцам той |

ладьи мы, русские, и проводим их с товарами их поздорову.

4.2 Установите соответствие между названиями славянских племен и столицами территорий, на которых они проживали:

- | | |
|--------------|----------------|
| 1. Словене | А. Туров |
| 2. Кривичи | Б. Полоцк |
| 3. Полочане | В. Ладога |
| 4. Древяне | Г. Смоленск |
| 5. Дреговичи | Д. Искоростень |

Ответ:

№	1	2	3	4	5
4.1					
4.2					

Задание 5. Определите хронологическую последовательность событий. Ответ запишите в виде последовательности букв (Максимальный балл – 3).

5.1. Поставьте в хронологическом порядке территории, которые вошли в состав Московского княжества в XV-XVI вв.:

- 1) Тверское княжество
- 2) Ростов
- 3) Псков
- 4) Ярославское княжество
- 5) Рязань
- 6) Новгород

5.2. Расположите в хронологическом порядке внутривосполитические события XVII в.:

- 1) Соляной бунт
- 2) Медный бунт
- 3) Восстание стрельцов под предводительством Ивана Хованского
- 4) Псковское восстание
- 5) Поход Василия Уса
- 6) Соловецкое восстание

5.3. Поставьте в хронологическом порядке причины созывов Земских соборов в XVI-XVII вв.

Дата созыва	Причина созыва Земского собора
1)	Созван для обсуждения вопроса о продолжении Ливонской войны
2)	Земский собор завершил Смутное время и избрал на царство Михаила Федоровича Романова
3)	Решение Земского собора о вечном мире с Речью Посполитой
4)	Избрание на Земском соборе нового царя Бориса Годунова.
5)	Утверждение нового свода законов — Соборного уложения Алексея Михайловича
6)	Созван для решения Азовского вопроса. Казаки самостоятельно захватили крепость Азов и предложили принять ее в состав России, что грозило войной с Турцией. Собор постановил вернуть Азов

Ответ:

5.1	
5.2	
5.3	

Задание 6. Заполните пробелы в тексте. Ответ оформите в виде перечня элементов под соответствующими номерами (Максимальный балл – 15).

На границе со степью в пределах Польско-Литовского государства, как и на русской степной границе, во второй половине XVI в. сложились военные общины _____ 1 (название общности). К началу XVII в. они воспринимали себя как особое воинское сословие и именовались _____ 2. (название войска), так как часть поселений находилась в низовьях Днепра, за днепровскими порогами. _____ 3 (название войска) участвовало в войнах Речи Посполитой, в частности в Смоленской войне против Московского государства в _____ 4 (годы войны). В то же время у них были серьезные основания для недовольства своим положением. К этому сословию относилось себя множество людей, не внесенных в реестры и с точки зрения правящих кругов Польши, являющихся беглыми крестьянами. Более того, даже верхушка этого военного сословия никак не была обеспечена от произвола польских _____ 5 (название социальной группы), полностью контролировавших органы государственной власти. Это превратило сословие в основную движущую силу начавшейся Освободительной войны. Возглавил восстание _____ 6 (имя), пожилой и уважаемый Чигиринский сотник, на склоне лет ставший жертвой неприкрытого насилия: сосед-поляк безнаказанно захватил его хутор, убил сына и похитил жену. Восстание началось в _____ 7 (год) в _____ 8 (название места) — самом дальнем из ... поселений, где собирались недовольные существующими порядками. Чигиринский сотник был провозглашен _____ 9 (название должности) и начал военные действия.

С самого начала восстания ... установил дружеские отношения с русским правительством и просил о принятии войска под покровительство царя. Но неустойчивость внутреннего положения России, где как раз в это время обострилось противостояние между сословиями, вылившееся в серию городских восстаний и завершившееся принятием _____ 10 (название документа) в _____ 11 (год), ее неготовность к большой войне с сильным западным соседом заставляли московских политиков долгое время проявлять осторожность. Только в _____ 12 (год), после настойчивого повторного обращения руководителей Освободительной войны, на _____ 13 (название органа) в Москве было принято решение о принятии ... под власть Московского государства. После этого, через год, в городе _____ 14 (название города). была созвана _____ 15 (название органа), на которой верхушка войска принесла присягу царю.

Ответ:

№	пропуск	№	пропуск
1		9	
2		10	
3		11	
4		12	
5		13	
6		14	
7		15	
8			

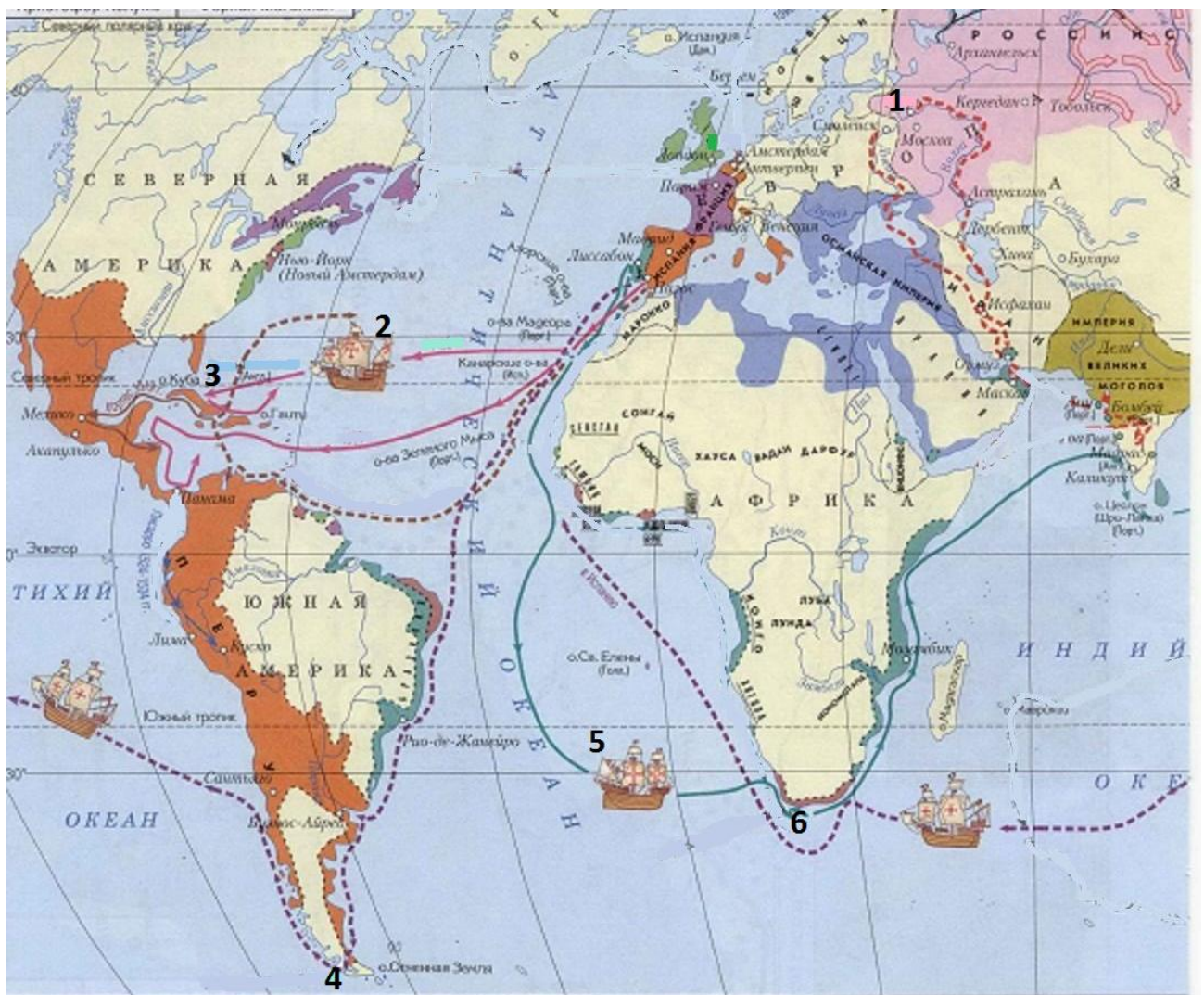
Задание 7. Внимательно рассмотрите карту и выполните задания (Максимальный балл – 20).

1. Под цифрой «1» на карте обозначен город, откуда началось путешествие одного из самых известных русских путешественников в Индию.

- Назовите этот город
- Назовите имя и фамилию путешественника
- Назовите годы путешествия
- Укажите название страны, в которой побывал этот путешественник.

2. Под цифрой «2» указано одно из самых известных путешествий периода Великих географических открытий.

- Укажите путешественника и год, когда было совершено плавание
 - На карте под цифрой «3» обозначены острова, которые первыми были открыты в ходе этого путешествия. Назовите их
3. Испанские мореплаватели совершили первое кругосветное путешествие.
- Назовите главу этой экспедиции
 - Укажите год, когда началось это путешествие
 - Назовите географический объект, получивший название в честь мореплавателя (на карте обозначен под цифрой «4»)
4. Укажите имя путешественника, который возглавил экспедицию, обозначенную на карте под цифрой «5»
5. На карте под цифрой «6» обозначен мыс Доброй Надежды.
- Укажите год, когда был открыт мыс португальскими мореплавателями
 - Назовите главу экспедиции, совершившей это открытие



Ответ:

1. _____

2. _____

3. _____

4. _____



5. _____


Задание 8. Соотнесите скульптурное изображение с произведениями, автором которых является известная историческая личность, изображенная на фотографии. Ответьте на вопросы. (Максимальный балл – 10).

1. Кому посвящен памятник?
2. Укажите произведение, написанное во славу преподобного Сергия Радонежского. Напишите номер иллюстрации и его название.
3. Перечислите номера иллюстраций, автором которых является историческая личность, изображенная на памятнике
4. Назовите современников, живших в одно время с этим историческим лицом.

Ответ:

1. Кому посвящен памятник?	
2. Номер произведения, название произведения	
3. Номера иллюстраций	
4. Современники	

	<p>1.</p> 
---	---



Задание 9. Прочитайте отрывок из исторического документа и ответьте на вопросы (Максимальный балл – 17):

Некоторые же из них: посадничьи дети Исаака Борецкого с матерью их Марфою и с остальными иными изменниками, подученные дьяволом, хуже бесов стали прельстителеми на по гибель земле своей и себе на пагубу, начали непристойные и соблазнительные речи высказывать и, на вече являясь, кричать: «Не хотим за великого князя московского, и вотчиной зваться его не хотим! Вольные все мы люди – Великий Новгород, а московский князь великий многие обиды и неправды над нами чинит! А хотим за короля польского и великого князя литовского Казимира!»

И так заволновался весь город их, и всколыхнулись все, как пьяные: те хотели за великого князя по старине, к Москве, а другие – за короля, к Литве. Те же изменники стали нанимать худых мужиков из участников вече, готовых на все, как обычно. И явясь на вече,

звонили они во все колокола и, крича, говорили: «За короля хотим!» Другие же им возражали: «За великого князя московского хотим по старине, как было и до сего!». И те наймиты изменничьи камень метали в тех, что за великого князя хотят. И великая смута была у них, и сражались друг с другом, и сами на себя поднялись.

Прослышал об этом князь великий Иван Васильевич, что в вотчине его, в Великом Новгороде, смятенье великое, и стал посылать к ним послов своих, говоря так: «Вотчина моя это, люди новгородские, изначально: от дедов, от прадедов наших, от великого князя Владимира, крестившего землю Русскую, от правнука Рюрика, первого великого князя в вашей земле. И от того Рюрика и до сегодняшнего дня знали вы единственный род тех великих князей, сначала киевских, и до самого великого князя Дмитрия-Всеволода Юрьевича Владимирского, а от того великого князя и до меня род этот, владеем мы вами, и жалуем вас, и защищаем отовсюду, и казнить вас вольны, коли на нас не по-старому начнете смотреть. А ни за королем никаким, ни за великим князем литовским не бывали вы с тех пор, как земля ваша стала, теперь же стремитесь вы от христианства в католичество, нарушив крестное целование. Я, князь великий, никакого насилья вам не чиню, ни тягот не налагаю сверх того, что были при отце моем, великом князе Василии Васильевиче, и при деде моем, и при прадеде, и при прочих великих князьях рода нашего, да еще и жаловать вас хочу, свою вотчину».

Воеводы же великого князя, хоть и в малом числе (говорят бывшие там, что только пять тысяч их было), увидев большое войско тех и возложив надежду на Господа Бога и Пречистую Матерь Его и на правоту своего государя великого князя, пошли стремительно на них, как львы рыкая, через реку ту широкую, на которой в том месте, как сами новгородцы говорят, никогда брода не было; а эти и без брода все целые и здоровые ее перешли. Увидев это, новгородцы устремились сильно, взволновались и заколебались, как пьяные, а наши, дойдя до них, стали первыми стрелять в них, и взволновались кони под теми, и начали с себя сбрасывать их, и так скоро побежали они, гонимые гневом Божиим за свою неправду и за отступление не только от своего государя, но и от самого Господа Бога.

Полки же великого князя погнали их, коля и рубя, а они и сами в бегстве друг друга били, кто кого мог. Побито же их было тогда многое множество, – сами они говорят, что двенадцать тысяч их погибло в тех боях, а схватили живьем более двух тысяч...


Вопросы:

1. Назовите событие и год, которое описано в историческом документе
2. Напишите имя великого князя, имена заговорщиков, упомянутых в документе
3. На чью поддержку рассчитывали заговорщики?
4. Какими способами действовал великий князь? Какими доводами он убеждал восставших?
5. Как называлось военное сражение, описанное в документе? Напишите дату и место сражения.

Задание 10. О каких архитектурных сооружениях говорится в тексте документа? Найдите эти сооружения в иллюстративном ряду, напишите их названия. При каком царе они были построены? (Максимальный балл – 7).

«Шестнадцатилетним юношей вступил на престол этот государь, и, по самому возрасту своему и душевным свойствам, мягким и податливым, подчинялся влиянию окружающих его, сперва воспитателя своего боярина Морозова, потом патриарха Никона и, наконец, боярина Матвеева. Мягкость характера сказывалась в его благотворительности нищим, в посещении заключенных в тюрьмах и в помощи прочим страждущим, в его ласковости и, наконец, в данном ему народом названии "тишайшего"»

Честь-быть жилищем царя - теремной дворец ... делил с дворцом Коломенским, этим прелестным и самобытным созданием русского зодчества, в XVII столетии. Расположенное на высоком берегу Москвы-реки, с громадной панорамой поемных лугов, Коломенское село было любимой дачей Русских царей, начиная с Иоанна Грозного. В это царствование патриарх Никон построил для себя новые великолепные патриаршие палаты, среди коих отличалась своими украшениями Крестовая палата, со времени императрицы Екатерины II, обращенная в мироварную. Окружавший себя необычайным великолепием Никон неоднократно принимал в своем доме царя».



Ответ:

Имя царя:	
Номер иллюстрации	Название сооружения