

Олимпиада по истории, 7-8 класс (100 б.)

Задание 1. Верны ли следующие утверждения? («Да» – «Нет»). Ответы внесите в таблицу.

1. На Руси по началу не было собственной кавалерии. Поэтому для больших походов нанимались печенеги и венгры.
2. 46 лет Франкским королевством правил сын Карла Великого Пипин Короткий.
3. Князя Владимира причислили к лику святых в XIII веке по инициативе Александра Невского.
4. В Куликовской битве русские войска построились традиционно: «свиньей».

Ответ:

| | | | |
|----|-----|----|-----|
| 1 | 2 | 3 | 4 |
| Да | Нет | Да | Нет |

По 2 балла за каждый правильный ответ. Итого: 8 баллов

Задание 2. В таблице перед вами перечень исторических событий (процессов). Выполните задания.

Перечень событий (процессов)

| | |
|---------------------------|--|
| А) Ледовое побоище (1242) | Б) Присоединение Новгородской земли к Москве (1478 г.) |
| В) Любечский съезд (1097) | Г) Захват Олегом Киева (882 г.) |

1) Установите соответствие между данными событиями (процессами) и изображениями: к каждому событию (процессу) подберите по одному изображению. Ответ занесите в таблицу.

| | |
|---|--|
|  |  |
|  |  |

Ответ:

| | | | |
|---|---|---|---|
| А | Б | В | Г |
| 3 | 4 | 2 | 1 |

По 4 балла за каждый правильный ответ. Итого: 16 баллов

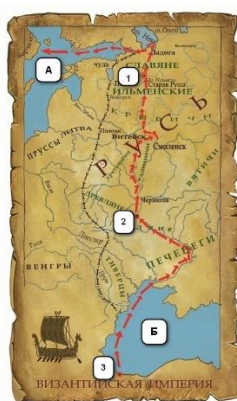
2) Прочтите отрывок из исторического источника и определите, о каком из данных событий (процессов) он повествует. В ответе запишите букву, которой обозначено это событие (процесс).

«<...> пришли Святополк, Владимир, Давыд Игоревич, Василько Ростиславич, Давыд Святославич и брат его Олег и съехались <...> для установления мира, говоря между собой: «Зачем мы губим русскую землю <...> С этих пор будем все единомышленны и храним землю русскую, пусть каждый держит отчину свою: Святополк - Киев, Изяславлю (отчину), Владимир - Всеволожу, Давыд, Олег и Ярослав - Святославлю, а также кому раздал Всеволод города: Давыду - Владимир, Ростиславичам - Перемышль Володарю, Теробовль - Васильку». И на том целовали крест: «Если отныне кто будет против кого, на того будем все и крест честный». Сказали все: «Пусть будет на него крест честный и вся земля русская». И давши клятву, пошли каждый к себе...».

Ответ: В (4 балла)

Итого за все задание: 20 баллов

Задание 3. Рассмотрите карту и выполните задания.



3.1 Напишите название торгового пути, обозначенного на карте красными стрелками.

Ответ: Варяжский путь, путь «из варяг в греки», Восточный путь. (2 балла)

3.2. Запишите название морей, обозначенных на карте буквами **А** и **Б**. При ответе укажите их изначальное историческое название. Современное название не будет зачтено при оценивании ответа.

Ответ: А – Варяжское море (2 балла). Б – Русское море (2 балла).

3.3. Укажите название городов, обозначенных на карте цифрами 1, 2, 3.

Ответ: 1 – Новгород (2 балла), 2 – Киев (2 балла), 3 – Константинополь, Царьград (2 балла).





3.4. Укажите век, в котором торговый путь пришел в упадок.

Ответ: XII в. (2 балла)

Итого: 14 баллов за все задание.

Задание 4. Художники XIX века посвятили произведения истории Древней Руси. Определите, каким событиям они посвящены. Ответы внесите в таблицу.

| Цифра | Картина | Буква | Событие |
|-------|---|-------|--------------------------------|
| 1. |  | А | поход Олега на Константинополь |

| | | | |
|----|---|---|--------------------------------------|
| 2. |  | Б | крещение Руси |
| 3. |  | В | поход Игоря Святославича на половцев |
| 4. |  | Г | Невская битва |
| 5 |  | Д | Битва на реке Калке |
| | | Е | Принятие Правды Русской |

Ответ:

| | | | | | |
|----------------|---|---|---|---|---|
| Картина | | | | | |
| Событие | Г | В | Б | А | Е |



По 2 баллу за каждую правильно заполненную ячейку. Итого: 10 баллов

Задание 5. Определите каким этапам/событиям Великой Отечественной войны посветили произведения сибирские поэты. Подпишите под стихотворением название битв/событий, которым они посвящены.

| I | II |
|---|---|
| <p>«Ранний луч безоблачного детства... Я его, признаться, не видал. Не успел восток еще зардеться, Как войны нахлынул грозный шквал. Помню: скорбный голос Левитана, И в слезах у матери лицо, Многолюдный серый полустанок, Где стоял последний раз с отцом...».</p> <p><i>А. П. Казаков</i></p> | <p>«От судьбы тебе некуда деться, Заслала тебе, злая, войну. Свое самое раннее детство Провела ты в блокадном плену. Вспоминаются с болью и тупо Девять сотен обглоданных дней...».</p> <p><i>Л.Е. Долгов</i></p> |
| Начало Великой Отечественной войны | Блокада Ленинграда |
| <p>«...Пожертвовал собою, чтоб мир торжествовал. В Берлине, в Трептов-Парке за подвиг исполинский Солдат моей России взошел на пьедестал <...> О, сколько было крови российской здесь пролито, Чтоб над рейхстагом знамя победное поднять! <...>»</p> <p><i>Н. С. Ягунова</i></p> | |
| <p>Окончание Великой Отечественной войны / Битва за Берлин / Безоговорочная капитуляция Германии / Водружение Знамени Победы над рейхстагом</p> | |

По 4 балла за каждую правильно названную битву / событие. Итого: 12 баллов

Задание 6. Соотнесите изображения и названия крестьянской утвари.

| Цифра | Изображение | Буква | Название |
|-------|---|-------|-------------------|
| 1. |  | А | Кринка |
| 2. |  | Б | Чесало для шерсти |
| 3. |  | В | Рукомойник |
| 4. |  | Г | Грабилка для ягод |
| | | Д | Трепало |

Ответ:

| | | | | |
|-------------|---|---|---|---|
| Изображение | | | | |
| Название | В | Г | А | Б |

По 4 баллу за каждую правильно заполненную ячейку. Итого: 16 баллов

Задание 7. Прочтите отрывок из исторического источника и выполните задания.

Из «Повести о стоянии на Угре»

«...Князь великий поехал из Коломны на Москву к церквам Спаса и Пречистой Богородицы и к святым чудотворцам, прося помощи и защиты православному христианству, желая обсудить и обдумать это с отцом своим митрополитом Геронтием, и со своей матерью великой княгиней Марфой, и своим дядей Михаилом Андреевичем, и со своим духовным отцом архиепископом ростовским Вассианом, и со своими боярами – ибо все они тогда пребывали в осаде в Москве. И молили его великим молением, чтобы он крепко стоял за православное христианство...

Князь великий послушался их мольбы: взяв благословение, пошел на Угру и, придя, стал у Кременца с небольшим числом людей, а всех остальных людей отпустил на Угру...

[Хан] Ахмат же со всеми татарами пошел по Литовской земле мимо Мценска, Любутска и Одоева и, придя, стал у Воротынска, ожидая, что король придет к нему на помощь.

Король же не пришел к нему и сил своих не послал... Ахмат же пришел к Угре со всеми силами, хотя перейти реку...

И пришли татары, начали стрелять, а наши – в них, одни наступали на войска князя Андрея, другие многие – на великого князя, а третьи внезапно нападали на воевод. Наши поразили многих стрелами и из пищалей, а их стрелы падали между нашими и никого не задевали. И отбили их от берега. И много дней наступали, сражаясь, и не одолели, ждали, пока станет река...

Когда же река стала, тогда князь великий повелел своему сыну, великому князю, и брату своему князю Андрею, и всем воеводам со всеми силами перейти к себе в Кременц, боясь наступления татар – чтобы, соединившись, вступить в битву с противником... Вот тут-то и случилось чудо Пречистой: одни от других бежали, и никто никого не преследовал.

[Хан] же бежал в Орду, и пришел на него ногайский царь Ивак, и Орду взял, и его убил... И так избавил Бог и Пречистая Русскую землю...»

7.1. Укажите название периода в истории России, к которому относятся описанные события. Укажите год, когда они произошли. Укажите имя великого князя, с которым они связаны.

Ответ: период борьбы с зависимостью Руси от Золотой Орды / период зависимости Руси от Золотой Орды (2 балла), 1480 г. (2 балл), Иван III (2 балла).

7.2. Как автор повести относится к событиям, о которых он пишет? Кого он поддерживает? Приведите два аргумента для обоснования вашего мнения.

Ответ: автор сочувствует великому князю и русским воинам, радуется их успехам (2 балл)

Аргументы (по 4 балла, максимум – 8 балла):

- автор описывает события как торжество православного христианства;
- автор называет произошедшее чудом, которое сотворили Бог и Пречистая;
- автор пишет о том, что стрелы ордынцев не нанесли никакого урона русским воинам, тогда как русские стрелы не щадили воинов хана Ахмата.

7.3. Какое значение в отечественной истории имеют описанные события? Приведите одно положение.

Ответ: окончание более чем двухсотлетней зависимости Руси от Орды / освобождение Русского государства от зависимости (2 балла).

7.4. С каким процессом в развитии государства связаны эти события? Назовите его.

Ответ: объединение русских земель вокруг Москвы / образование единого Российского государства (2 балла).

Итого: 20 баллов