


**Критерии оценивания, задания и ответы к заданиям МЭ ВсОШ  
по предмету: История  
8 класс  
2023-2024 учебный год**

**Задание 1.** Выберите по 1 верному ответу в каждом задании и занесите выбранные ответы в таблицу (2 балла за каждый правильный ответ, максимальный балл – 8):

**1.1. О каком городе идет речь?**

*В герб этого города, отражающий военную хитрость при взятии Казани, вписана «чередa золотых ладей без числа ... и стоящая на них золотая же бревенчатая крепость»*



1. Царев-Борисов
2. Свияжск
3. Александрова слобода
4. Орешек

**1.2. Определите историческую личность:**

*«Знатная новгородская боярыня, вдова посадника, которая выступала за вхождение Новгорода в состав Литвы. Во время второго похода Ивана III на Новгород в 1478 г. была взята под стражу. Ее огромные владения были отписаны в великокняжескую казну, а она сама умерла при невыясненных обстоятельствах»*

1. Елена Глинская
2. Марфа Борецкая
3. Феодосия Морозова
4. Евдокия Урусова

**1.3. «Крестоцеловальная запись», в которой было дано обещание: «...Всякого человека, не судя истинным судом с бояры своими, смерти не предати»,**

**связана с именем:**

1. Бориса Годунова
2. Михаила Романова
3. Василия Шуйского
4. Ивана IV

**1.4. Определите историческую личность:**

«Родился в 1656г, но только в 1702 г. грамотой Петра I пожалована фамилия ... вместо прозвища Антуфьев. Главный поставщик оружия для русской армии. Пожаловал несколько тысяч рублей на строительство Санкт-Петербурга. Построил четыре завода на Урале и один на Оке. В 1720 году получил дворянское звание. Умер в год смерти Петра Великого».

1. Григорий Строганов
2. Никита Демидов
3. Савва Морозов
4. Александр Меншиков

1.1.	1.2.	1.3.	1.4.
2	2	3	2

**Задание 2.** По какому историческому критерию образованы ряды (до 2 баллов за каждый ряд, всего за ответ 8 баллов). Ответы внесите в таблицу.

1. П.Ляпунов, Д.Трубецкой, И. Заруцкий
2. 1497, 1581, 1597, 1649
3. Гедемин, Ольгерд, Ягайло, Витовт
4. Челобитный, Посольский, Поместный, Разрядный

1.	Руководители Первого ополчения
2.	Этапы закрепощения крестьян
3.	Литовские князья
4.	Приказы

**Задание 3.** Установите правильное соответствие и впишите ответы в таблицу (1 балл за ответ, максимальный балл – 5).

<i>Личность</i> 1) И. Ползунов 2) Ф. Волков 3) Э. Фальконе 4) М. Ломоносов 5) Д. Левицкий	<i>Достижение</i> А) Создание норманнской теории Б) Изобретение паровой машины В) Портрет Екатерины II Г) Памятник Петру I Д) Открытие первого профессионального театра Е) Критика норманнской теории
--	---

1	2	3	4	5
Б	Д	Г	Е	В

**Задание 4.** Определите хронологический порядок событий. Занесите буквенные обозначения событий российской и всемирной истории в хронологическом порядке в приведенную таблицу (1 балл за каждый правильный ответ, максимальный балл – 6). Ответы внесите в таблицу.

А) оборона Калуги князем Пожарским

- Б) строительство Зимнего дворца
- В) Полтавская битва
- Г) появление парламента в Англии
- Д) сооружеение белокаменных стен Московского Кремля
- Е) начало Реформации в Германии

1	2	3	4	5	6
Г	Д	Е	А	В	Б

**Задание 5.** Перед вами две известные художественные картины изображающие народные восстания. Ответе на вопросы, приведенные в таблице. (2 балл за каждый правильный ответ, максимальный балл – 14).

**Картина 1**



**Картина 2**



<b>Вопросы к картинам</b>	<b>Ответы</b>
5.1. Укажите, когда (напишите год) произошло восстание, изображенное на картине 1 и его название	1662 Медный бунт
5.2. Укажите, когда (напишите год) произошло восстание, изображенное на картине 2 и его название	1648 Соляной бунт
5.3. Кто правил страной в период этих восстаний? (Укажите имя, отчество и прозвище правителя)	Алексей Михайлович Тишайший
5.4. Как современники назвали период правления этой личности?	Бунташный век
5.5. Как называется церковь, изображенная на картине 1? Где она находится?	Вознесения в с. Коломенском
5.6. При каком правителе построена эта церковь? В честь какого события построена этот храм?	Василий III. В честь рождения Ивана IV
5.7. Какой архитектурный стиль начинается в России с постройки этой церкви?	Шатровый стиль

**Задание 6.** Используя историческую карту 1 и картину 3, напишите ответы на вопросы (2 балла за каждый ответ, максимальный балл – 10). Ответы внесите в таблицу.

**Карта 1**



**Картина 3**



Вопросы по карте и картине	Ответы
6.1. Укажите имя и фамилию исторической личности, возглавлявшей со стороны восставших военные действия, представленные на карте и событие, которому посвящена картина. Какое высокое звание имел этот человек?	Богдан Хмельницкий. Гетман.
6.2. Где проходило событие, представленное на картине? В каком году? Укажите главный исторический итог этого события.	Переяславль. 1654. Воссоединение Украины с Россией.
6.3. Укажите, с каким государством России вступила в длительную войну в результате представленных на карте и картине событий.	Речь Посполитая (Польша)
6.4. Укажите название перемирия, которое завершит войну России с этим государством. В каком году оно было подписано?	Андрусовское. 1667.
6.5. Какие территории присоединит Россия по итогам данного перемирия?	Смоленск. Левобережная Украина, Киев.

**Задание 7. Прочитайте отрывок из исторического источника и выполните задания. (6 и 9 баллов за ответ, максимальный балл – 15).**

*«Божиею милостию, мы, Петр Третий, император и самодержец Всероссийский и протчая, и протчая, и протчая.*

*Объявляется во всенародное известие.*

*Жалуем сим имянным указом с монаршим и отеческим нашим милосердием всех, находившихся прежде в крестьянстве и в подданстве помещиков, быть верноподданными рабами собственной нашей короне; и награждаем древним крестом и молитвою, головами и бородами, вольностию и свободою и вечно казаками, не требуя рекрутских наборов, подушных и протчих денежных податей, владением землями, лесными, сенокосными угодьями и рыбными ловлями, и соляными озерами без покупки и без оброку; и освобождаем всех от прежде чинимых от злодеев дворян и градцких мздоимцов-судей крестьяном и всему народу налагаемых податей и отягощений. И желаем вам спасения души и спокойной в свете жизни, для которой мы вкусили и претерпели от прописанных злодеев-дворян странствие и немалыя бедствия.*

*А как ныне имя наше властью всевышней десницы в России процветает, того ради повелеваем сим нашим имянным указом: кои прежде были дворяне в своих поместьях и водчинах,— оных противников нашей власти и возмутителей империи и разорителей крестьян, ловить, казнить и вешать, и поступать равным образом так, как они, не имея в себе христианства, чинили с вами, крестьянами».*

**7.1. Укажите имя, отчество и фамилию настоящего автора данного манифеста. Кто он был по происхождению? (6 б.).**

Емельян Иванович Пугачев. Донской казак.

**7.2. Приведите три аргумента подтверждающие подлинное авторство этого манифеста (9 б.).**

- 1) Пугачев – самозванец, выдавший себя за Петра III
- 2) Положения манифеста в пользу крепостных крестьян и народа в целом
- 3) Призыв к истреблению дворян


**Задание 8. На основе иллюстрации напишите ответы на вопросы. (2 б. за ответ на 1 – вопрос – максимальный балл - 18).**

1.



3.

2.

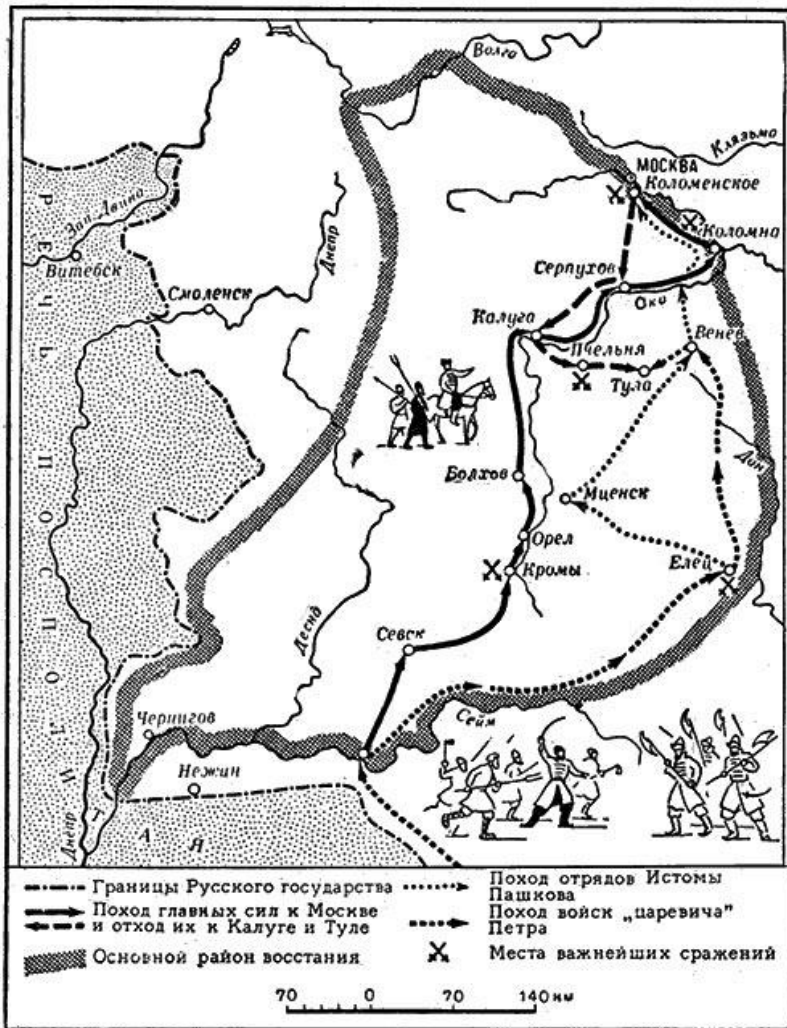




№	Укажите название собора	Где находится собор?	Что определяет особое историческое значение этого собора?
1	Петропавловский	Санкт-Петербург (Петропавловская крепость)	Усыпальница российских императоров
2	Архангельский	Москва (Кремль)	Усыпальница московских князей и царей
3	Успенский	Москва (Кремль)	Место венчания на царство российских царей и императоров

**Задание 9.** Используя историческую карту 2, напишите ответы на вопросы (1 балл за каждый ответ, максимально – 12 баллов). Ответы внесите в таблицу.

**Карта 2**




Вопросы	Ответы
6.1. Как называлась историческая эпоха, к которой относится народное восстание, представленное на картах 1 и 2?	Смута, Смутное время
6.2. Укажите хронологические рамки этого восстания.	1606 – 1607 гг.
6.3. Кто был правителем России в период, когда произошло данное восстание?	Василий Шуйский
6.4. Укажите годы правления этого царя.	1606 - 1610
6.5. Кто был предводителем восстания, представленного на картах? Укажите имя и фамилию.	Иван Болотников
6.6. Почему восставшие потерпели поражение под Москвой?	На сторону Шуйского перешли дворянские отряды Пашкова и Ляпунова



6.7. В каком городе восставшие успешно оборонялись от царских войск после поражения под Москвой?	Калуга
6.8. Как в этом городе увековечена память о предводителе данного восстания?	Улица Болотникова
6.9. В каком городе армия восставших была уничтожена царскими войсками?	Тула
6.10. Каким образом царь сумел победить восставших? Укажите две причины.	1. Сооружение плотины и затопление Тулы 2. Обещание пощадить повстанцев, если те сложат оружие
6.11. Укажите известную историческую личность, сыгравшую негативную роль в эту эпоху и убитого в 1610 г. в городе, упомянутом в вопросе 6.7.	Лжедмитрий II
6.12. Под каким прозвищем эта личность вошла в нашу историю?	Тушинский вор (Калужский вор)

**Задание 10.** Перед вами портрет известной исторической личности – полководец и государственный деятель (2 балл за каждый ответ, максимально – 4 балла).



**10.1. Кто изображен на портрете?**

Михаил Скопин-Шуйский

**10.2. Как назывался этот ранний жанр портрета в русском царстве в XVII веке?**

Парсуна

**ИТОГО – 10 заданий – 100 баллов. ЖЕЛАЕМ УСПЕХА!**