

**Задания муниципального этапа
всероссийской олимпиады школьников в Республике Карелия
в 2023-2024 учебном году
по истории**

10-11классы

Уважаемый участник Всероссийской олимпиады по истории! Вам предлагается выполнить задания муниципального этапа олимпиады. Внимательно читайте формулировку каждого задания, чтобы правильно ответить на поставленные вопросы. В скобках указано максимальное количество баллов за задание. Желаем успеха!

**Время выполнения работы – 120 минут
Максимальное количество баллов – 113 баллов**

ЗАДАНИЯ

Задание 1. Выберите верный ответ. Максимальный балл - 5

№ 1. Какой из указанных ниже племенных союзов НЕ относится к восточным славянам?

- 1) мурома 2) уличи 3) кривичи 4) вятичи

№ 2. Прочитайте отрывок из исторического источника и определите, в каком году был подписан договор, фрагмент которого представлен в отрывке. «Посланные по указу августейшего императора для установления границ думный вельможа, главноначальствующий над телохранителями, первого старшего класса свитский генерал Сонготу, и посланный по указу белого царя Русского государства для установления границ великий посол, окольный и наместник брянский Фёдор Алексеевич Головин, собрались в местности, называемой Нибчу, для того чтобы обуздать тех занимающихся охотой подлых людей обоих государств, которые самовольно переходят границу, охотятся, убивают друг друга, совершают насилия, занимаясь гнусными делами; чтобы Китайского и Российского государства точно установить границу, а также чтобы, законы соединив, осуществить вечный мир».

- 1) 1689 2) 1725 3) 1796 4) 1858

№ 3. Выберите годы правления монарха, при котором началось строительство Китайско-Восточной железной дороги (КВЖД).

- 1) 1825–1855 гг. 2) 1855–1881 гг. 3) 1881–1894 гг. 4) 1894–1917 гг.

№ 4. Выберите из перечня ведущих промышленных предприятий Карелии советской эпохи то, которое позже других введено в строй

- 1) Сегежский целлюлозно-бумажный комбинат 3) Костомукшский горно-обогатительный комбинат
2) Машиностроительный завод «Тяжбуммаш» 4) Онежский тракторный завод

№ 5. Кто из писателей Карелии является автором романа «За чертой милосердия» — о рейде летом 1942 года в тыл противника карельской партизанской бригады?

- 1) Александр Линевский 2) Якко Ругоев 3) Дмитрий Гусаров 4) Антти Тимонен

Задание 2. В истории существует значительное число устойчивых выражений. Установите соответствие между выражением и событием (процессом, явлением), с которым связано его появление. **За каждый верный ответ – 1 балл. Всего 7 баллов**

Исторический фразеологизм	Историческое событие
1) «Иду на Вы»	А) революция 1905-1907 гг.
2) «Орлеанская Дева»	Б) приход к власти фашистов в Италии
3) «Дипломатическая революция»	В) путешествие Екатерины II в Крым
4) «Красные рубашки»	Г) Семилетняя война

5) «Потемкинские деревни»	Д) походы Святослава
6) «Столыпинский галстук»	Е) Столетняя война
7) «Поход чернорубашечников»	Ж) Рисорджименто в Италии

Ответ:

1	2	3	4	5	6	7

Задание 3. По какому принципу образованы ряды? За каждый верный ответ – 2б.

Максимальный балл – 6.

- 1) Виллим Геннин, Аникита Ярцов, Чарльз Гаскойн,
- 2) Густав Ровио, Геннадий Куприянов, Иван Сенькин
- 3) Архиппа Пертунен, Трофим Рябинин, Ирина Федосова, Василий Щеголенок

Задание 4. Определите пропущенные в тексте названия, слова, имена, даты, обозначенные порядковыми номерами. При необходимости при порядковых номерах даются пояснения о характере требуемой вставки. Необходимые вставки впишите под соответствующими номерами в таблицу. За каждый правильно заполненный пробел – 1 балл. Максимальный балл - 17







К началу летней кампании 1943 г. гитлеровское командование разработало операцию под кодовым названием (1 – название). Враг рассчитывал захватить стратегическую инициативу, разгромить войска, оборонявшие (2 – название выступа линии фронта), чтобы потом развить наступление на (3 – город). На этот раз (4 – орган стратегического руководства Вооруженными силами) своевременно разгадала замысел противника и разработала ответный план, рассчитанный на то, чтобы обескровить врага в оборонительных боях, затем перейти в контрнаступление. (5 – дата) немецкие войска перешли в наступление, чтобы окружить советские войска в районе (6 – город). В бой были брошены новейшие танки – (7 – два названия боевых машин), которые по огневой мощи и бронестойкости превосходили основной советский танк (8 – название). На северном крыле оборону держали войска Центрального фронта под командованием (9 – фамилия). Противнику удалось вклиниться в нашу оборону и продвинуться к железнодорожной станции (10 – название). Однако там враг попал в «огневой мешок» советских арtpолков. В этом бою наводчик орудия 19-летний (11 – фамилия) вдвоем с командиром орудия В. Малафеевым подбил семь немецких танков. За этот бой отважный воин посмертно был удостоен звания Героя Советского Союза. На южном фланге сражались войска Воронежского фронта под командованием (12 – фамилия). В июле 1943 г. свои первые воздушные победы одержал легчик-ас (13 – фамилия), трижды Герой Советского Союза. Кульминацией битвы стало тяжелейшее танковое сражение у деревни (14 – название). Понеся большие потери, враг вынужден были перейти к обороне. Измотав противника в суровых боях, советские войска начали контрнаступление. В ходе наступательной операции (15 – название) был освобожден Орел. В ходе наступательной операции (16 – название) были освобождены Белгород и Харьков. В день освобождения этих городов (17 – дата) в Москве впервые с начала войны был дан салют в честь наших доблестных войск. После поражений лета 1943 года враг уже не смог стабилизировать Восточный фронт.

1	10
2	11
3	12
4	13
5	14
6	15
7	16
8	17
9	

Задание 5. Перед вами изображения памятников, посвящённых событиям Великой Отечественной войны.

Выберите из списка современные названия городов, находящихся на территории государств бывшего СССР, в которых располагаются изображённые на фотографиях памятники.

За каждый правильный элемент ответа – 1 балл. Максимальный балл – 6.

<p>А.</p> 	<p>Б.</p> 
<p>В.</p> 	<p>Г.</p> 
<p>Д.</p> 	<p>Е.</p> 

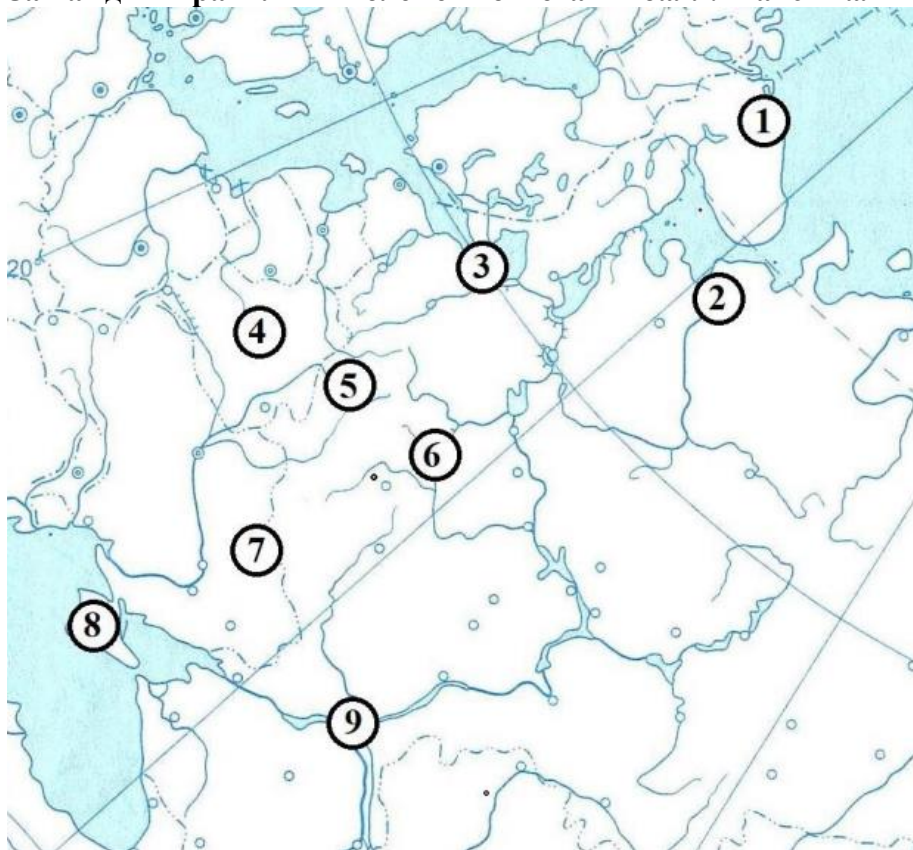
Список городов: 1) Брест 2) Волгоград 3) Киев 4) Минск 5) Москва 6) Мурманск
7) Новороссийск 8) Санкт-Петербург 9) Севастополь 10) Тула

Ответы:

А	Б	В	Г	Д	Е

Задание 6. Установите соответствие между памятниками (см задание 5) и цифровыми обозначениями городов, в которых они находятся, на карте. Обратите внимание на то, что среди цифровых обозначений на карте есть «лишние».

За каждый правильный элемент ответа – 1 балл. Максимальный балл – 6.



Ответы:

А	Б	В	Г	Д	Е

Задание 7. Расположите события в хронологической последовательности (максимальный балл -2)

№ 1 послевоенные годы

- А. Совет народных комиссаров преобразован в Совет министров СССР
- Б. испытана советская атомная бомба
- В. советская сборная приняла участие в Олимпийских играх в Хельсинки
- Г. государства-победители во Второй мировой войне в Париже подписали мирный договор с Финляндией

1	
2	
3	
4	

№ 2. из истории советской космонавтики

- А. На околоземной орбите начала работу орбитальная космическая станция «Салют»
- Б. Советский спускаемый аппарат совершил посадку на Венеру
- В. Космонавт Алексей Леонов осуществил выход в открытый космос
- Г. Состоялась стыковка на орбите Земли советского корабля «Союз» с американским кораблем «Аполлон»

1	
2	
3	
4	

Задание 8. Ниже приводятся отрывки из различных источников, связанные с событиями (явлениями) российской истории. Определите эти события (явления) и запишите их.

За каждый верный ответ – 2 балла. Максимальный балл – 14.

1) «Видя такой урон ... князь Владимир Андреевич не мог терпеть и сказал Дмитрию Волынцу: «Какая польза в стоянии нашем, какой будет у нас, успех, кому будем пособлять? Уже наши князья и бояре; все русские сыны жестоко погибают, как трава, клонятся!» И сказал Дмитрий Волынец: «Беда, князь, велика, но ещё не пришёл наш час».

2) «Под Александровой слободой, в 3 верстах от неё на юг, по Московской дороге была застава. И те, кто были при великом князе в Слободе, не могли выйти и никто извне не мог войти без памятной записки в качестве удостоверения. Об этом узнали все неверные слуги своих господ – земских. И когда кто-нибудь из них подходил к заставе и говорил: “У меня есть дела господарские”, его тотчас же доставляли от заставы в Слободу, в приказ, и всему, что бы ни говорил он о своём господине, всему давалась вера».

3) Там, среди шумного моря,
Вьётся Андреевский стяг, -
Бьётся с неравною силой
Гордый красавец «Варяг»...

4) «1. Помещичья собственность на землю отменяется немедленно без всякого выкупа 2) Помещичьи имения, равно как и все земли удельные, монастырские, церковные, со всем их живым и мертвым инвентарем, усадебными постройками и всеми принадлежностями переходят в распоряжение волостных земельных комитетов и уездных Советов крестьянских депутатов, впредь до Учредительного собрания»»

5) «Отмечая беспримерную героическую работу летчиков, ...Центральный исполнительный комитет Союза ССР постановляет: Присвоить звание Героев Советского Союза – Ляпидевскому А. В., Леваневскому С. А., Молокову В. С., Каманину Н. П., Слепневу Н. Т., Водопьянову М.В., Доронину И.В»

6) «Государственная граница между СССР и Финляндской Республикой устанавливается по новой линии, по которой в состав территории СССР включаются весь Карельский перешеек с г. Выборгом (Виипури) и Выборгским заливом с островами, западное и северное побережье Ладожского озера с городами Кексгольмом, Сортавала, Суоярви, ряд островов в Финском заливе, территория восточнее Меркярви с городом Куоляярви, часть полуостровов Рыбачьего и Среднего – согласно приложенной к настоящему Договору карте»

7) «Чтобы как-то смягчить обстановку, я предложил членам советского руководства: «Сходим, товарищи, в Большой театр. Сейчас в мире напряженная обстановка, а мы появимся в театре. Наш народ и иностранцы будут это видеть, и это станет действовать успокаивающе. Если Хрущев и другие лидеры сидят в театре в такое время, то можно спокойно спать». Но сами-то мы очень тогда беспокоились. Не требуется большого ума, чтобы начать войну. Мы не хотели войны, не хотели сами иметь жертвы и не хотели наносить потери Америке»


1)	5)
2)	6)
3)	7)
4)	

Задание 9. Соотнесите писателя и созданное им произведение. Максимальный балл – 18

Изображение (буква)	Писатель (Фамилия)	Его произведение
А		
Б		
В		
Г		
Д		
Е		
Ж		
З		
И		

Художественные произведения:

- 1) «Царь Федор Иоаннович»
- 2) «Скифы»
- 3) «Госка по Родине! Давно...»
- 4) «Марфа-посадница»
- 5) «Василий Теркин»
- 6) «Водопад»
- 7) «Реквием»
- 8) «Тихий Дон»
- 9) «Дни Турбиных»





Ж



З



И

Задание 10. Анализ исторического источника. Максимальный балл – 12.

«В первые же годы своего правления князь добился того, что в Москву из Владимира была переведена митрополичья кафедра. Он сумел приобрести расположение митрополита _____, так что этот святитель жил в Москве больше, чем в других местах. _____ умер и был погребен в ней. Гроб святого мужа был для Москвы так же драгоценен, как и пребывание живого святителя: выбор _____ казался внушением Божиим...»

- 1) Как звали митрополита, чье имя пропущено в тексте летописной повести? (1б.) _____
- 2) Укажите век, к которому относится описанное событие, и имя великого князя, с которым оно связано. (1б.) _____
- 3) Напишите 5 направлений политики данного князя для развития России, которые не упомянуты в источнике. (по 2б. за каждую позицию)

Задание 11. Напишите эссе – сочинение на одну из выбранных тем. Максимальный балл – 20.

Критерии эссе:

- А) Обоснованность выбора темы (объяснение выбора темы и задач, которые ставит перед собой участник в своей работе) – до 5 баллов.
- Б) Грамотность использования исторических фактов и терминов – до 5 баллов.
- В) Четкость и доказательность основных положений работы – до 5 баллов.
- Г) Знание различных точек зрения по избранному вопросу – до 5 баллов.

Темы:

1. «Христианизация Руси и родство правящего рода с византийским двором ввели Русь в семью европейских народов на совершенно равных основаниях» (Д.С. Лихачёв).
2. «Иван III – правитель, которого по размаху его деятельности можно сравнить только с Петром I» (Н.С. Борисов).
3. «Смутное время впервые и больно ударило по сонным русским умам, заставило способных мыслить людей раскрыть глаза на окружающее, взглянуть прямым и ясным взглядом на свою жизнь» (В. О. Ключевский).
4. «Легко убедиться, что некоторые из начинаний Петра III имели прогрессивный характер... Однако этот прогрессивный характер перечёркивается методами, которыми он пытался их проводить, указывающими на полное отсутствие у него такого важного качества, как политический реализм» (А.Б. Каменский).
5. «Если смотреть на дело с точки зрения тогдашних международных отношений и если принять во внимание реальные условия момента, то следует, во всяком случае, признать, что политика Александра в Тильзите и через год при Эрфурте была очень искусна» (А.А. Корнилов).
6. «Да, он (Николай I) с гордостью называл себя «государем-консерватором», но не был реакционером, каким его часто изображают» (В. Л. Выскочков).

7. «Мы не пойдем 1917 год, если не приложим усилия для понимания надежды, идеализма, героизма, злости, страха, отчаяния, которые его мотивировали» (Стивен Смит)
8. «В гражданской войне всякая победа - поражение» (Марк Анней Лукан).
9. «Сделать столько ошибок, и потом восстать из пепла и довести страну до величайшей было ни с чем не сравнимым триумфом. Мир для нас, для демократий, спас Сталин» (Дж. Робертс).
10. «Ни один его шаг не был сделан достаточно твердо, ни одного начинания не было доведено до конца... Более всего реформы губило то, как именно они проводились и какие ограниченные – по сравнению со вспыхнувшими надеждами – результаты давали» (И.В. Русинов о Н.С. Хрущёве).
10. «Многообещающая перестройка, как вскоре стало всё больше и больше выясняться, не была сколько-нибудь подготовлена в идейном плане, оказалась чистой импровизацией и закончилась подлинной трагедией» (А.И. Вдовин).

Итоговая таблица (заполняется членами жюри):

№ зад.	1	2	3	4	5	6	7	8	9	10	11	Итого
Кол-во баллов												

Председатель жюри:

Члены жюри: