



**ВСЕРОССИЙСКАЯ ОЛИМПИАДА ШКОЛЬНИКОВ
ПО ИСТОРИИ. МУНИЦИПАЛЬНЫЙ ЭТАП
2023/2024 уч. год**



**БЛАНК ЗАДАНИЙ
7-8 КЛАСС**

*Максимальное количество баллов – 100 баллов
Время выполнения заданий – 3 часа (180 минут)*

**Вам необходимо внимательно прочитать задания и ответить на вопросы.
Выберите один правильный вариант и запишите в бланк ответов
соответствующую цифру.
*Каждый правильный ответ оценивается в 2 балла.***

Задание 1. Какое из ниже представленных событий произошло раньше остальных?

- 1) Воцарение на Российском престоле Василия Ивановича Шуйского
- 2) Убийство Лжедмитрия II татарским князем Петром Урусовым
- 3) Выступление первого народного (земского) ополчения
- 4) Осада Тулы и окончание восстания под руководством Ивана Болотникова

Задание 2. Какие из перечисленных ниже народов является коренным народом Кемеровской области – Кузбасса?

- | | |
|-------------|------------|
| 1) Удэгейцы | 2) Эвенки |
| 3) Энцы | 4) Телеуты |

Задание 3. Какой из ниже представленных городов Западной Сибири изначально представлял собой крепость-острог?

- | | |
|-------------|-----------------|
| 1) Тюмень | 2) Екатеринбург |
| 3) Костанай | 4) Красноярск |

Задание 4. По чьему указу был открыт Сузунский монетный двор, чеканивший «сибирскую монету» из колыванской меди?

- | | |
|-----------------------|-------------|
| 1) Елизавета Петровна | 2) Петр I |
| 3) Екатерина II | 4) Петр III |



Выберите три правильных варианта ответа и запишите в бланк ответов соответствующие цифры.

*За каждый правильно отмеченный вариант ответа прибавляется 1 балл.
Максимальное количество баллов за полностью выполненное задание – 3 балла.*

Задание 5. Выберите из ниже представленного списка черты, характерные для экономического развития России XVII в.

- | | |
|-------------------------------------------------|--------------------------------------------|
| 1) начало формирования всероссийского рынка | 2) развитие ярмарочной торговли |
| 3) появление первых частных коммерческих банков | 4) развитие железнодорожного строительства |
| 5) появление мануфактур | 6) прекращение чеканки серебряных монет |

Задание 6. Что из перечисленного можно отнести к событиям отечественной истории XIII века.?

- | | |
|---------------------------|----------------------------|
| 1) Липицкая битва | 2) Дюденева рать |
| 3) Долобский съезд князей | 4) Битва на Моравском поле |
| 5) Осада Хереса | 6) Битва на Туговой горе |

Задание 7. Какими из ниже представленных направлений была представлена русская литература XVIII века?

- | | |
|---------------|-------------------|
| 1) классицизм | 2) футуризм |
| 3) реализм | 4) романтизм |
| 5) акмеизм | 6) сентиментализм |

Задание 8. Какие из ниже перечисленных событий связаны с именем Василия II Темного?

- | | |
|--------------------------------------------|-------------------------------------|
| 1) Автокефалия Русской православной церкви | 2) Нашествие Тамерлана |
| 3) Восстание Степана Разина | 4) Образование Касимовского ханства |
| 5) Строительство Грановитой палаты | 6) Присоединение Нижнего Новгорода |

Определите по какому принципу построены логические ряды, и кто или что является лишним в ряду. Кратко сформулируйте ответ и запишите его в бланк ответов.

Максимальное количество баллов за полностью выполненное задание – 4 балла.

Задание 9. Определите по какому принципу построен логический ряд (2 балла) и что является лишним в ряду (2 балла).

Зимний дворец Теремной дворец Смольный собор
Петропавловская крепость Екатерининский дворец

Задание 10. Определите по какому принципу построен логический ряд (2 балла) и кто является лишним в ряду (2 балла).

Д.И. Фонвизин М.В. Ломоносов А.П. Сумароков
Ф.М. Ртищев Н.М. Карамзин

Расставьте события в хронологической последовательности.
Ответ запишите в бланк ответов в виде последовательности цифр.
За каждую верно расположенную в последовательности цифру прибавляется 1 балл. Максимальное количество баллов за полностью выполненное задание – 6 баллов.

Задание 11. Расставьте ниже представленные события в хронологической последовательности.

- | | |
|--------------------------------------------------------|------------------------------------|
| 1) Сражение на реке Воже | 2) Начало княжения Ивана Калиты |
| 3) присоединение Тверского великого княжества к Москве | 4) Принятие общерусского Судебника |
| 5) Основание Троице-Сергиева монастыря | 6) «Стояние» на реке Угре |

Задание 12. Расставьте ниже представленные договоры в хронологической последовательности.



- | | |
|----------------------------------|---------------------------|
| 1) Вечный мир с Речью Посполитой | 2) Ништадтский мир |
| 3) Поляновский мир | 4) Андрусовское перемирие |
| 5) Деулинское перемирие | 6) Столбовский мир |

Установите соответствие и запишите в бланк ответов в виде последовательности цифр и букв (например, 1А 2Б 3В 4Г 5Д 6Е).

Каждое правильное соответствие оценивается в 2 балла.

Максимальное количество баллов за полностью выполненное задание – 12 баллов.

Задание 13. Перед Вами изображения правителей России, взятые из «Царского титулярника», изданного посольским приказом в XVII в. Внимательно рассмотрите изображения, определите кто перед вами и соотнесите изображение правителя с его зарубежным современником.



Современники

А. Христофор Колумб

Б. Людовик XIV

В. Оттон I Великий

Г. Генрих III Английский

Д. Елизавета I Тюдор

Е. Карл II Лысый

Задание 14. Перед вами изображения юбилейных монет, на которых изображены известные памятники архитектуры. Внимательно рассмотрите изображения, определите и сопоставьте памятник архитектуры с соответствующим ему историческим фактом.



1



2



3



4



5



6

Исторические факты

А) Данный храм является первым каменным шатровым храмом в России

В) Данный храм был построен по поручению великого князя Владимирского в XII в.

Д) Данный храм был построен по поручению Ивана IV Грозного в честь присоединения Казанского ханства

Б) Данный памятник является первым домовым храмом московских князей и царей

Г) В этом храме состоялся Земский собор 1613 года, на котором царём был избран Михаил Фёдорович Романов

Е) Автором данного памятника является итальянский архитектор Алевиз Новый

Внимательно прочитайте утверждения и запишите в бланк ответов номера предложений, где содержатся ошибочные утверждения.

***Каждое правильно выбранное ошибочное утверждение оценивается в 1 балл.
Максимальное количество баллов за полностью выполненное задание – 3 балла.***

Задание 15. Выпишите номера ошибочных утверждений.

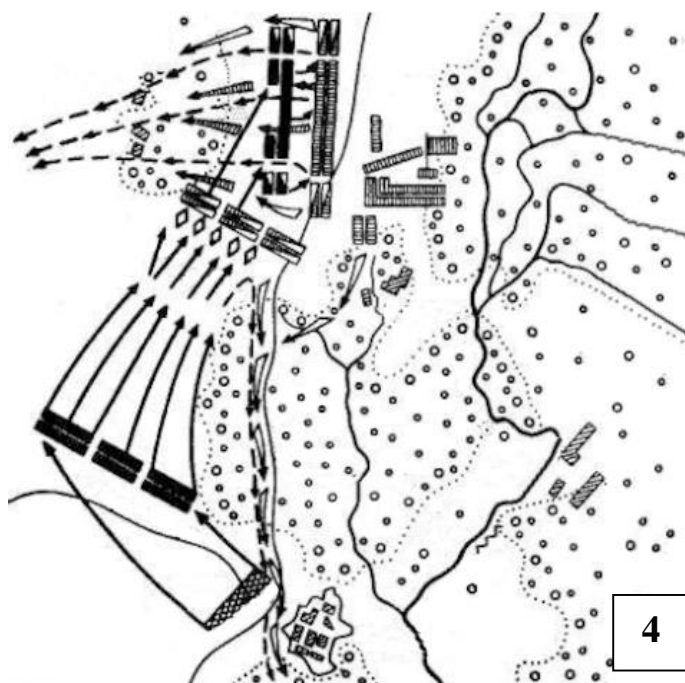
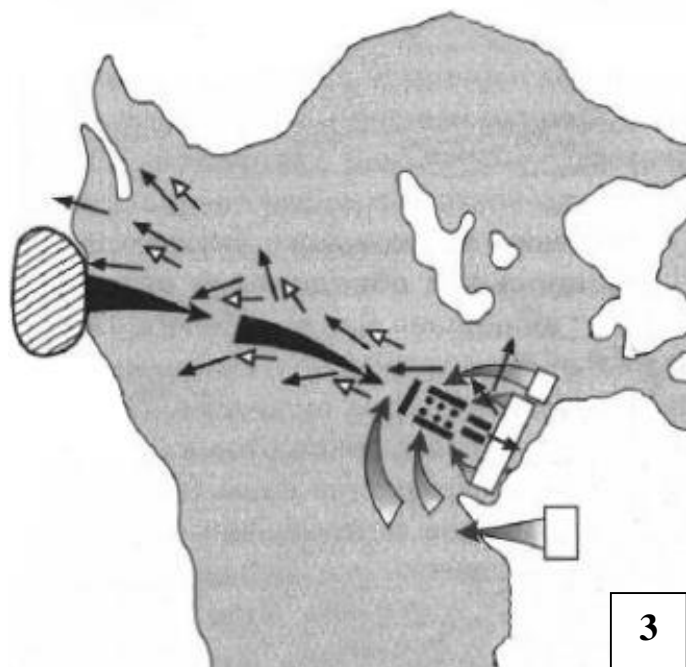
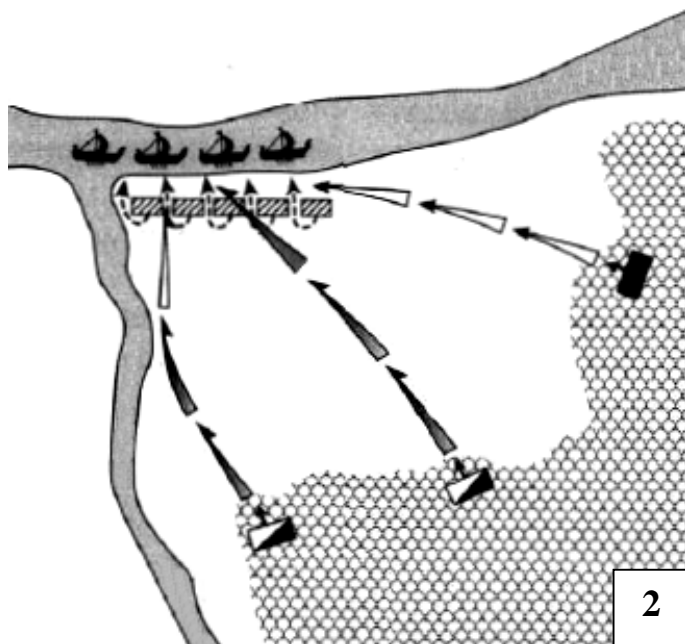
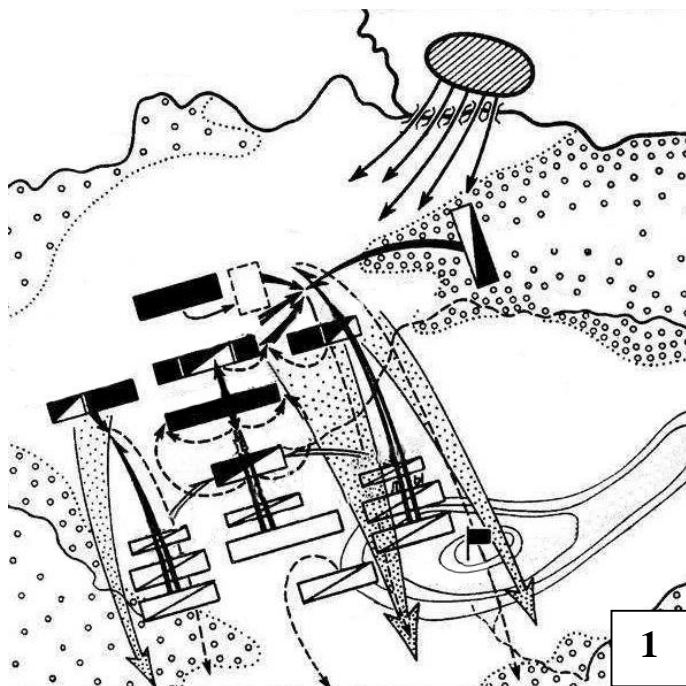
№	Утверждение
1	Автором «Слово о законе и благодати» является первый русский по происхождению киевский митрополит Иларион Киевский.
2	Храм Покрова на Нерли был построен при Иване IV Грозном в память о любимом сыне, царевиче Иване.
3	Произведения «Повесть о разорении Рязани Батыем» и «Слово о погибели Русской земли» относят к литературным памятникам XIII в., центральной темой которых является борьбы с монголами.
4	По проекту Аристотеля Фиораванти в Московском Кремле была построена Грановитая палата – место для проведения торжественных обедов, заседаний и церемониальных приёмов.
5	В 1586 г. русский литейщик, пушечных и колокольных дел мастер Андрей Чохов отлил «Царь-пушку» – самое большое для своего времени артиллерийское орудие.
6	В 1709 г. в ознаменование победы в Полтавской битве Сенат и Синод решили преподнести Петру I титул Императора Всероссийского.
7	2 января 1703 г. был издан номер первой печатной российской газеты «Ведомости».
8	В период правления Михаила Федоровича Романова на Никольской улице была открыта первая высшая школа – Славяно-греко-латинская академия.

Внимательно рассмотрите изображения, выполните задания и запишите в бланк ответов в виде последовательности цифр и букв (например, 1А 2Б 3В 4Г).

Каждый правильный ответ на вопрос оценивается в 2 балла.

Максимальное количество баллов за полностью выполненное задание – 8 баллов.

Задание 16. Ниже представлены схематические изображения планов сражений. Внимательно рассмотрите изображения, определите, что за сражение перед вами и сопоставьте план сражения с его описанием.



А) «... <этот год> принес полное изменение положения на севере: упадок, чтобы не сказать уничтожение <государства>, которое так часто приводило в трепет весь север и не раз заставляла дрожать австрийский дом, и необычайное возвышение другой державы, доселе известной лишь по названию и никогда не влиявшей на другие страны, за исключением своих ближайших соседей»

В) «Наличие в русском войске сурожан в качестве проводников даёт основание предполагать о намерении командования русской рати осуществить поход вглубь степей, в которых кочевали татары. Но победу ... не удалось закрепить полным разгромом ... Для этого не было ещё достаточных сил. Учтя большие потери русской рати и опасность похода вглубь степей с небольшими силами, командование приняло решение возвратиться в Москву»

Б) «... Хотя сражаться братья умели
И бились храбро, их одолели.
Часть дерптцев вышла из боя.
Они ушли, в этом спасение нашли,
И не вправе их осуждать я.
Было убито двадцать братьев,
Шестеро братьев в плен угодили,
Такими итоги битвы были.
Князь Александр торжествовал,
Ибо победу он одержал...»

Г) «Новгородцы со своим князем действовали как богатыри, да и само сражение похоже было на богатырскую схватку. В пылу сражения молодой ... князь бросился в середину врагов, желая сразиться с самим начальником шведов. <Он> догнал его и возложил своим острым мечом печать на лицо его ... »

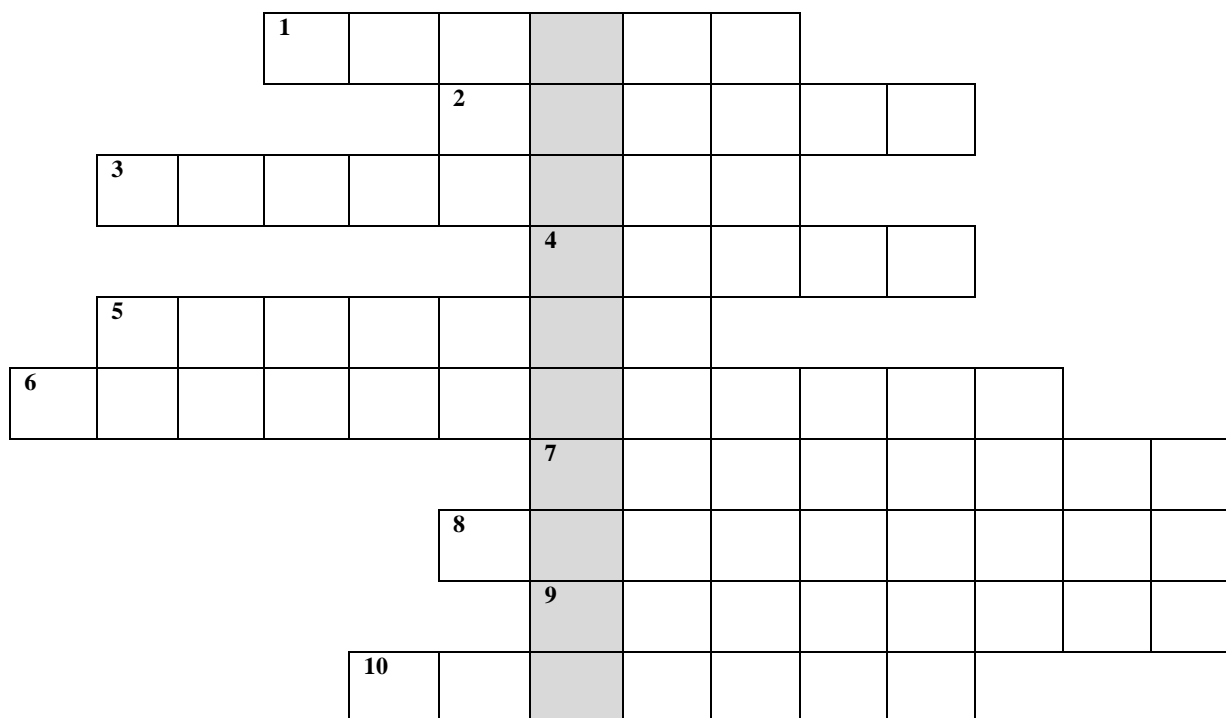
Задание 17. Внимательно прочтите отрывок и заполните пропуски. Пропущенные даты и слова впишите в бланк ответов в именительном падеже.

Каждый правильный ответ на вопрос оценивается в 1 балла.

Максимальное количество баллов за полностью выполненное задание – 6 баллов.

«Весной 1760 г. _____ (1 – имя и фамилия), организовал новый поход на Волгу, имевший характер уже открытого восстания. Он рассылал _____ (2 – название документа), в которых призывал на свою сторону всех ищущих воли и желающих служить ему. Он не собирался свергнуть царя _____ (3 – имя и фамилия), однако объявил себя врагом всей официальной администрации – воевод, дьяков, представителей церкви, обвинив их в «измене» царю. Во всех занятых разинцами городах и крепостях вводилось казачье устройство, представителей центральной власти убивали, канцелярские бумаги уничтожались. Купцов, следовавших по Волге, задерживали и грабили. Продвигаясь по Волге на север и захватив _____ (4 – город), Царицын, Саратов и _____ (5 - город), а также ряд второстепенных крепостей, <он> не смог осенью успешно завершить осаду _____ (6 - город). Между тем царь направил для подавления восстания 60-тысячное войско.»

**Задание 18. Решите кроссворд. Получившиеся слова впишите в бланк ответов.
 Каждое правильно отгаданное слово оценивается в 1 балл.
 Максимальное количество баллов за полностью выполненное задание – 11 баллов.**



1. Тип фортификационного сооружения, появившийся на Руси в XII в.
2. Генерал и адмирал XVII в., ближайший сподвижник Петра I.
3. Центральный орган отраслевого управления, созданный в XVIII в.
4. Казачий атаман, покоривший Сибирское ханство в XVIIв.
5. Даровой принудительный труд зависимого крестьянина в хозяйстве земельного собственника
6. Активная государственная экономическая политика, направленная на создание преобладания вывоза товаров из страны над ввозом с целью накопления денежных средств внутри
7. Название сводов законов Российского государства, создававшихся в XV-XVI вв. в целях систематизации норм права
8. Фамилия монаха Чудова монастыря, вошедшего в истории России под именем Лжедмитрия I
9. Имя киевского князя, за свои деяния прославленного в лике святых как равноапостольный
10. Первая русская печатная книга, изданная в XVI в.

По вертикали: временное осуществление полномочий главы государства в связи с малолетством или болезнью монарха

Задание 19. Внимательно прочитайте фрагмент исторического источника и кратко ответьте на ниже приведенные вопросы. Ответ запишите в бланк ответов.

Каждый правильный ответ на вопрос оценивается в 2 балла.

Максимальное количество баллов за полностью выполненное задание – 8 баллов.

«Вскоре после наказания Никитичей, того же лета за безумное молчание всего мира по поводу гибели невинных омрачил Господь небо облаками, и такой дождь начался, что все люди пришли в ужас. И прекратились все земледельческие работы, и все проросшие семена сгнили от безмерных вод, льющихся с неба; и 10 дней земля не могла просохнуть. До жатвы побил мороз все, что выросло на полях и в садах. Земля была как огнем опалена. После этого года следующий был еще хуже, так же было и на третий год.

Царь пытался раздавать милостыню, но от этого стало еще хуже. В Москву за раздачами денег из казны отправились тысячи людей. Но на полученные деньги было невозможно прокормиться из-за дороговизны на рынках. Поэтому пришедшие погибали прямо на улицах. За два года и четыре месяца по велению царя было подсчитано, что в трех братских могилах было похоронено 127 тысяч человек...»

19.1. Определите событие, описанное в представленном выше отрывке из исторического источника (1 балл), и датировать его (1 балл).

19.2. Укажите имя и фамилию русского царя, в правление которого произошло данное событие (1 балл), а также годы его правления (1 балл).

19.3. Что позволяет вам определить, что речь идёт именно об этом событии? Сформулируйте свой ответ и найдите в тексте два подтверждения своей позиции (2 балла за каждое подтверждение).