

**Муниципальный этап всероссийской олимпиады школьников
по истории
2023-2024 учебный год
7 класс
Максимальный балл – 100.**

Задание 1. Выберите по 1 верному ответу в каждом задании (Максимальный балл – 6).

1.1. В конце XV в. в случае ухода крестьянина от землевладельца, он должен был внести ему за пользование двором плату. Укажите название этого платежа:

- 1) оброк
- 2) тягло
- 3) подать
- 4) пожилое
- 5) выход

1.2. Прочитайте отрывок из летописи. На основании анализа текста, определите место описываемого сражения.

«И, переправившись через Оку, вошел [князь] в землю Рязанскую и встретился с татарами... и остановились обе силы, а между ними была река. По прошествии немногих дней татары переправились на эту сторону реки... и ударили наших. А наши ринулись на них... и великое множество перебили их, а многие из них в реке утонули, и вот имена убитых князей их: Хазибей, Коверга, Карабулук, Костров, Бегичка».

- 1) р. Вожа
- 2) р. Дон
- 3) р. Калка
- 4) р. Сальница
- 5) р. Сить

1.3. Прочитайте отрывок из летописи, определите, о каком событии идет речь. Укажите год этого события.

«Выступил в поход Олег, взяв с собою много воинов, и пришел к Смоленску, ...и взял Любеч, ... и пришли к горам Киевским, и узнал Олег, что княжат тут Аскольд и Дир. ... спрятал он воинов, и послал к [ним], говоря, что – де «мы купцы, идем к грекам...», придите к нам... Когда же Аскольд и Дир пришли, воины выскочили, и сказал Олег: «Вы не есть рода княжа, аз есмь рода княжа». И убили Аскольда и Дира... И сел Олег, княжа, в Киеве...».

- 1) 862 г.
- 2) 879 г.
- 3) 882 г.
- 4) 907 г.
- 5) 911 г.

Ответ:

| 1.1 | 1.2 | 1.3 |
|-----|-----|-----|
| | | |

Задание 2. Выберите несколько верных ответов в каждом задании (Максимальный балл – 9).

2.1. Прочитайте отрывок из исторического источника. На основании анализа текста, определите название источника и укажите относящиеся к нему положения.

«По смерти Святополка Владимир Всеволодович созвал в селе Берестове свою дружину – тысяцких Ратибора киевского, Прокопья Белгородского, Станислава переяславского, Нажира, Мирослава, Иванка Чудиновича, боярина Олега (князя Черниговского), - на съезде постановили:»

- 1) если купец, взяв чужие товары или деньги, потерпит кораблекрушение... то не вправе ... продать его в рабство, но должен позволить ему рассрочку платежа погодно;
- 2) если убьет свободный человек свободного, то [за него имеют право] мстить брат за брата, или сын за отца, или отец за сына...;
- 3) если кто даст другому деньги за проценты, ... то, как заимодавец договорился с должником, так он и получает;
- 4) если же [ростовщик] взимает [с должника] по 10 кун за год с гривны, то это не запрещается;
- 5) ...за вырванный ус или клочок бороды заплатить потерпевшему 12 гривен;
- 6) если закуп убежит от господина [не расплатившись с ним за ссуду], то становится полным холопом; если же он пойдет искать денег с разрешения господина, то его за это нельзя делать холопом;

2.2. Золотая Орда окончательно распалась в первой половине XV в. Какие из перечисленных государств – наследников Золотой Орды граничили с Русским государством при Иване III:

- 1) Большая Орда
- 2) Казахское ханство
- 3) Крымское ханство
- 4) Казанское ханство
- 5) Астраханское ханство
- 6) Ногайская Орда

2.3. Прочитайте текст. На основе текста, определите характер власти при Иване III. Укажите соответствующие регалии Ивана III, как отражение его нового положения.

«После того как спало с Москвы татарское иго... Иван III титулуется себя царём всея Руси. Царями по преимуществу Древняя Русь до половины XV в. звала византийских императоров и ханов Золотой Орды..., и Иван III мог принять этот титул, только перестав быть данником хана. Свержение ига устраняло политическое к тому препятствие, а брак с Софьей давал на то историческое оправдание...»

- 1) стяг с изображением Спаса Нерукотворного
- 2) скипетр
- 3) зеленая восковая печать
- 4) бармы
- 5) держава
- 6) шапка Мономаха

Ответ:

| 2.1 | 2.2 | 2.3 |
|-----|-----|-----|
| | | |

Задание 3. Что объединяет понятия, события, имена, образующие каждый из представленных рядов? Дайте краткий ответ (Максимальный балл – 6).

3.1. Гермонасса, Горгиппия, Бата, Торик, Фанагория

3.2. Вершок, пядь, локоть, сажень, аршин

3.3. Успенский собор, Благовещенский собор, церковь Ризположения, Архангельский собор, колокольня Ивана Великого

Задание 4. Расположите в хронологическом порядке время создания памятников культуры. (Максимальный балл – 2).

- 1) «Слово о полку Игореве»

- 2) «Слово о законе и благодати»
- 3) «Слово о погибели русской земли»
- 4) «Поучение» Владимира Мономаха
- 5) «Моление» Даниила Заточника

Ответ: _____

Задание 5. Соотнесите элементы правого и левого столбцов таблицы (Максимальный балл – 15).

5.1. Установите соответствие между названием русского города и датой его основания (первым упоминанием):

- | | |
|---------------------|------------|
| 1. Великий Новгород | А) 863 г. |
| 2. Суздаль | Б) 1095 г. |
| 3. Владимир | В) 859 г. |
| 4. Москва | Г) 1024 г. |
| 5. Смоленск | Д) 990 г. |
| | Е) 1147 г. |

5.2 Установите соответствие между именами русских князей и отрывками из летописей, в которых они упоминаются:

- | | |
|----------------------------|---|
| 1. Владимир I | А) «Князь ... был хромоног, но ум имел острый. Несмотря на хромоту свою, сам вставал во главе дружины. Особенно почитал книжную мудрость и православное богослужение» |
| 2. Мстислав Великий | Б) «Более он заботился не о ратях, а о земле своей» |
| 3. Ярослав Мудрый | В) «На полях не пахари покрикивали, а каркали вороны, чужавшие поживу» |
| 4. Олег Черниговский | Г) «Много пота утер он за землю русскую» |
| 5. Всеволод Большое гнездо | Д) «Много мужествовал и имел отвагу на бранях, был украшен всеми добрыми нравами, злых казнил, а добромысленных миловал: ибо князь не туж меч носит...» |

5.3 Установите соответствие между событиями отечественной и мировой истории, которые происходили в пределах одного десятилетия.

- | | |
|---|--|
| 1. Падение Константинополя и Византийской империи | А) судебник Ивана III |
| 2. Образование Священной Римской империи | Б) Куликовская битва |
| 3. Открытие Колумбом Америки | В) междоусобная война в Московском княжестве |
| 4. Начало Реформации | Г) Хазарский поход Святослава Игоревича |
| 5. Восстание Уота Тайлера в Англии | Д) присоединение к Москве Рязанского княжества |

Ответ:

| | 1 | 2 | 3 | 4 | 5 |
|------|---|---|---|---|---|
| 5.1. | | | | | |
| 5.2. | | | | | |
| 5.3. | | | | | |

Задание 6. Определите принцип образования ряда и укажите лишний элемент (Максимальный балл – 4):

1238, 1252, 1293, 1377, 1480.

Ответ:

| | |
|----------------|--|
| Принцип | |
| Лишний элемент | |

Задание 7. Заполните пробелы в тексте. Ответ оформите в виде перечня элементов под соответствующими номерами (Максимальный балл – 15).

В лето 6576 _____ (1- год от Рождества Христова). Пришли иноплеменики на Русскую землю _____ (2 – название этноса/народа) многие. Князь великий киевский _____ (3 – имя) же и братья его и _____ (4 – имя) и младший _____ (5 – имя) вышли против них на реку _____ (6 – название). И с наступлением ночи они пошли друг на друга. За грехи наши напустил Бог на нас поганых, и бежали русские князья... Когда князь киевский с сыном бежали в _____ (7 – город), а брат в _____ (8 -город), люди, участвовавшие в походе прибежали в город и собрали _____ (9 -термин власти) на торгу, и послав к князю, сказали ему: «Вот, поганые рассыпались по всей земле, дай нам, князь, _____ (10 – вид снаряжения) и коней, мы ещё побьемся с ними». Князь же этого не послушал. И люди пошли в гору и остановились около двора Брячислава и сказали: «Пойдем освободим дружину свою из _____ (11- место заключения)». И люди закричали, и освободили дружину и сына князя полоцкого _____ (12- имя). Двор же княжеский разграбили, [захватив] бесчисленное множество золота и серебра... Князь же киевский бежал в _____ (13 – государство) ...

В лето 6577 _____ (14 - год от Рождества Христова). Пошел князь киевский со своим родственником, князем _____ (15- имя) вернуть свой стол...

Ответ:

| № | пропуск | № | пропуск |
|---|---------|----|---------|
| 1 | | 9 | |
| 2 | | 10 | |
| 3 | | 11 | |
| 4 | | 12 | |
| 5 | | 13 | |
| 6 | | 14 | |
| 7 | | 15 | |
| 8 | | | |

Задание 8. Прочитайте отрывок из исторического источника и ответьте на вопросы (Максимальный балл – 15):

Сказал <князь> матери своей и боярам своим: «Не любо мне сидеть в Киеве, хочу жить в Переяславце ..., ибо там середина земли моей, туда стекаются все блага: из Греческой земли — паволоки, золото, вина, различные плоды, из Чехии и из Венгрии серебро и кони, из Руси же меха, и воск, и мед, и рабы»...

...И послал к нему цесарь, говоря так: «Не ходи к столице, возьми дань сколько хочешь». И дали ему дань; он же брал и на убитых, говоря: «Возьмет-де за убитого род его». Взял же и даров много и возвратился в Переяславец со славою великою...

...И отправил послов к цесарю в Доростол, ибо там находился цесарь, говоря так: «Хочу иметь с тобою прочный мир и любовь». Цесарь же, услышав это, обрадовался и послал к нему даров больше прежнего. <Князь> же принял дары и стал думать с дружиною своею, говоря так: «Если не заключим мир с цесарем и узнает цесарь, что нас мало, то придут и осадят нас в городе. А Русская земля далеко, а печенеги нам враждебны, и кто нам поможет? Заключим же с цесарем мир: ведь они уже обязались платить нам дань, — того с нас и хватит. Если же перестанут нам платить дань, то снова из Руси, собрав множество воинов, пойдем на Царьград». И была любя речь эта дружине, и послали лучших мужей к цесарю, и пришли в

Доростол и сказали о том цесарю. Цесарь же на следующее утро призвал их к себе и сказал: «Пусть говорят послы русские». Они же начали: «Так говорит князь наш: “Хочу иметь истинную любовь с греческим царем на все будущие времена”».



Вопросы:



1. Напишите имя князя, пропущенного в тексте документа.
2. О каком событии повествует летописец? Напишите год события.
3. Кто такой цесарь? Укажите имя этого исторического деятеля.
4. Опираясь на текст документа, напишите причины, побудившие князя пойти на заключение договора?
5. Какие географические объекты упомянуты в тексте? Определите их значение.

Ответ:

| | |
|---|--|
| 1 | |
| 2 | |
| 3 | |
| 4 | |
| 5 | |

Задание 9. Перед вами 4 известных собора, возведенных в раннее средневековье. Что их объединяет? В каких городах они были возведены? Три собора были построены в правление одного князя. Укажите его имя (Максимальный балл – 8).

| | |
|---|--|
| 1.  | 2.  |
| 3. | 4. |

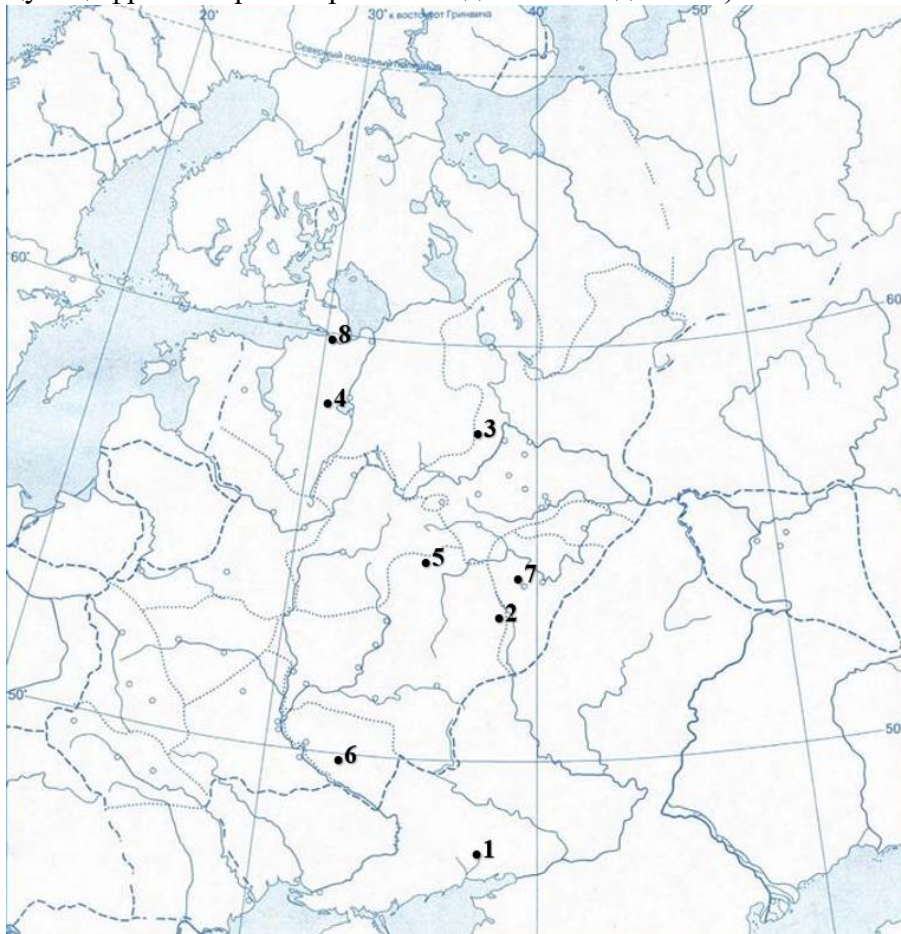


Ответ:

| | | | | |
|----------------------------|---|---|---|--|
| Что объединяет сооружения? | | | | |
| Имя князя | | | | |
| 1 | 2 | 3 | 4 | |
| | | | | |

Задание 10. Внимательно рассмотрите карту и выполните задания (Максимальный балл – 20).

На карте под цифрами указаны реки, на которых произошли крупнейшие сражения в XIII-XV вв. Заполните недостающую информацию в таблице (необходимо указать реку, соответствующую цифре на карте и при необходимости год битвы).



Ответ:

| № | Река | Противник | Год битвы |
|----------|-------------|-------------------------|------------------|
| 1 | | Монгольская империя | |
| 2 | | Золотая орда | 1380 год |
| 3 | | Золотая орда | 1238 год |
| 4 | | Новгородская республика | |
| 5 | | Большая орда | |
| 6 | | Половцы | 1068 год |
| 7 | | Золотая орда | 1378 год |
| 8 | | Швеция | |