

**ВСЕРОССИЙСКАЯ ОЛИМПИАДА ШКОЛЬНИКОВ ПО ИСТОРИИ**  
**МУНИЦИПАЛЬНЫЙ ЭТАП**  
**7 КЛАСС**

**Задание 1. (5 баллов)**

Перед Вами советские спичечные этикетки с портретами детей, которые получили известность благодаря совершённым ими подвигам. Выполните ряд заданий, связанных с этими детьми.



А



Б



В



Г

**Задание 2. (12 баллов)**

На территории Московской области находится ряд известных монастырей. Задание посвящено четырём монашеским обителям, названия которых уже приведены в таблице ответа. Укажите города, в которых они находятся. Назовите имена основателей или первых покровителей монастырей, а также соотнесите с каждым из них по два факта из приведённого ниже списка. Обратите внимание: если на роль основателя/первого покровителя подходит не один человек, то догадаться, кого именно нужно указать, Вам помогут сами факты из списка.

**Факты:**

- А. Автор богословского сочинения «Просветитель»;
- Б. Благословил московского князя накануне Куликовской битвы;
- В. Внук Ивана Красного;
- Г. Идейный вдохновитель церковного течения иосифлян;
- Д. Инициатор и руководитель масштабных церковных реформ XVII века;
- Е. При рождении его звали Варфоломей;
- Ж. Участник московской междоусобной войны в XV веке;
- З. Участник собраний «кружка ревнителей благочестия».

**Задание 3. (6 баллов)**

**Перед Вами ряды, в каждом из которых один элемент является лишним. Выберите этот элемент и кратко поясните, почему он выпадает из общего ряда.**

- 3.1. Аскольд, Рюрик, Синеус, Трувор;
- 3.2. Екатеринбург, Ленинград, Петроград, Санкт-Петербург;
- 3.3. Апсида, рака, саркофаг, урна;
- 3.4. Галицкий, Заточник, Чёрный, Шемяка;
- 3.5. Кончанский, кормленщик, посадник, тысяцкий;
- 3.6. Ахмат, Тамерлан, Тохтамыш, Узбек.

**Задание 4. (10 баллов)**

**Заполните исторический кроссворд. Обратите внимание, что слова вписываются слева направо или сверху вниз.**

**По горизонтали:**


1. Среднеазиатский завоеватель, разгромивший Золотую Орду;
3. Русская церковь получила её в 1448 году;
7. Руководитель ополчения в Новгородской земле;
10. Управляющий княжеским хозяйством в Древней Руси;

**По вертикали:**

2. Столица Хазарского каганата;
4. Один из главных восточнославянских богов, покровитель скота;
5. Доспех в виде рубашки из мелких железных колец;
6. Под стенами этого города произошло последнее сражение Святослава с войсками византийского императора;
8. Система распределения должностей в зависимости от знатности рода;
9. Тонкий обожжённый кирпич, применявшийся в строительстве в домонгольской Руси.

**Задание 5. (8 баллов)**

**Ниже приведены изображения восьми артефактов и восемь отрывков из исторических документов. Все они связаны с государствами, которые в разное время соседствовали с Русью или Россией. В таблице ответа соотнесите с каждым из этих государств соответствующие ему изображение и отрывок.**



1



2



3



4



5



6



7



8

- А. «Дабы иметь непрерывное, непосредственное сношение с высшей русской властью в Средней Азии, Эмир... назначает из числа своих приближённых доверенное лицо постоянным посланцем и уполномоченным от себя в Ташкент. Этот уполномоченный будет жить в Ташкенте в эмирском доме и на счёт Эмира»;
- Б. «По божией воле и по нашему жалованью мы, великий государь Василий, [...] дали есьмы сию свою грамоту ... на то, что к нам прислал своих послов бить челом о том, чтобы нам его жаловать и беречь и на своего бы недруга, на короля польского и великого князя литовского. И мы пожаловали, во единичестве есьмы его с собою учинили и за него и за его землю хотим стоять и оборонять его от своего недруга, от короля польского»;
- В. «...И магистр Герман пришёл с силой к замку на Руси, называемому Изборск, и здесь выступили им навстречу русские, и завязался ожесточённый бой. Христиане победили, и там было убито восемьсот русских, другие обращены в бегство, и из них многие взяты в плен»;
- Г. «Ты просил сообщить тебе верные сведения о нашем государстве и нашем происхождении, о том, как они приняли религию Израиля, которой бог осветил наши глаза, поднял нашу мышцу и сокрушил наших врагов. Ты просил ещё сообщить тебе о размерах нашей страны и о народах, живущих кругом нас, как тех, которые с нами в дружбе, так и тех, которые с нами воюют, и о том, случается ли нашим посланцам приходиться в вашу страну...»;
- Д. «...Если украдёт что русский у христианина или, напротив, христианин у русского, и пойман будет вор пострадавшим в то самое время, когда совершает кражу, либо если приготовится вор красть и будет убит, то не взыщется смерть его ни от христиан, ни от русских»;

- Е. «Такожде река, реченная Аргун, которая в реку Амур впадает, границу постановить тако, яко всем землям, которые суть стороны левые, идучи тою рекою до самых вершин под владением Хинского хана да содержитца, правая сторона: такожде все земли да содержитца в стороне царского величества Российского государства и все строение с полудневные стороны той реки Аргуни снести на другую сторону тоя ж реки»;
- Ж. «У нас произволено и укреплено, что ни из которых чужих городов не ходили в Ругодив, и не искати иных пристаней на Руской стороне, ни в Ругодивской реке, ни в Лугу, ни в Неву, ни иным местом, как их имена ни есть, опричь одних начальных именованных мест: Выбора да Колывани, которые преж именовали»;
- З. «И мы ныне, первых Ярлыков не изыначивая, и думав, потомуж есмь Алексея Митрополита пожаловали. Как сядет на своем столе, и молитву воздает к Богу за нас и за наше племя, так есмь молвили. Какова дань ни буди, или пошлина, и того тем ни видати, ни слышати не надобе. Да не емлют у них, ни подвод, ни корму, ни питья, ни запросов, ни почести не дают».

### Задание 6. (6 баллов)

В таблице ответа указаны имена известных женщин эпохи средневековья, оставивших след в отечественной или зарубежной истории. Ниже приведены два списка – отцов и супругов этих женщин. Соотнесите с каждой женщиной имена её отца и мужа, выбрав их из соответствующих списков. Обратите внимание, что в списках нет лишних элементов – ни отцы, ни мужья не повторяются.

#### Отцы:

- А. Витовт Великий
- Б. Гарольд II Годвинссон
- В. Людовик I Венгерский
- Г. Тогрул
- Д. Фома Палеолог
- Е. Ярослав Мудрый

#### Мужья:

- 1. Василий I
- 2. Владимир Мономах
- 3. Генрих I Капетинг
- 4. Иван III
- 5. Юрий Данилович
- 6. Ягайло

### Задание 7. (8 баллов)

Перед Вами отрывки из сочинения известного историка Дмитрия Иловайского. В них идёт речь о битвах и других событиях военной истории России, которые произошли на берегах рек. В таблице ответа, где уже приведены годы знаменитых событий, укажите название каждой реки и соотнесите её с позицией на карте.

1. «Дмитрий Иванович московский не пустил татар в свои земли и разбил их в Рязанской области на **реке**... Обе стороны понимали, что предстоит новое столкновение. [...] Через два года после битвы... Мамай предпринял поход на Русь»;

2. «Надежда на пушки оказалась обманчива; эти неуклюжие, неповоротливые орудия мало вредили лёгкой татарской коннице, которая то рассыпалась, то соединялась в массу, смотря по ходу боя. Однако Витовт успел было потеснить стоявшего перед ним Эдигея. Но Тимур Кутлуй зашёл в тыл христианскому войску и решил победу»;

3. «Видя большое превосходство в числе на своей стороне, новгородцы ободрились и даже начали по старому обыкновению похваляться и перебраниваться с противниками через **реку**. Вид этой бодрой, хорошо вооружённой и многочисленной рати сначала несколько смущал москвичей. Но их воеводы сумели вновь одушевить своих людей, творя приличные случаю молитвы и напоминая им об изменах новгородцев и их намерении отступить от православия»;

4. «Видя, что главные переправы на Оке защищены Московскими полками, хан направился к западу, и через литовские владения приблизился к **реке**..., составлявшей

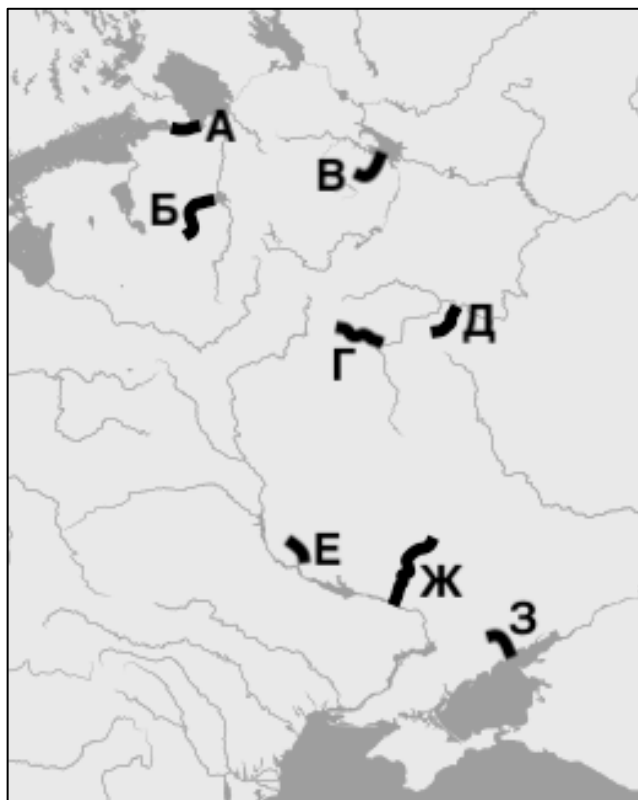
границу Московской земли. Великий князь вовремя узнал об этом движении; по его приказу сын и брат успели придти... прежде татар и также занять здесь главные броды и переправы. Татары в течение нескольких дней возобновляли попытки перейти реку; Москвитяне стрелами и пищалями отбивали их от берега»;

5. «Едва великий князь, его братья Иван и Святослав и племянники сели на коней и начали устраивать полки, как татары, предводимые Бурундаем, ударили на Русь с разных сторон... Сеча была жестокая, но большинство русского войска, набранное из непривычных к бою земледельцев и ремесленников, скоро смешалось и побежало»;

6. «Братья Ярославичи соединили свои дружины и дали... битву на берегах речки... почти под самым Переяславлем, но были разбиты и побежали, Святослав – в Чернигов, а Изяслав со Всеволодом – в Киев. После того Половцы во все стороны распустили свои загоны для грабежа»;

7. «Александр... понял, что успех зависит от быстроты и решительности. А потому, помолясь в Софийском соборе и взяв благословение у владыки Спиридона, немедля выступил только с новгородскою и собственною дружиною; на пути присоединил ладожан и с этими немногочисленными силами поспешил встретить врагов»;

8. «Победа казалась уже близка. Но вдруг татары стремительно ударили на половцев; последние не выдержали их натиска, бросились назад на русские полки и привели их в замешательство. Искусный враг улучил минуту, чтобы, не дав времени опомниться, нанести полное поражение галичанам и волынцам. А когда они обратились в бегство, татары напали на другие русские отряды, ещё не успевшие выстроиться для битвы, и громили их по частям».



**Задание 8. (10 баллов)**

Перед Вами знаменитые работы известного русского художника, посвящённые событиям отечественной истории. Назовите этого художника и заполните пропуски в названиях полотен. В отдельной таблице, где перечислены факты о событиях на картинах, поставьте знак «+» в тех местах, где факт соответствует событию. Всего можно поставить 10 знаков «+» – если их окажется больше, то за эту часть задания Вы автоматически получите 0 баллов.



1



2



3



4

**Задание 9. (10 баллов)**

Перед Вами гербы разных городов России. В таблице ответа, где указаны факты о городах, назовите каждый из них, соотнесите с ним соответствующий герб и определите местонахождение города на карте.



1




2



3




4



5



6



7



8



9



10



**Задание 10. (6 баллов)**

Ниже приведены подписи к миниатюрам Лицевого летописного свода – важнейшего источника иллюстраций по истории Древнерусского и Московского государств. В них описываются исторические события эпохи русского средневековья. Попробуйте разобрать предложенные тексты, понять их примерное содержание и сопоставить каждую подпись с годом, о событиях которого в ней идёт речь. Годы уже указаны в таблице ответа.

Князь пленил в рѣкѣ вичько сои повѣже  
 смокшы повордоу . сѣтъ вѣ  
 нацѣлиго  
 княженіи  
 мѣ вѣ  
 едн  
 на

1

Летополе за годъ на поиже днь на памѣ  
 Летополе за годъ на поиже днь на памѣ  
 в . кв . родиса князье  
 Анисіи вѣ  
 плени  
 на .

2

Чюдо . шъратѣкъ златѣ въ дна колгары .  
 То гдѣ жеко за дна вѣши . излапа дѣра  
 То гдѣ ра дѣ меніемъ и дѣ же нѣ цѣркъ . по  
 ложеніи еришыгы дѣцѣ  
 оу краснѣ цѣ  
 Аншо

3

Ихъ мѣ же пріндегоу грегосоу екъ мнѣ сламн .  
 хотѣ перенити рекоу . и пріндегоу мѣ  
 роу ена чаша естрѣлѣ тѣи лѣи хѣ а лѣи  
 пѣи . и ии же пріндегоу мѣ протнѣ дѣи сѣ  
 лѣи рѣкѣ лѣи протнѣ дѣи сѣи сѣи сѣ  
 мѣи шѣи . лѣи протнѣ дѣи сѣи сѣи сѣи  
 протнѣи шѣи .

4

Того же дѣла приидеи зоврдыи снъ  
 дмитрий михилошнъ тѣтѣ ферсѣи  
 пноука и роуа пль . епожалоуа и емь  
 ѿ црла збѣка на педнкоу екнѣ же не  
 полодн мерское аснмѣт рндегосоло

5

Пластн не ела по вѣдша и по жгоша  
 и мншгъ полончѣ о бравше по зпратн  
 шлсд по спомѣн . ржзлпсь оуоу же землю  
 поуспѣсоти оури  
 шд .

6

**Задание 11. (8 баллов)**

Перед Вами почтовая марка, посвящённая юбилею важного события отечественной истории. Ответьте на вопросы о марке и самом событии. Выберите из приведённого ниже списка четырёх современников события, которому посвящена марка, и укажите в поле ответа буквы, которыми они обозначены.



- |                       |                         |
|-----------------------|-------------------------|
| А. Андрей Рублёв      | Е. Михаил Черниговский  |
| Б. Батый              | Ж. Нестор Летописец     |
| В. Даниил Галицкий    | З. Рогнеда Рогволодовна |
| Г. митрополит Алексий | И. Святополк Изяславич  |
| Д. митрополит Иларион | К. Ярослав Всеволодович |

**Задание 12. (11 баллов)**

Перед Вами текст исторического источника. Внимательно прочитайте этот текст и выполните задания к нему.

«Исидор, милостию Божиею преосвященный архиепископ Киевский и всеа Русии, легатос и от ребра апостольского седалища лятцкого и литовскаго и немецкаго, всем и всякому христоверным с прибавлением веры своа вечное спасение в Господа.

Возрадуйтеся и възвеселитеся вси ныне, яко и церковь восточнаа [и западнаа], коликое время разделени быша и едина ко единеи враждебны, а ныне истинным соединением соединишася во изначальственнейшее во свое соединение и в мир и в единачество древнее, без всякого разделения. Всеи ж христоименитии людие, и как латыни, так и грекове, и ти иже вси подлежат святей соборней церкви костянтинополстей, еже суть русь, и серби, и влахи, и инии вси христианстии роди примете тое же и пресвятое единачество с великою духовною радостию и честию. И напред молю вас в Господа нашего Иисуса Христа, еже с нами милость створившаго, чтоб никакова розделения в вас с латынею



не было, зане же вси есте раби Господа нашего Исуса Христа и во имя его крещени. Вы же, латынстии роди, тех всех, иже в гречестей вере суть, истинно веруйте, без всякого размышления, суть бо вси крещении, крещение иже свято есть и испытно от римския церкви, еже истинно и равно есть, яко ж и тое церкви крещение. И дале бы межии вас никако в злое размышление не было о тех делех, но как латыни, так и преже реченнии греков к единой церкви смотрение имели, еже бо единым единыи суть. И когда греки в земли суть латынстей, или где есть в их земли латынская церковь, чтобы есте вси к божественей службе з дерзновением прибегали и тела Исуса Христова смотрели и сокрушением сердца честь воздавали, яко же и во своих церквах чинят.

На покаания приходят к латынским попом и тело Божие от них приемлют, а латыни тако ж длъжни суть въ их церковь итти и божественныи службы слушати и с теплою верою поклонятися тому ж Исуса Христову телу понеже истинно Исуса Христово тело, так же священо от греческого попа в кислом хлебе, как и от латынского попа священо в пресном хлебе. И того ради обою достойно есть дръжати опресночное и кислое. А латыни тако ж приходят ко греческим попом на покаание и причастие Божие от них приемлют, понеже обою то едино есть. Тако бо вселенский збор кончал в явленном посидении в честней болшей церкви служивше во граде Фролентии под леты воплощения Господня 1439-го лета, месяца июля в 6 день»

**Максимальная оценка – 100 баллов.**

**Уважаемый участник! Все Ваши ответы обязательно следует внести в бланк ответов – жюри будет проверять только его.**