

**Задания муниципального этапа Всероссийской олимпиады школьников
по истории (2023/2024 гг.) для учащихся 7 классов.**

Количество заданий – 15.

Максимальная сумма баллов – 100.

Время выполнения – 90 мин.

1. Укажите последствия греческой колонизации, начало которой ученые относят к VIII в. до н.э.

(По 3 балла за каждый правильный ответ. Итого за ответ – 24 балла)

Ответ: _____

2. Соотнесите имена древних богов/божеств со странами/народами, в которых они почитались:

(По 1 баллу за каждый правильный ответ. Итого за ответ – 11 баллов)

Боги / Божества	Страны
1. Анубис	А. Вавилон
2. Мардук	Б. Египет
3. Брахма	В. Индия
4. Афина	Г. Русь
5. Ра	Д. Греция
6. Осирис	
7. Эа	
8. Фемида	
9. Дажьбог	
10. Шива	
11. Сварог	

Ответ:

1	2	3	4	5	6	7	8	9	10	11

3. Выберите атрибуты празднования Масленицы на Руси:

(По 1 баллу за каждую правильную позицию. Итого за ответ – 3 балла)

А) катание огненных обручей с гор

Б) сжигание чучела Мораны

В) кулачные бои

Г) прыжки через костер

Д) взятие снежного города

Ответ: _____

4. Дайте определение исторических терминов:

(По 1 баллу за каждое верное определение. Итого за ответ – 4 балла)

А) Мандарин – _____

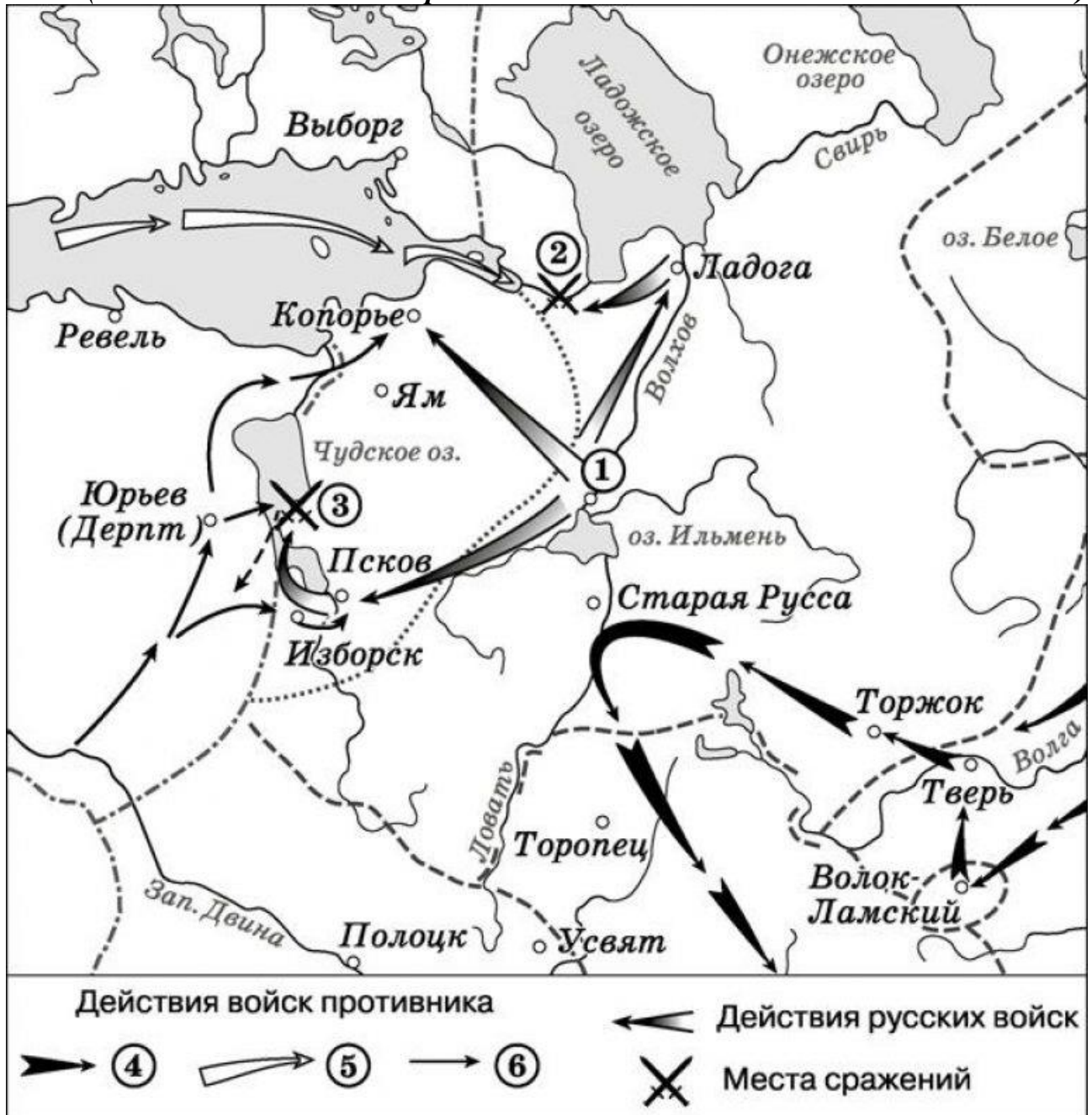
Б) Сёгун – _____

В) Промышленный переворот – _____

Г) Беломестцы – _____

5. Рассмотрите историческую карту и ответьте на вопросы.

(По 2 балла за каждый правильный ответ. Итого за ответ – 16 баллов)



А) Укажите имя князя, одержавшего победы в сражениях, обозначенных на карте-схеме цифрами «2» и «3».

Ответ: _____

Б) Подпишите на карте-схеме название реки, на которой произошло сражение, обозначенное на карте цифрой «2».

В) Подпишите на карте-схеме географическое название залива, по которому прибыли противники русских войск в сражении, обозначенном на карте цифрой «2».

Г) Укажите название города, обозначенного на карте-схеме цифрой «1».

Ответ: _____

Д) Подчеркните на карте-схеме город, в который Рюрик впервые отправился на княжение?

Е) На карте-схеме обведите города, отошедшие к Швеции по Столбовскому миру 1617 г.

Ж) На территории какого государства сейчас находятся города Ревель и Дерпт?

Ответ: _____

6. Расположите в хронологической последовательности присоединения русских земель к Московскому княжеству в процессе создания централизованного государства:

(За верный ответ – 2 балла; в случае наличия 1 ошибки – 0 баллов)

- А) Вятская земля
- Б) Псковская земля
- В) Новгородская земля
- Г) Тверское княжество
- Д) Пермская земля
- Е) Рязанское княжество
- Ж) Переяславское княжество
- З) Муромское княжество

Ответ: _____



7. Перед Вами зрительный ряд, где каждое изображение скрывает базовое слово/понятие. Для нахождения этих слов/понятий под изображениями даны вопросы-подсказки. После того, как Вы определите эти слова, из первых букв каждого из них нужно составить историческое *ключевое слово/понятие*.


(Итого за ответ – 10 баллов)

А) Впишите название каждого базового слова/понятия, зашифрованного в иллюстрации (По 1 баллу за каждое правильное слово/понятие. Итого за ответ – 7 баллов)

Б) Составьте ключевое слово/понятие (1 балл)

В) Дайте определение ключевому слову/понятию (2 балла)


<p>1. </p> <p>Вопрос: Фамилия мастера, по приказу Федора Ивановича отлившего эту пушку?</p>	<p>2. </p> <p>Вопрос: Народное собрание на Руси.</p>
--	--



3. *Вопрос:* Путешествие в какую страну русского купца Афанасия Никитина изображено на картине?



4. *Вопрос:* Имя князя, изображенного на картине.



5. *Вопрос:* Как называется алтарный выступ в восточной части христианского храма?



6. *Вопрос:* Название одной из самых знаменитых русских икон.



7. *Вопрос:* Как называется данный жанр изобразительного искусства?

Ответ:

1. _____
2. _____
3. _____
4. _____
5. _____
6. _____
7. _____

Ключевое слово/понятие: _____

Определение ключевого слова/понятия: _____

8. Какие понятия/термины из нижеперечисленного относятся к процессу закрепощения крестьян в России?

(По 1 баллу за каждую верную позицию. Итого за ответ – 5 баллов)

- А) Урочные лета
- Б) ярлык
- В) Юрьев день
- Г) пожилое
- Д) Заповедные лета

Е) Соборное Уложение

Ж) челядь

З) подушная подать

Ответ: _____

9. Определите А) По какому принципу образованы ряды?

Б) Выделите в каждом ряду лишний элемент.

(За верно указанный элемент – 1 балл, за каждое правильное обоснование логики ряда - 1 балл. Итого за ответ – 10 баллов)

А) челядь, смерды, закупы, рядовичи, холопы.

Б) 1113 г., 1606-1607 гг., 1662 г., 1773-1775 гг., 1825 г.

В) Мартин Лютер, Жан Кальвин, Ульрих Цвингли, Томас Мюнцер, Эразм Роттердамский.

Г) Храм Василия Блаженного, Благовещенский Собор Московского Кремля, Церковь Вознесения в Коломенском, Колокольня Ивана Великого.

Д) В.И. Ленин, Г.Е. Зиновьев, Л.Б. Каменев, И.В. Сталин, П.Н. Милюков.

Ответ:

А)	
Б)	
В)	
Г)	
Д)	

10. Кавказская война одна из самых длительных в истории России.

(По 1 баллу за каждую верную позицию. Итого за ответ – 4 балла)

А) Укажите хронологические рамки Кавказской войны.

Ответ: _____

Б) Перечислите российских императоров, при которых шла Кавказская война.

Ответ: _____

11. Установите соответствие между странами и их лидерами в период Второй мировой войны.

(По 1 баллу за каждое верное соотнесение. Итого за ответ – 5 баллов)

Страны	Лидеры
А) СССР	1. Б. Муссолини
Б) США	2. Ф. Рузвельт
В) Германия	3. А. Гитлер
Г) Великобритания	4. И. Сталин
Д) Италия	5. У. Черчилль
	6. Г. Трумэн

Ответ:

А)	Б)	В)	Г)	Д)
----	----	----	----	----

--	--	--	--	--

12. Коренной перелом в ходе Великой Отечественной войны (1941-1945 гг.) связан с битвами:

(За верный ответ – 1 балл)

- А) Московская битва – Сталинградская битва – Курская битва
- Б) Московская битва – Курская битва – Форсирование Днепра
- В) Сталинградская битва – Курская битва – Форсирование Днепра

Ответ: _____

13. Раскройте аббревиатуру:

(За верный ответ – 1 балл)

КПСС – _____

14. Укажите руководителя СССР, при котором Ю.А. Гагарин совершил полет в Космос.

(За верный ответ – 1 балл)

- А) И.В. Сталин
- Б) Н.С. Хрущев
- В) Л.И. Брежнев
- Г) М.С. Горбачев

15. Рассмотрите иллюстрацию, отражающую один из известных эпизодов истории Тульского края, и ответьте на вопросы.

(По 1 баллу за каждый правильный ответ. Итого за ответ – 3 балла)

А) Какому событию посвящена иллюстрация? Что герои видят под микроскопом?

Ответ: _____

Б) Имя легендарного мастера, результат работы которого отражен на иллюстрации?

Ответ: _____

В) Назовите фамилию туляка, оружейного мастера, возможно, бывшего прототипом главного героя иллюстрации?

Ответ: _____

