

Всероссийская олимпиада школьников по истории
Муниципальный этап
8-й класс

Время выполнения работы – до 90 минут (максимум 90 баллов).

ЗАДАНИЕ 1.

Ответьте на вопросы, выбрав **по два** правильных ответа из предложенных пяти вариантов. Запишите ответы через запятую в таблицу.

Всего баллов за задание – 10.

1. Что из перечисленного **НЕ** относится к устройству Русского царства XVI–XVII веков?

- А. Тысяцкие.
- Б. Посошное налогообложение.
- В. Местничество.
- Г. Святейший Синод.
- Д. Приказы.

2. Какие города были основаны в XVII веке?

- А. Архангельск.
- Б. Мангазея.
- В. Иркутск.
- Г. Казань.
- Д. Псков.

3. Кто из перечисленных исторических лиц был участником событий Смутного времени?

- А. Василий Голицын.
- Б. Артамон Матвеев.
- В. Богдан Хмельницкий.
- Г. Григорий Отрепьев.
- Д. Иван Заруцкий.

4. Ко времени правления Ивана Грозного относится:

- А. Принятие титула «царь».
- Б. Присоединение Пскова.
- В. Отмена системы кормлений.
- Г. Проект учреждения первого университета.
- Д. Крестоцеловальная запись.

5. С какими государствами Россия вела войны в XVII веке?

- А. Франция.
- Б. Швеция.
- В. Англия.
- Г. Австрия.
- Д. Турция.

| 1 | 2 | 3 | 4 | 5 |
|---|---|---|---|---|
| | | | | |

ЗАДАНИЕ 2.

Согласны ли Вы со следующими утверждениями? Запишите «да» или «нет» в таблицу.
Всего баллов за задание – 10.

1. Первым русским патриархом стал Иона.
2. Алексей Михайлович повелел изгнать из России английских купцов после казни Карла I.
3. Средневековый Новгород делился на Софийскую и Дружинную стороны.
4. Евпатий Коловрат совершил подвиг под Тверью.
5. «Соловецкое сидение» было реакцией на резкое подорожание соли.
6. Шатровый стиль в русском храмовом строительстве возник в XVI веке.
7. Хан Батый был сыном Чингисхана.
8. Мария Тюдор в Англии преследовала католиков.
9. Марраны – это испанские евреи, принявшие христианство.
10. Жан Батист Кольбер проводил политику меркантилизма во Франции.

| | | | | | | | | | |
|---|---|---|---|---|---|---|---|---|----|
| 1 | 2 | 3 | 4 | 5 | 6 | 7 | 8 | 9 | 10 |
| | | | | | | | | | |

ЗАДАНИЕ 3.

Установите порядок событий в хронологической последовательности для каждого ряда.
Запишите последовательность в таблицу в виде ряда цифр.
Всего баллов за задание – 10.

I. События истории Русского царства:

1. Введение выплаты «пожилого».
2. Выход Судебника Ивана Грозного.
3. Увоз новгородского вечевого колокола в Москву.
4. Утверждение сана патриарха в России.
5. Выпуск печатной книги «Апостол».

II. События истории Англии XVII века:

1. Казнь Карла I.
2. «Славная Революция».
3. Битва при Нейзби.
4. Работа «Короткого парламента».
5. Оливер Кромвель становится лордом-протектором Англии.

| | | | | | |
|----|--|--|--|--|--|
| I | | | | | |
| II | | | | | |

ЗАДАНИЕ 4.


В ряду понятий укажите лишнее, а затем объясните свой выбор. Ответ запишите в отведённых строках. **Всего баллов за задание – 12.**

- 4.1. Барокко, рококо, классицизм, меркантилизм _____
- 4.2. Смерды, закупы, тверичи, рядовичи _____
- 4.3. Тюфяк, шестопёр, пицаль, ручница _____
- 4.4. Тан, Мин, Цин, Токугава _____


ЗАДАНИЕ 5.

Внимательно рассмотрите изображения православных храмов Архангельского Севера и выполните задание. **Всего баллов за задание – до 15.**

1.




2.



3.



4.



5.



Соотнесите название храма с номером его изображения. Укажите в таблице местонахождение храма и век его постройки.

| Название храма | Номер изображения | Место нахождения храма | Век постройки |
|---|-------------------|------------------------|---------------|
| Церковь преподобных Зосимы, Савватия и Германа | | | |
| Собор Введенского мужского монастыря | | | |
| Церковь Вознесения Господня на Секирной горе (церковь-маяк) | | | |
| Собор Рождества Христова (Христорождественский собор) | | | |
| Церковь иконы Божией Матери «Одигитрия» | | | |

ЗАДАНИЕ 6.

Установите правильное соответствие. Запишите ответы в таблицу.

Всего баллов за задание – 10.

I. Соотнесите исторические явления и государства, чьей истории они принадлежат.

| | |
|--------------------|-------------|
| 1. «Круглоголовые» | А. Франция |
| 2. Гайдуки | Б. Англия |
| 3. Гугеноты | В. Польша |
| 4. Волостель | Г. Болгария |
| 5. Сейм | Д. Россия |

II. Соотнесите событие и год, в который оно произошло.

| | |
|--|------------|
| 1. Медный бунт | А. 1618 г. |
| 2. Деулинское перемирие | Б. 1632 г. |
| 3. Казнь Степана Разина | В. 1662 г. |
| 4. Начало Смоленской войны | Г. 1671 г. |
| 5. В.В. Атласов отправился в поход на Камчатку | Д. 1697 г. |

| | 1 | 2 | 3 | 4 | 5 |
|----|---|---|---|---|---|
| I | | | | | |
| II | | | | | |

ЗАДАНИЕ 7.

Вспомните, в связи с какими историческими событиями возникли эти крылатые выражения? Что они означают? Запишите ответы в таблицу.

Всего баллов за задание – 10.

- «Филькина грамота».
- «Как Мамай прошёл».
- «Вот тебе, бабушка, и Юрьев день!»
- «Деньги не пахнут».
- «Кричать во всю Ивановскую».

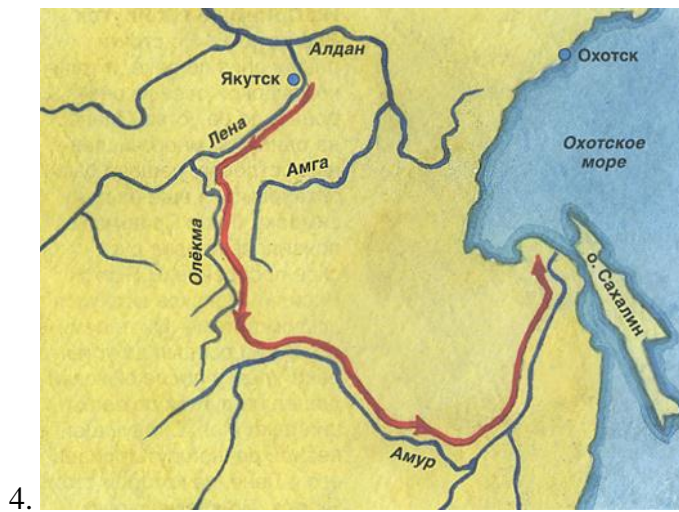
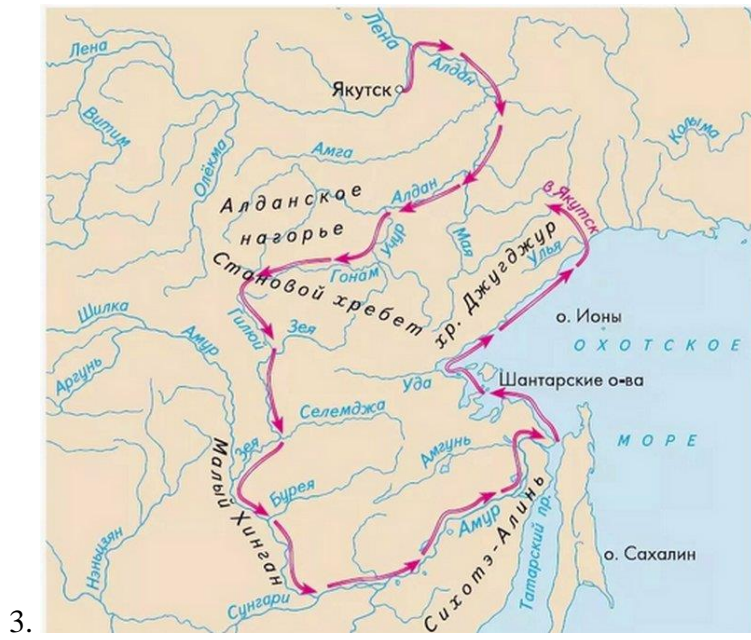
| Фраза | Историческая подоплёка | Значение |
|-------|------------------------|----------|
| 1 | | |
| 2 | | |
| 3 | | |
| 4 | | |
| 5 | | |

ЗАДАНИЕ 8.

Рассмотрите карты путешествий и походов XVII века, выполните задания.

Всего баллов за задание – 13.





1. Заполните таблицу. Запишите номера карт напротив путешественников, возглавлявших соответствующий поход.

| Карта | Путешественник |
|--------------|----------------------------|
| | Иван Москвитин |
| | Семён Дежнёв и Федот Попов |
| | Ерофей Хабаров |
| | Василий Поярков |
| | Владимир Атласов |

2. Какое из перечисленных путешествий было самым ранним, а какое – самым поздним по времени? Ответ укажите в виде номера карты.

Самое раннее: _____

Самое позднее: _____

3. Какие путешественники из списка были родом из северных земель (современные Архангельская и Вологодская области)?

Ответ: _____

3. Почему в XVII веке многие мореплаватели и землепроходцы имели северное происхождение? Выделите две причины.

Ответ: _____
