

**Всероссийская олимпиада школьников по истории.
2023/24 уч. год. Муниципальный этап. Красноярский край.
Задания. 8 класс**

Задание № 1. По какому принципу образованы ряды? Дайте краткий ответ? (ответы без пояснения не принимаются). [Максимальный балл – 5]

1. Бояре, окольныйчий, крайчий, казначей, думных бояр. -
2. И. Фоккеродт, О. Плейер, Ф. Берхгольц, Г. Бассевич -
3. Правда русская или Законы великих князей Ярослава Владимировича и Владимира Всеволодовича Мономаха Псковская и Новгородская судные грамоты-
4. 1094–1097, 1158–1161, 1212–1216, 1228–1236 -
5. Аристотель Фиораванти, Пьетро Антонио Солари, Марко Руффо, Алевиз Новый -

Задание № 2. Укажите термин основываясь на его толковании. [Максимальный балл – 10]

Термин	определение
1.	сословный судебный орган в небольших российских городах до нач. XIX в.
2.	высший государственный орган России, подчиненный Императору (с XVII по XX век.)
3.	товарищества, добровольно созданные из светских и церковных землевладельцев для отбывания повинности постройки и снаряжения кораблей в России в конце XVII в.
4.	представители ордынского хана на Руси, которые осуществляли контроль за действиями князей и ведали сбором дани.
5.	денежный штраф в пользу князя в Древнерусском государстве, налагавшийся за убийство свободного человека.
6.	община свободных крестьян
7.	самая крупная денежная единица древней Руси в московской Руси – 10 копеек или 20 денег.
8.	комплекс земель, населённых людьми, принадлежащих непосредственно главе государства, главе династии.
9.	представитель местной княжеской администрации XIII-XV вв., которого население обязано было содержать ("кормить") в течение всего периода службы. В города и волости князя посылали бояр в качестве наместников, предоставляя им также право сбора пошлин в свою пользу.
10.	крестьяне, вынужденные уходить на заработки из родных мест как на мануфактуры, так и на сельскохозяйственные работы.

Задание 3. Установите соответствия между событиями российской и европейской истории и напишите их даты (обратите внимание, что справа в таблице одна позиция – лишняя). Ответы запишите в таблицу [Максимальный балл –7]

3.1.

Событие российской истории	Событие европейской истории
1) Правление князя Ивана I Калиты в Москве	а) Образование Золотой Орды
2) Правление Ивана III	б) правление Людовика XI во Франции
3) Ливонская война. Опричнина	в) Начало третьего Крестового похода
4) Начало неудачного похода на половцев князя Игоря Святославича, послужившего темой «Слова о полку Игореве»	г) Варфоломеевская ночь во Франции


5) – Битва при Молодях	Д) Гуситские войны
б) Победа Александра Невского на Чудском озере	е). Столетняя война между Англией Францией
	ж) Перенесение столицы России из Москвы в Петербург

3.2. одна позиция – лишняя.

Задание 4. Найдите верные выражения. Ответы запишите в таблицу [Максимальный балл – 10]:

1. Основная причина Северной войны – это борьба за выход в Чёрное море.
2. Тюркский и Аварский каганаты оказались не прочными государствами.
3. Автором «Повести временных» лет принято считать летописца Нестора.
4. Пётр 1 вёл войну со Швецией за выход в Балтийское море.
5. Единственный царь в русском государстве, у которого правили 3 сына после его смерти, был Михаил Романов.
6. Афанасий Лаврентьевич Ордин-Нащокин по своему происхождению он был псковским дворянином, получил хорошее образование и знал несколько иностранных языков.
7. Александр Данилович Меншиков стал первым генерал-губернатором Петербурга
8. Хотя мы и не имеем полного представления о рецептах, однако мы можем представить блюда древнерусской кухни, проанализировав наиболее распространённые и выращиваемые культуры: овёс, пшеница, картофель, ячмень, редька, огурцы, помидоры.
9. Исторический процесс, характеризующийся понятиями “самозванство”, “народное ополчение”, “гражданское война”, получил в истории название семибоярщина.
10. Восстание Хлопка Косолапа охватило всю центральную часть России, а основная масса «разбоев» сосредоточилась под Москвой.

Задание 5. Рассмотрите портреты знаменитых деятелей всемирной истории. Кто изображен на каждом портрете? За каждый верный ответ + 2 балла. [Максимальный балл – 20]





5



6



7



8



9



10


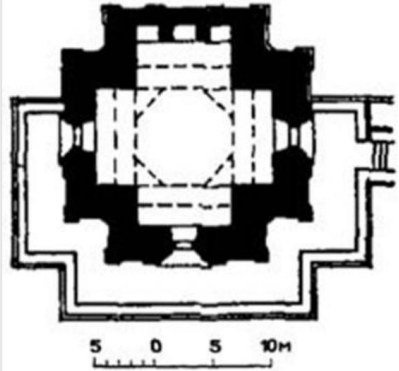

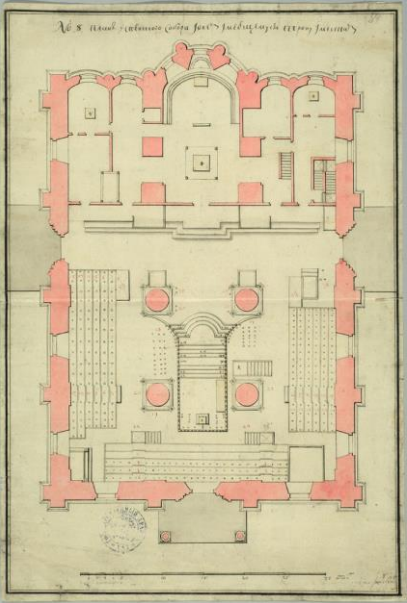

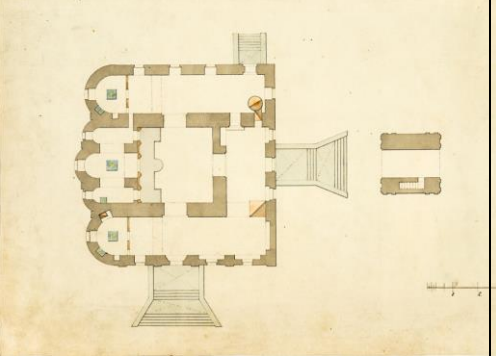
Подсказки:


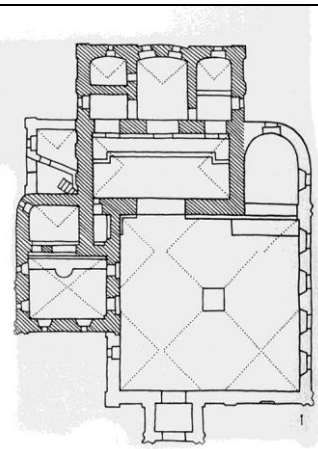
- А. «Платон мне друг, Аристотель мне друг, но самый большой мой друг – истина».
- В. «И почему нам не считать, что суточное вращение для неба является видимостью, а для Земли действительностью».
- С. «Предателя, мнили, во мне вы нашли; Их нет и не будет на русской земли!»
- Д. «... сама природа, эта прекрасная и неутомимая владычица, заботится о том, чтобы научить все юношество, что такое любовь».
- Е. «Осёл останется ослом, хотя осыпь его звездами: где должно действовать умом, он только хлопает ушами».
- Ф. «Если будете в ненависти жить, в распрях и ссорах, то погибнете сами и погубите землю отцов своих и дедов своих, которые добыли её трудом своим великим...»
- Г. «Сжечь корабли»
- Н. «Но волк, увы, чем кажется скромней, тем он всегда лукавей и страшней»
- І. «Палаты и хоромы все без крыш, полов и лавок. Дверей и окошек нет, надобно делать, а лесу пригодного не добыть, денег в казне нет, и плотников мало...»
- Ј. "...по требованиям и желанию, как Санкт-Петербургской, так и Парижской и иных академий: осведомиться от своих берегов, сходятся ли берега американские с берегами Азии".

Задание 6. Внимательно рассмотрите изображение и планы соборов России, построенных в XVI-XVII в.

6.1. Соотнесите изображение храмом с планами и напишите название храмов и где они находятся,

6.2. один из храмов не относится в данному периоду. [Максимальный балл – 12]

<i>Храмы и церкви</i>	<i>Название, место нахождения</i>	<i>Планы церквей и храмов</i>
<p>1</p> 		 <p>А</p>
<p>2</p> 		 <p>Б</p>
		 <p>В</p>

3		
		Г
4		

6.2 Храм, который не относится к XVI-XVII вв. _____

Задание 7. Работа с историческим источником. Прочитайте фрагмент источника и ответьте на вопросы к тексту: [Максимальный балл – 12]

Из Грамоты царя русским послам, кн. Б. А. Репнину, окольникему Б. М. Хитрово и дьяку Алмазу Иванову:

«...да буди вам ведомо - был собор на седьмой недели в среду маяя ... день, и мы, великий государь, со отцем своим и богомольцем Никоном, патриархом московским и всеа Руси, на том соборе многое время разговор чинили и всех людей допрашивали - что принимать ли черкас. И о том всяких чинов и площадных людей все единодушно говорили, чтоб черкас принять. И мы, великий государь, за то, что оне хотят располительными и самохотными сердца служить, милостивым своим словом похвалили. И они, слышя наши государьския милостивыя слова, наипаче обрадовались, да пос[лан...]. И мы отложили до вас, как вы с посольства придете...».

1. Укажите точную дату и событие, о котором идет речь в источнике.
2. Кто такие «площадных людей»?
3. Зачем царь пишет грамоту русским послам (в какой стране?) кн. Б. А. Репнину, окольникему Б. М. Хитрово и дьяку Алмазу Иванову?
4. Назовите не менее 3 участников окончательного решения по этому событию.

Задание 8. Работа с исторической картой и историческими источниками. Ответы запишите в таблицу [20 баллов]:

- 8.1. К какому веку относятся исторические карты? _____
- 8.2 Внимательно изучите карты, определите о каком договоре идет речь, назовите его, соотнесите его с фрагментом исторического источника.



Договор номер 1



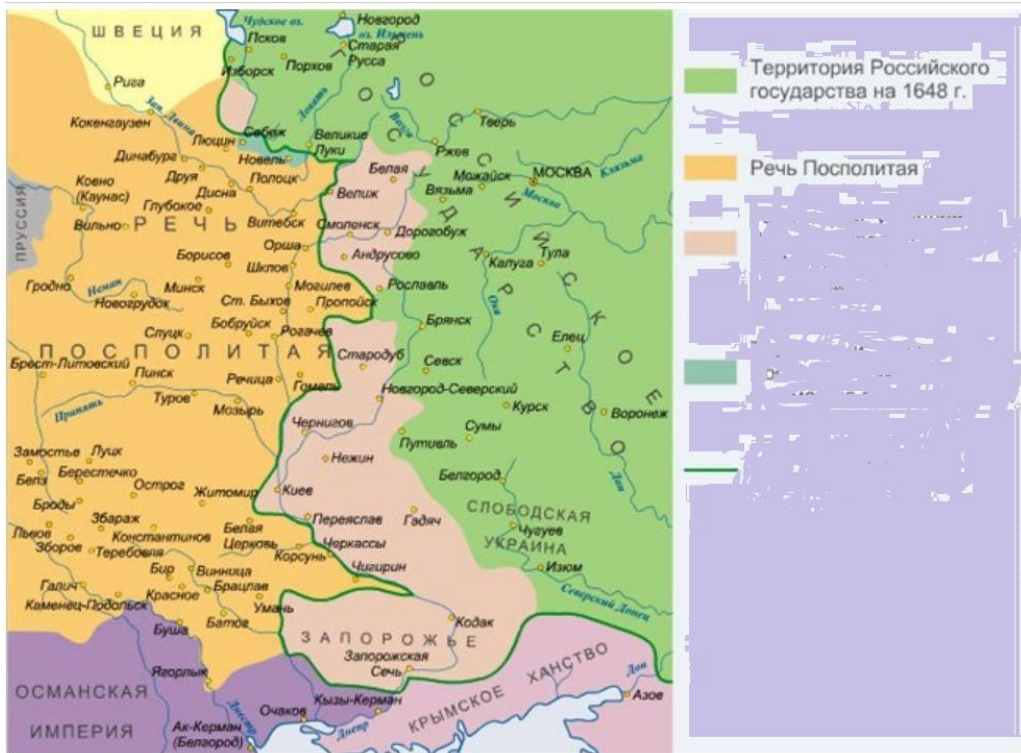
Договор номер 2



Договор номер 3



Договор номер 4



Договор номер 5

Отрывки из договоров

А. Также договорено и утверждено, что вольной и беспомешной торговле быти меж обоих великих государств, Росийского царствия и королевства Свейского, подданных жителей тем обычаем, что всем великого государя, его царского величества, и его царского величества наследников и потом будущих великих государей подданным торговым людем, которые живут в Росийском царствии...и на Севере и во всех его царского величества землях и городех, и ис которых ни буди мест, которые любо ныне под его царского величества владеньем или вперед под его царского величества и потом будущих великих государей царей и великих князей росийских и их великих государств во владенье будут, каковые они природы ни есть, и тем вольно бес помешки и без задержанья ехать с своими товарами в своей торговле и делах его королевского величества в ... и к нему прилежащие земли и города и уезды...»

Б. «Его Царскаго Величества с Окольниковым и Наместником Суздальским, Князь Данилом Ивановичем Мезецким, Его Царскаго Величества с Дворянином и Наместником Шацким, Алексеем Ивановичем Зюзиным, Его Царскаго Величества с Дьяком Николаем Никитиным сыном Новокщеновым, Его Царскаго Величества с Дьяком Добрынею Семеновым, в ... договаривати помирить все те ссоры и несоединения, которыя в некоторых прошлых годах меж Вельможнаго Государя... и потом меж Вельможнаго Государя ..., с одной стороны и меж некоторых Росийскаго Царствия Великих Государей, Царей и Великих Князей, особно же Великаго Государя, ...с другой стороны учинилися, и напоследок к явной недружбе, к войне и кровопролитию дошло.

В. «...но из Киева вывод московских ратных людей отлагается до ...; в эти два года окрестности Киева на милю расстояния остаются во владении царском. Запорожские козаки остаются в обороне и под послушанием обоих государей, должны быть одинаково готовы на службу против неприятелей королевских и царских; но оба государя должны запретить им, как и вообще всем черкасам, выходить на Черное море и нарушать мир с турками. ...Козакам восточной стороны не мстить за то, что отступали в сторону королевскую, людей отсюда в Московское государство не выводить и новых крепостей не строить. сроком на 13,5 лет

Г. Стороны обязывались уважать территориальную целостность друг друга: соглашение содержало подробные списки территорий, которые они обещали не отвоёвывать ..., отдельно оговаривалось, что Русское государство не будет нападать на Курляндское герцогство и города Ливонии. Запрещалось оказывать военную и/или финансовую помощь соседним, недружественно настроенным к каждой из сторон государствам сроком на 14,5 лет;

Д. «Нам этого в уступку и дар не ставьте, – отвечали московские послы, – что король хочет с себя титул московский сложить; дарить нам государя вашего за это не за что, потому что великий

государь наш на Московском государстве царствует по дару и воле Всемогущего Бога, по древней своей царской чести от предков своих, великих государей. А наше, московских людей, крестное целование от государя вашего короля и от ваших неправд в московское разоренье омылось кровью...»

Задание 9. Прочитайте текст и ответьте на вопросы. [Максимальный балл – 4]

Р. Г. Скрынников пишет: «овладев Сибирью, вольные казаки во главе с Ермаком задумались над вопросом: что делать дальше? Отправляясь в Сибирь, они надеялись конечно же обогатиться (не туристы же!). Так и вышло. В Кашлыке они захватили большие богатства. Ничего им теперь не мешало вернуться на Русь: задачу, поставленную Строгановым, выполнили, к тому же разбогатели. Но вместо этого казаки принимают решение идти дальше. Позднее большинству из них это решение стоило головы».

9.1. Почему казаки не вернулись на Русь — удовлетворенные выполненным заданием и богатые?

9.2. Казаки в Сибири: «вольница» или «государевы слуги»?