

**ВСЕРОССИЙСКАЯ ОЛИМПИАДА ШКОЛЬНИКОВ ПО ИСТОРИИ
МУНИЦИПАЛЬНЫЙ ЭТАП
8 КЛАСС**

Задание 1. (5 баллов)

Перед Вами советские спичечные этикетки с портретами детей, которые получили известность благодаря совершённым ими подвигам. Выполните ряд заданий, связанных с этими детьми.



А



Б



В



Г

Задание 2. (12 баллов)

На территории Московской области находится ряд известных монастырей. Задание посвящено четырём монашеским обителям, названия которых уже приведены в таблице ответа. Укажите города, в которых они находятся. Назовите имена основателей или первых покровителей монастырей, а также соотнесите с каждым из них по два факта из приведённого ниже списка. Обратите внимание: если на роль основателя/первого покровителя подходит не один человек, то догадаться, кого именно нужно указать, Вам помогут сами факты из списка.

Факты:

- А. Автор богословского сочинения «Просветитель»;
- Б. Благословил московского князя накануне Куликовской битвы;
- В. Внук Ивана Красного;
- Г. Идейный вдохновитель церковного течения иосифлян;
- Д. Инициатор и руководитель масштабных церковных реформ XVII века;
- Е. При рождении его звали Варфоломей;
- Ж. Участник московской междоусобной войны в XV веке;
- З. Участник собраний «кружка ревнителей благочестия».

Задание 3. (6 баллов)

Перед Вами ряды, в каждом из которых один элемент является лишним. Выберите этот элемент и кратко поясните, почему он выпадает из общего ряда.

- 3.1. Аскольд, Рюрик, Синеус, Трувор;
- 3.2. Екатеринбург, Ленинград, Петроград, Санкт-Петербург;
- 3.3. Апсида, рака, саркофаг, урна;
- 3.4. Галицкий, Заточник, Чёрный, Шемяка;
- 3.5. Кормчий, постельничий, сокольничий, стряпчий;
- 3.6. Владислав Ягелло, Стефан Баторий, Юрий Мнишек, Ян Собеский.

Задание 4. (10 баллов)

Заполните исторический кроссворд. Обратите внимание, что слова вписываются слева направо или сверху вниз.

По горизонтали:


1. Тонкий обожжённый кирпич, применявшийся в строительстве в домонгольской Руси;
4. Система распределения должностей в зависимости от знатности рода;
8. Руководитель ополчения в Новгородской земле;
10. Столица Хазарского каганата.

По вертикали:

2. Этот приказ занимался приёмом обращений и жалоб на имя царя;
3. Был казнён после неудачной осады Смоленска;
5. Под стенами этого города произошло последнее сражение Святослава с войсками византийского императора;
6. Административно-территориальная единица в Московском государстве в XVI–XVII веках;
7. Среднеазиатский завоеватель, разгромивший Золотую Орду;
9. Вид огнестрельного оружия.

Задание 5. (8 баллов)

Ниже приведены изображения восьми артефактов и восемь отрывков из исторических документов. Все они связаны с государствами, которые в разное время соседствовали с Русью или Россией. В таблице ответа соотнесите с каждым из этих государств соответствующие ему изображение и отрывок.



1



2



3



4



5



6



7



8

- А. «Дабы иметь непрерывное, непосредственное сношение с высшей русской властью в Средней Азии, Эмир... назначает из числа своих приближённых доверенное лицо постоянным посланцем и уполномоченным от себя в Ташкент. Этот уполномоченный будет жить в Ташкенте в эмирском доме и на счёт Эмира»;
- Б. «По божией воле и по нашему жалованью мы, великий государь Василий, [...] дали есьмы сию свою грамоту ... на то, что к нам прислал своих послов бить челом о том, чтобы нам его жаловать и беречь и на своего бы недруга, на короля польского и великого князя литовского. И мы пожаловали, во единичестве есьмы его с собою учинили и за него и за его землю хотим стоять и оборонять его от своего недруга, от короля польского»;
- В. «...И магистр Герман пришёл с силой к замку на Руси, называемому Изборск, и здесь выступили им навстречу русские, и завязался ожесточённый бой. Христиане победили, и там было убито восемьсот русских, другие обращены в бегство, и из них многие взяты в плен»;
- Г. «Ты просил сообщить тебе верные сведения о нашем государстве и нашем происхождении, о том, как они приняли религию Израиля, которой бог осветил наши глаза, поднял нашу мышцу и сокрушил наших врагов. Ты просил ещё сообщить тебе о размерах нашей страны и о народах, живущих кругом нас, как тех, которые с нами в дружбе, так и тех, которые с нами воюют, и о том, случается ли нашим посланцам приходить в вашу страну...»;
- Д. «...Если украдёт что русский у христианина или, напротив, христианин у русского, и пойман будет вор пострадавшим в то самое время, когда совершает кражу, либо если приготовится вор красть и будет убит, то не взыщется смерть его ни от христиан, ни от русских»;

- Е. «Такожде река, реченная Аргун, которая в реку Амур впадает, границу постановить тако, яко всем землям, которые суть стороны левые, идучи тою рекою до самых вершин под владением Хинского хана да содержитца, правая сторона: такожде все земли да содержитца в стороне царского величества Российского государства и все строение с полудневные стороны той реки Аргуни снести на другую сторону тоя ж реки»;
- Ж. «У нас произволено и укреплено, что ни из которых чужих городов не ходили в Ругодив, и не искати иных пристаней на Руской стороне, ни в Ругодивской реке, ни в Лугу, ни в Неву, ни иным местом, как их имена ни есть, опричь одних начальных именованных мест: Выбора да Колывани, которые преж именовали»;
- З. «И мы ныне, первых Ярлыков не изыначивая, и думав, потомуж есмь Алексея Митрополита пожаловали. Как сядет на своем столе, и молитву воздает к Богу за нас и за наше племя, так есмь молвили. Какова дань ни буди, или пошлина, и того тем ни видати, ни слышати не надобе. Да не емлют у них, ни подвод, ни корму, ни питья, ни запросов, ни почести не дают».

Задание 6. (6 баллов)

В таблице ответа указаны имена известных женщин эпохи средневековья, оставивших след в отечественной или зарубежной истории. Ниже приведены два списка – отцов и супругов этих женщин. Соотнесите с каждой женщиной имена её отца и мужа, выбрав их из соответствующих списков. Обратите внимание, что в списках нет лишних элементов – ни отцы, ни мужья не повторяются.

Отцы:

- А. Витовт Великий
- Б. Гарольд II Годвинссон
- В. Людовик I Венгерский
- Г. Тогрул
- Д. Фома Палеолог
- Е. Ярослав Мудрый

Мужья:

- 1. Василий I
- 2. Владимир Мономах
- 3. Генрих I Капетинг
- 4. Иван III
- 5. Юрий Данилович
- 6. Ягайло

Задание 7. (8 баллов)

Перед Вами отрывки из сочинения известного историка Дмитрия Иловайского. В них идёт речь о битвах и других событиях военной истории России, которые произошли на берегах рек. В таблице ответа, где уже приведены годы знаменитых событий, укажите название каждой реки и соотнесите её с позицией на карте.

1. «Дмитрий Иванович московский не пустил татар в свои земли и разбил их в Рязанской области на **реке**... Обе стороны понимали, что предстоит новое столкновение. [...] Через два года после битвы... Мамай предпринял поход на Русь»;

2. «Надежда на пушки оказалась обманчива; эти неуклюжие, неповоротливые орудия мало вредили лёгкой татарской коннице, которая то рассыпалась, то соединялась в массу, смотря по ходу боя. Однако Витовт успел было потеснить стоявшего перед ним Эдигея. Но Тимур Кутлуй зашёл в тыл христианскому войску и решил победу»;

3. «Видя большое превосходство в числе на своей стороне, новгородцы ободрились и даже начали по старому обыкновению похваляться и перебраниваться с противниками через **реку**. Вид этой бодрой, хорошо вооружённой и многочисленной рати сначала несколько смущал москвичей. Но их воеводы сумели вновь одушевить своих людей, творя приличные случаю молитвы и напоминая им об изменах новгородцев и их намерении отступить от православия»;

4. «Видя, что главные переправы на Оке защищены Московскими полками, хан направился к западу, и через литовские владения приблизился к **реке**..., составлявшей

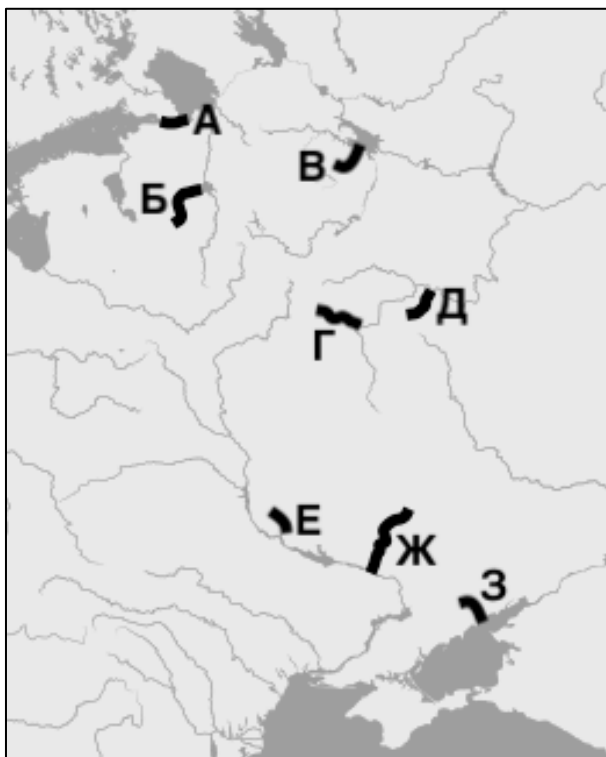
границу Московской земли. Великий князь вовремя узнал об этом движении; по его приказу сын и брат успели придти... прежде татар и также занять здесь главные броды и переправы. Татары в течение нескольких дней возобновляли попытки перейти **реку**; Москвитяне стрелами и пищалями отбивали их от берега»;

5. «Едва великий князь, его братья Иван и Святослав и племянники сели на коней и начали устраивать полки, как татары, предводимые Бурундаем, ударили на Русь с разных сторон... Сеча была жестокая, но большинство русского войска, набранное из непривычных к бою земледельцев и ремесленников, скоро смешалось и побежало»;

6. «Братья Ярославичи соединили свои дружины и дали... битву на берегах **речки**... почти под самым Переяславлем, но были разбиты и побежали, Святослав – в Чернигов, а Изяслав со Всеволодом – в Киев. После того Половцы во все стороны распустили свои загоны для грабежа»;

7. «Александр... понял, что успех зависит от быстроты и решительности. А потому, помолясь в Софийском соборе и взяв благословение у владыки Спиридона, немедля выступил только с новгородскою и собственною дружиною; на пути присоединил ладожан и с этими немногочисленными силами поспешил встретить врагов»;

8. «Победа казалась уже близка. Но вдруг татары стремительно ударили на половцев; последние не выдержали их натиска, бросились назад на русские полки и привели их в замешательство. Искусный враг улучил минуту, чтобы, не дав времени опомниться, нанести полное поражение галичанам и волынцам. А когда они обратились в бегство, татары напали на другие русские отряды, ещё не успевшие выстроиться для битвы, и громили их по частям».



Задание 8. (10 баллов)

Перед Вами эскизы или этюды к четырём знаменитым картинам известного русского художника, посвящённым событиям отечественной истории. Назовите этого художника и заполните пропуски в названиях полотен. В отдельной таблице, где перечислены факты о событиях на картинах, поставьте знак «+» в тех местах, где факт соответствует событию. Всего можно поставить 10 знаков «+» – если их окажется больше, то за эту часть задания Вы автоматически получите 0 баллов.



1



2



3



4

Задание 9. (10 баллов)


Перед Вами гербы разных городов России. В таблице ответа, где указаны факты о городах, назовите каждый из них, соотнесите с ним соответствующий герб и определите местонахождение города на карте.



1




2



3




4



5



6



7



8



9



10



Задание 10. (6 баллов)

Ниже приведены подписи к миниатюрам Лицевого летописного свода – важнейшего источника иллюстраций по истории Древнерусского и Московского государств. В них описываются исторические события эпохи русского средневековья. Попробуйте разобрать предложенные тексты, понять их примерное содержание и сопоставить каждую подпись с годом, о событиях которого в ней идёт речь. Годы уже указаны в таблице ответа.

Князь плененъ в рѣчи косянъ побѣже
 смокшы повордоу . сѣтъ вѣ
 нацѣниго
 княженн
 мѣ
 едн
 на

1

В пополе за годъ на поиже днѣ на памѣ
 ястѣ глаголюма . и цагенн ра
 в . кв . роднѣ князь пе
 Анисѣ ванѣ
 пленѣ
 ии .

2

чѣдо . и прѣтѣ златѣ вѣна колѣарн .
 То гдѣ же за дѣла вѣша . излапаши
 То гдѣ рабѣ менѣ и дѣженн цркъ . по
 ложенн еришы стѣ дѣл
 оу краснѣю
 Аншо

3

И царь крымской посылѣ полкомъ при
 шель со стѣмъ мѣмн . дѣ по вѣдо
 розгромаб . и гдѣ поклѣмнѣ
 тѣхъ . лѣсамъ
 и стѣленн
 дѣтѣ

4

Того же дѣла приидеи зоврдыи сѣ
 митрополити михилоштити ферсїи
 пноукіа і роєлпль . спожалоцанїемь
 ѿцрлзекса на педнїкоєкнѣженїе
 полодн мерское лєнїмѣт рїндегосолго

5

Плаети неєлаповоедша и пожгоша
 и мншгѣ полончєсєкравше по зпратн
 шлєд поспогєн . рлзлпсь оуоужє землїо
 поуєтдєсѣтнорн
 шлѣ

6

Задание 11. (8 баллов)

Перед Вами почтовая марка, посвящённая юбилею важного события отечественной истории. Ответьте на вопросы о марке и самом событии. Выберите из приведённого ниже списка четырёх современников события, которому посвящена марка, и укажите в поле ответа буквы, которыми они обозначены.



- | | |
|-----------------------|-------------------------|
| А. Андрей Рублёв | Е. Михаил Черниговский |
| Б. Батый | Ж. Нестор Летописец |
| В. Даниил Галицкий | З. Рогнеда Рогволодовна |
| Г. митрополит Алексий | И. Святополк Изяславич |
| Д. митрополит Иларион | К. Ярослав Всеволодович |

Задание 12. (11 баллов)

Перед Вами текст исторического источника. Внимательно прочитайте этот текст и выполните задания к нему.

«Исидор, милостию Божиею преосвященный архиепископ Киевский и всеа Русии, легатос и от ребра апостольского седалища лятцкого и литовскаго и немецкаго, всем и всякому христоверным с прибавлением веры своєа вечное спасение в Господа.

Возрадуйтеся и възвеселитеся вси ныне, яко и церковь восточнаа [и западнаа], колїкое время разделени быша и єдина ко єдинєи враждебны, а ныне истинным соединением соединїшася во изначалственнєе во свое соединение и в мир и в єдиначество древнєе, без всякаго разделения. Вси ж христоименїтїи людїє, и как латыни, так и грековє, и ти иже вси подлежат святєй соборнєй церкви костянтинополстєй, єже суть русь, и серби, и влахи, и инїи вси христианстїи родї примете тое же и прєсвятое єдиначество с великою духовною радостїю и честїю. И напред молю вас в Господа нашего Исуса Христа, єже с нами милость створївшаго, чтоб никакова розделения в вас с латынєю

не было, зане же вси есте раби Господа нашего Исуса Христа и во имя его крещени. Вы же, латынстии роди, тех всех, иже в гречестей вере суть, истинно веруйте, без всякого размышления, суть бо вси крещении, крещение иже свято есть и испытно от римския церкви, еже истинно и равно есть, яко ж и тое церкви крещение. И дале бы межи вас никако в злое размышление не было о тех делех, но как латыни, так и преже реченнии грекове к единой церкви смотрение имели, еже бо единым едина есть. И когда греки в земли суть латыньстей, или где есть в их земли латынская церкви, чтобы есте вси к божественей службе з дерзновением прибегали и тела Исуса Христова смотрили и сокрушением сердца честь воздавали, яко же и во своих церквах чинят.

На покаания приходят к латынским попом и тело Божие от них приемлют, а латыни тако ж длъжни суть въ их церковь итти и божественныя службы слушати и с теплою верою поклоняться тому ж Исуса Христову телу понеже истинно Исуса Христово тело, так же священо от греческого попа в кислом хлебе, как и от латынского попа священо в пресном хлебе. И того ради обое достойно есть дръжати опресночное и кислое. А латыни тако ж приходят ко греческим попом на покаание и причастие Божие от них приемлют, понеже обое то едино есть. Тако бо вселенский збор кончал в явленном посидении в честней болшей церкви служивше во граде Фролентии под леты воплощения Господня 1439-го лета, месяца июля в 6 день»

Максимальная оценка – 100 баллов.

Уважаемый участник! Все Ваши ответы обязательно следует внести в бланк ответов – жюри будет проверять только его.