

**Задания муниципального этапа Всероссийской олимпиады школьников
по истории. 8 класс**

1. Тестовые вопросы с одним правильным ответом. Правильные ответы обведите кружком. За каждый правильный ответ 2 балла. 12 баллов за задание.

1.1. Какие славянские племена упоминаются у византийских писателей Прокопия Кесарийского и Маврикия Стратега?

- | | |
|------------------------|----------------------|
| а) древляне и радимичи | в) склавины и анты |
| б) скифы и сарматы | г) бужане и волыняне |

1.2. Богом ветра у восточных славян являлся:

- | | |
|-----------|------------|
| а) Сварог | в) Дажбог |
| б) Перун | г) Стрибог |

1.3. Какое историческое сочинение появилось в том же веке, когда были созданы Великие Четьи-Минеи:

- | | |
|-----------------------------------|--------------------|
| а) Никоновская летопись | в) Новый летописец |
| б) Слово о погибели Русской земли | г) Синописис |

1.4. В каком году произошли события, описанные в историческом источнике: «И собрал он всех воинов своих, прошел всю Орду и всю землю Татарскую, подошел к пределам Рязанской земли, взял город Елец... Об этом прослышав, князь великий Василий Дмитриевич собрал воинов своих многочисленных и пошел из Москвы в Коломну, желая встретиться с ним; приступив с войском, встал на берегу у Оки-реки, Темир Аксак же стоял на одном месте пятнадцать дней, помышляя, окаянный, идти на всю Русскую землю»?

- | | |
|------------|------------|
| а) 1382 г. | в) 1408 г. |
| б) 1395 г. | г) 1445 г. |

1.5. Какому князю принадлежали знаменитые слова: «Не в силе Бог, а в правде»?

- | | |
|---------------------------|---------------------------|
| а) Святославу Игоревичу | в) Александру Ярославичу |
| б) Владимиру Святославичу | г) Ярославу Владимировичу |

1.6. Название какой реки пропущено в тексте источника: «И сказал князь великий Дмитрий Иванович: «Братья, бояре и князья и дети боярские, суждено вам то место меж Дона и Днепра, на поле Куликовом, на речке <...>. Положили вы головы свои за святые церкви, за землю за Русскую и за веру христианскую»:

- | | |
|------------------|-------------|
| а) Красивая Меча | в) Непрядва |
| б) Сож | г) Ока |

2. Тестовые вопросы с несколькими правильными ответами. В каждом вопросе три правильных ответа. Правильные ответы обведите кружком. За полностью правильный ответ 3 балла. 12 баллов за задание.

2.1. Из перечисленных выберите чины, входившие в состав Государева двора:

- | | |
|----------------------------|--------------|
| а) казаки | г) стольники |
| б) окольниковые | д) бояре |
| в) городовые дети боярские | е) стрельцы |





2.2. Прочитайте отрывок из исторического источника и выберите события, которые произошли в той же половине века, что и описанные в тексте: «Пришли иноплеменники на Русскую землю, половцев множество. Изяслав же, и Святослав, и Всеволод вышли против них на Альту. И ночью пошли друг на друга. Навел на нас Бог поганых за грехи наши, и побежали русские князья, и победили половцы».



- а) разгром Непобедимой армады
- б) создание Священной Римской империи
- в) первый крестовый поход
- г) смерть Чингисхана
- д) норманнское завоевание Англии
- е) раскол христианской церкви на католическую и православную

2.3. Прочитайте отрывок из исторического источника. Выберите события, которые произошли в период правления государя, имя которого пропущено в тексте: «Он же, благочестивый царь и великий князь всея Руси <...>, был сыном прославленного государя и храброго царя и великого князя всея Руси Ивана Васильевича, который царствовал на престоле вечной памяти отца своего Василия Ивановича и деда своего Ивана Васильевича, великих князей всея Руси».

- а) введение заповедных лет
- б) набег крымского хана Казы-Гирея на Москву
- в) подписание Столбовского мира со Швецией
- г) набег крымского хана Девлет-Гирея на Москву
- д) введение урочных лет
- е) подписание Тявзинского мира со Швецией

2.4. Перед вами изображение исторического деятеля. Выберите памятники архитектуры, созданные в том же веке, когда жил данный исторический деятель.





3. Хронологические последовательности. Восстановите правильную хронологическую последовательность событий. Запишите ответ в виде последовательности цифр событий в задании. 4 балла за каждую верную последовательность. 12 баллов за задание.

3.1.

- 1) Соловецкое восстание
- 2) восстания в Пскове и Новгороде
- 3) экспедиция С. Дежнева к Северному Ледовитому океану
- 4) введение Новогодогового устава
- 5) принятие Таможенного устава

--	--	--	--

3.2.

- 1) обнародование Мартином Лютером «95 тезисов»
- 2) Варфоломеевская ночь в Париже
- 3) Люблинская уния
- 4) Тридцатилетняя война
- 5) образование ордена иезуитов

--	--	--	--

3.3.

- 1) завоевание монголами государства Хорезм-шахов
- 2) избрание Темучина монгольским ханом
- 3) битва на реке Калке
- 4) завоевание монголами северокитайской империи Цзинь
- 5) проведение монголами переписи населения на русских землях

--	--	--	--

4. Задания на соотнесение двух рядов данных. 4 балла за полностью правильный ряд. 8 баллов за задание.

4.1. **Соотнесите исторические термины и их значения. Во втором перечне есть «лишние» значения.**

Термин	Значение
а) бердыш	1) боевой топор на длинном древке
б) сулица	2) гирия на ремне
в) булава	3) холодное оружие в виде рукояти с шаровидным навершием
г) кистень	4) пушка
	5) метательное копьё

а	б	в	г

4.2. **Соотнесите представителей духовенства и события с ними связанные. Во втором столбце есть лишние элементы**

Представители духовенства	Событие
а) Антоний	1) венчание на царство Ивана IV
б) Афанасий	2) создание Степенной книги царского родословия
в) Макарий	3) основание Киево-Печерского монастыря
г) Епифаний Славинецкий	4) основание пустыни на реке Соре
	5) перевод с греческого языка и исправление богослужебных книг

а	б	в	г

5. По какому принципу образованы эти ряды? По 2 балла за правильный ответ по каждому ряду. 6 баллов за задание.

5.1. *веди, глаголь, ять, юс малый*

5.2. *П.П. Ляпунов, Д.Т. Трубецкой, И.М. Заруцкий, Д.М. Пожарский*

5.3. *1582 г., 1618 г., 1634 г., 1667 г.*

6. Ряды «на включение» - «на исключение» (определите, кто лишний)

Укажите лишний элемент (слово или букву) в ряду. Обоснуйте свой выбор.

По 3 балла за правильный ответ по каждому ряду, максимальный балл – 6.

6.1. *Ярослав Владимирович Осмомысл, Роман Мстиславич, Юрий Всеволодович, Даниил Романович*

6.2. *Уложение о службе, создание приказа Тайных дел, введение большой сохи, отмена кормлений*

7. **Текст с пропусками. Заполните пробелы в тексте. Ответ оформите в виде перечня элементов под соответствующими номерами. По 1 баллу за каждый верно заполненный пропуск. Всего 14 баллов за задание.**

Во второй половине XII – первой трети XIII века северо-восток русских земель занимало (1–название) княжество. Оно находилось в междуречье Оки и (2–река). В Киеве его называли (3–название) край, так как здесь было много непроходимых лесов. Плодородные почвы находились в районе, называвшемся (4–название плодородных земель). Здесь издревле жили финно-угорские племена. Позже появились восточнославянские переселенцы из племенного объединения (5–название восточнославянского племенного объединения). По решению состоявшегося в (6–год) Любечского съезда князей эта земля являлась владением рода князя (7–имя и прозвище князя). Преемником этого князя стал его младший сын (8–имя и прозвище князя), княживший в 1125–1157 гг. Он много сделал для освоения края. При нем были основаны города Дмитров, Звенигород, Юрьев-Польской. Впервые в его княжение в летописи упоминается (9–название города). В (10–год) князь пригласил на пир в этот городок своего союзника – черниговского князя Святослава Ольговича. Наследником князя стал его старший сын (11–имя и прозвище). Став князем, он перенес столицу княжества в город (12–

название города). Самовластье князя раздражало верхушку княжеской дружины – **(13–название социальной группы).** В **(14–год)** князь был убит своими приближенными в замке. После убийства началось восстание. Дома знати были разграблены.

1		8	
2		9	
3		10	
4		11	
5		12	
6		13	
7		14	

8. Работа с текстом исторического источника. Внимательно ознакомьтесь с приведённым фрагментом источника и оцените правильность либо ошибочность выводов, сделанных на его основе. В таблице укажите все верные выводы. По 2 балла за каждый правильный ответ. 12 баллов за задание.

«А воеводы великого князя пошли к Шелони, и как подошли они к берегу реки той, там, где можно перейти ее вброд, в ту же пору вышла рать новгородская против них с другой стороны, от города своего, к той же реке Шелони, многое множество, так что ужаснулись воины великого князя, потому что мало их было – все воины княжеские, не зная этого, покоряли места окрест Новгорода.

А новгородские посадники, и тысяцкие, и с купцами, и с жителями людьми, и мастера всякие или, проще сказать, плотники и гончары, и прочие, которые отродясь на лошади не сидели и в мыслях у которых того не бывало, чтобы руку поднять на великого князя, – всех их те изменники силой погнажи, а кто не желал выходить на бой, тех они сами грабили и убивали, а иных в реку Волхов бросали; сами они говорили, что было их сорок тысяч в том бою.

Воеводы же великого князя, хоть и в малом числе (говорят бывшие там, что только пять тысяч их было), увидев большое войско тех и возложив надежду на Господа Бога и пречистую Матерь его и на правоту своего государя великого князя, пошли стремительно на них, как львы рыкая, через реку ту широкою, на которой в том месте, как сами новгородцы говорят, никогда брода не было; а эти и без брода все целые и здоровые ее перешли. Увидев это, новгородцы утрашилились сильно, взволновались и зашатались, как пьяные, а наши, дойдя до них, стали первыми стрелять в них, и взволновались кони под теми, и начали с себя сбрасывать их, и так скоро побежали они, гонимые гневом Божиим за свою неправду и за отступление не только от своего государя, но и от самого Господа Бога.

Полки же великого князя погнажи их, коля и рубя, а они и сами в бегстве друг друга били, кто кого мог. Побито же их было тогда многое

множество, – сами они говорят, что двенадцать тысяч их погибло в тех боях, а схватили живьем более двух тысяч; схвачены и посадники их, а житых множество. Сбылось на них пророческое слово: «Пятеро ваших погонит сотню, а сотня потеснит тысячи». <...> А воины великого князя гнали их двадцать верст, а потом возвратились в великой усталости.

А воеводы великого князя, чуть отдохнув после боя того и дождавшись своих, послали к великому князю Замятию с той вестью, что помог им Бог – рать новгородскую разбили. И тот примчался к великому князю в Яжелбицы того же месяца в восемнадцатый день, и была радость великая великому князю и братьям его, и всему войску их.

Месяца того же на двадцать четвертый день, пришел князь великий в Руссу, и тут повелел казнить отсеченьем головы новгородских посадников за их измену и за отступничество: Дмитрия Исаковича Борецкого, да Василия Селезнева, да Еремея Сухощека, да Киприана Арзубьева; а иных многих сослал в Москву да велел их бросить в тюрьму, а незнатных людей велел отпускать в Новгород.

1. Битва, описанная в историческом источнике, состоялась зимой.
2. Согласно тексту источника в сражении участвовало новгородское городское ополчение, состоявшее из людей, не привычных к войне и не желавших воевать.
3. Московское войско в событиях, описанных в тексте источника, возглавлял сын великого князя Иван Молодой и воевода Даниил Щеня.
4. Великий князь, упомянутый в тексте, был сторонником секуляризации церковных земель.
5. В результате битвы, описанной в историческом источнике, Новгородская земля окончательно утратила свою независимость.
6. В битве, описанной в историческом источнике, участвовали псковские войска.
7. Московское войско в событиях, описанных в тексте источника, возглавляли воеводы Даниил Холмский и Федор Хромой.
8. В соответствии с приведенным текстом московские войска неожиданно перешли реку там, где по данным новгородцев был брод.
9. Один из казненных новгородских посадников приходился сыном Марфы Борецкой, выступавшей за союз Новгородской земли с Литвой.
10. В результате битвы, описанной в тексте источника, новгородцы были вынуждены заплатить великому князю огромный выкуп и признать на своей земле великокняжеский суд.
11. В описанной битве численность московского войска не уступала численности новгородской рати.
12. В период правления великого князя, о котором идет речь в тексте исторического источника, в состав Русского государства были включены северные удмурты.

--	--	--	--	--	--

9. Укажите фрагменты, освещающие события, которые произошли в следующем веке по сравнению с событиями, описанными в тексте исторического источника в задании № 8. 8 баллов за задание.

А) Мать же его, благочестивая царица Мария, во внутренних своих покоях сидя, ничего того не ведала, только вдруг услышала и увидела то совершенное дело страшное, быстро сбежала вниз и увидела сына своего, как агнца незлобивого, зарезанного и мертвым на земле лежащего, и кровь его льющуюся, и закричала изо всех своих сил, и испустила горький вздох из глубины своего сердца, и забыла стыд и то, что по чину <пристало> женщине, и стала бить себя в грудь и голосить громко и горестные речи выкрикивать. Какие-то <люди> начали бить в колокола, горожане же, мужчины и женщины, вплоть до малых детей, услышав внезапный шум и звон у двора ее, все быстро сбежались на звон тот и вопли ее

Б) Первое заседание собора было 8 октября в городе Ферраре во Фряжской земле. На соборе присутствовали римский папа Евгений, и с ним двенадцать кардиналов, и архиепископы, и епископы, и капелланы, и монахи. Православной же веры были на соборе греческий император Иоанн и его брат деспот Дмитрий, и вселенский патриарх Иосиф, и с ним двадцать два митрополита, и из русских епископов – Авраамий Суздальский, и архимандриты, и попы, и диаконы, и чернецы, и четыре посла – трапезундский, грузинский, тверской Фома и волошский Микула. Задавали вопросы три митрополита, отвечали – эфесский Марк, русский Исидор, никейский Виссарион.

В) По прошествии немало времени, в день воскресный, когда блаженный митрополит Филипп совершал Божественную литургию, пришел царь к церковной службе, одетый в черные одежды, также и другие последователи зла, одетые в такие же черные одежды, да еще и с высокими колпаками на головах своих, подобными уборам, что носят «халдеи». И бояре, и весь синклит таковое же одеяние и облик одинаковый имели. Святой же Филипп, по порядку совершая чин службы, обрадовался приходу царя и исполнился божественного света. И когда стоял он на предназначенном для него месте, царь трижды подходил к нему и благословения просил, святитель же ничего на то не отвечал. И после того сказал: «О царь! Мы приносим жертву Господу, а за стенами храма безвинно льется кровь христианская и напрасно умирают».

Г) За грехи наши Бог послал сильного врага на христиан. И вот к государю нашему в Псков пришла весть, что литовский король взял Полоцк и окрестные города. Многие воеводы государя и бесчисленные воины и в Полоцке, и в окрестных городах храбро бились и кровь свою проливали за христианскую веру, особенно же в городе Соколе. Узнав об этом, царь-государь закручинился, но сказал только: «Воля Господня да будет, что Господу угодно, так тому и быть». Сам же царь-государь возвратился в

царствующий град Москву. На второй год после взятия Полоцка, расшвирился и возгордился лютой этот варвар, литовский король Стефан, вновь устремился в поход на Русскую землю по попущению Божьему за грехи наши.

Д) Царь же со всеми татарами пошел по Литовской земле мимо Мценска, Любутска и Одоева и, придя, стал у Воротынска, ожидая, что король придет к нему на помощь. Король же не пришел к нему и сил своих не послал – были у него свои междоусобия, воевал тогда Менгли-Гирей, царь перекопский, королевскую Подольскую землю, помогая великому князю.


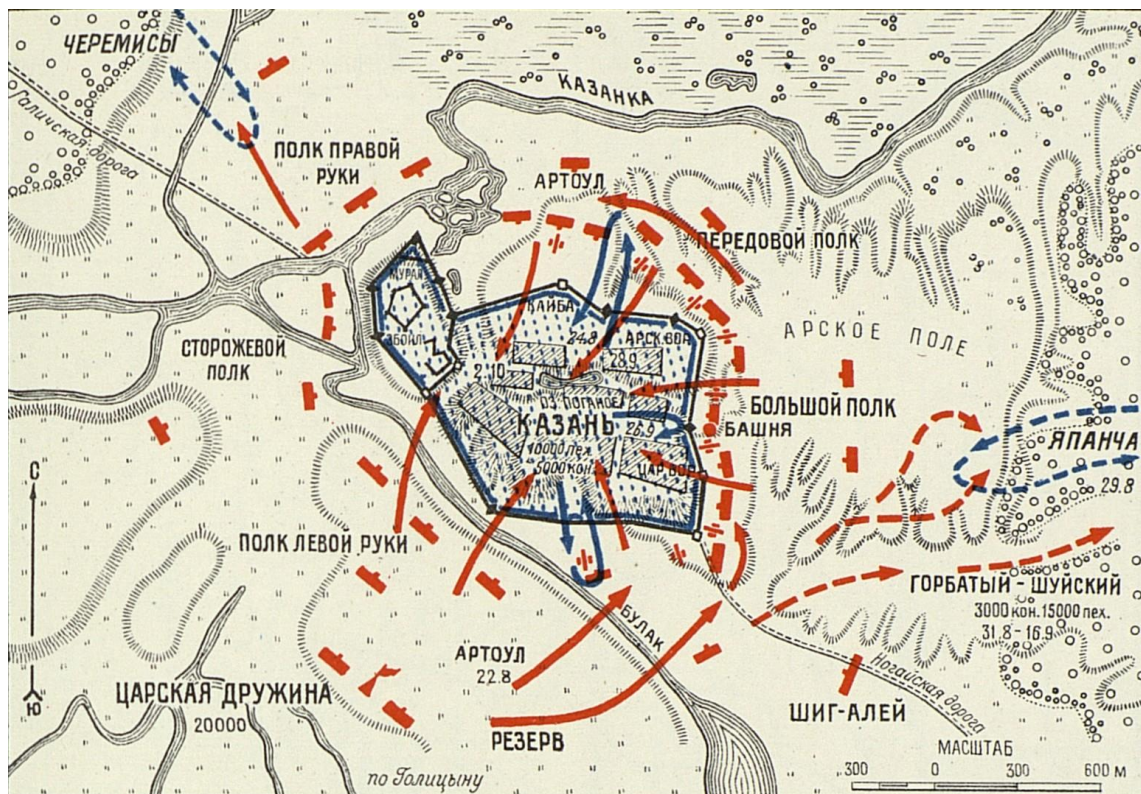
Е) А князь Дмитрий, видя, что из-за великого князя многие люди отступились от него, послал за владыками и стал совещаться с князем Иваном, с владыками и с боярами, выпустить ли его или нет. А владыка Иона каждый день, не переставая, говорил: «Выпусти его, сними грех с моей души и со своей. Что он может совершить без глаз? А дети его малы. А кроме того, вели ему поцеловать крест, и наша братия, владыки, будут свидетелями». Много и другого говорил. Князь же Дмитрий, много думав об этом, решил выпустить великого князя и дать ему вотчину, в которой он мог бы жить.

Ж) Смерти самого царя он радовался, тайно ликуя, видя, что все люди умалчивают о том из трусости; и, безжалостно палимый своей совестью, он убежал из царствующего града в лавру, <место> пострижения своей сестры, бывшей супруги упомянутого прежде царя. По трем причинам было предпринято его бегство, с большой хитростью задуманное. Во-первых, страх был в сердце его и хотел он доподлинно узнать, не восстанет ли внезапно против него народ, огорчившийся и вкусивший горечь плача о смерти царя, и не поспежит ли из мести убить и его. Во-вторых, если же это пламя ненависти не вспыхнет в народе, он будет действовать уверенно и без стыда. В-третьих же, сможет увидеть желаемое: с каким усердием весь народ будет просить его себе в правители

З) Месяца января в первый день, в четвертом часу ночи пришел из Александровской слободы от князя Михаила Васильевича в Троицкий Сергиев монастырь воевода Григорий Волуев, а с ним отборных воинов пятьсот храбрых мужей, и все с оружием. Они пришли переведаться с литовскими людьми и русскими изменниками и войско их смести. Когда же стало рассветать, соединившись с Давидом и с троицкими сидельцами, храбро выходят они из города и смело нападают на польские и литовские роты. И втоптали они их в Сапегины таборы, и станы их около таборов зажгли. И милостью Пребезначальной Троицы литовских людей многих они побили и пленными взяли.

--	--	--	--

10. Задание с картами и схемами. Рассмотрите схему и выберите иллюстрации, на которых изображены события, произошедшие в следующем веке по сравнению с событиями, отраженными на схеме. 4 балла за задание.



3)



4)



5)



6)



7)



8)



--	--	--	--

11. Задания с иллюстративным материалом.

Рассмотрите картины. Выберите те, на которых отражены события Великой Отечественной войны. 6 баллов за задание.

1)



2)



3)



4)



5)



6)



7)



8)



9)



10)



--	--	--	--	--	--

Всего 100 баллов за задания.