

**ВСЕРОССИЙСКАЯ ОЛИМПИАДА ШКОЛЬНИКОВ ПО ИСТОРИИ
2024/2025 УЧЕБНЫЙ ГОД
МУНИЦИПАЛЬНЫЙ ЭТАП
ЗАДАНИЯ
7 КЛАСС**

Максимальное количество баллов за этап – 100 баллов

1. [3 балла]

Выберите один верный ответ.

1.1. Какой из нижеперечисленных городов не был разграблен монголами во время Западного похода 1236-1242 гг.?

- 1) Козельск 3) Вологда
2) Торжок 4) Чернигов

1.2. Какое из нижеперечисленных событий способствовало освобождению русских земель от власти Золотой Орды?

- 1) Хан Науруз передает ярлык на великое княжение нижегородскому князю Дмитрию Константиновичу
2) Мамай объединяет западную часть Золотой Орды, которой правит через марионеточных ханов; в восточной половине Орды правят враждебные Мамаю ханы
3) Нападение хана Тохтамыша на Москву в 1382 г.
4) Поражение Дмитрия Донского в битве с рязанским князем Олегом

1.3. Современниками были...

- 1) Ярослав Мудрый и польский король Болеслав I Храбрый
2) Владимир Мономах и золотоордынский хан Бату
3) Дмитрий Донской и китайский император Цинь Шихуанди
4) Иван IV Грозный и французский король Людовик XII

2. [9 баллов]

Выберите несколько верных ответов из предложенных. Ответы внесите в таблицу.

2.1. Укажите верные утверждения.

- 1) Единство бóльшей части Золотой Орды после бегства Тохтамыша в Литву восстановил эмир Едигей – правитель Ногайской Орды.
2) После смерти Александра Невского его брат Ярослав Тверской при поддержке Литвы разгромил монгольские войска в битве при Раковоре.

Не забудьте перенести Ваши ответы в бланк ответов

- 3) К Рюрику с просьбой занять княжеский престол обратились ильменские словене, жмудь, древляне, лютичи и дунайские ободриты.
- 4) Немецкие рыцари во главе с епископом Альбертом в 1201 г. в землях ливов основали крепость Ригу.
- 5) Одним из самых страшных наказаний в Древнерусском государстве, согласно «Правде Ярослава», была продажа в рабство семьи преступника.

2.2. Рассмотрите изображение и выберите верные суждения.



- 1) Крепость, изображенная на иллюстрации, находится в Смоленске.
- 2) Большинство построек внутри крепости являются светскими зданиями.
- 3) Основателем крепости являлся Юрий Долгорукий.
- 4) К постройке некоторых зданий внутри крепости приложили усилия итальянские архитекторы.

Не забудьте перенести Ваши ответы в бланк ответов

5) Крепость являлась официальной резиденцией представителей ордынских ханов в русских землях.

2.3. Расположите правителей в хронологическом порядке:

1) Ярослав Мудрый 2) Юрий Звенигородский 3) Дмитрий Грозные Очи 4) Дмитрий Шемяка 5) Всеволод Большое Гнездо

3. [3 балла]

Что из перечисленного является лишним?

3.1. Тысяцкий, мытник, вирник, фискал, печатник.

3.2. Бату, Узбек, Тохтамыш, Ногай, Берке.

3.3. «Повесть о Ерше Ершовиче», «Повесть о Шемякином суде», «Сказание о Дракуле воеводе», «Служба кабаку», «Калязинская челобитная».

4. [7 баллов]

Рассмотрите картину, ознакомьтесь с фрагментом литературного произведения.

1



3



2



4



Не забудьте перенести Ваши ответы в бланк ответов

«Россия и Литва

Димитрием давно его признали,

Но, впрочем, я за это не стою.

Быть может, он Димитрий настоящий,

Быть может, он и самозванец. Только

Я ведаю, что рано или поздно

Ему Москву уступит сын Борисов».

4.1. Выберите картину, относящуюся к тому же историческому событию, что и фрагмент приведенного литературного произведения.

4.2. Выберите картину, выпадающую из ряда.

4.3. Установите, верны ли приведенные суждения.

- 1) Исторический деятель, изображенный на картине, обозначенной цифрой 2, несколько лет находился в плену у поляков.
- 2) Сюжет картины, обозначенной цифрой 4, относится к событиям эпохи Смуты.
- 3) Картина, обозначенная цифрой 3, представлена в экспозиции Государственной Третьяковской галереи.
- 4) На картинах, обозначенными цифрами 1, 3 и 4, изображены русские цари.
- 5) События, изображенные на картине, обозначенной цифрой 1, вошли в историю как соляной бунт.

5. [15 баллов]

5.1. Запишите в хронологической последовательности московских князей, правивших в XIII-XV вв. (при этом исключите Юрия Звенигородского, Василия Косого и Дмитрия Шемяку).

5.2. Соотнесите порядковые номера правителей (задание 5.1) с приведенными событиями.

- 1) В годы его правления Едигей разорил множество городов Московского княжества.
- 2) Активно занимался покупкой земель для роста Московского княжества.
- 3) В годы правления этого князя произошла одна из крупнейших усобиц, поводом к которой послужил золотой пояс Дмитрия Донского.
- 4) Укрепил отношения с Золотой Ордой, женившись на сестре хана Узбека.
- 5) В годы его правления великий князь литовский Ольгерд добился поставления отдельного митрополита в Киев.

Не забудьте перенести Ваши ответы в бланк ответов

- 6) При нем Великое княжество Владимирское стало наследственной собственностью московских князей.
- 7) В годы правления этого князя Москва была разорена в результате похода ордынского военачальника Тудана (Дюденыя).
- 8) Накануне восшествия князя на престол в Москве началась первая крупная боярская междоусобица.
- 9) В годы правления этого князя в Новгороде стало распространяться еретическое учение, получившее в отечественной историографии наименование «ересь жидовствующих».

6. [8 баллов]

Перед Вами памятники архитектуры. Вам необходимо соотнести данные памятники с именами правителей, правившими государствами, на территории которых расположены эти памятники. Учтите, что в перечне имен есть лишние.

1



2



3



4



5



6



Не забудьте перенести Ваши ответы в бланк ответов

7



6

8



ПРАВИТЕЛИ

Цао Цао

Камос

Мункэ

Муавия I

Ликург

Калигула

Влад III Цепеш

Модэ (Маодунь)

Пачакутек Юпанки

Константин V Копроним

Сигизмунд III

Ричард I Львиное Сердце

Хлодвиг I

Мескаламдуг

Святополк Окаянный

Ашока

7. [14 баллов]

Определите пропущенные в тексте названия, слова, имена, даты, обозначенные порядковыми номерами.

7.1. Используя свои знания по истории, заполните пропуски в тексте. Недостающие даты, имена, термины занесите в таблицу под соответствующими номерами.

Литовское государство, возникшее в первой половине (1)_____, сумело дать отпор немецким крестоносцам, пытавшимся захватить литовские территории (как они это сделали в начале XIII в. с землями Восточной Прибалтики, населенными предками (2)_____ и латышей). К началу XIV в. в состав Литовского государства вошли Полоцкая и Пинская земли. Особенно Литва усилилась в правление (3)_____, сына Гедимина. При нем к Литве были присоединены Волынская, (4)_____ и Переяславская земли, большая часть Черниговской, часть Смоленской. В начале XV в. (5)_____ присоединил (6)_____. Великое княжество Литовское, таким образом, включило в себя значительную часть Руси – все ее южные и западные земли, кроме (7)_____ (отошедшей к Польше).

Литовская государственность строилась по русскому образцу. Языком делопроизводства

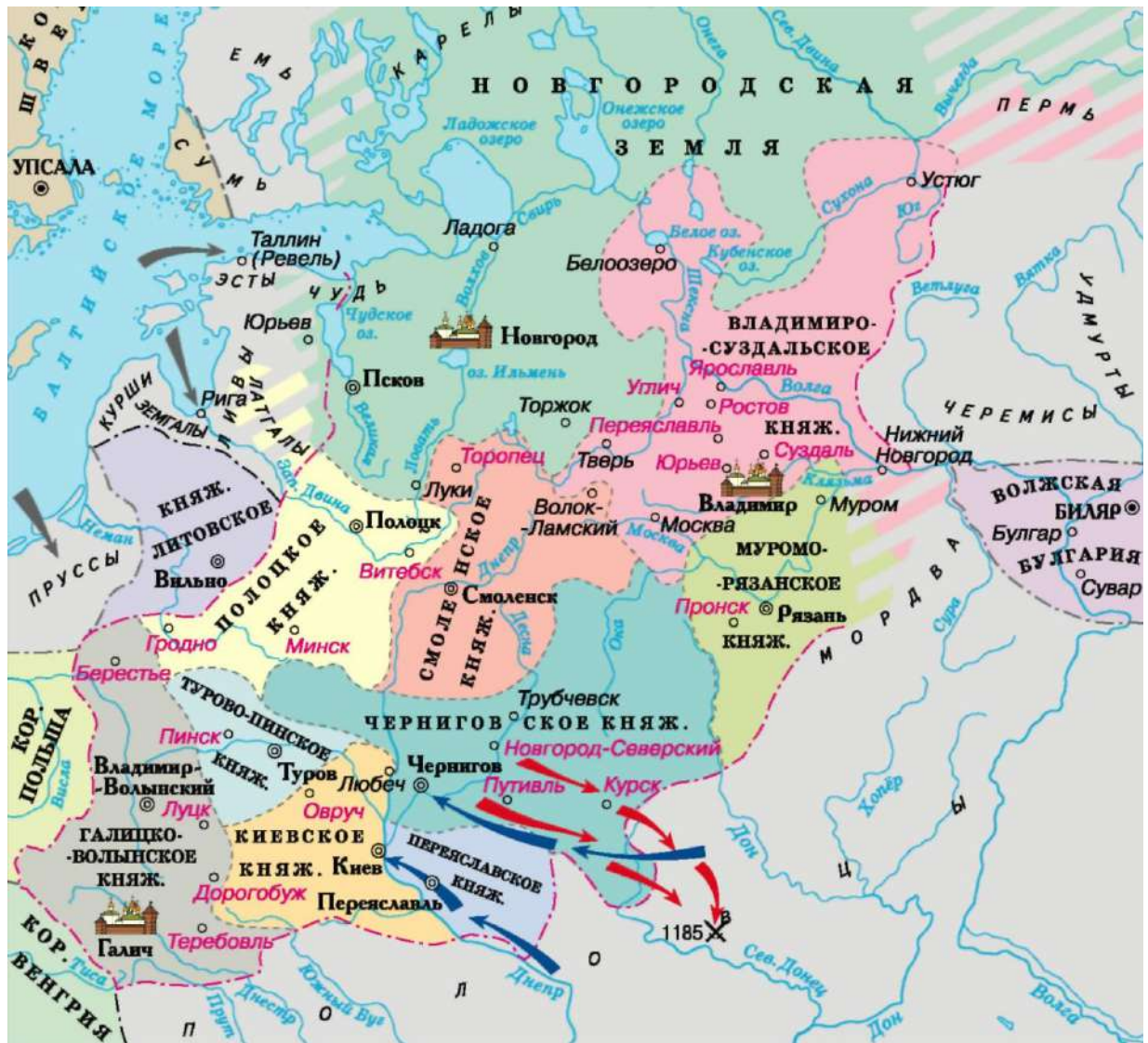
Не забудьте перенести Ваши ответы в бланк ответов

был древнерусский, среди литовской знати распространялась (8)_____ вера. Полному «обрусению» Великого княжества Литовского помешала (9)_____ уния, заключенному между Литвой и (10)_____.

7.2. Каких наследных правителей Великого княжества Литовского, кроме тех, о ком говорится в тексте, Вы можете назвать? Запишите имена 4 великих князей.

8. [10 баллов]

8.1. Рассмотрите карту и выберите верные утверждения



- 1) На карте представлены племена, относящиеся к тунгусо-маньчжурским этносам.
- 2) На карте обозначено государство, в котором ислам был принят в качестве государственной религии в 922 г.

Не забудьте перенести Ваши ответы в бланк ответов

- 3) На карте отображены события, в результате которых русские земли попали в вассальную зависимость на несколько столетий.
- 4) На карте обозначен город, в котором было поднято восстание против Щелкана (Чолхана).
- 5) На карте отображены события, описанные в одном из известнейших древнерусских литературных памятников.

8.2. Рассмотрите карту выше и установите, верны ли приведенные суждения

1



События, изображенные на картине, относятся к карте.

2



Данный памятник архитектуры построен в годы правления князя, чьи походы указаны на карте.


3



На карте обозначено озеро, где произошли события, изображенные на иллюстрации.

Не забудьте перенести Ваши ответы в бланк ответов

4



На карте представлено государство, где правила эта историческая личность.

5



На карте представлен город, главенство в котором занимал орган управления, представленный на иллюстрации.

6



На карте обозначен город, герб которого представлен на иллюстрации.

Не забудьте перенести Ваши ответы в бланк ответов

7



На карте обозначен город, в котором находится данный памятник архитектуры.

9. [10 баллов]

Прочитайте фрагмент исторического источника и выполните задания.

«В год 6524. Пришел Ярослав на Святополка, и стали по обе стороны Днепра, и не решались ни эти на тех, ни те на этих, и стояли так три месяца друг против друга... Святополк стоял между двумя озерами и всю ночь пил с дружиной своей. Ярослав же с утра, исполнив дружину свою, на рассвете переправился. И, высадившись на берег, оттолкнули ладьи от берега, и пошли друг против друга, и сошлись в схватке. Была сеча жестокая, и не могли из-за озера печенеги помочь; и прижали Святополка с дружиною к озеру, и вступили на лед, и подломился под ними лед, и стал одолевать Ярослав, видев же это, Святополк побежал, и одолел Ярослав. Святополк же бежал... а Ярослав сел в Киеве на столе отцовском и дедовском».


Вопросы:

- 9.1. О каком событии идет речь в источнике? В каком году оно произошло?
- 9.2. Какие прозвища были у лидеров противоборствующих сторон?
- 9.3. В какую страну бежал Святополк после поражения в битве?
- 9.4. Укажите не менее двух событий из отечественной истории, произошедших в том же веке, что и данное событие?
- 9.5. Представители какого народа выступили на стороне Ярослава в этом событии?

Не забудьте перенести Ваши ответы в бланк ответов

10. [6 баллов]

На иллюстрациях изображены православные храмы. Рассмотрите иллюстрации и выполните задания.



10.1. Укажите имя князя, в период правления которого были построены эти храмы:

- | | | |
|------------------------|----------------------|---------------------|
| 1) Владимир Креститель | 2) Ярослав Мудрый | 3) Владимир Мономах |
| 4) Мстислав Великий | 5) Александр Невский | 6) Дмитрий Донской |

10.2. Укажите еще один памятник архитектуры, построенный в годы правления этого князя:

- | | |
|--------------------------------|-----------------------------|
| 1) Десятинная церковь | 2) Церковь Покрова на Нерли |
| 3) Золотые ворота во Владимире | 4) Золотые ворота в Киеве |
| 5) Георгиевский собор | 6) Церковь Бориса и Глеба |

Не забудьте перенести Ваши ответы в бланк ответов

10.3. Выберите иллюстрации, сюжетно связанные с именем этого правителя:

1



2



3



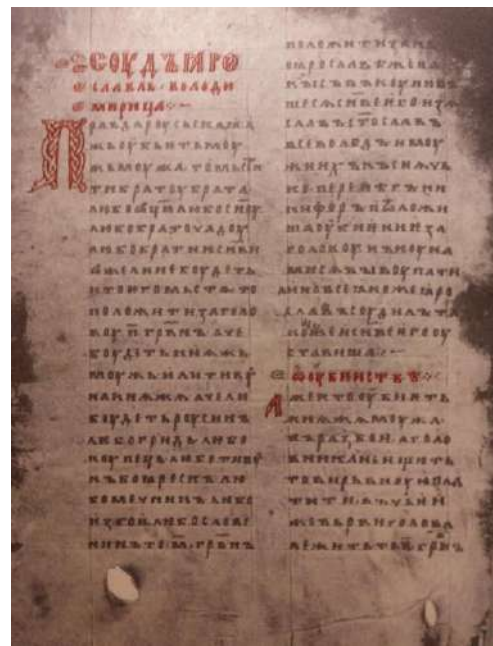
4



5



6



Не забудьте перенести Ваши ответы в бланк ответов

11. [4 балла]

Рассмотрите постеры художественных фильмов. Выберите те, сюжет которых относится к периоду Великой Отечественной войны.

1



2



3



4



Не забудьте перенести Ваши ответы в бланк ответов

12. [11 баллов]

Перед Вами известные личности в истории Амурской области.

12.1. Расположите их последовательно в порядке периода, в котором они жили.

12.2. Назовите их род деятельности.

12.3. Найдите личность, которая является лишней в ряду, свой ответ обоснуйте.

1



Николай Николаевич Муравьев-Амурский

2



Иван Михайлович Гамов

3



Анатолий Пантелеевич Деревянко

4



Ерофей Павлович Хабаров

Не забудьте перенести Ваши ответы в бланк ответов