

**Всероссийская олимпиада школьников по истории**  
**Муниципальный этап**  
**7-й класс**

*Время выполнения работы – до 90 минут (максимум 90 баллов).*

**ЗАДАНИЕ 1**

Ответьте на вопросы, выбрав **один** правильный ответ из предложенных вариантов. Запишите ответы в таблицу.

**Всего баллов за задание – 10.**

1. Какая из перечисленных битв произошла в XIII веке?

- А. Невская.
- Б. Бортеневская.
- В. Куликовская.
- Г. На реке Пьяне.

2. «Сказал... (он) матери своей и боярам своим: «Не люблю мне сидеть в Киеве, хочу жить в Переяславце на Дунае, ибо там середина земли моей, туда стекаются все блага: из Греческой земли – золото, паволоки, вина, различные плоды, из Чехии и из Венгрии – серебро и кони, из Руси же – меха и воск, мёд и рабы». О каком князе идёт речь в летописи?

- А. Рюрик.
- Б. Олег.
- В. Игорь.
- Г. Святослав.

3. Какое научно-техническое изобретение было сделано к концу XIV века?

- А. Динамит.
- Б. Револьвер.
- В. Наручные часы.
- Г. Очки.

4. При обороне Москвы в 1382 г. впервые на Руси были применены «тюфяки». Что называли этим словом?

- А. Баллисты.
- Б. Артиллерийские орудия.
- В. «Греческий огонь».
- Г. Реактивные снаряды.

5. Перечисленные исторические деятели были современниками за исключением одного? Кого именно?

- А. Иван III.
- Б. Леонардо да Винчи.
- В. Ричард Львиное Сердце.
- Г. Николай Коперник.

**Ответы:**

1	2	3	4	5

## ЗАДАНИЕ 2

Установите правильное соответствие. Запишите ответы в таблицу. Обратите внимание на то, что в правом столбце есть лишний элемент.

**Всего баллов за задание – 8.**

I. Соотнесите имена московских князей и их исторические прозвища.

1. Иван Данилович	А. Темный
2. Дмитрий Юрьевич	Б. Гордый
3. Василий II Васильевич	В. Шемяка
4. Симеон Иванович	Г. Косой
	Д. Калита

II. Соотнесите историческую личность Средних веков и факты её биографии.

1. Доминик де Гусман	А. Венецианский купец, он странствовал почти 25 лет, а вернувшись на родину, написал книгу о жизни и обычаях народов Азии
2. Марко Поло	Б. Друг и последователь великого Петрарки, написал книгу «Декамерон», состоящую из ста новелл
3. Джованни Бокаччо	В. Сын испанского дворянина, фанатичный католик, основал монашеский орден, члены которого составляли большинство судей и служителей инквизиции
4. Симон де Монфор	Г. Этого герцога называли «последним рыцарем», «бургундским львом»; храбрый, прямой и безжалостный к врагам, он 12 лет воевал с королём, но потерпел поражение
	Д. Граф, в гражданской войне возглавил войско противников короля, впервые в истории страны и Западной Европы созвал собрание феодалов, рыцарства и городов – парламент

## Ответы

	<b>1</b>	<b>2</b>	<b>3</b>	<b>4</b>
<b>I</b>				
<b>II</b>				

## ЗАДАНИЕ 3

**Всего баллов за задание – 14.**

I. Расположите в хронологической последовательности перечисленные события, начиная с самого раннего. Ответ запишите в отведённую таблицу в виде ряда цифр (7 баллов).

1. Правление Октавиана Августа.
2. Разгром печенегов князем Ярославом.
3. Реформы императора Юстиниана.
4. Договор князя Игоря с Византией.
5. Захват Константинополя турками-османами.

**II.** Расположите в хронологической последовательности возведение русских православных храмов (7 баллов).

1. Золотые ворота во Владимире.
2. Покровский собор в Москве (Василия Блаженного).
3. Храм Христа Спасителя в Москве.
4. Собор Святой Софии в Новгороде.
5. Храм Федора Стратилата на Ручью в Новгороде.

**Ответы**

<b>I</b>							
<b>II</b>							

#### **ЗАДАНИЕ 4**

Согласны ли Вы со следующими утверждениями? Запишите «да» или «нет» в таблицу.  
**Всего за задание – до 8 баллов.**

1. Соловецкий монастырь был основан Аверкием Ивановичем Палицыным.
2. Город Сольвычегодск назван так по основному промыслу его жителей.
3. Самым ценным товаром, вывозимым из Заволочья в XII–XV вв., была пушнина.
4. Двинские владения Новгорода захвачены московскими войсками в правление Василия Тёмного.
5. Основной группой крестьянства Подвинья и Поонежья к середине XVI века стало черносошное.
6. Крепость Орлец в среднем течении Северной Двины была основана в XIV веке.
7. На территории Архангельского Севера не встречаются археологические памятники каменного века.
8. Первым русским заполярным городом стал Пустозерск.

**Ответы**

1	2	3	4	5	6	7	8

#### **ЗАДАНИЕ 5**

Задание состоит из двух частей. **Всего за задание – 20 баллов.**

**I.** Внимательно рассмотрите карту. Используя карту и свои знания по истории, восстановите текст, заполнив пропуски необходимыми датами, именами и терминами (см. указания в скобках). Ответы запишите в отведённых под текстом строках.

Восточноевропейские земли давно привлекали немецких феодалов своими богатствами и выгодным географическим положением. Орудием их проникновения на восток стали духовно-рыцарские ордена. Орден меченосцев был создан в \_\_\_1\_\_\_ году. Тевтонский орден был основан в конце XII века в \_\_\_2\_\_\_ (страна на Ближнем Востоке), но затем перенёс свою деятельность в Европу. Их «натиск на Восток» встретил сопротивление прибалтийских племён \_\_\_3\_\_\_ и \_\_\_4\_\_\_ (названия племён), которых в этой борьбе поддержали крупные северо-западные русские города Новгород и \_\_\_5\_\_\_. Однако их действия не были согласованными, а силы рыцарей умножились с

объединением в \_\_\_\_6\_\_\_\_ году Ордена меченосцев и Тевтонского ордена в \_\_\_\_7\_\_\_\_ (название) орден.

Ослаблением Руси после нашествия в конце 1230-х гг. \_\_\_\_8\_\_\_\_ (название агрессоров) хотели воспользоваться шведы. Они преследовали цель отрезать Новгород от важнейшего торгового пути в Европу, идущего через Ладогу на \_\_\_\_9\_\_\_\_ (название моря). Летом \_\_\_\_10\_\_\_\_ года они высадились на берегах Невы. Навстречу шведским войскам спешным маршем выступил новгородский князь \_\_\_\_11\_\_\_\_ (имя, отчество). Благодаря стремительному натиску ему удалось одержать победу, за которую он получил почётное прозвище \_\_\_\_12\_\_\_\_.

В этом же году перешли в наступление и немецкие рыцари. Ими были взяты города \_\_\_\_13\_\_\_\_ и \_\_\_\_14\_\_\_\_. На помощь новгородцам пришли дружины владимирского князя \_\_\_\_15\_\_\_\_ (имя, отчество), отца победителя шведов. Решающая битва произошла \_\_\_\_16\_\_\_\_ (день, месяц, год) на льду \_\_\_\_17\_\_\_\_ (название) озера. Русские войска вновь одержали победу, которая предоохранила Русь от дальнейшей экспансии немецких феодалов.



Ответы:

- |          |           |
|----------|-----------|
| 1) _____ | 10) _____ |
| 2) _____ | 11) _____ |
| 3) _____ | 12) _____ |
| 4) _____ | 13) _____ |
| 5) _____ | 14) _____ |
| 6) _____ | 15) _____ |
| 7) _____ | 16) _____ |
| 8) _____ | 17) _____ |
| 9) _____ |           |

II. Какую политику проводил новгородский князь, описанный в тексте, в отношении завоевателей, движение которых отмечено стрелками в юго-восточной части карты? Приведите не менее двух положений, объясняющих эту политику.

## ЗАДАНИЕ 6

Запишите термины, значения которых раскрыто ниже.  
Всего баллов за задание – 12.

1. Древний каменный век, его первый период.

Ответ: \_\_\_\_\_

2. Первая золотая монета, чеканившаяся в Киевской Руси при князе Владимире I.

Ответ: \_\_\_\_\_

3. Придворный чин-должность на Руси в XIII–XVII веках, прислуживал за столом, сопровождал князя (царя) в поездках, выполнял военные, посольские поручения.

Ответ: \_\_\_\_\_

4. Рыночная площадь древнегреческого города, центр общественной, экономической, политической жизни.

Ответ: \_\_\_\_\_

5. Вид ювелирной техники, изготовление украшений из тонкой золотой (серебряной) гладкой или свитой проволоки.

Ответ: \_\_\_\_\_


6. Туристический маршрут, проходящий по древним городам Северо-Восточной Руси, в которых сохранились уникальные памятники истории и культуры, а также центры народных ремёсел.

Ответ: \_\_\_\_\_

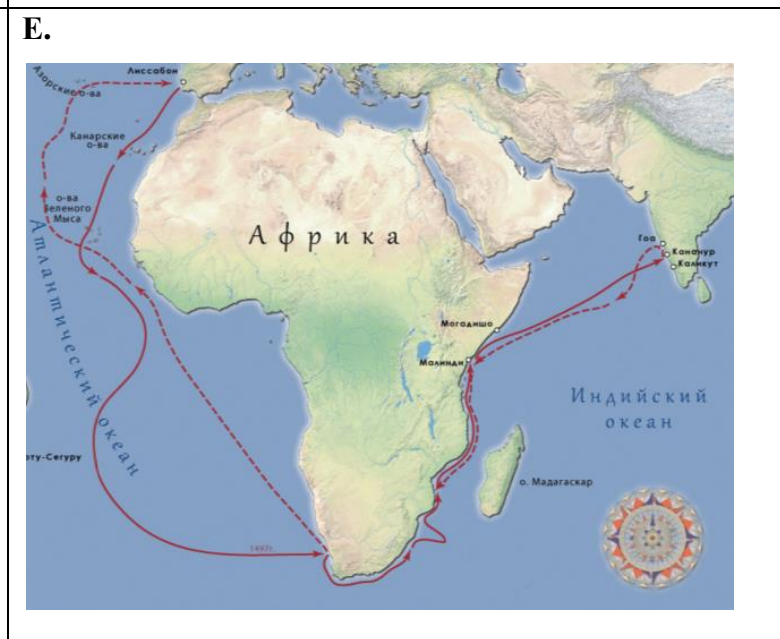
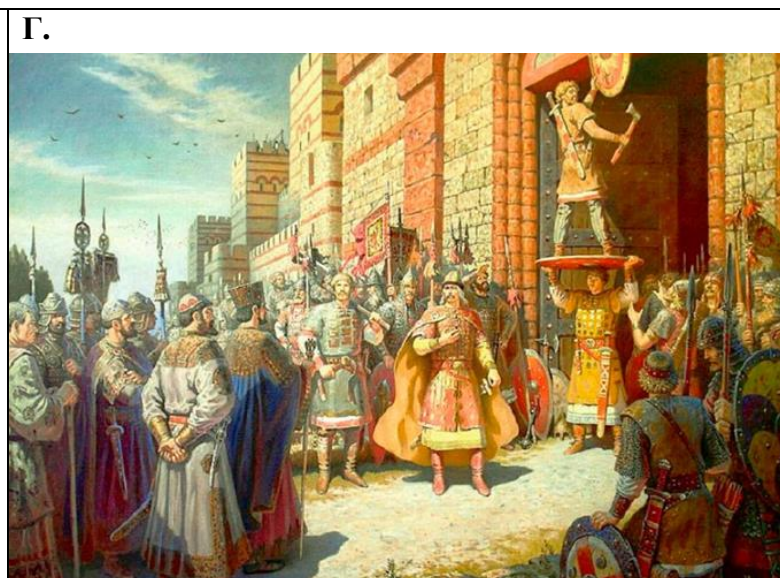

## ЗАДАНИЕ 7

Объедините изображения в три пары в соответствии с общим для них событием и историческим лицом. Укажите эти группы в виде ряда букв в таблице. Впишите в таблицу событие и историческое лицо, а также дату события. Соотнесите эти группы с отрывками из документа и сочинений историка. Ответы также занесите в таблицу.

Баллов за задание – 18.







1. «Творчество ... (имя автора) не может быть целиком объяснено особенностями средневековой русской живописи. Как и всякое гениальное мастерство, оно перерастает границы своего времени. Подобно «Божественной комедии» Данте, лучшее из произведений ... (имя автора) – знаменитая ... (название произведения) – сочетает в себе особенности средневекового символизма с высоким гуманизмом и простой человеческой правдой».

Д.С. Лихачев

2. «И повелел ... (он) своим воинам сделать колёса и поставить на колёса корабли. И когда подул попутный ветер, подняли они в поле паруса и пошли к городу. Греки же, увидев это, испугались и сказали... «Не губи города, дадим тебе дань, какую захочешь». И приказал ... (он) дать дани на 2000 кораблей: по 12 гривен на человека, а было в каждом корабле по 40 мужей. И согласились на это греки, и стали греки просить мира, чтобы не воевал Греческой земли».

Из летописи

3. «Главной целью его походов были не столько открытия, сколько коммерческий проект – завоевание торговых путей, приносящих большую прибыль. Опасных препятствий на этом пути было немало, среди которых главным было противодействие арабских государств, давно и прочно обосновавшихся в торговле с Востоком. Не только целеустремлённость, но и жестокость позволила ему преодолеть все препятствия. Причём жестокость не только по отношению к арабам, но и к своим соотечественникам...»

Из сочинения историка

**Ответы**

Группы изображений (ряд букв)	Номер отрывка	Историческое лицо и событие	Дата события