

- 3) Великий голод.
- 4) Создание полков «Иноземного строя».
- 5) Ликвидация Приказа тайных дел.
- 6) Строительство Смоленской крепостной стены.

2.3. Кто из перечисленных личностей входил в состав Избранной рады?

- 1) Малюта Скуратов
- 2) Борис Годунов
- 3) Андрей Курбский
- 4) Никон
- 5) Алексей Адашев
- 6) Макарий

3. [9 баллов]

Какая из перечисленных исторических личностей является лишней? Свой ответ поясните.

3.1. Сартак, Миндовг, Ольгерд, Тройнат, Гедимин.

3.2. Емельян Пугачев, Степан Разин, Хлопко Косолап, Иван Хованский, Иван Болотников.

3.3. Федор Мстиславский, Иван Воротынский, Михаил Скопин-Шуйский, Федор Шереметев, Иван Романов.

4. [5 баллов]

Расположите придворные чины, согласно «Табели о рангах» Петра I, от наименьшего к наибольшему.

- 1) обер-егермейстер
- 2) тафельдекер
- 3) обер-маршал
- 4) камер-юнкер
- 5) титульный камергер
- 6) обер-шталмейстер

5. [12 баллов]

Перед Вам события и даты одного из периодов истории России.

События (хронологическая последовательность нарушена):

1. Тверское восстание

Не забудьте перенести Ваши ответы в бланк ответов

2. Поход Тохтамыша на Москву
3. Сражение у Шишевского леса
4. Поход Едигея на Москву
5. Неврюева рать
6. Сражение под Алексином
7. Куремсина рать
8. Переяславский съезд
9. Дюденева рать
10. Бортеневская битва

Даты: 1252 г., 1253-1258 гг., 1293 г., 22 декабря 1317 г., 1327 г., 1365 г., 1374 г., 23-26 августа 1382 г., 1408 г., 29-31 июля 1472 г.

5.1. Напишите название этого исторического периода.

5.2. Соотнесите события и даты.

6. [14 баллов]

Определите пропущенные в тексте названия, слова, имена, даты, обозначенный порядковыми номерами.

6.1. Используя свои знания по истории, заполните пропуски в тексте. Недостающие даты, имена, термины занесите в таблицу под соответствующими номерами.

Литовское государство, возникшее в первой половине (1) _____, сумело дать отпор немецким крестоносцам, пытавшимся захватить литовские территории (как они это сделали в начале XIII в. с землями Восточной Прибалтики, населенными предками (2) _____ и латышей). К началу XIV в. в состав Литовского государства вошли Полоцкая и Пинская земли. Особенно Литва усилилась в правление (3) _____, сына Гедимина. При нем к Литве были присоединены Волынская, (4) _____ и Переяславская земли, большая часть Черниговской, часть Смоленской. В начале XV в. (5) _____ присоединил (6) _____. Великое княжество Литовское, таким образом, включило в себя значительную часть Руси – все ее южные и западные земли, кроме (7) _____ (отошедшей к Польше).

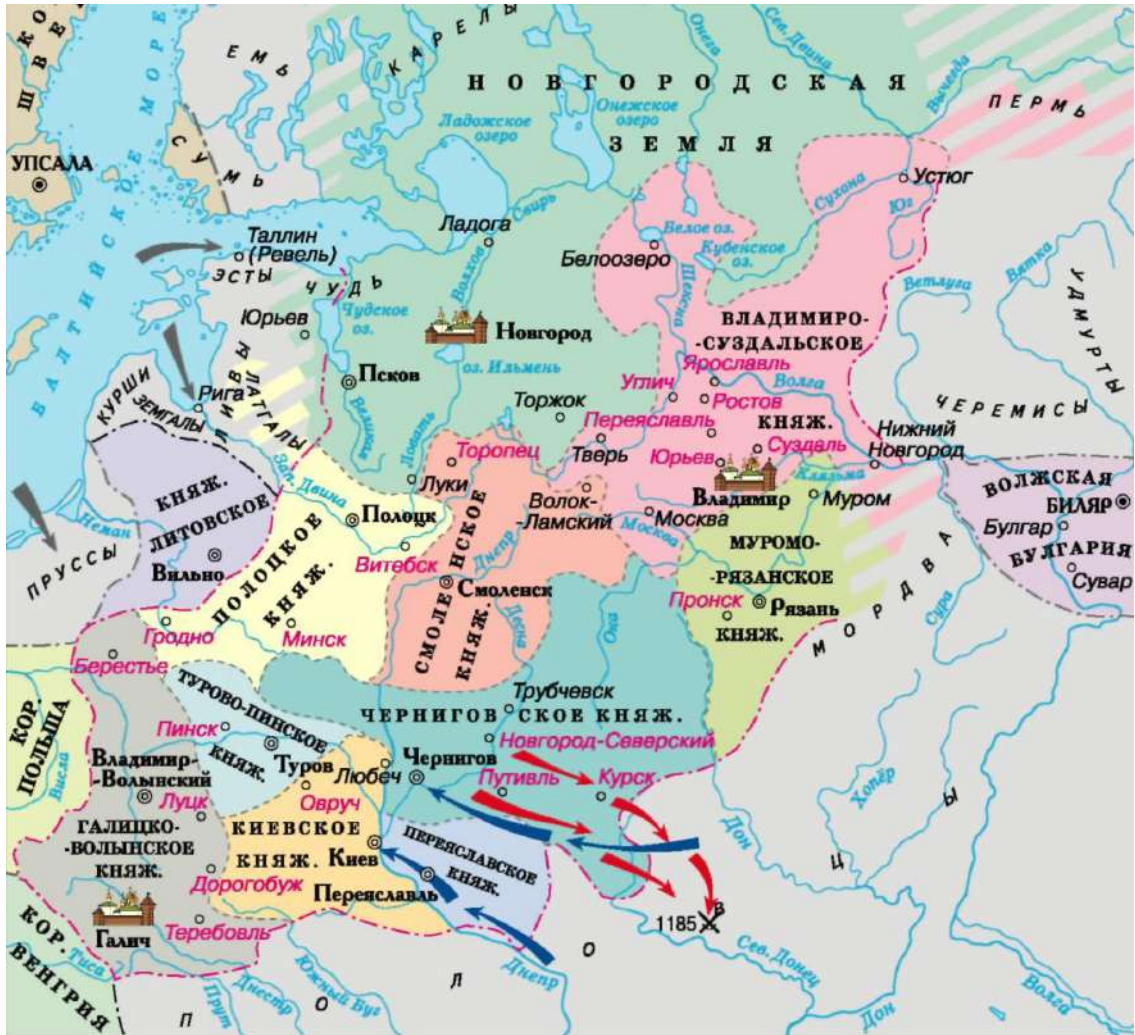
Литовская государственность строилась по русскому образцу. Языком делопроизводства был древнерусский, среди литовской знати распространялась (8) _____ вера. Полному «обрусению» Великого княжества Литовского помешала (9) _____ уния, заключенному между Литвой и (10) _____.

Не забудьте перенести Ваши ответы в бланк ответов

6.2. Каких наследных правителей Великого княжества Литовского, кроме тех, о ком говорится в тексте, Вы можете назвать? Запишите имена 4 великих князей.

7. [15 баллов]

7.1. Рассмотрите карту и выберите верные утверждения



- 1) На карте представлены племена, относящиеся к тунгусо-маньчжурским этносам.
- 2) На карте обозначено государство, в котором ислам был принят в качестве государственной религией в 922 г.
- 3) На карте отображены события, в результате которых русские земли попали в вассальную зависимость на несколько столетий.
- 4) На карте обозначен город, в котором было поднято восстание против Щелкана (Чолхана).
- 5) На карте отображены события, описанные в одном из известнейших древнерусских литературных памятников.

Не забудьте перенести Ваши ответы в бланк ответов

7.2. Рассмотрите карту выше и установите, верны ли приведенные суждения

1



События, изображенные на картине, относятся к карте.

2




Данный памятник архитектуры построен в годы правления князя, чьи походы указаны на карте.

3



На карте обозначено озеро, где произошли события, изображенные на иллюстрации.

4



На карте представлена государство, где правила эта историческая личность.

Не забудьте перенести Ваши ответы в бланк ответов

5



На карте представлен город, главенство в котором занимал орган управления, представленный на иллюстрации.

6



На карте обозначен город, герб которого представлен на иллюстрации.

7



На карте обозначен город, в котором находится данный памятник архитектуры.

Не забудьте перенести Ваши ответы в бланк ответов

7.3. Какие из событий на ниже предложенных изображениях относятся к тем же векам (двум), что и события на карте (задание 7.1.)?

1



2



3



4



5



6



Не забудьте перенести Ваши ответы в бланк ответов

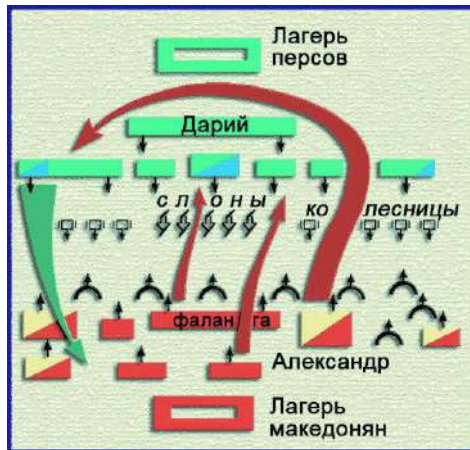
7



8



9



10



8. [12 баллов]

Прочитайте фрагмент исторического источника и выполните задания.

«Понеже по воле всемогущего Бога и по общему желанию российского народа Мы... императорский всероссийский престол восприняли и, следуя Божественному закону, правительство свое таким образом вести намерена и желаю, дабы оное вначале к прославлению Божеского имени и к благополучию всего нашего государства и всех верных наших подданных служить могло. Того ради чрез сие накрепчайше обещаемся... по приятии короны российской, в супружество во всю мою жизнь не вступать и наследника ни при себе, ни по себе никого не определять... А буде чего по сему обещанию не исполню и не додержу, то лишена буду короны российской».

8.1. Как называется этот документ? В каком году он был издан?

8.2. Как звали автора этих строк?

8.3. Какой орган власти выступил в качестве инициатора принятия этого документа?

8.4. С какой целью был создан этот документ?

8.5. В результате чего этот документ утратил свое значение?

Не забудьте перенести Ваши ответы в бланк ответов

9. [4 балла]

Рассмотрите постеры художественных фильмов. Выберите те, сюжет которых относится к периоду Великой Отечественной войны.

1



2



3



4



Не забудьте перенести Ваши ответы в бланк ответов

5



6



7



8



9



10



Не забудьте перенести Ваши ответы в бланк ответов

10. [11 баллов]

Перед Вами известные личности в истории Амурской области.

10.1. Расположите их последовательно в порядке периода, в котором они жили.

10.2. Назовите их род деятельности.

10.3. Найдите личность, которая является лишней в ряду, свой ответ обоснуйте.

1



Николай Николаевич Муравьев-Амурский

2



Иван Михайлович Гамов

3



Анатолий Пантелеевич Деревянко

4



Ерофей Павлович Хабаров

Не забудьте перенести Ваши ответы в бланк ответов