

Всероссийская олимпиада школьников по истории
Муниципальный этап
8-й класс

Время выполнения работы – до 90 минут (максимум 90 баллов).

ЗАДАНИЕ 1

Ответьте на вопросы, выбрав **один** правильный ответ из предложенных вариантов. Запишите ответы в таблицу.

Всего баллов за задание – 10.

1. Какая из перечисленных битв произошла в XVI веке?
 - А. При Молодях.
 - Б. Бортеневская.
 - В. Куликовская.
 - Г. На реке Пьяне

2. «Сказал ... (он) матери своей и боярам своим: «Не люблю мне сидеть в Киеве, хочу жить в Переяславце на Дунае, ибо там середина земли моей, туда стекаются все блага: из Греческой земли – золото, паволоки, вина, различные плоды, из Чехии и из Венгрии – серебро и кони, из Руси же – меха и воск, мёд и рабы». О каком князе идёт речь в летописи?
 - А. Рюрик.
 - Б. Олег.
 - В. Игорь.
 - Г. Святослав.

3. Какое научно-техническое изобретение было сделано к концу XIV века?
 - А. Динамит.
 - Б. Револьвер.
 - В. Наручные часы.
 - Г. Очки.

4. При обороне Москвы в 1382 г. впервые на Руси были применены «тюфяки». Что называли этим словом?
 - А. Баллисты.
 - Б. Артиллерийские орудия.
 - В. «Греческий огонь».
 - Г. Реактивные снаряды.

5. Перечисленные исторические деятели были современниками за исключением одного? Кого именно?
 - А. Иван III.
 - Б. Леонардо да Винчи.
 - В. Ричард Львиное Сердце.
 - Г. Николай Коперник.

Ответы

1	2	3	4	5

ЗАДАНИЕ 2

Установите правильное соответствие. Запишите ответы в таблицу. Обратите внимание на то, что в правом столбце есть лишний элемент.

Всего баллов за задание – 8.

I. Соотнесите имена московских князей и царей с их историческими прозвищами

1. Иван Данилович	А. Кроткий
2. Дмитрий Юрьевич	Б. Шемяка
3. Михаил Фёдорович	В. Блаженный
4. Фёдор Иванович	Г. Косой
	Д. Калита

II. Соотнесите историческую личность Средних веков и факты её биографии.

1. Доминик де Гусман	А. Венецианский купец, он странствовал почти 25 лет, а вернувшись на родину, написал книгу о жизни и обычаях народов Азии
2. Марко Поло	Б. Друг и последователь великого Петрарки, написал книгу «Декамерон», состоящую из ста новелл
3. Джованни Бокаччо	В. Сын испанского дворянина, фанатичный католик, основал монашеский орден, члены которого составляли большинство судей и служителей инквизиции
4. Симон де Монфор	Г. Этого герцога называли «последним рыцарем», «бургундским львом»; храбрый, прямой и безжалостный к врагам, он 12 лет воевал с королём, но потерпел поражение
	Д. Граф, в гражданской войне возглавил войско противников короля, впервые в истории страны и Западной Европы созвал собрание феодалов, рыцарства и городов – парламент

Ответы

	1	2	3	4
I				
II				

ЗАДАНИЕ 3

Всего баллов за задание – 14.

I. Расположите в хронологической последовательности перечисленные события, начиная с самого раннего. Ответ запишите в отведённую таблицу в виде ряда цифр (7 баллов).

1. Правление Октавиана Августа.
2. Разгром печенегов князем Ярославом.
3. Реформы императора Юстиниана.
4. Договор князя Игоря с Византией.
5. Захват Константинополя турками-османами.

II. Расположите в хронологической последовательности возведение русских православных храмов (7 баллов).

1. Золотые ворота во Владимире.
2. Покровский собор в Москве (Василия Блаженного).

3. Храм Покрова Пресвятой Богородицы в Филях.
4. Собор Святой Софии в Новгороде.
5. Храм Фёдора Стратилата на Ручью в Новгороде.

Ответы

I					
II					

ЗАДАНИЕ 4

Согласны ли Вы со следующими утверждениями? Запишите «да» или «нет» в таблицу.

Всего за задание – до 8 баллов.

1. Соловецкий монастырь был основан Аверкием Ивановичем Палицыным.
2. Город Сольвычегодск назван так по основному промыслу его жителей.
3. Архангельский гостиный двор был самым большим в Российском государстве XVII в.
4. Двинские владения Новгорода захвачены московскими войсками в правление Василия Тёмного.
5. Основной группой крестьянства Подвинья и Поонежья к середине XVI века стало черносошное.
6. Крепость Орлец в среднем течении Северной Двины была основана в XIV веке.
7. Архитектурный стиль «строгановское барокко» возникает в XV веке.
8. Первым русским заполярным городом стал Пустозерск.

Ответы

1	2	3	4	5	6	7	8

ЗАДАНИЕ 5

Задание состоит из двух частей. **Всего за задание – 20 баллов.**

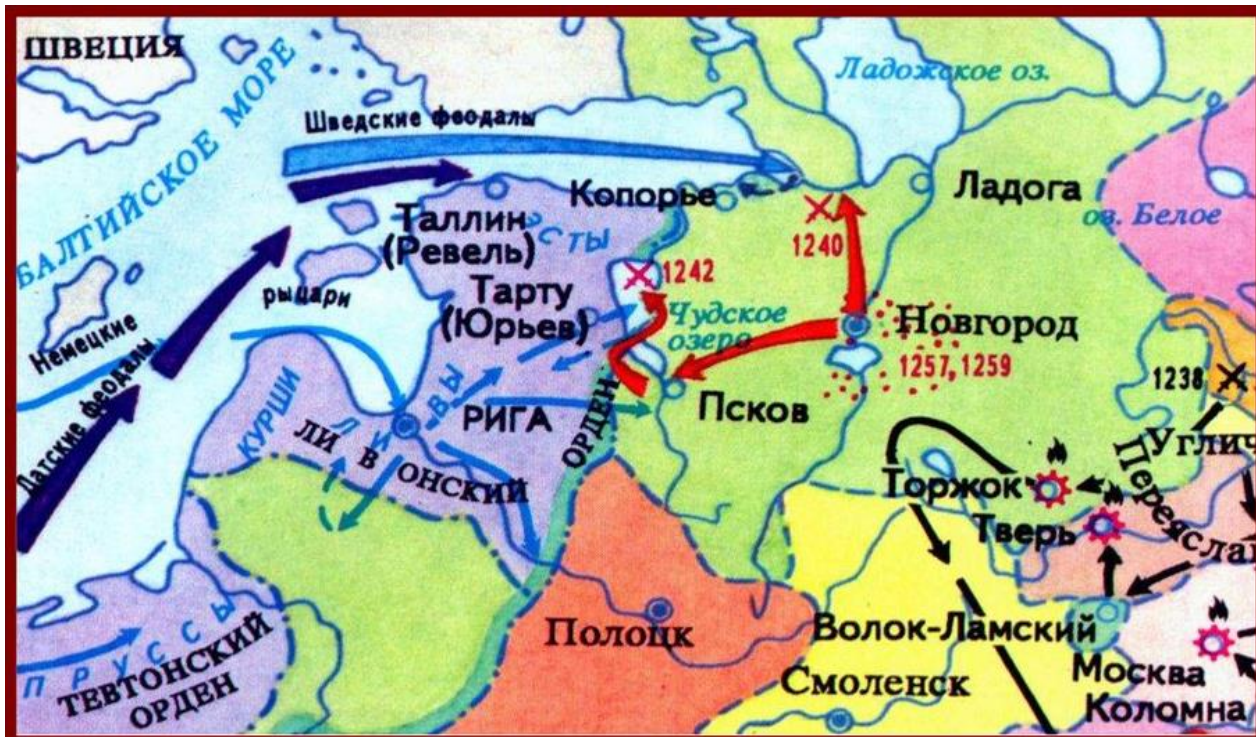
I. Внимательно рассмотрите карту. Используя карту и свои знания по истории, восстановите текст, заполнив пропуски необходимыми датами, именами и терминами (см. указания в скобках). Ответы запишите в отведённых под текстом строках.

Восточноевропейские земли давно привлекали немецких феодалов своими богатствами и выгодным географическим положением. Орудием их проникновения на восток стали духовно-рыцарские ордена. Орден меченосцев был создан в ___1___ году. Тевтонский орден был основан в конце XII века в ___2___ (страна на Ближнем Востоке), но затем перенёс свою деятельность в Европу. Их «натиск на Восток» встретил сопротивление прибалтийских племён ___3___ и ___4___ (названия племён), которых в этой борьбе поддержали крупные северо-западные русские города Новгород и ___5___. Однако их действия не были согласованными, а силы рыцарей умножились с объединением в ___6___ году Ордена меченосцев и Тевтонского ордена в ___7___ (название) орден.

Ослаблением Руси после нашествия в конце 1230-х гг. ___8___ (название агрессоров) хотели воспользоваться шведы. Они преследовали цель отрезать Новгород от важнейшего торгового пути в Европу, идущего через Ладогу на ___9___ (название моря). Летом ___10___ года они высадились на берегах Невы. Навстречу шведским

войскам быстрым маршем выступил новгородский князь _____ 11 _____ (имя, отчество). Благодаря стремительному натиску ему удалось одержать победу, за которую он получил почётное прозвище _____ 12 _____.

В этом же году перешли в наступление и немецкие рыцари. Ими были взяты города _____ 13 _____ и _____ 14 _____. На помощь новгородцам пришли дружины владимирского князя _____ 15 _____ (имя, отчество), отца победителя шведов. Решающая битва произошла _____ 16 _____ (день, месяц, год) на льду _____ 17 _____ (название) озера. Русские войска вновь одержали победу, которая предохранила Русь от дальнейшей экспансии немецких феодалов.



Ответы:

- | | |
|----------|-----------|
| 1) _____ | 10) _____ |
| 2) _____ | 11) _____ |
| 3) _____ | 12) _____ |
| 4) _____ | 13) _____ |
| 5) _____ | 14) _____ |
| 6) _____ | 15) _____ |
| 7) _____ | 16) _____ |
| 8) _____ | 17) _____ |
| 9) _____ | |

II. Какую политику проводил новгородский князь, описанный в тексте, в отношении завоевателей, движение которых отмечено стрелками в юго-восточной части карты? Приведите не менее двух положений, объясняющих эту политику.

ЗАДАНИЕ 6

Запишите термины, значения которых раскрыто ниже.

Всего баллов за задание – 12.

1. Древний каменный век, его первый период.

Ответ: _____

2. Крупное предприятие с ручным трудом, разделённым по специальностям.

Ответ: _____

3. Придворный чин-должность на Руси в XIII–XVII веках, прислуживал за столом, сопровождал князя (царя) в поездках, выполнял военные, посольские поручения.

Ответ: _____

4. Рыночная площадь древнегреческого города, центр общественной, экономической, политической жизни.

Ответ: _____

5. Портретная живопись, использовавшая в написании портретов приёмы иконописи.

Ответ: _____


6. Туристический маршрут, проходящий по древним городам Северо-Восточной Руси, в которых сохранились уникальные памятники истории и культуры, а также центры народных ремёсел.

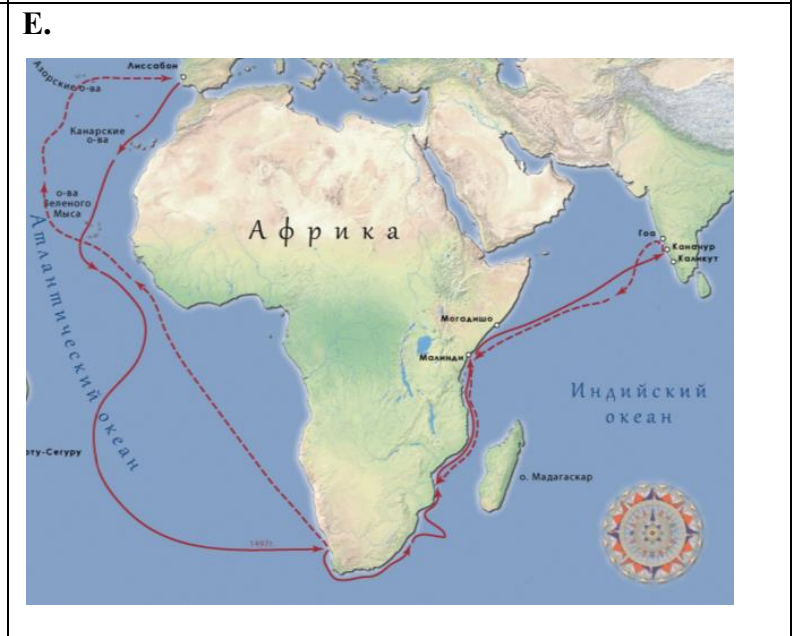
Ответ: _____

ЗАДАНИЕ 7

Объедините изображения в три пары в соответствии с общим для них событием и историческим лицом. Укажите эти группы в виде ряда букв в таблице. Впишите в таблицу событие и историческое лицо, а также дату события. Соотнесите эти группы с отрывками из документа и сочинений историка. Ответы также занесите в таблицу.

Баллов за задание – 18.





1. «Творчество ... (имя автора) не может быть целиком объяснено особенностями средневековой русской живописи. Как и всякое гениальное мастерство, оно перерастает границы своего времени. Подобно «Божественной комедии» Данте, лучшее из произведений ... (имя автора) – знаменитая ... (название произведения) – сочетает в себе особенности средневекового символизма с высоким гуманизмом и простой человеческой правдой».

Д.С. Лихачёв

2. «И повелел ... (он) своим воинам сделать колёса и поставить на колёса корабли. И когда подул попутный ветер, подняли они в поле паруса и пошли к городу. Греки же, увидев это, испугались и сказали... «Не губи города, дадим тебе дань, какую захочешь». И приказал ... (он) дать дани на 2000 кораблей: по 12 гривен на человека, а было в каждом корабле по 40 мужей. И согласились на это греки, и стали греки просить мира, чтобы не воевал Греческой земли».

Из летописи

3. «Главной целью его походов были не столько открытия, сколько коммерческий проект – завоевание торговых путей, приносивших большую прибыль. Опасных препятствий на этом пути было немало, среди которых главным было противодействие арабских государств, давно и прочно обосновавшихся в торговле с Востоком. Не только целеустремлённость, но и жестокость позволила ему преодолеть все препятствия. Причём жестокость не только по отношению к арабам, но и к своим соотечественникам...»

Из сочинения историка

Ответы

Группы изображений (ряд букв)	Номер отрывка	Историческое лицо и событие	Дата события