

ВСЕРОССИЙСКАЯ ОЛИМПИАДА ШКОЛЬНИКОВ ПО ОБЩЕСТВОЗНАНИЮ 2018–2019
уч. г. МУНИЦИПАЛЬНЫЙ ЭТАП. 8 КЛАСС.

Время на выполнение задания – 1 час 30 минут (90 минут)

Уважаемый участник!

При выполнении заданий Вам предстоит выполнить определённую работу, которую лучше организовать следующим образом:

– внимательно прочитайте задание;

– если Вы отвечаете на теоретический вопрос или решаете ситуационную задачу, обдумайте и сформулируйте конкретный ответ (ответ должен быть кратким, его содержание следует вписать в отведённое поле; записи ведите чётко и разборчиво);

За каждый правильный ответ Вы можете получить определённое членами жюри количество баллов, не выше указанной максимальной оценки. Сумма набранных баллов за все решённые вопросы – итог Вашей работы.

Максимальное количество баллов – 84. Задания считаются выполненными, если Вы вовремя сдали их членам жюри.

Желаем успеха!

Задание №1.

Выберите несколько верных ответов из предложенных. Ответы занесите в таблицу (4 балла).

1.1 Выберите из приведённого списка ситуации, регулируемые нормами административного права:

- а.** находясь в состоянии алкогольного опьянения, молодой человек избил случайного прохожего;
- б.** нотариус заверил завещание пожилого человека;
- в.** молодой человек вырезал инициалы любимой девушки на скамейке в парке;
- г.** старшеклассник включил в своей квартире громкую музыку после полуночи;
- д.** молодая мать купила в магазине некачественную детскую коляску;
- е.** студент проехал в автобусе, не оплатив проезд.

1.2 Для индустриального общества характерны следующие признаки:

- а.** господство общины;
- б.** активно развивающиеся информационные технологии;
- в.** преобладание промышленности в экономике;
- г.** замедленный прогресс;
- д.** секуляризация сознания;
- е.** классовая структура общества.

1.3 Найдите в приведённом ниже списке проявления межличностного конфликта и выпишите цифры, под которыми они указаны:

- а.** борьба двух игроков соперничающих команд за мяч во время футбольного матча;
- б.** ссора матери и дочери из-за выбранной дочерью одежды для прогулки;
- в.** несогласие работника с новой принятой на предприятии системой оплаты труда;
- г.** спор в транспорте из-за того, кто должен занять освободившееся сиденье;
- д.** дискуссия во время научной конференции;
- е.** ссора двух подруг во время подготовки выступления на общешкольном празднике.

1.4 К социальным группам, выделяемым по поселенческому (территориальному) признаку, относятся:

- а.** сибиряки;
- б.** манси;
- в.** москвичи;
- г.** парижане;
- д.** ненцы;
- е.** алеуты.

Ответ:

1.1	1.2	1.3	1.4

1 балл за полностью верный ответ. 0,5 балла за ответ с одной ошибкой (не указан один из верных ответов или наряду с указанными всеми верными ответами приводится один неверный). Максимум за задание – 4 балла.

Задание №2

«Да» или «нет»? Если вы согласны с утверждением, напишите «Да», если не согласны – «Нет». Внесите свои ответы в таблицу (12 баллов).

- 2.1. Образование во многом обеспечивает конкурентоспособность страны на международной арене.
- 2.2. В условиях мирового хозяйства нет необходимости развивать все отрасли экономики внутри страны.
- 2.3. Конфликт несёт в себе не только разрушительное, но и конструктивное начало.
- 2.4. Потребителем не может выступать юридическое лицо.
- 2.5. Любая форма отклоняющегося поведения делинквентна.
- 2.6. Государство через Центральный банк следит за рыночным равновесием на валютном рынке.

Ответ:

2.1	2.2	2.3	2.4	2.5	2.6

По 2 балла за каждый верный ответ. Максимум за задание 12 баллов.

Задание №3

Что объединяет приведённые ниже понятия? Дайте максимально точный ответ. Ответы запишите на бланке работы (4 балла).

- 2.1. Княжество, герцогство, королевство, султанат.

Ответ: _____

- 2.2. Трудовая деятельность, мышление, язык, психика, наследственность и отбор.

Ответ: _____

По 2 балла за каждый верный ответ. Максимум за задание 4 балла.

Задание №4.

Решите логическую задачу (8 баллов).

В тренажёрном зале занимаются четыре спортсмена: баскетболист, волейболист, футболист и хоккеист. Их фамилии: Бицепсов, Жимов, Прессов и Трицепсов. О них известно, что: 1) Жимов и футболист вместе ездят по выходным на рыбалку. 2) Сын Бицепсова любит играть в стритбол с отцом и с баскетболистом. 3) Волейболист учился с Бицепсовым и Жимовым в одной школе. 4) У хоккеиста нет детей. 5) Баскетболист дружит с Жимовым с самого детства, а с Трицепсовым познакомился совсем недавно.

- 1) *Определите, какую фамилию носит каждый спортсмен.*

- 2) *Приведите свои рассуждения (пример начала ваших рассуждений: «Жимов не футболист – следует из пункта 1»).*

- 3) *Укажите метод рассуждения, который позволяет прийти к решению задачи.*

Названа верно одна фамилия или все фамилии названы неверно – 0 баллов за всю задачу.

Названы верно 2 фамилии – 1 балл.

Названы верно 4 фамилии – 4 балла.

3 балла за полное (в котором содержатся все положения) рассуждение. 1 балл, если содержатся не все или ошибочные положения. Порядок, в котором приведены рассуждения, не оценивается.

1 балл за указание метода рассуждения. Максимум за задание – 8 баллов.

Задание №5

В стране Z. провели соцопрос совершеннолетних граждан на тему: «Наиболее эффективные способы решения проблемы дефицита государственного бюджета». Результаты опроса представлены в таблице. (3 балла)

Варианты ответов	Кол-во опрошенных (в %)
Сокращение расходов на содержание государственного аппарата	29
Внешние государственные займы	6
Внутренние государственные займы	5
Увеличение расходов на обороноспособность государства	18
Понижение налогов с населения	42

Проанализируйте данные таблицы. Сделайте не менее трех выводов.

Ответ:

За каждый правильный вывод 1 балл. Максимум 3 балла.

Задание №6

Заполните таблицу (10 баллов):

Основные сферы экономики

Производство	Распределение	Обмен	Потребление

1. Приобретение туристической путевки.
2. Выпечка пирогов на заказ.
3. Поездка на такси.
4. Составление бюджета государства.
5. Оплата учебы в колледже.
6. Пошив рюкзаков.
7. Полтора часовое посещение бассейна.
8. Приобретение абонемента в филармонию.
9. Расчет остатка стипендии на неделю.
10. Посещение зоопарка.

По 1 баллу за каждое верное соответствие. Максимально – 10 баллов.

Задание №7

Вставьте в приведенный ниже текст по смыслу пропущенные слова из списка понятий. Вы можете изменять их по падежам соответственно контексту. Обратите внимание, что некоторые понятия не нужно использовать (10 баллов).

Гринпис – _____ (А) экологическая организация, основная цель которой – добиться решения _____ (Б) экологических проблем, в том числе путем привлечения к ним внимания общественности и

_____ (В). Сегодня Гринпис работает более чем в 40 странах, в том числе и в России. Основной принцип – отказ от _____ (Г) промышленными компаниями, банками, государственными структурами и политическими партиями – гарантирует _____ (Д) действий организации. Важнейшими задачами Гринпис считает изменение отношения людей к _____ (Е), воздействие на _____ (Ж) и потому уделяет большое внимание работе со средствами _____ (З) информации. _____ (И) характер организации позволяет Гринпис воздействовать на производителей и продавцов и требовать от них соблюдения экологических _____ (К) и стандартов по всему миру.

Пропущенные элементы:

- | | | | |
|--------------------|-------------------|-------------------|------------------|
| 1) государственный | 6) гуманный | 11) независимость | 16) локальный |
| 2) идея | 7) финансирование | 12) человек | 17) общественное |
| 3) власть | 8) одобрение | 13) природа | мнение |
| 4) гуманитарный | 9) успешность | 14) общественный | 18) глобальный |
| 5) международный | 10) норма | 15) культура | 19) творчество |
| | | | 20) массовый |

Ответ:

А	Б	В	Г	Д	Е	Ж	З	И	К

По 1 баллу за каждое верное соответствие. Максимально – 10 баллов.

Задание №8

Решите задачу (10 баллов).

Бабушка подарила своему внуку на день рождения семейную реликвию: бронзовую статуэтку, которую в свою очередь получила от своего деда. Через какое-то время она стала свидетелем того, как внук колет статуэткой орехи. На просьбу бабушки быть осторожнее с ценной вещью, с которой связаны многие воспоминания, внук ответил: «Да что ей сделается?! Я ей и гвозди забиваю вместо молотка!» Возмущенная бабушка потребовала вернуть статуэтку обратно. Внук же, обидевшись, заявил, что для нее старый кусок бронзы дороже, чем родной внук, и что дареное назад не отдадут. Если же бабушка будет настаивать, он вообще выбросит статуэтку. В отчаянии бабушка обратилась за советом к знакомому юристу, чтобы узнать, можно ли отменить дарение.

Что юрист может посоветовать бабушке? Имеет ли она право требовать возвращения ей подаренной вещи?

Ответ:

Критерии оценивания: 3 балла за краткий ответ, до 7 баллов за обоснование. Максимальная оценка – 10 баллов.

Задание № 9

Составьте таблицу, используя все расположенные ниже компоненты (13 баллов).

- 1) Озаглавьте таблицу и её колонки.
- 2) Впишите порядковые номера компонентов таблицы в соответствии с изображениями в ячейки. (первый ряд – фотография, второй ряд – плакат, третий ряд – текстовые фрагменты)

1



2



3

«Это процесс передачи опыта. Этот опыт включает в себя прежде всего знания об окружающей действительности, которые постоянно совершенствуются, способы применения этих знаний в практической деятельности человека. Ведь общество познает мир для того, чтобы совершенствовать практическую деятельность, а вместе с тем и совершенствовать окружающую нас действительность. Для постоянного развития, для постоянного познания мира общество вооружает подрастающее поколение и способами добывания новых знаний, т. е. способами познания мира».


4

«Социально-экономическая его функция заключается в воздействии субъектов на объекты и элементы природной среды с целью их преобразования в предметы удовлетворения потребностей членов общества, то есть в материальные блага и услуги.»

5




6



7



8



9

«Свобода от физической и моральной необходимости, от реальных житейских нужд выделяет ее из «обыденной» жизни, как бы изолирует ее в некий условный, относительно самостоятельный микромир. В этом микромире своя направленность, свои интересы, не совпадающие с интересами и нуждами «обыденной» жизни.»

Ответ:

Название таблицы: _____			
Название колонок	_____	_____	_____
№ иллюстрации			
№ плаката			
№ текстовых фрагментов			

Критерии оценки: Каждый элемент ответа оценивается в 1 балл. Максимальное количество баллов – 13 баллов.

Задание № 10

Решите кроссворд (10 баллов).


По горизонтали:

- 1) необходимые условия для функционирования чего-либо
- 3) лица, не достигшие дееспособного возраста
- 7) обладатель уравновешенного, подвижного типа нервной системы
- 10) научное учреждение, где хранят и изучают артефакты

По вертикали:

- 2) положительная или отрицательная значимость объектов окружающего мира для человека, социальной группы, общества в целом
- 4) сотрудничество нескольких индивидов (групп) ради решения общей задачи
- 5) познание в форме ощущений, восприятий и представлений
- 6) приписывание магических свойств предметам и поклонение им
- 8) деятельное сочувствие чьим-то действиям и мнениям
- 9) признание или подтверждение законности государственной власти на основе традиции, харизмы, выборов, референдумов и т.д.

Ответ:



Критерии оценки:

За каждое правильно угаданное слово – 1 балл. Максимальная оценка – 10 баллов.