

9 класс
(2 ч. 00 мин.)

I тур

Задание 1. Выберите все правильные ответы и запишите их в таблицу.

1. Сущность эсхатологических мифов состоит в описании:

- а) Путешествия героя
- б) Появления первых людей из земли и воды
- в) Грядущей гибели космоса
- г) Борьбы богов или героев с демоническими силами
- д) Выделения суши из первичного океана

2. Общая черта пророков, лидеров, героев, демагогов – это:

- а) Мудрость;
- б) Дальnozоркость;
- в) Правдивость;
- г) Харизма;
- д) Конформизм.

3. Действие отличается от поведения тем, что оно:

- а) Более длительное;
- б) Имеет мотивационное значение;
- в) Имеет характер самоцели;
- г) Импульсивно;
- д) Проявляется в социальных движениях.

4. Какая из характеристик противоречит понятию «конкурентный рынок»?

- а) Большое число продавцов
- б) Относительно легкое вхождение производителей на данный рынок
- в) Наличие двух покупателей, предъявляющих спрос на все товары
- г) Отдельные рыночные агенты не могут оказывать влияние на уровень цены
- д) Большое число покупателей

5. Из приведенного перечня экономических организаций выберите пример международного картеля:

- а) РАО ЕЭС;
- б) «Газпром»;
- в) МВФ;
- г) ОПЕК;
- д) «Дженерал Моторс».

6. Философское учение, отождествляющее Бога и мир, – это:

- а) деизм
- б) трансцендентализм
- в) номинализм
- г) пантеизм
- д) гностицизм

7. Какая из следующих кривых никогда не принимает U-образной формы?

- а) средних переменных издержек;
- б) средних валовых издержек;
- в) предельных издержек;
- г) средних постоянных издержек.

8. Какое из этих понятий относится к политическому режиму, поддерживаемому или контролируемому военными?

- а) Султанизм
- б) Чучхе
- в) Хунта
- г) Арианство
- д) Демокрадура

9. Правоспособность и дееспособность одновременно возникает у:

- а) юридических лиц;
- б) физических лиц;
- в) тех и других;
- г) правоспособность и дееспособность не могут возникать одновременно.

10. Философское учение о ценностях – это:

- а) Онтология,
- б) Гносеология,
- в) Аксиология,
- г) Феноменология,
- д) Антропология.

1	2	3	4	5	6	7	8	9	10

Задание 2. Определите, верны ли суждения. Ответы занесите в таблицу.


- 1) Преступление – это виновно совершенное общественно опасное деяние, запрещенное уголовным кодексом под угрозой порицания.
- 2) В (расширенной) «пирамиде потребностей» А. Маслоу высшее место занимают престижные потребности.

- 3) Ребенок сначала осваивает индивидуальное и игровое, а затем – коллективное.
- 4) Отсутствие свободы прессы, по мнению Ф. Рузвельта, с неизбежностью приводит к нивелированию остальных демократических свобод.
- 5) Экономическая прибыль равна бухгалтерской прибыли, если неявные издержки равны нулю.
- 6) В аграрном обществе наиболее ярко проявляется экономическая функция семьи.
- 7) В правовом государстве верховное положение занимает исполнительная власть, ибо именно она проводит в жизнь политические решения.

1	2	3	4	5	6	7

Задание 3. Выполните задания


3.1. Сопоставьте изображение с подходящей техникой изобразительного искусства. Результаты занесите в таблицу.

1.		<p>А. Барельеф</p>
----	---	------------------------



2.

Б. Икона



3.

В. Горельеф



4.

Г. Фреска

5.		Д. Витраж
----	---	-----------

А	Б	В	Г	Д

3.2. Дайте следующим определение следующим техникам:

Барельеф _____

Горельеф _____

Задание 4. Продолжите, завершите определение или вставьте в него пропущенное слово или словосочетание

1. Совокупность философских, общетеоретических и метатеоретических оснований науки называется _____.
2. Течение в философии, в котором любое знание считается относительным и условным, в силу чего объективная истина недостижима, именуется _____.

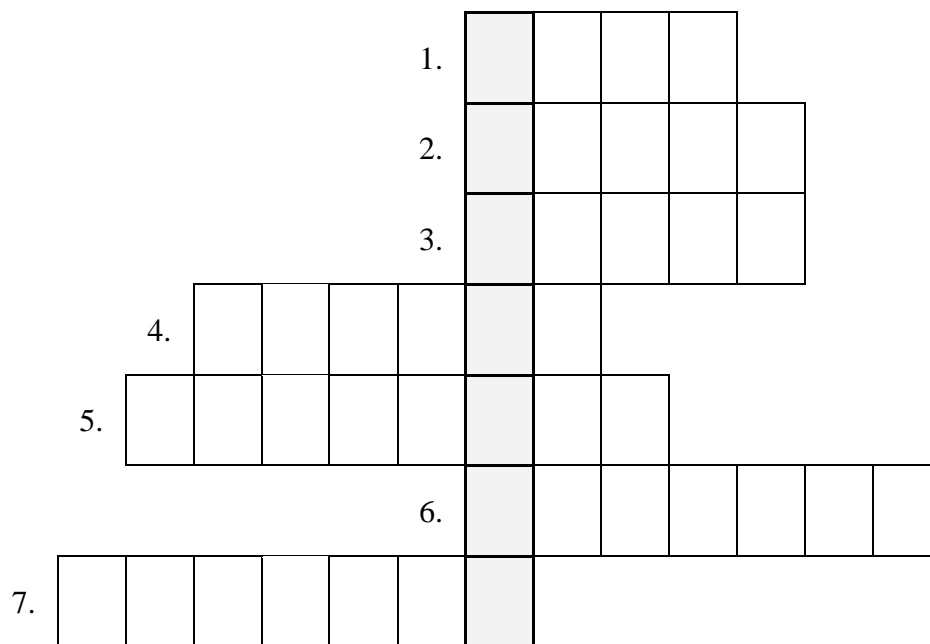
3. Основным проявлением политического плюрализма в демократическом обществе, в рамках которого власть формируется и отправляется свободно выражающим себя большинством, является _____.
4. Исторически изменяющаяся система воззрения, признающая ценность человека как личности, его право на свободу, счастье, развитие и проявление своих способностей, считающая благо человека критерием оценки социальных институтов, а принципы равенства, справедливости, человечности – желаемой нормой отношений между людьми, – это _____.
5. _____ – это взаимосвязь различных социальных общностей, социальных групп, слоев и институтов, складывающихся на основе относительно устойчивых социальных отношений.
6. Система идей и взглядов той или иной социальной группы, политической партии или общественно-политического движения называется _____.

Задание 5. Решите экономическую задачу.

Доход семьи составляет 100 000 рублей в месяц. В прошлом месяце семья потратила на приобретение продовольственных товаров 40 000 рублей, на одежду – 30 000 рублей. На предметы домашнего обихода – 5000 рублей, на кино, театр, кафе – 5000 рублей, на оплату проезда в городском транспорте – 3000 рублей, оплата телефона и жилья составила 2000 рублей.

5.1. Рассчитайте структуру потребления этой семьи (продовольственные, непродовольственные товары, услуги) и представьте результаты расчетов в виде круговой диаграммы

5.2. Через какое время семья сможет поехать отдыхать, если стоимость путевки на семью составляет 60000 руб. (при условии постоянных цен и доходов)?



Задание 8. Определите, верны ли суждения. Ответы занесите в таблицу.

- 1) Социальное есть результат совместной деятельности различных индивидов, проявляющийся в их статусах и ролях.
- 2) Этнос – историческая общность людей, складывающаяся в процессе формирования общности их территории, экономических связей, литературного языка, этнических особенностей культуры и характера.
- 3) «Рационализация ролей» имеет место, когда человек бессознательно ищет негативные стороны желаемой, но недостижимой роли с целью собственного успокоения.
- 4) Согласно А. Тойнби, на стадии роста цивилизаций особенно приметен и конструктивен механизм Вызова-и-ответа.
- 5) В модели стратификации У. Уорнера нижний средний слой – это так называемые «белые воротнички».
- 6) В социальную структуру современного российского общества не входит класс «аутсайдеров».
- 7) Одной из характерных черт социального движения является его недолговечность.

8) В теории аномии Р. Мертон ритуализм – это тип девиантного поведения, заключающийся в отрицании и социальных целей, и способов их достижения.

1	2	3	4	5	6	7	8

Задание 9. Установите соответствие между именами философов и их главными трактатами. Ответы запишите в таблицу.

- | | |
|---------------------------------------|-----------------|
| 1. «Рассуждения о методе» | а) Г.В. Лейбниц |
| 2. «Монадология» | б) Ф. Бэкон |
| 3.«О достоинстве и приумножении наук» | в) Д. Юм |
| 4.«Трактат о человеческой природе» | г) Р. Декарт |

Ответ:

1	2	3	4

МАКСИМАЛЬНОЕ КОЛИЧЕСТВО БАЛЛОВ ЗА ЧАСТЬ I – 70.

II тур

Напишите эссе на одну из тем. Жюри при проверке будет руководствоваться следующими критериями:

Критерии:

1. Обоснованность выбора темы.
2. Раскрытие понимания того, о чем говорит автор высказывания, в чем состоит его позиция.
3. Представление собственной точки зрения при раскрытии темы.
4. Определение задач, поставленных перед работой.
5. Внутреннее смысловое единство, согласованность ключевых тезисов и утверждений, непротиворечивость личностных суждений.
6. Раскрытие проблемы на теоретическом уровне (опора на научные теории, владение понятиями курса).
7. Аргументация собственной точки зрения с опорой на факты общественной жизни и личный социальный опыт.
8. Соответствие между высказываемыми теоретическими положениями и приводимым фактическим материалом.
9. Четкость выводов, их соответствие поставленным автором перед собой задачам.
10. Оригинальность решения проблемы, аргументации.

Темы эссе

1. «Я знаю только одного тирана, и это тихий голос совести» (М. Ганди).
2. «Мы богаче наших внуков на тысячи ещё не изобретенных вещей» (Л. Кумор).
3. «Объявить себя гением легче всего по радио» (Дон-Аминадо).
4. «Человек – это знание, которое познает самое себя» (Е. Евтушенко).
5. «Менее всего экономика может создать нового человека. Экономика относится к средствам, а не к целям жизни» (Н. Бердяев).
6. «Мораль без политики бесполезна, политика без морали бесславна» (А. Сумароков).
7. «Я не могу сохранить верность флагу, если не знаю, в чьих он руках» (П. Устинов).

**МАКСИМАЛЬНОЕ КОЛИЧЕСТВО БАЛЛОВ ЗА ЧАСТЬ II – 30.
ВСЕГО ЗА ДВЕ ЧАСТИ – 100.**