

Центр олимпиад Санкт-Петербурга
Всероссийская олимпиада школьников по обществознанию
Районный этап. 2021/2022 уч. год
Бланк заданий – 8 класс
Максимальное время выполнения работы – 60 минут.
Максимальное количество первичных баллов за работу – 53.
Ответы вносятся на лист ответов.
Желаем Вам удачи!

Задание 1. «Да» или «нет»?

Если вы согласны с утверждением, напишите «да», если не согласны – «нет». Внесите свои ответы в таблицу. *Максимальный балл за задание – 5.*

1 балл за каждый правильный ответ

1. Законодательная власть в РФ осуществляется Федеральным Собранием
2. Свобода человека подразумевает ответственность за свой выбор
3. Правильная последовательность ступеней общего образования такова: дошкольное образование, начальное общее образование, основное общее образование, среднее общее образование.
4. Ценность самого лучшего из невыбранных вариантов называют альтернативной стоимостью.
5. Экономисты выделяют три основных типа экономических систем: традиционную, рыночную и авторитарную.

Задание 2. Задания на ряды. Максимальный балл за задание – 3.

2.1. Предложите минимальное по объему обобщающее юридическое понятие, вбирающее в себя все нижеперечисленные.

1 балл за правильный ответ

Прокуратура, полиция, Федеральная служба безопасности, таможенные органы, суд.

2.2. Что является лишним в ряду? Поясните свой ответ.

1 балл за правильный ответ, 1 балл за верное пояснение; максимальный балл – 2.

Православие, ислам, иудаизм, буддизм

Задание 3. Решите задачи. Максимальный балл за задание – 19.

3.1. Юридическая задача «Вопрос гражданства». Максимальный балл – 5.

Гражданин РФ Иван Сидоров был осужден за совершение государственной измены. Одним из наказаний, назначенных судом, было лишение его гражданства РФ. Кроме того, суд указал, что после отбытия наказания в РФ он подлежит выдаче в Республику Беларусь, где его собирается привлечь к уголовной ответственности за совершение преступления.

Прав ли суд? Ответ обоснуйте. Какой орган государственной власти в РФ занимается решением вопросов гражданства РФ?

3.2. Экономическая задача «Рациональное поведение». Максимальный балл – 4.

Мама дает Свете на завтрак 65 рублей и разрешает ей распорядиться этими деньгами по своему усмотрению. Света выбирает – покупать ли ей завтрак в школе или носить еду с собой. Помогите Свете сделать рациональный выбор.

Если Света будет покупать в школу еду, то это в среднем будет стоить 55 рублей. Если Света будет утром готовить еду сама, то это будет стоить в среднем 40 рублей. Однако, процесс приготовления еды занимает у Светы много времени и она не будет успевать на льготные дистанционные занятия по английскому языку (в 7.30 утра они стоят 200 рублей, а днем уже 250 рублей).

Как и насколько Свете выгоднее организовать свое питание (при прочих равных условиях)?

Подтвердите свои выводы расчетами и комментариями (без расчетов вывод не засчитывается).

Какие еще аргументы, кроме цены завтрака, стоит учитывать, осуществляя данный выбор (приведите два аргумента).

3.3. Логические задачи. Максимальный балл за задание – 10.

3.3.1. Задача на силлогизм. Максимальный балл – 1.

Общее условие: Из утверждений составьте силлогизм. В лист ответов впишите посылки и вывод.

Утверждения:

- А) Дэн попал в плен.
- Б) Все пленники очень тоскуют по Родине.
- В) Дэн очень тоскует по Родине.

3.3.2. Задача на «не». Максимальный балл – 1.

Капитан отрицает отсутствие неприрученных снарков на необитаемом острове. Есть ли дикие снарки на острове, по мнению капитана?

3.3.3. Основная задача. Максимальный балл – 8.

**1 балл за правильный ответ по каждой из старушек (всего 5 баллов),
3 балла за объяснение к решению.**

В небольшом английском городке Сильверстоун живут пять старушек: мисс Баттон, миссис Култхард, мисс Норрис, миссис Стюарт и мисс Хэмилтон.

Однажды они отправились на курорт. Для экономии четыре из них сняли два двухместных номера: один с видом на море, второй – с видом на сад. Самая состоятельная пожилая леди выбрала одноместный номер люкс с видом на море. Известно, что мисс Хэмилтон не живет ни с миссис Стюарт, ни с миссис Култхард. Миссис Стюарт живет в двухместном номере с видом на море. Из комнаты, где живет миссис Култхард открывается чудесный вид на сад. Мисс Баттон согласна жить только с миссис Стюарт или мисс Хэмилтон.

Выясните, кто с кем живет.

Заполните таблицу в листе ответов и объясните своё решение.

Задание 4. Задание по тексту. Максимальный балл – 9.

1 балл за каждый правильный ответ.

Ниже дан текст, в котором пропущены понятия, а также список терминов. Пропуски в тексте зашифрованы буквами. Вставьте верные понятия вместо пропусков и заполните таблицу, указав в таблице ответа верное соответствие букв (пропуски в тексте) и цифр (термины в списке). Все термины даны в именительном падеже единственном числе, но могут изменяться, количество терминов больше необходимого

Государственная власть — один из видов власти в _____ (А), отличающийся тем, что в качестве _____ (Б) власти выступает государство в лице государственных органов, учреждений и государственных должностных лиц, а в качестве _____ (В) власти — население страны: граждане в _____ (Г), или подданные в _____ (Д). Это свойство государства определяется как публичность (от лат. publicus — общественный), т. е. _____ (Е), в отличие от личных, частных отношений власти, возникающих в отдельных группах. Государственная власть — это стержень политической власти.

Существуют различные _____ (Ж) организации государственной власти в обществе. При их классификации принято выделять: формы правления и формы государственно-территориального устройства. _____ (З) — способ организации государственной власти на территории страны, система взаимоотношений центральных органов государственной власти и органов, осуществляющих управление отдельными административно-территориальными единицами. _____ (И) — способ организации государства, включающий порядок образования государственных органов и характер взаимоотношений между ними. Принято выделять две основные формы правления: монархию и республику.

1. Форма правления	7. Государственно-территориальное устройство	13. Форма
2. Способ управления	8. Федерация	14. Всеобщность
3. Объект	9. Республика	
4. Государство	10. Форма правления	
5. Общество	11. Монархия	
6. Субъект	12. Методы	

Задание 5. Максимальный балл – 2.

1 балл за определение слова; 1 балл за обоснование.

Ниже приведены высказывания известных писателей и мыслителей прошлого, касающиеся одного и того же понятия (в тексте оно обозначено как (...)); возможны вариации изменяемых частей данного слова).





Что это за понятие? Высказывание какого из указанных мыслителей вам кажется наиболее важным и интересным? Обоснуйте свой ответ (2-3 предложения).

- Нужно любить то, что делаешь, и тогда (...) — даже самый грубый — возвышается до творчества. (М. Горький)
- (...) не есть добродетель, но неизбежное условие добродетельной жизни. (Л. Н. Толстой)
- Лишь (...) -ом и борьбой достигается самобытность и чувство собственного достоинства. (Ф.М. Достоевский)
- Слава — в руках (...) -а. (Леонардо да Винчи)

Задание 6. Задание с иллюстрациями. Максимальный балл – 10.

1 балл за каждый верный ответ

Внимательно рассмотрите изображения. Они связаны с различными видами рынков. Установите соответствие между изображением и видом рынка, к которой оно относится. Впишите ответы в таблицу в листе ответов.

1. 	2. 
3.  ОБЪЯВЛЕНИЯ О ПРОДАЖЕ КИРПИЧНЫХ ЗАВОДОВ	4. 

5.



6.



7.



8.



9.

ХитёрБобёр.ru

КОНСУЛЬТАЦИЯ ЮРИСТА

- Что это такое
- Где получить бесплатно
- Как выбрать юриста

НЕ ЗНАЕТЕ ГДЕ ПОЛУЧИТЬ КОНСУЛЬТАЦИЮ ХОРОШЕГО ЮРИСТА?
ПОШАГОВАЯ ИНСТРУКЦИЯ ДЛЯ НОВИЧКОВ ЗДЕСЬ!

10.



Виды рынка:

1. Рынок средств производства
2. Рынок технологий
3. Рынок труда
4. Рынок ценных бумаг
5. Рынок земли
6. Рынок недвижимости
7. Валютный рынок
8. Рынок информации
9. Потребительский рынок
10. Рынок произведений искусства

Задание 7. Работа с социологическими данными. Максимальный балл – 5.
Проанализируйте представленные данные и выполните предложенные задания.

Опрос ВЦИОМ 11 января 2019 года
«Новогодние каникулы-2019: подводим итоги»
 (Источник: <https://wciom.ru/index.php?id=236&uid=9507>)





7.1. Проанализируйте данные, отражающие представления об идеальном зимнем отдыхе, полученные в 2018 и 2019 годах. Как можно объяснить соотношение этих данных? Приведите не менее двух корректных объяснений. Максимальный балл – 2.

1 балл за каждое верно указанное объяснение.

7.2. Какие данные о результатах опроса ВЦИОМ свидетельствуют о том, что новогодние праздники обеспечивают сохранение давних традиций? Максимальный балл – 1.

7.3 Почему, согласно исследованиям, проведенным ВЦИОМ, участники опроса чаще получали в подарок на новый год конфеты, спиртные напитки и деликатесы, чем парфюмерию, косметику, бижутерию или сувениры? Приведите не менее двух корректных обоснований своего ответа. Максимальный балл – 2.

1 балл за каждое корректно приведенное обоснование.

Внимательно проверьте свою работу!

После выполнения заданий сдайте лист ответов организаторам олимпиады.

Лист заданий Вы можете забрать с собой.