

ВСЕРОССИЙСКАЯ ОЛИМПИАДА ШКОЛЬНИКОВ
ПО ОБЩЕСТВОЗНАНИЮ 2022–2023 уч. г.
МУНИЦИПАЛЬНЫЙ ЭТАП
8 КЛАСС

Время на выполнение работы – 120 минут.

Ответы необходимо указывать **НА БЛАНКАХ**

1. Определите истинность или ложность суждения.

- 1.1. Неравенство – постоянный, непреходящий фактор исторического развития.
- 1.2. К формам правления относят монархию и демократию.
- 1.3. Понятия девиантного и делинквентного поведения синонимичны.
- 1.4. Способность к созданию символов относят к общим чертам человека и животного.
- 1.5. Социальные нормы тесно связаны с социальными ролями.
- 1.6. Наиболее ранняя по происхождению теория возникновения государства – договорная теория.
- 1.7. Промышленная революция раньше других началась в Российской империи в первой половине XVIII века.
- 1.8. День Конституции РФ традиционно отмечается 22 августа.
- 1.9. Конформность относят к социально порицаемым качествам личности.
- 1.10. Для Античности характерно представление о природе как об объекте интенсивной преобразовательной деятельности.


2. Определите лишнее понятие в ряду. Обоснуйте свой выбор.

- 2.1. Экономика, биология, история, филология, политология.

- 2.2. Мелкосерийное производство, демократическая республика как наиболее распространенная форма правления, господство религиозных ценностей, развитость сектора сферы услуг.
- 2.3. НДФЛ, акциз, таможенная пошлина, НДС.
- 2.4. Профессиональные круги, армия, СМИ, семья, компания друзей-студентов.
- 2.5. Украина, Швеция, Япония, Италия, США.

3. Правовая задача.

Решите кроссворд.



По горизонтали.

1. Виновное совершенное общественно опасное деяние, запрещенное Уголовным кодексом под угрозой наказания.
4. Платить установленные налоги является <....> каждого гражданина.

5. Категория права и этики; считается, что закон должен быть основан на ней.
8. Мера воздействия, применяемая к правонарушителю и влекущая для него неблагоприятные последствия.
10. Орган государственной власти, осуществляющий правосудие.

По вертикали.

2. Особая организация политической власти, распространяющейся на всю территорию и население страны, имеющая специальный аппарат для управления и принуждения.
 3. Способность иметь гражданские права и нести обязанности.
 6. Наука, изучающая свойства государства и права.
 7. Основной закон нашей страны.
 9. Государственный орган, в задачи которого входит охрана общественного порядка.

4. Ознакомьтесь с материалами и выполните задание.

ЗДОРОВЫЙ ОБРАЗ ЖИЗНИ: МОНИТОРИНГ

Занимаетесь ли Вы физкультурой, спортом или нет?

(закрытый вопрос, один ответ, % от всех опрошенных, вариант «Затрудняюсь ответить» не представлен)



Инфографика, ВЦИОМ, 2018 г.

4.1. Как, в целом, изменилось отношение к спорту за десятилетие? С какими изменениями в общественном сознании это связано?

4.2. В предложенном случае представлены данные социологического опроса. Какие еще методы социологических исследований вы можете назвать? Назовите не менее двух методов.

4.3. По какому критерию произошли наибольшие изменения среди опрошенных? Что это характеризует?

5. Экономическая задача.

Владелец фирмы при составлении ежегодного отчета пропустил часть записей об издержках ведения производства. Известно, что расходы на зарплату

рабочих составляют 45 тыс. рублей, расходы на покупку сырья – 60 тыс. рублей, транспортные расходы – 20 тыс. рублей. Известно, что постоянные расходы производства составляют 150 тыс. рублей.

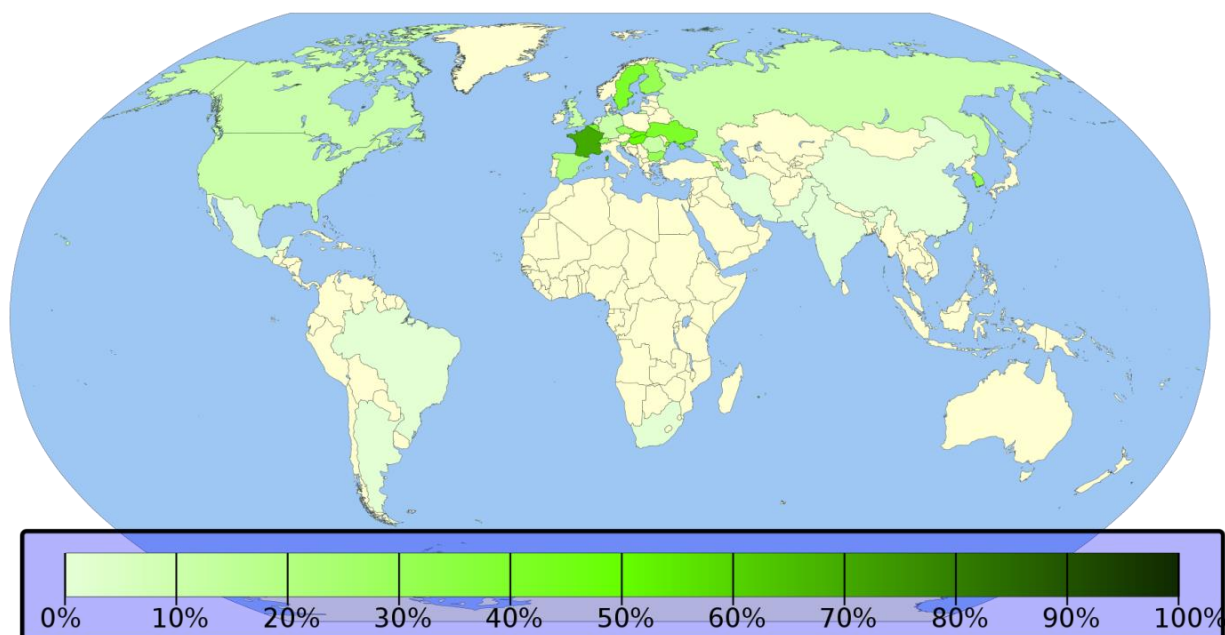
Дайте определение понятию переменных издержек. Найдите значение общих и переменных затрат для данного производства.

6. Дайте ответ на вопросы.

Ученые предположили, что если звёзды на ночном небе в некоторых областях кажутся более яркими и кучными, в то время как в других областях есть «пустые» пятна, то это имеет определенное физическое обоснование. Также необходимо отметить, что часто ученые прибегают к созданию ложных кластеров, что помогает им обосновывать ложные гипотезы посредством концентрации данных.

Как вы думаете, в чем ошибка данного предположения? Является ли оно научно обоснованным?

7. Рассмотрите карту. На ней разными оттенками зелёного выделены страны, в которых есть особая отрасль промышленности. Назовите эту отрасль. Назовите международную организацию, регулирующую эту отрасль. Назовите как минимум одно преимущество и как минимум один недостаток этой отрасли.



8. Прочтите отрывок из научного исследования по политологии. В отрывке пропущено одно обществоведческое понятие.

Политологи и историки определяют понятие «...» по-разному. Большинство считает, что <...> предполагают насильственную смену власти, участие масс и преобразование институтов. Другие говорят о том, что <...> случаются относительно внезапно, а третьи — что они носят насильственный характер. Некоторые настаивают на том, что <...> — это проявление классовой борьбы бедных против богатых или простонародья против людей привилегированных. Однако на самом деле все это просто разные формы одного и того же.




Назовите пропущенное понятие. Назовите как минимум два негативных последствия данного явления и приведите примеры по каждому из них. Назовите понятие, противоположное пропущенному.

9. Определите понятия по контексту. Под каждой цифрой зашифровано одно понятие. Всего в задании – три понятия к определению.

1.	Иные меняют [...] на почести. Ахьфонс Карр
----	--

	Объективно [...] есть мнение других о нашем достоинстве, а субъективно — наш страх перед этим мнением. Артур Шопенгауэр
	[...] — это награда, присуждаемая за добродетель... Аристотель
2.	[...] как суть жизни – это смертельная болезнь, потому что неограниченный рост её не подходит ограниченному миру. Эрнст Ф. Шумахер
	Вся [...] – это наука о том, как люди принимают решения. Джеймс Дьюзенберри
	Я всегда утверждал, что законы [...] – это законы жизни. Филип Уикстид
3.	[...] есть реальная власть делать определённые вещи. Поэтому требование [...] – это требование власти. Джон Дьюи
	[...] расковывает безудержную волю к равенству и таит в себе семя самоотрицания и самоистребления. Николай Бердяев
	Только тот исполняет свою волю, кто не нуждается для этого в чужих руках: отсюда следует, что первое из всех благ не власть, а [...]. Жан Жак Руссо

10. Рассмотрите изображения, связанные с различными религиями.

		
А	Б	В



Г



Д

10.1. Укажите, с какой религией связано каждое из изображений.

Изображение	Религия
А	
Б	
В	
Г	
Д	

10.2. Ниже представлено распределение указанных Вами в задании 10.1. религий по нескольким принципам. Укажите принципы представленного распределения.

Принцип группировки	Буквы изображений, относящихся к этим религиям
	Б, В, Д
	А, Г

	Б, Г, Д