

ВСЕРОССИЙСКАЯ ОЛИМПИАДА ШКОЛЬНИКОВ ПО  
ОБЩЕСТВОЗНАНИЮ  
2023–2024 уч. г.  
МУНИЦИПАЛЬНЫЙ ЭТАП  
7–8 классы

I. ОСНОВНОЙ ТУР МУНИЦИПАЛЬНОГО ЭТАПА  
7–8 классы

**1. «Да» или «нет»? Если вы согласны с тем, что данное утверждение верно, напишите «да», если считаете, что утверждение ошибочно, напишите «нет». Внесите свои ответы в таблицу.**

1. Общеизвестные принципы международного права это основополагающие императивные нормы международного права, отклонение от которых допустимо отдельными государствами.

2. Потребности - это выражение нужды, недостатка в чем-либо необходимом для поддержания жизнедеятельности и развития личности и общества в целом.

3. В индустриальном обществе на первый план выдвигается активная, творческая личность, научные знания приобретают высокую значимость.

4. Противозаконное поведение запрещено законом и причиняет вред людям и всему обществу.

5. Кадровые партии отличает многочисленность и систематическая работа в парламенте.

6. Гражданские правоотношения возникают чаще всего на основе сделок.

7. Предписанный статус – это статус, полученный от рождения в силу не зависящих от его носителя факторов.

8. Всеобщая декларация прав человека была принята в 1948 году Советом безопасности ООН.

9. Согласно общему правилу уголовной ответственности подлежит лицо, достигшее 14-летнего возраста ко времени совершения преступления.

10. Муниципальные унитарные предприятия находятся в собственности у государства.

|     |     |     |     |     |     |     |     |     |      |
|-----|-----|-----|-----|-----|-----|-----|-----|-----|------|
| 1.1 | 1.2 | 1.3 | 1.4 | 1.5 | 1.6 | 1.7 | 1.8 | 1.9 | 1.10 |
|     |     |     |     |     |     |     |     |     |      |

**За каждый правильный ответ – 1 балл.**

**Максимальное количество баллов за задание – 10 баллов.**

**II. Закончите предложение, добавив необходимый обществоведческий термин:**

1. Совокупность духовных представлений, основанных на вере в сверхъестественные силы, а также соответствующее поведение называется...

2. Деятельность людей, направленная на сохранение и разумное использование природных ресурсов называется...

3. Денежные средства в их первородной форме, в виде бумажных денег и монет, денежных знаков это ...

4. Физическое либо юридическое лицо, вступившее в трудовые отношения с наемным работником это....

5. Потребность покупателя в данном товаре (услуге), выраженная в их покупательной способности называется ...

|     |     |     |     |     |
|-----|-----|-----|-----|-----|
| 2.1 | 2.2 | 2.3 | 2.4 | 2.5 |
|     |     |     |     |     |

**За каждый правильный ответ – 2 балла.**

**Максимальное количество баллов за задание – 10 баллов.**

**III. Установите соответствие между социальными ситуациями и социальными институтами, чья деятельность проявляется в данных ситуациях. К каждой позиции, данной в первом столбце, подберите соответствующую позицию из второго столбца.**

| <b>Социальная ситуация</b>   | <b>Социальный институт</b>  |
|--|---|
| <p>А) Ликвидация последствий стихийного бедствия сотрудниками МЧС.</p> <p>Б) Проведение общественной экспертизы законопроекта о пенсиях.</p> <p>В) Работа управляющего совета школы.</p> <p>Г) Предъявление обвинения опасному преступнику.</p> <p>Д) Публичные слушания в</p> | <p>1) деятельность государства</p> <p>2) деятельность гражданского общества</p> <p>3) совместная деятельность государства и гражданского общества</p> |

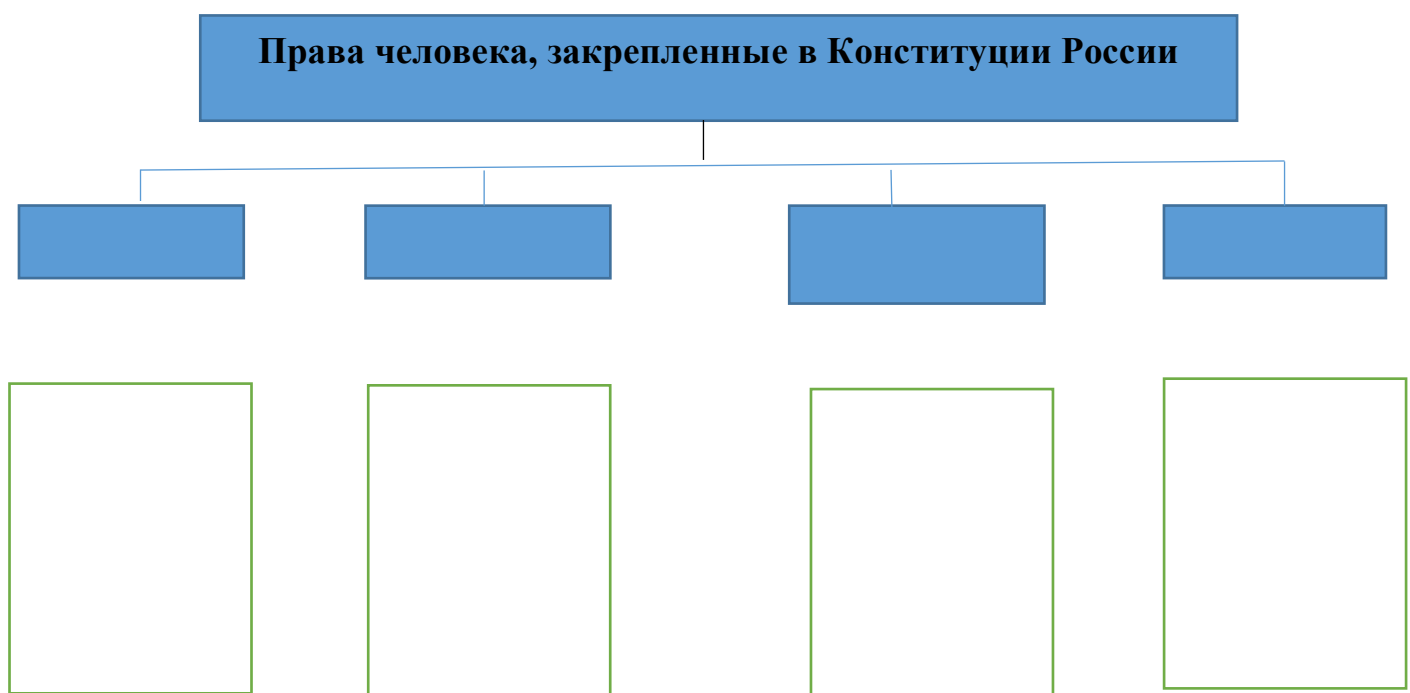
|   |  |
|---|--|
| мэрии по проекту перспективной застройки микрорайона. |  |
|---|--|

**Запишите в таблицу выбранные цифры:**

|   |   |   |   |   |
|---|---|---|---|---|
| А | Б | В | Г | Д |
|   |   |   |   |   |

**За каждый правильный ответ (установленное соответствие) – 1 балл. Максимальное количество баллов за задание – 5 баллов.**

**IV. Заполните схему «Права человека, закрепленные в Конституции Российской Федерации», указав виды прав. К каждому виду прав напишите не менее двух примеров из Основного закона.**



**За каждый правильно названный вид прав – 1 балл, за каждый правильно приведенный пример – 2 балла.**

**Максимальное количество баллов за задание – 20 баллов.**

## **V. Рассмотрите юридическую ситуацию и ответьте на вопросы:**

Согласно завещанию бабушки ее квартира перешла в собственность ее внука Алексея. В связи с отъездом, внук сдал квартиру в наём для временного проживания своему другу Антону. Спустя год Алексей вернулся и обменял эту квартиру на загородный дом.

Какие три сделки физических лиц вы можете назвать, познакомившись с описанной ситуацией? Как менялись права и обязанности Алексея после заключения каждой из сделок?

**За каждую правильно названную сделку - 1 балл, описание изменения прав и обязанностей после заключения каждой из сделок - 2 балла. Максимальное количество баллов за задание – 9 баллов.**

## **VI. Решите задачу по логике:**

У вас есть сосуд А объемом 9 литров, сосуд Б объемом 42 литра и сосуд В, вмещающий 6 литров.

Вам, используя предлагаемые сосуды, необходимо отмерить ровно 21 литр. Как вы поступите? Опишите процесс поиска правильного ответа подробно.

**За правильно описание ответа – 4 балла. Максимальное количество баллов за задание – 4 балла.**

**VII. Что объединяет понятия, образующие каждый из представленных рядов? Укажите правильный обществоведческий термин. Ответ запишите в таблицу.**

1. Определяет положение индивида в малой группе; получен от рождения в силу не зависящих от его носителя факторов; определяет положение человека в обществе; приобретен в обществе благодаря усилиям и заслугам.

2. Исходит от государства и является официальным выражением его воли; издается в конкретной форме; имеет общеобязательный характер; охраняется силой государства.

3. Регулирует отношения между людьми, создает правила поведения в обществе, основывается на принципах гуманизма, справедливости, носит ненасильственный характер и исключает прямое принуждение.

|   |   |   |
|---|---|---|
| 1 | 2 | 3 |
|   |   |   |

**За каждый правильный ответ 2 балла. Максимальное количество баллов за задание – 6 баллов.**

### **VIII. Решите правовую задачу:**

16-ти летний гражданин пришёл устраиваться на работу в автослесарную мастерскую. При этом он предоставил целый ряд необходимых документов: паспорт, приписное свидетельство воинского учета и заявление о приеме на работу. Однако хозяин отказался принимать его на работу, заявив, что без прохождения медицинского обследования и предоставления соответствующей справки не имеет права заключать с ним договор.

Прав ли хозяин автослесарной мастерской? Свой ответ обоснуйте, используя в качестве аргумента Трудовой кодекс Российской Федерации (указание статьи не обязательно).

**За правильный ответ (да/нет) – 2 балла, за верное обоснование – 6 баллов. Максимальное количество баллов за задание – 8 баллов.**

### **IX. Решите экономическую задачу:**

Максим хочет купить мебельный гарнитур. Он должен затратить на поиски дешевого и качественного варианта 7 рабочих дней, для чего намерен взять отпуск без сохранения заработка. Если он не сделает этого, то купит гарнитур на 20% дороже. В день Максим зарабатывает 1000 руб.

Какова должна быть цена гарнитура для того, чтобы Максиму было все равно – искать дешевый вариант или нет?

**За указание правильного ответа – 5 баллов, за ответ и описание решения задачи – 10 баллов.**

**Максимальное количество баллов за задание – 10 баллов.**

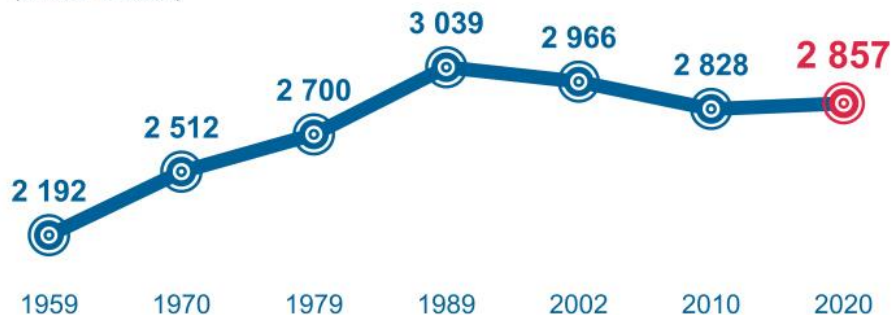
**X. Рассмотрите инфографику, опубликованную Красноярскстатом (Федеральной службой государственной статистики по Красноярскому краю), «Численность населения Красноярского края по результатам Всероссийской переписи населения 2020 г.» и ответьте на вопросы.**

# ЧИСЛЕННОСТЬ НАСЕЛЕНИЯ КРАСНОЯРСКОГО КРАЯ по итогам ВПН-2020



Численность населения  
по данным переписей

(тысяч человек)



Даты учёта численности населения

15 января 1959 г.  
15 января 1970 г.

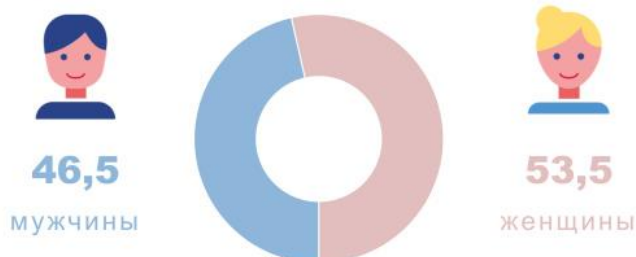
17 января 1979 г.  
12 января 1989 г.

9 октября 2002 г.  
14 октября 2010 г.

1 октября 2021 г.

## Соотношение мужчин и женщин

(процентов)



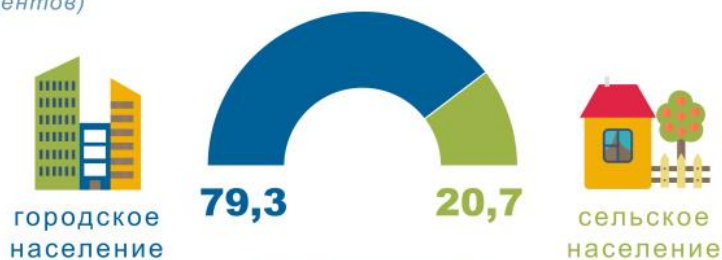
## Средний возраст мужчин и женщин

(лет)



## Соотношение городского и сельского населения

(процентов)



КРАСНОЯРСКСТАТ

**Вопросы:**

**1. Чем можно объяснить общий рост численности населения на протяжении 80-ти лет? Приведите минимум два объяснения.**

**2. Что могло стать причиной сокращения численности в отдельные годы в указанный период? Укажите минимум две причины.**

**3. Каким образом можно объяснить причины дисбаланса численности населения между городом и селом по итогам переписи в 2020 году? Приведите минимум два объяснения.**

**1. За каждое правильно приведенное объяснение – 3 балла.**

**2. За каждую правильно указанную причину – 3 балла.**

**3. За каждое правильно приведенное объяснение – 3 балла.**

**Максимальное количество баллов за задание – 18 баллов.**