

**ВСЕРОССИЙСКАЯ ОЛИМПИАДА ШКОЛЬНИКОВ**  
**ПО ОБЩЕСТВОЗНАНИЮ**  
**МУНИЦИПАЛЬНЫЙ ЭТАП**  
**2023-2024 УЧЕБНЫЙ ГОД**  
**7 КЛАСС**  
**ЗАДАНИЯ**  
Максимальный балл – 100

**1. [20 баллов]**

**Задания для выбора ответа («да» – если высказывание верно, «нет» – если высказывание неверно). Внесите свои ответы в таблицу**

- 1.1.** Относительная истина всегда субъективна.
- 1.2.** Истина — это знание, соответствующее объекту познания.
- 1.3.** Истинным является знание, не противоречащее мнению авторитетных учёных в данной научной сфере.
- 1.4.** Абсолютная истина — это полное, исчерпывающее знание о предмете.
- 1.5.** Критерием истинности знания является степень его поддержки общественным мнением.
- 1.6.** Четыре сферы общества составляют его структурную основу.
- 1.7.** Каждая сфера на определённых этапах исторического развития может занять главенствующее положение.
- 1.8.** В период коренных преобразований решающее влияние на жизнь общества оказывает духовная сфера.
- 1.9.** Во время затяжных войн или серьёзных природных катаклизмов связь между сферами может разорваться.
- 1.10.** Изменения, происходящие в одной сфере общества, могут оказать влияние на другие сферы.

***Не забудьте перенести Ваши ответы в бланк ответов***

**2. [11 баллов]**

**2.1. Установите соответствие между примерами и видами качеств человека: к каждой позиции, данной в первом столбце, подберите соответствующую позицию из второго столбца.**

**Запишите выбранные буквы под соответствующими цифрами, например: 1 – АБВ, 2 - ГД.**

ПРИМЕРЫ	ВИДЫ КАЧЕСТВ ЧЕЛОВЕКА
А) Андрей по типу темперамента является флегматиком Б) Анна не пользуется авторитетом в классе В) Олег — хвастливый и ленивый мальчик Г) Катя с детства отличается вспыльчивостью и нервозностью Д) Игорь отличается от своих одноклассников крепким здоровьем и атлетическим телосложением	1) биологические 2) социальные

**2.2. Установите соответствие между функциями семьи и их проявлениями: к каждой позиции, данной в первом столбце, подберите соответствующую позицию из второго столбца.**

**Запишите выбранные цифры под соответствующими буквами, например: 1-АБ, 2-В, 3-ГД.**

ПРОЯВЛЕНИЯ	ФУНКЦИИ СЕМЬИ
А) распределение семейных обязанностей Б) совместное проведение досуга В) планирование семейного бюджета Г) передача традиций и ценностей Д) снятие психологических нагрузок	1) хозяйственно-бытовая 2) рекреационная 3) воспитательная

*Не забудьте перенести Ваши ответы в бланк ответов*

**2.3. Установите соответствие между группами глобальных проблем современности и примерами их проявлений: к каждой позиции, данной в первом столбце, подберите соответствующую позицию из второго столбца. Запишите выбранные цифры под соответствующими буквами, например: 1-АБ, 2-В, 3-ГД.**

ПРИМЕРЫ ИХ ПРОЯВЛЕНИЙ	ГЛОБАЛЬНЫЕ ПРОБЛЕМЫ
А) низкий уровень развития медицины в ряде стран Азии Б) исчезновение традиционных культур и языков В) потеря традиционных семейных ценностей Г) отсталая структура хозяйства стран Африки Д) распространение вируса Эбола	1) духовная 2) социальная 3) экономическая

**2.4. Установите соответствие между основными видами познания и их чертами: к каждой позиции, данной в первом столбце, подберите соответствующую позицию из второго столбца. Запишите выбранные цифры под соответствующими буквами, например: 1-АБ, 2-В, 3-ГД.**

ЧЕРТЫ ПОЗНАНИЯ	ВИДЫ ПОЗНАНИЯ
А) неполная осознанность Б) основано на понятиях В) отражение внешних свойств предметов Г) установление сущности предметов и явлений Д) неожиданность проявления знания	1) чувственное 2) рациональное 3) интуиция

**3. [10 баллов]**

**3.1. Ниже приведён ряд названий социальных общностей. Все они, за исключением двух, относятся к понятию «этническая группа». Найдите два названия, «выпадающих» из общего ряда, и запишите цифры, под которыми они указаны:**

1) калмыки; 2) парижане; 3) немцы; 4) чувашаи; 5) буряты; 6) москвичи; 7) осетины.

*Не забудьте перенести Ваши ответы в бланк ответов*

**3.2. Ниже приведён ряд понятий. Все они, за исключением двух, характеризуют политическую сферу общества. Найдите два понятия, «выпадающих» из общего ряда, и запишите цифры, под которыми они указаны:**

1) выборы; 2) религия; 3) партия; 4) идеология; 5) парламентаризм; 6) семья.

**3.3. Ниже приведён ряд терминов. Все они, за исключением двух, обозначают виды искусства:**

1) живопись; 2) архитектура; 3) мораль; 4) графика; 5) наука; 6) цирк.

Найдите два термина, «выпадающих» из общего ряда, и запишите цифры, под которыми они указаны.

**3.4. Ниже приведён ряд понятий. Все они, за исключением двух, являются неформальными позитивными санкциями. Найдите два понятия, «выпадающих» из общего ряда, и запишите цифры, под которыми они указаны:**

1) награждение; 2) премирование; 3) похвала; 4) аплодисменты; 5) одобрение; 6) комплимент.

**3.5. Ниже приведён ряд слов. Все они, за исключением двух, обозначают правоохранительные органы. Найдите два слова, «выпадающих» из общего ряда, и запишите цифры, под которыми они указаны:**

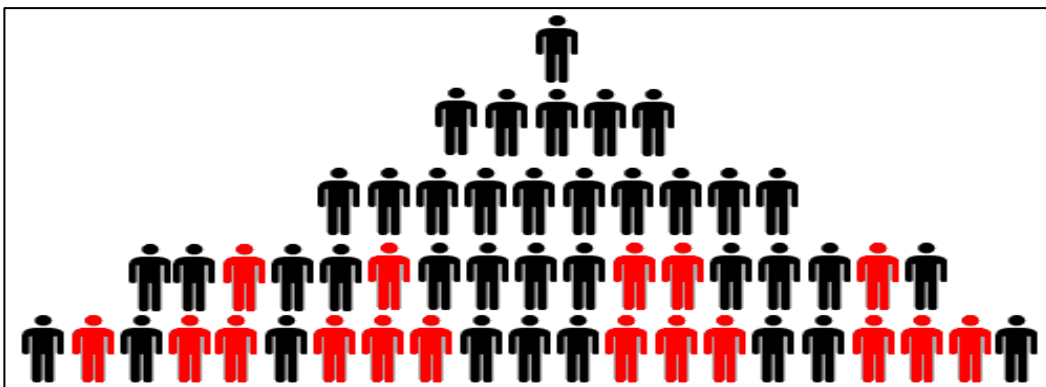
1) прокуратура; 2) полиция; 3) правительство; 4) местное самоуправление; 5) адвокатура; 6) нотариат.

#### **4. [4 балла]**

Рассмотрите представленные ниже изображения и запишите обобщающее, объединяющее для них понятие.



*Не забудьте перенести Ваши ответы в бланк ответов*



*Не забудьте перенести Ваши ответы в бланк ответов*

### 5. [7 баллов]

**Заполните пропуски в тексте. Запишите порядковые номера вставляемых понятий в таблицу. Каждое слово (словосочетание) может быть использовано только один раз. Обратите внимание: в списке терминов больше, чем пропусков в тексте**

«Развитие — это тип движения и изменения в природе и \_\_\_\_\_ (А), связанный с переходом от одного качества, состояния к другому, от старого к новому. \_\_\_\_\_ (Б) есть необратимое, направленное и закономерное изменение \_\_\_\_\_ (В) объектов, в результате чего возникает их новое качественное и (или) количественное состояние, основанное на возникновении, трансформации или исчезновении элементов и связей объектов. Можно сказать, что развитие — это изменение \_\_\_\_\_ (Г) и сознания, их \_\_\_\_\_ (Д) свойство, всеобщий принцип объяснения истории природы, общества и познания. Если необходимо подчеркнуть скорость и характер изменений, то говорят об \_\_\_\_\_ (Е) — относительно постепенных большей частью количественных изменениях, и \_\_\_\_\_ (Ж) — относительно быстрых в основном качественных и кардинальных изменениях.»

**Список терминов (без учета склонения в тексте):**

- 1) общество, 2) общественное мнение, 3) отношения между людьми,
- 4) эволюция, 5) развитие, 6) универсальное, 7) материя, 8) формальный,
- 9) материальные и идеальные, 10) стихийно, 11) революция, 12) государство,
- 13) создается государством.

### 6. [6 баллов]

**В стране Z крупные промышленные предприятия являются основой экономики. Какие иные признаки свидетельствуют о том, что страна Z развивается как индустриальное общество? Запишите цифры, под которыми они указаны (например, 123), обоснуйте свой ответ:**

1. классовая стратификация общества
2. высокий уровень социальной мобильности
3. общество стратифицировано по профессиональной принадлежности, уровню образования
4. преобладает сфера услуг
5. основным регулятором поведения людей в обществе являются нормы обычаев и религиозные нормы
6. происходит становление гражданского общества, оформляются основные права и свободы граждан

***Не забудьте перенести Ваши ответы в бланк ответов***

## **7. [12 баллов]**

### **Решите кроссворд**


#### **По горизонтали:**

1. Специфический способ регулирования общественной жизни с позиций гуманизма, добра и справедливости, цель которого – утверждать ценность личности, равенство людей в их стремлении к счастью и достойной жизни
3. Совокупность характерных особенностей и свойств, отличающих одного индивида от другого; своеобразие психики и личности индивида; неповторимость, уникальность духовных, физиологических и личностных качеств
6. Часть экономической науки, изучающая явления на уровне страны, исследующая общие закономерности и связи между экономическими явлениями, рассматривая экономику как единое целое
7. Признанная государством за гражданами и организациями способность иметь юридические права и обязанности.
9. Индивид, являющийся субъектом сознательной деятельности, обладающий совокупностью социально значимых черт, свойств и качеств, которые он реализует в общественной жизни.

#### **По вертикали:**

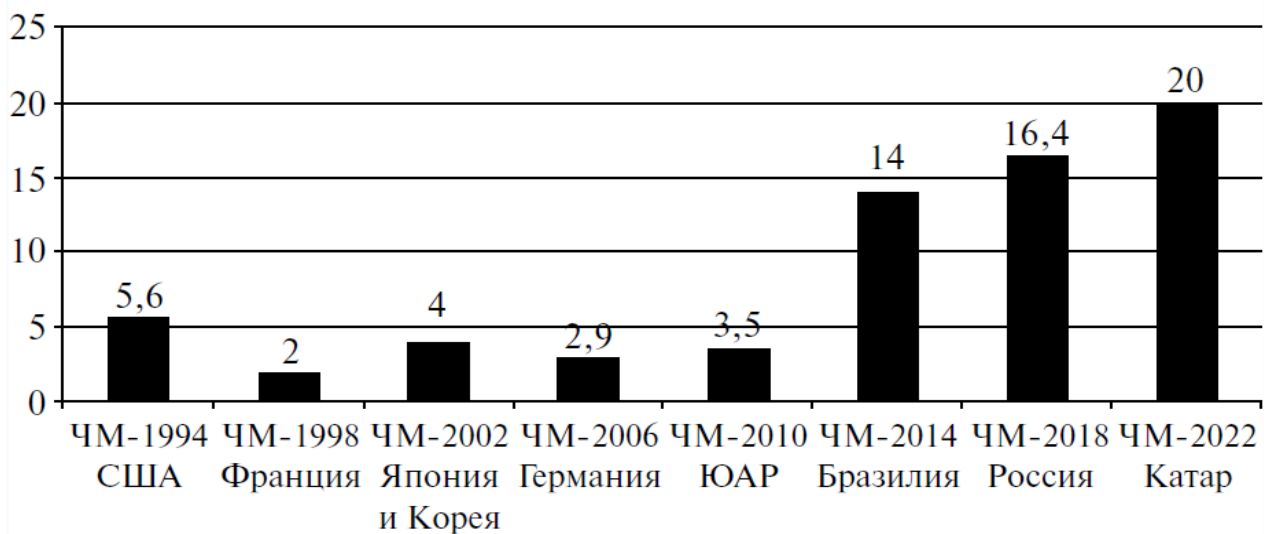
2. Форма государственного устройства, при которой части государства являются государственными образованиями, обладающими юридически определённой политической самостоятельностью
4. Сознательное искажение истины, высказанное с целью введения кого-либо в заблуждение
5. Форма непосредственного волеизъявления граждан, выражающаяся в голосовании по наиболее значимым вопросам общегосударственного, регионального или местного значения
8. Передача в собственность государства земли, промышленных предприятий, банков, транспорта или другого имущества, принадлежащего частным лицам или акционерным обществам
10. Переживаемая человеком нужда в чём-то, что ему необходимо в жизни
11. Общественный институт, занимающийся удостоверением сделок и приданием юридической силы различным документам
12. Ссуда, предоставляемая кредитором заёмщику под проценты

***Не забудьте перенести Ваши ответы в бланк ответов***



**8. [6 баллов]**

**Затраты на строительство стадионов и объектов инфраструктуры чемпионатов мира по футболу (в миллиардах долларов)**



*Не забудьте перенести Ваши ответы в бланк ответов*



**Подготовка, организация и проведение чемпионата мира по футболу — это не только почётное право, но огромные затраты. Данные об объёме денежных средств, затраченных на строительство стадионов, других спортивных объектов и инфраструктуры (или планируемых затрат в будущем), представлены в виде гистограммы. Найдите в приведённом списке выводы, которые можно сделать на основе гистограммы, и запишите цифры, под которыми они указаны.**

**Ответ аргументируйте.**

1. По сравнению с ЧМ-1994 в США затраты России на строительство стадионов и объектов инфраструктуры к ЧМ-2018 возросли почти в три раза.
2. Самая затратная подготовка к ЧМ по футболу предполагается в Катаре.
3. При организации ЧМ-2006 Германия затратила в два раза больше средств, чем ЮАР к ЧМ-2010.
4. Подготовка Франции к ЧМ-1998 по футболу стала самой дорогой в истории его проведения.
5. ЧМ-2014, проходивший в Бразилии, из проведённых был самым дорогим по затратам на подготовку стадионов и объектов инфраструктуры.

## **9. [20 баллов]**

**Прочитайте текст и выполните задания**

«Одной из важных функций УК РФ является охрана окружающей среды. Реализация данной задачи призвана обеспечить защиту объектов охраны окружающей среды...

Загрязнение природной среды и варварское, бездумное потребление ее ресурсов несут серьезную опасность для настоящих и будущих поколений. На сегодняшний день законодателем недооценивается общественная опасность деяний, причиняющих вред природной среде....

В УК РФ выделена специальная глава, посвященная экологическим преступлениям, в которой все составы преступления разделяются в зависимости от непосредственного объекта посягательства на 2 категории...

При определенных условиях к преступлениям, причиняющим вред природной среде, можно отнести и другие составы, предусмотренные УК РФ...

Экологические преступления имеют свои отличительные признаки, которые определяются спецификой объекта и предмета преступного посягательства...

Задачи по реализации природоохранных функций возлагается на правоохранительные органы, в том числе органы внутренних дел. Обязанности полиции в природоохранной сфере закреплены в ч. 1 ст. 12 ФЗ РФ «О полиции». В сфере реализации природоохранной функции

***Не забудьте перенести Ваши ответы в бланк ответов***

правоохранительными органами реализуются в т.ч. профилактические меры в сфере противодействия экологическим правонарушениям и преступлениям: информирование населения об экологической ситуации в регионе, о мерах по обеспечению личной безопасности, о статистике экологических правонарушений и преступлений, об ответственности за их совершение; проведение профилактических рейдов с целью предотвращения правонарушений и преступлений в экологической сфере; проведение встреч, бесед и лекций с различными категориями населения. Цель таких мероприятий – разъяснение требований экологического законодательства и ответственности, наступающей в случаях его несоблюдения. При этом основная нагрузка ложится на инспекторов по делам несовершеннолетних и участковых уполномоченных.» (По материалам интернет-издания)

### **Задания к тексту**

**9.1.** Защиту каких именно объектов призвана обеспечить функция охраны окружающей среды? Приведите не менее 3 примеров.

На какие категории подразделяются объекты охраны окружающей среды? Перечислите эти категории.

Каким федеральным законом обеспечивается реализация этой функции (назовите ФЗ РФ).

**9.2.** Какие последствия для общества имеет загрязнение окружающей среды? Укажите одно конкретное проявление этих последствий в современном мире. В чём причина глобализации этой проблемы для современного человечества?

**9.3.** В тексте обосновывается необходимость привлечения правоохранительных органов к реализации природоохранной функции. Укажите не менее 2 аргументов, подкрепите их цитатами из текста.

### **10.[4 балла]**

#### **Прочитайте текст и выполните задания**

В 2010 г. в стране Z насчитывалось 564 детских дома, в 2020 г. их количество увеличилось почти втрое и составило 1,4 тысячи. В 2020 г. в стране насчитывалось 748 тысяч детей-сирот. Из них усыновлено — 153 тысячи. Под опекой — 384 тысячи. В приёмных семьях — 37 тысяч.

#### **Задание к тексту:**

**10.1.** Сделайте два вывода на основе анализа приведённых данных.

**10.2.** Опираясь на свои знания, укажите две из возможных причин того, что в стране Z в 2010–2020 гг. увеличилось количество детских домов.

*Не забудьте перенести Ваши ответы в бланк ответов*