

**ВНИМАНИЕ!***Все бланки записи (включая дополнительные) необходимо сдать организаторам.*

7 класс

ЧАСТЬ 1

Задание № 1 (за каждую правильную позицию – 1 балл, 5 баллов). «Да» или «Нет»? Если вы согласны с утверждением, напишите «Да», если не согласны – «Нет». Внесите свои ответы в таблицу.

1.1. Законы Российской Федерации принимаются Президентом Российской Федерации и одобряются Федеральным Собранием.

1.2. Вертикальная социальная мобильность может быть только восходящей.

1.3. Инфляция подразумевает увеличение общего уровня цен в стране.

1.4. Акционерные общества и производственные кооперативы относятся к коммерческим юридическим лицам.

1.5. Знания – главная ценность индустриального общества.

ОТВЕТ:

1.1	1.2	1.3	1.4	1.5

Задание № 2 (за каждую правильную позицию – 1 балл, всего – 4 балла).

Установите соответствие между подсистемами общества и примерами.

Внесите свои ответы в таблицу.

Пример	Подсистема общества
1) Житель Екатеринбурга Александр летом по выходным дням в своей квартире проводил ремонтные работы, которые заканчивались поздно вечером (после 23:00). За это он был привлечён к юридической ответственности в виде штрафа в размере 2 000 рублей	А) Экономическая Б) Духовная В) Политическая Г) Социальная
2) Граждане Российской Федерации по достижении определённого законом возраста получают пенсию	
3) В сентябре в Екатеринбурге состоялся Второй международный кинофестиваль дебютных фильмов Евразийского континента «Одна шестая»	
4) В посёлке Нововолковский Орловской области запустили новый завод, который будет производить телематическое оборудование для автопроизводителей	



Предмет

Код
участника**ВНИМАНИЕ!***Все бланки записи (включая дополнительные) необходимо сдать организаторам.***ОТВЕТ:**

А)	Б)	В)	Г)

Задание № 3 (2 балла; одна или несколько ошибок – 0 баллов). Образование является одним из важнейших социальных институтов в современном обществе. Определите, какие суждения, относящиеся образованию в Российской Федерации, являются верными.

- 1) Право на образование закреплено Конституцией РФ.
- 2) К принципам образования в РФ относят общедоступность, платность и обязательность.
- 3) Дошкольное образование является необязательным.
- 4) В Российской Федерации возможно получение образования только на русском языке.
- 5) Ученик обязан соблюдать Устав школы.

ОТВЕТ: _____

Задание № 4 (2 балла). Приведённый ниже ряд терминов образован по определённому принципу. Сформулируйте самостоятельно для представленного ниже ряда терминов то, что их объединяет (словосочетание) и запишите строкой ниже.

Конкуренция, сотрудничество, компромисс, избегание, приспособление

ОТВЕТ: _____

Задание № 5 (2 балла). Приведённый ниже ряд включает названия религий. Определите религию, выпадающую из данного ряда. Сформулируйте самостоятельно, почему Вы так решили. Ответ запишите строкой ниже.

Ислам, иудаизм, синтоизм, индуизм, зороастризм

ОТВЕТ:

Религия, выпадающая из ряда (1 балл): _____

Обоснование (1 балл): _____

Задание № 6 (2 балла; одна или несколько ошибок – 0 баллов). Прочитайте приведённый ниже текст, в котором пропущен ряд слов. Выберите из предлагаемого списка слова (словосочетания), которые необходимо вставить на место пропусков. Слова в списке даны в именительном падеже. Каждое слово (словосочетание) может быть использовано только один раз. Выбирайте последовательно одно слово за другим, мысленно заполняя каждый пропуск. Обратите внимание на то, что слов в списке больше, чем Вам потребуется для заполнения пропусков.



Предмет

Код

участника

ВНИМАНИЕ!*Все бланки записи (включая дополнительные) необходимо сдать организаторам.*

«Социальная система постоянно изменяется: появляются новые элементы, усложняются или исчезают старые. Существует две формы _____ (А): эволюция и революция. Учёные называют _____ (Б) постепенный процесс появления всё более сложных социальных образований. В процессе _____ (В) социальная система оказывается в неустойчивом состоянии, нарушается баланс социальных сил.

Важным является вопрос о _____ (Г) социальных изменений и о факторах, их обуславливающих. Представление о том, что изменения в мире происходят в направлении от низшего к высшему, от менее совершенного к более совершенному, породило идею _____ (Д).

В результате этого социального явления происходит переход общества к более высокому уровню материального _____ (Е) и духовного развития».

Список терминов

1) направленность	2) социальные изменения
3) процесс	4) потребности
5) эволюция	6) информация
7) общественный прогресс	8) социальная революция
9) благосостояние	

В данной таблице приведены буквы, обозначающие слова. Запишите в таблицу под каждой буквой номер выбранного Вами слова (словосочетания).

ОТВЕТ:

А)	Б)	В)	Г)	Д)	Е)

Задание № 7 (4 балла). Решите экономическую задачу.

Предложение на рынке бытовой техники города Е. выражается формулой $Q=6P-100$, а спрос – формулой $Q=300-2P$ (в приведённых формулах Q – количество товара; P – цена товара). Найдите равновесную цену и равновесное количество товара на рынке бытовой техники. Ответ запишите строкой ниже, проведите расчёты.

ОТВЕТ:

Равновесная цена (1 балл): _____

Равновесное количество (1 балл): _____

Расчёты (2 балла): _____

Задание № 8 (3 балла). Решите логическую задачу.

Петя, Вася и Саша играли в мяч на школьном дворе. Один из мальчиков попал в школьное окно. Когда учитель спросил мальчиков, кто разбил окно, то услышал следующее. Петя сказал: «Окно разбил Вася». Вася сказал: «Я не разбивал окно». Саша сказал: «Окно разбил Петя».



Предмет

Код

участника

ВНИМАНИЕ!*Все бланки записи (включая дополнительные) необходимо сдать организаторам.*

Кто разбил окно, если только один из мальчиков сказал неправду?

ОТВЕТ: _____

_____**Задание № 9 (4 балла). Решите правовую задачу.**

Правительство одного из регионов Российской Федерации выступило с законодательной инициативой лишения гражданства лиц, совершивших тяжкие преступления против государственной власти. В пояснительной записке было отмечено, что данное изменение коснётся лиц, виновность которых установлена вступившим в законную силу приговором суда, и позволит снизить общий уровень преступности, повысить общественную безопасность и уровень правовой культуры населения. Министерство внутренних дел данного региона поддержало инициативу и призвало федерального законодателя поддержать предложение.

Дайте юридическую оценку инициативы с опорой на положения Конституции Российской Федерации. Указание нумерации конкретных статей нормативных правовых актов не требуется.

ОТВЕТ: _____

_____**Задание № 10 (2 балла). Ниже приведён ряд высказываний известных деятелей об одном явлении. Определите, о чём идёт речь. Ответ запишите строкой ниже.**

«Достоинство человека не в его происхождении. Бог не создал рабства, но одарил человека <...>» (Иоанн Златоуст (347-407) – архиепископ константинопольский, богослов).

«<...> - это есть осознанная необходимость» (Бенедикт Спиноза (1632-1677) – нидерландский философ-рационалист и натуралист).

«<...> - это право делать всё, что не запрещено законом» (Шарль Луи Монтескьё (1689-1755) – французский писатель, правовед и философ).

«Помните, что цена, которую нужно платить за <...>, падает, когда растёт спрос» (Станислав Ежи Лец (1909-1966) – польский поэт, философ, писатель-сатирик).

«<...> – как солнце. Могущественней и лучше её ничего нет на свете» (Жоржи Амаду (1912-2001) – бразильский писатель и журналист, общественный и политический деятель).

ОТВЕТ: _____



Предмет

Код

участника

ВНИМАНИЕ!*Все бланки записи (включая дополнительные) необходимо сдать организаторам.***ЧАСТЬ 2**

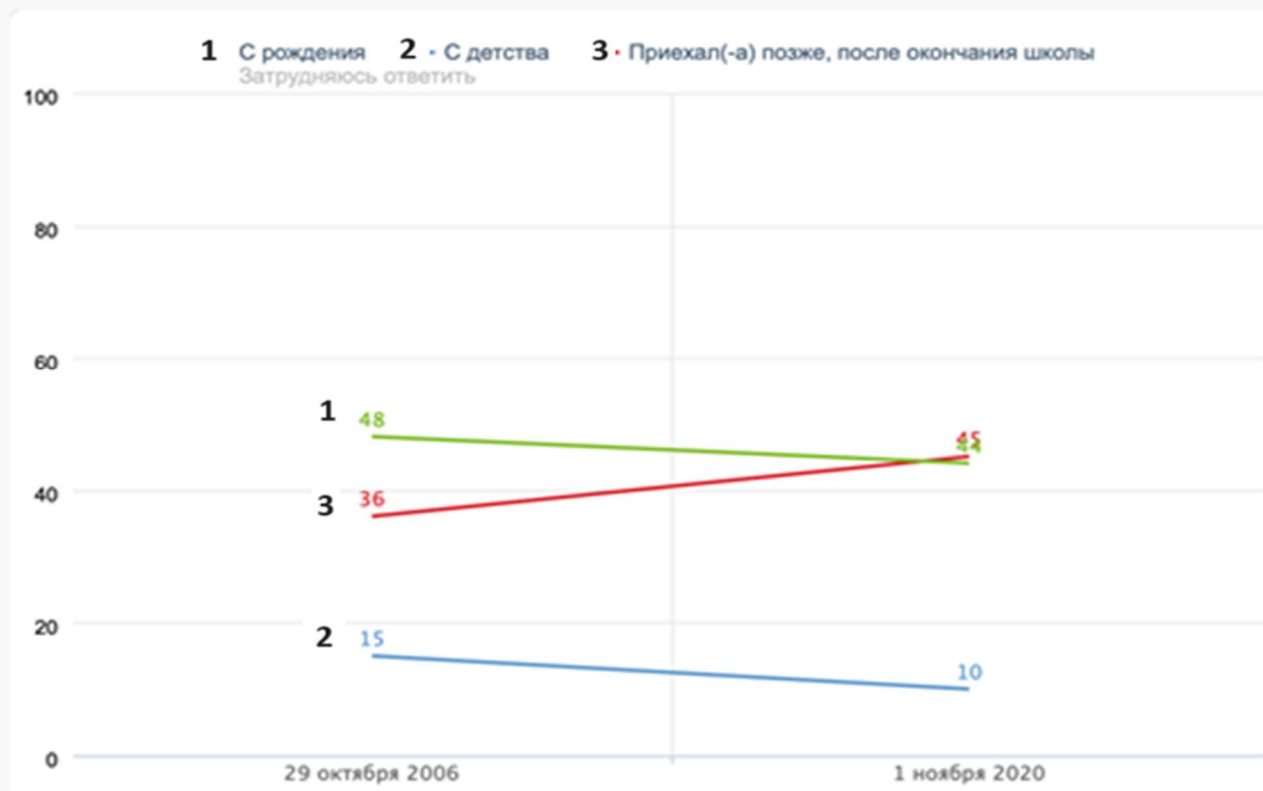
Задание № 11 (10 баллов). Познакомьтесь с данными всероссийского телефонного опроса 1000 граждан Российской Федерации (18 лет и старше), проведённого 30 октября – 1 ноября 2020 г. (статпогрешность не превышает 3,8%), а также данными еженедельного всероссийского поквартирного опроса, который проводился «ФОМнибус» до 22 марта 2020 г. (53 субъекта РФ, 104 населённых пункта, 1500 респондентов).

Таблица № 1

Вы живете в этом городе (посёлке, селе) с рождения, с детства, или вы приехали сюда позже, после окончания школы?

Параметры опроса

ДАННЫЕ В % ОТ ОПРОШЕННЫХ



В 2006 году задавался вопрос: «Вы живете в этом городе (селе) с рождения, с детства, или вы приехали сюда в зрелом возрасте?»



Предмет

Код
участника

ВНИМАНИЕ!

Все бланки записи (включая дополнительные) необходимо сдать организаторам.

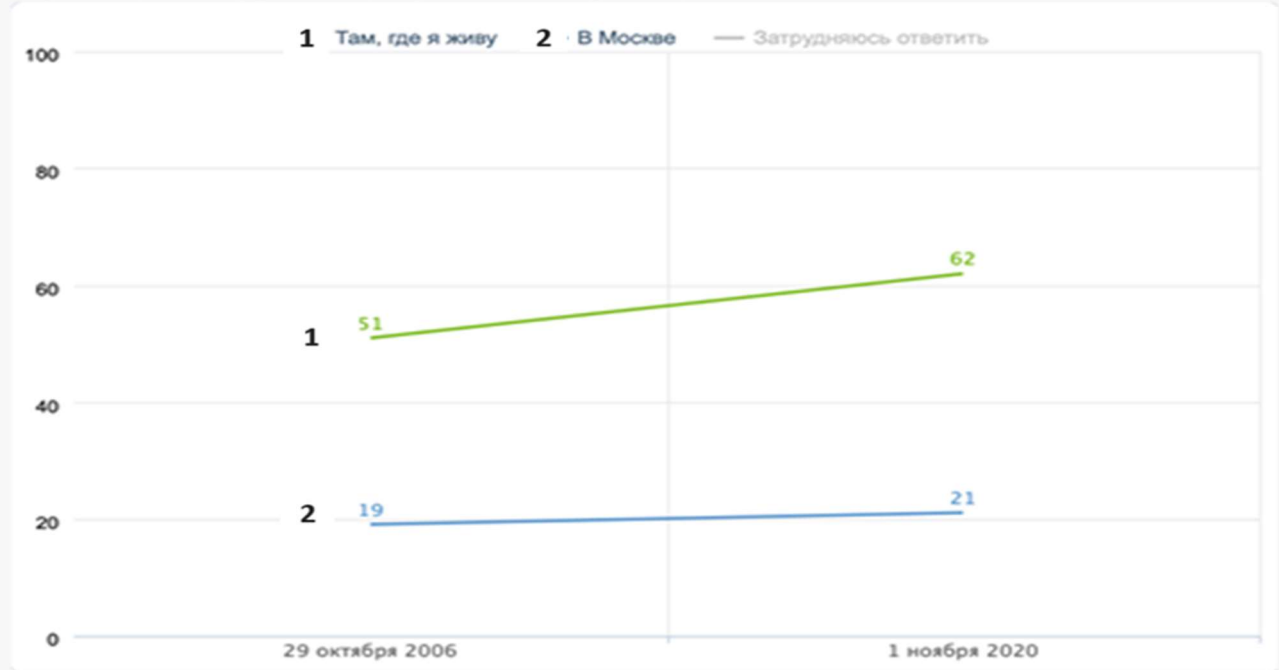
Таблица № 2

Как вы считаете, где лучше жить – там, где вы живёте, или в Москве?

Параметры опроса

ДАННЫЕ В % ОТ ОПРОШЕННЫХ

Вопрос задавался всем, кроме москвичей, – отвечали 93% респондентов



вы приехали сюда в зрелом возрасте?»



Предмет

Код участника

ВНИМАНИЕ!

Все бланки записи (включая дополнительные) необходимо сдать организаторам.

Таблица № 3

Если бы вам, вашей семье предложили переехать в Москву, предоставив там жильё и, если необходимо, работу, вы бы согласились или не согласились переехать?

Параметры опроса

ДАННЫЕ В % ОТ ГРУПП

Население в целом

Возраст

Вопрос задавался всем, кроме жителей Москвы, – отвечали 93% респондентов





Предмет

Код

участника

ВНИМАНИЕ!

Все бланки записи (включая дополнительные) необходимо сдать организаторам.

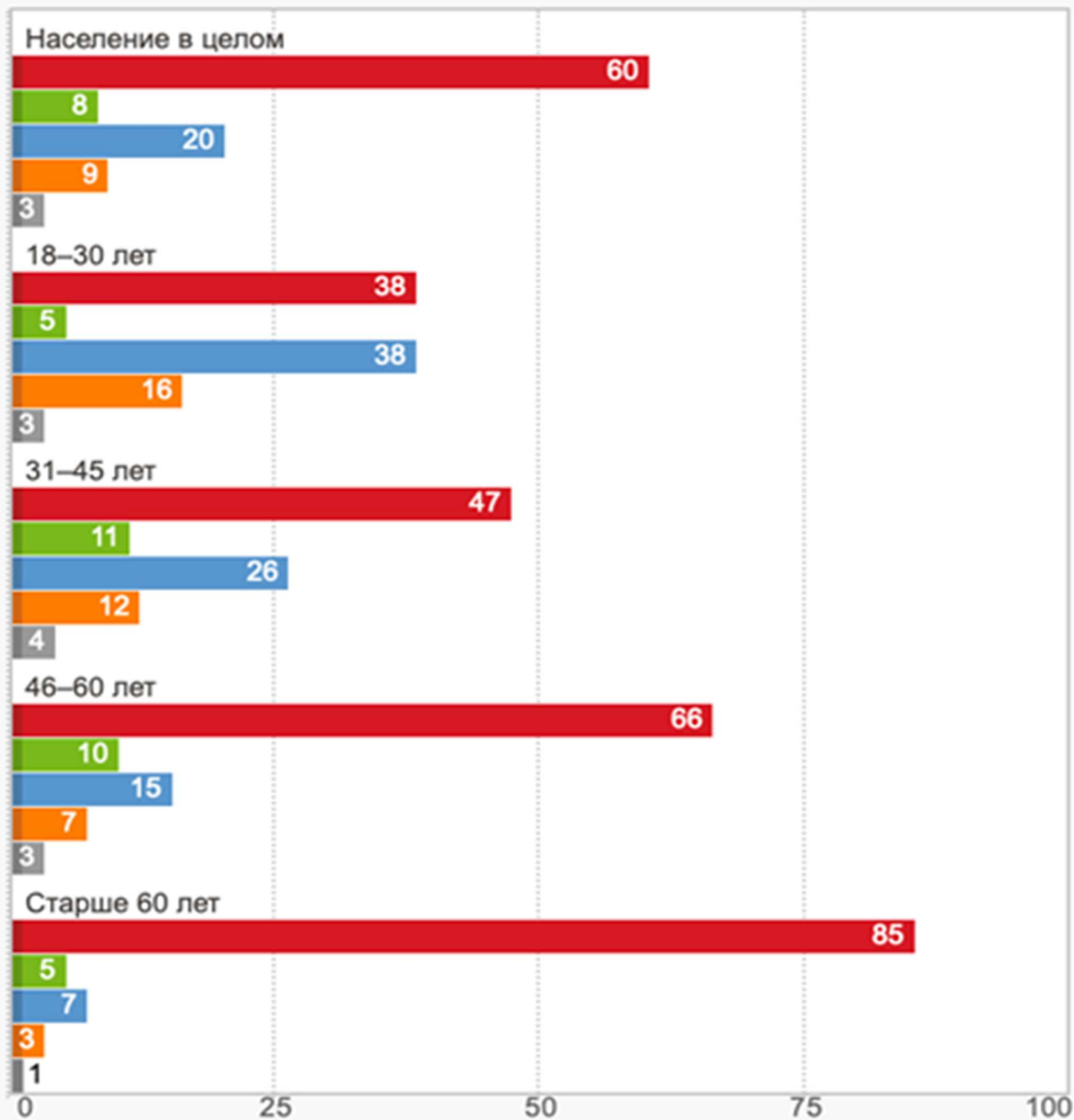
Таблица № 4

А в будущем вы хотели бы или не хотели переехать в другой населённый пункт? И если хотели бы переехать, то в пределах этого региона, в другой регион России или в другую страну?

Параметры опроса

ДАННЫЕ В % ОТ ГРУПП

- Не хотел(-а) бы
- Хотел(-а) бы в пределах этого региона
- Хотел(-а) бы в другой регион России
- Хотел(-а) бы в другую страну
- Затрудняюсь ответить





Предмет

Код

участника

ВНИМАНИЕ!*Все бланки записи (включая дополнительные) необходимо сдать организаторам.*

11.1. (1 балл) Дайте определение термина «миграция».

ОТВЕТ: _____

11.2. (3 балла) С опорой на данные графиков определите, характерно ли для России сокращение процессов миграции в период 2006-2020 гг.?

ОТВЕТ:

Характерно ли для России сокращение процессов миграции (1 балл): _____

Обоснование (2 балла): _____

11.3. (3 балла) Определите зависимость, существующую между возрастом и тенденцией к миграции. Выскажите два предположения, которые могли бы объяснить эту зависимость.

ОТВЕТ:

Зависимость между возрастом и тенденцией к миграции (1 балл): _____

Предположения, объясняющие зависимость (2 балла): _____

11.4. (3 балла) Внимательно рассмотрите таблицы № 2 и № 3. Как Вы считаете, имеется ли между данными, которые в них отражены, противоречие? Свой ответ аргументируйте.

ОТВЕТ:

Противоречие в данных таблиц № 2 и № 3 (1 балл): _____

Собственная аргументация (2 балла): _____
