

1	2	3	4	5	6	7	Всего

Задания для II (муниципального) этапа Всероссийской олимпиады школьников.

2023-2024 учебный год.

Обществознание.

7 класс

Внимательно читайте условия заданий. Отвечая на вопросы и выполняя задания, - не спешите, так как ответы не всегда очевидны и требуют применения общей эрудиции, логики и творческого подхода.

Общее время выполнения работы – до 75 минут

ЖЕЛАЕМ ВАМ УСПЕХА!

(Максимум – 66 б.)

Задание 1. (10б.)

Определите верность или ошибочность утверждений. Если вы согласны с утверждением, внесите в клетку под соответствующим номером «ДА», если нет – «НЕТ» (за каждый правильный ответ – 1б. Максимум – 10 б.)

1. Деятельность профессиональных киберспортсменов можно назвать не только игровой, но и трудовой
2. Прибыль фирмы обычно больше её выручки
3. Природный газ является товаром, который Россия импортирует
4. Зять – это муж дочери
5. Православие – государственная религия в России
6. Китай и Индия – страны с самым большим населением на планете
7. Все налоги, собираемые в Удмуртии, попадают в бюджет Удмуртии
8. Россия времён Ивана Грозного – абсолютная монархия
9. Мотив – это цель деятельности
10. Папа Римский возглавляет всех христиан планеты

1	2	3	4	5	6	7	8	9	10

Задание 2 . Выберите все правильные ответы на вопросы и внесите их в таблицу ниже (10 б.):

2.1. К числу государственных символов России относятся:

- А) Герб Российской Федерации
- Б) Карта Российской Федерации
- В) Гимн Российской Федерации
- Г) Московский Кремль

2.2. К примерам социального конфликта можно отнести:

- А) Футбольный матч
- Б) Вторую мировую войну
- В) Спор о том, чья очередь убираться в комнате
- Г) Эмоции от просмотра фильма ужасов

2.3. С 14 лет гражданин России:

- А) может открыть банковский счёт и положить на него деньги
- Б) может вступить в политическую партию
- В) получает право самостоятельного свободного передвижения

Г) лично отвечает по некоторым статьям Уголовного кодекса РФ

2.4. К основным видам деятельности относятся:

- А) Поиск пищи
- Б) Труд
- В) Игра
- Г) Самозащита

2.5. Россия имеет общую границу с:

- А) Германией
- Б) Китаем
- В) Индией
- Г) Беларусью

2.1	2.2	2.3	2.4	2.5

Задание 3. Экономическая задача (7б.).

Весельчук занял в двух банках на 1 год в общей сложности 500 тыс. рублей, причем в банке «Рога и копыта» ставка по кредиту составляла 20% годовых, в банке «Шпроты в масле» - 10% годовых. Через год Весельчук расплатился с кредитами, выплатив в общей сложности 565 тыс. рублей.

3.1. Какую сумму занял Весельчук в каждом из двух банков? Приведите решение.

Ответ: _____

Решение: _____

3.2. На какие показатели заемщика в первую очередь обращает внимание банк, принимая решение о выдаче кредита?

Ответ: _____

Всего за задачу – 7б.

Задание 4. Юридическая задача (8б.)

Распределите представленные правонарушения по категориям, заполнив таблицу ниже:

- 1. Кража
- 2. Переход дороги в неполюженном месте
- 3. Поломка тележки в супермаркете
- 4. Опоздание на рабочее место
- 5. Несвоевременный возврат долга
- 6. Мелкое хулиганство
- 7. Прогул
- 8. Мошенничество

Преступления	Административные проступки	Дисциплинарные проступки	Нанесение гражданского ущерба

Задача 5. Логическая задача (4б.)

5.1. На выборах лучшего социального теоретика Джон Локк получил больше голосов, чем Карл Маркс; Макс Вебер – меньше чем Георг Зиммель, Карл Маркс – больше чем Георг Зиммель, Питирим Сорокин – меньше чем Макс Вебер. **Восстановите порядок от победителя выборов к занявшему последнее место:**

Ответ:

Место	1	2	3	4	5
Теоретик					





2б. за полный и правильный ответ, ответ с ошибками – об.

5.2. Макс Вебер заявил, что категорически отказывается отзываться отрицательную рецензию на законопроект, отменяющий запрет на приостановку публикации «Капитала» Карла Маркса.

Как Вебер относится к идее публикации «Капитала»? обоснуйте свой ответ.

Ответ: _____

Задача 6. Рассмотрите изображения и выполните задания:

	
1	2
	
3	4
	
5	6

