

**Муниципальный этап  
всероссийской олимпиады школьников в Ленинградской области по  
экономике  
в 2023–2024 учебном году  
7-8 класс**

**ТЕСТЫ - ЗАДАНИЕ**

**1. Верны ли следующие утверждения?**

**1 балл за каждый правильный ответ. Максимальное количество 5 баллов.**

1. Государство устанавливает правила экономического поведения и обеспечивает их соблюдение всеми экономическими субъектами на основе применения юридических законов:

- 1) да;
- 2) нет.

2. Страховой полис есть обязательство страховой компании выплатить оговоренную заранее денежную сумму в случае чрезвычайного происшествия:

- 1) да;
- 2) нет.

3. Если вы владеете авторскими правами, то это можно отнести к активам:

- 1) да;
- 2) нет.

4. Если правительство повысит акцизный налог на товар, то величина налога будет включена в издержки всеми производителями:

- 1) да;
- 2) нет.

5. Минимальный размер оплаты труда в России в настоящее время составляет более 16 тысяч рублей в месяц:

- 1) да;
- 2) нет.

**2. Выберите единственно правильный ответ.**

**2 балла за каждый правильный ответ. Максимальное количество 10 баллов.**

6. «...дайте капиталу 20 %, и он станет оживленным» (Уильям МанDEVИЛЬ). Определите, какое экономическое понятие используется:

- 1) цена;
- 2) прибыль;
- 3) рентабельность;
- 4) издержки.

7. Наиболее ликвидным активом является:

- 1) сберегательный депозит;
- 2) золотой слиток;
- 3) государственная облигация;
- 4) юбилейная монета.

8. Ресурсами не являются:

- 1) питьевая вода;
- 2) полезные ископаемые;
- 3) рабочая сила;
- 4) лабораторное оборудование.

9. Покупка семьей нового дома за городом отразится на величине:

- 1) государственных расходов;
- 2) инвестиционных расходов;
- 3) расходов на покупку потребительских товаров длительного пользования;
- 4) потребительских расходов непродовольственных товаров.

10. Пусть один продукт  $X$  – благо (кофе), другой  $Y$  – антиблаго (сливки) в этом случае кривые безразличия:

- 1) имеют положительный наклон;
- 2) имеют отрицательный наклон;
- 3) представляют собой два взаимно перпендикулярных отрезка;
- 4) замкнутые.

### 3. Выберите два правильных ответа.

3 балла за каждый правильный ответ. Максимальное количество 15 баллов.

11. Закон предложения звучит так:

- 1) при снижении цены объем спроса увеличивается;
- 2) при увеличении цены объем спроса снижается;
- 3) при увеличении рыночной цены происходит увеличение объема предложения;
- 4) по мере снижения цен падают доходность и стимулы к расширению производства и объема продаж.

12. Микроэкономика изучает:

- 1) внутриэкономическую и внешнеэкономическую политику государства;
- 2) изменение цены и количества товаров на рынках;
- 3) закономерности поведения отдельных экономических агентов;
- 4) взаимосвязь инфляции и безработицы.

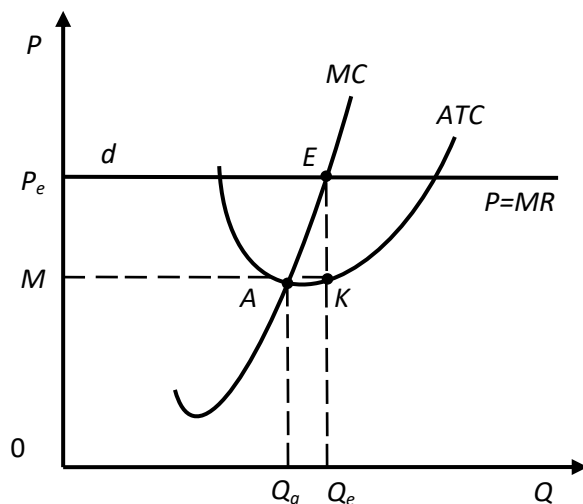
13. Выберите величины, которые измеряются в одинаковых единицах:

- 1) средний продукт труда;
- 2) средняя производительность труда;
- 3) минимальный размер оплаты труда;
- 4) общий доход семьи.

14. Выберите министерства, которые представляют государство как экономического агента:

- 1) Министерство финансов РФ;
- 2) Центральный банк РФ;
- 3) Федеральная миграционная служба;
- 4) Верховный суд

15. Укажите координаты прямоугольника, характеризующего общую выручку.

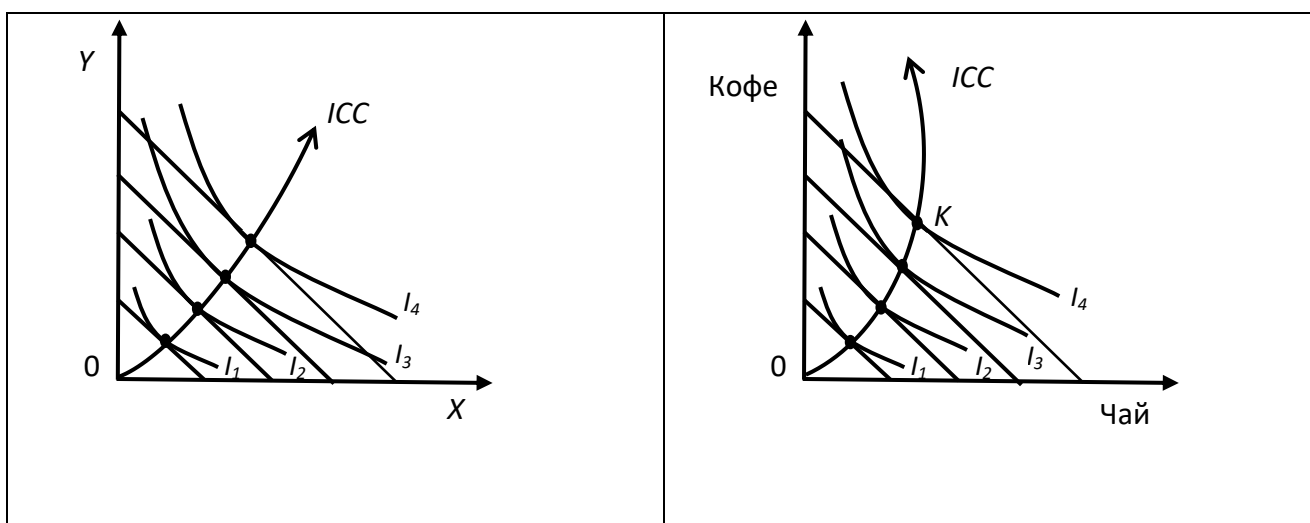


- 1)  $OMKQe$ ;
- 2)  $OPeEQe$ ;
- 3)  $MPeEK$ ;
- 4)  $OMAQ_A$ .

**4. Задания с выбором правильного ответа и его объяснением**

**5 баллов за каждый правильный ответ. Максимальное количество 10 баллов.**

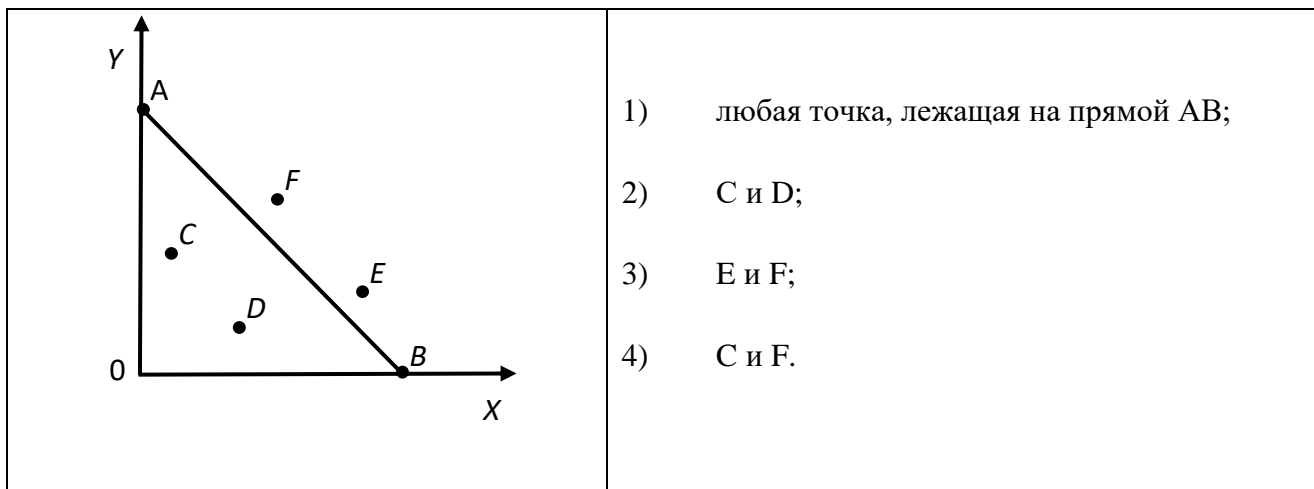
16. Поворот линии «доход-потребление» на правом рисунке означает, что при уровне дохода потребителя, превышающем уровень, для которого оптимальной комбинацией кофе и чая является набор К, чай становится:



- 1) высшим благом;
- 2) супериорным благом;
- 3) инфериорным благом;
- 4) антиблагом.

**Написать объяснение (кратко)**

17. На графике представлено множество наборов товаров, удовлетворяющих бюджетному ограничению. Укажите доступные наборы.



**Написать объяснение (кратко).**

**Итого за тест максимальное количество 40 баллов.**

## ЗАДАЧИ.

### **Задача 1 с решением (20 баллов)**

Пусть производятся только два вида товара: чай и кофе. Объемы производства и цены товаров представлены в таблице. Определите доминирующее направление экономической деятельности.

Период	Производство, Q		Цена, P	
	Чай (тыс. тонн)	Кофе (тыс. тонн)	Чай (тыс. руб. за одну тонну)	Кофе (тыс. руб. за одну тонну)
1	2	3	4	5
1-й	500	300	12	6
2-й	450	350	16	8
3-й	480	400	18	10

### **Задача 2 с решением (20 баллов)**

Конечные доходы рабочих и служащих в базисном периоде составили 5 650 тыс. ден. ед. Розничные цены на товары и услуги в отчетном периоде по сравнению с базисным снизились в среднем на 2%, численность рабочих и служащих возросла на 4%.

Определите индекс реальных доходов рабочих и служащих, а также и индекс реальных доходов в расчете на одного работающего.

### **Задача 3 с решением (20 баллов)**

Правительство принимает решение об уменьшении страховых платежей работодателей в бюджет с целью увеличения фонда оплаты труда. При этом рост реальной заработной платы при росте номинальной заработной платы в отрасли составил 5%, цены на потребительские товары выросли на 8%.

На сколько процентов следует сократить страховые платежи, чтобы заработная плата не снижалась?

**Итого за задачи максимальное количество 60 баллов.**