

Задания
муниципального этапа
Всероссийской олимпиады школьников Республики Крым
по «Основам безопасности жизнедеятельности»
2019—2020 учебный год
Теоретический тур
10-11 класс
Время выполнения — 90 минут
Максимальная оценка – 150 баллов

Уважаемый участник Олимпиады!

Вам предстоит выполнить теоретические (письменные) и тестовые задания.

Выполнение теоретических (письменных) заданий целесообразно организовать следующим образом:

- не спеша, внимательно прочитайте задание и определите, наиболее верный и полный ответ;
- отвечая на теоретический вопрос, обдумайте и сформулируйте конкретный ответ только на поставленный вопрос;
- если Вы отвечаете на задание, связанное с заполнением таблицы или схемы, не старайтесь детализировать информацию, вписывайте только те сведения или данные, которые указаны в вопросе;
- особое внимание обратите на задания, в выполнении которых требуется выразить Ваше мнение с учетом анализа ситуации или поставленной проблемы. Внимательно и вдумчиво определите смысл вопроса и логику ответа (последовательность и точность изложения). Отвечая на вопрос, предлагайте свой вариант решения проблемы, при этом ответ должен быть кратким, но содержать необходимую информацию;
- после выполнения всех предложенных заданий еще раз удостоверьтесь в правильности выбранных Вами ответов и решений.

Выполнение тестовых заданий целесообразно организовать следующим образом:

- не спеша, внимательно прочитайте тестовое задание;
- определите, какой из предложенных вариантов ответа наиболее верный и полный;
- обведите кружком букву, соответствующую выбранному Вами ответу;
- продолжайте таким образом работу до завершения выполнения тестовых заданий;
- после выполнения всех предложенных заданий еще раз удостоверьтесь в правильности выбранных Вами ответов;
- если потребуется корректировка выбранного Вами варианта ответа, то неправильный вариант ответа зачеркните крестиком, а новый выбранный ответ обведите кружком.

Предупреждаем Вас, что:

- при оценке тестовых заданий, где необходимо определить один *правильный ответ*, 0 баллов выставляется как за неверный ответ, а также, если участником отмечены несколько ответов (в том числе правильный), или все ответы;
- при оценке тестовых заданий, где необходимо определить все *правильные ответы*, 0 баллов выставляется, если участником отмечено большее количество ответов, чем предусмотрено в задании (в том числе правильные ответы) или все ответы.

Задание теоретического тура считается выполненным, если Вы вовремя сдаете его членам жюри. **Максимальная оценка - 150 баллов.**

Желаем вам успеха!

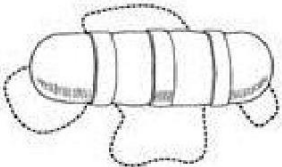
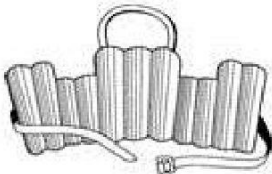

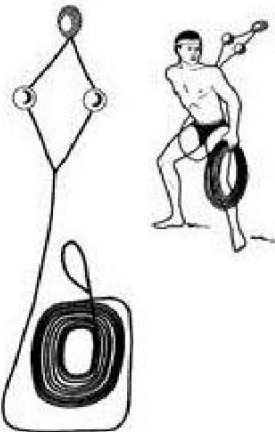

ЗАДАНИЕ 1. Заполните таблицу, вписав переносчиков инфекционных заболеваний человека.

Насекомые-переносчики инфекционных заболеваний	
Инфекционные заболевания	Насекомое переносчик
Энцефалит, туляремия	
Малярия	
Чума	
Дизентерия, конъюнктивит, холера	
Сыпной тиф, возвратный тиф	

Оценочные баллы: максимальный –10 баллов; фактический – _____ баллов

Подписи членов жюри _____

ЗАДАНИЕ 2. Заполните таблицу, вписав наименования табельных спасательных средств на воде и на льду

Графическое изображение	Наименование средства
	
	
	
	
	

Оценочные баллы: максимальный – **10 баллов**; фактический – _____ **баллов**

Подписи членов жюри _____

ЗАДАНИЕ 3. Определите по описанию внешних признаков из приведённых примеров вид пожара и впишите в таблицу соответствующую букву. Виды пожара:

- а) внутренний открытый;**
- б) открытый;**
- в) скрытый;**
- г) внутренний скрытый;**
- д) наружный;**
- е) внутренний.**

Внешние признаки пожара	Вид пожара (буква)
Из окон здания идёт дым, огня не видно	
Из окон здания идёт дым, видно пламя	
Горит штабель лесоматериалов на открытой площадке	
Из окон здания идёт небольшой дым; внутри здания огня не видно, но концентрация дыма очень высока	
Из окон здания идёт дым, внутри здания горит мебель	

Оценочные баллы: максимальный – 10 баллов; фактический – _____ баллов

Подписи членов жюри _____

ЗАДАНИЕ 4. Степень опасности химических веществ связана с путями их попадания в организм человека. Их подразделяют на 6 групп по принципу проникновения. Перечислите их.

Оценочные баллы: максимальный – 12 баллов; фактический – _____ баллов

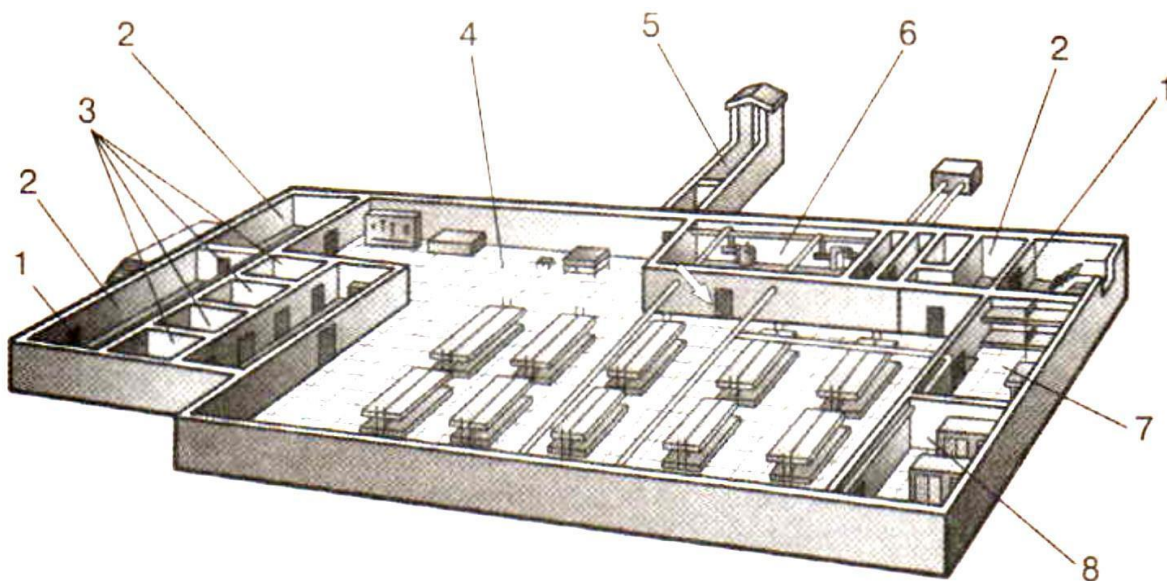
Подписи членов жюри _____

ЗАДАНИЕ 5. Международное гуманитарное право – это совокупность норм, основанных на принципах гуманности и направленных на ограничение средств, и методов ведения войны и на защиту жертв вооруженных конфликтов. Перечислите лица, находящиеся под защитой международного гуманитарного права.

*Оценочные баллы: максимальный – **7 баллов**; фактический – _____ баллов*

Подписи членов жюри _____

ЗАДАНИЕ 6. На рисунке изображен эскиз защитного сооружения ГО. Назовите тип защитного сооружения и перечислите его элементы, отмеченные цифрами.



Тип защитного сооружения - _____

1	
2	
3	
4	
5	
6	
7	
8	

Оценочные баллы: максимальный – **24 баллов**; фактический – _____ баллов

Подписи членов жюри _____

ЗАДАНИЕ 7. Укажите стрелками соответствие между названиями воинских формирований (левый столбец) и уровнем командования (правый столбец).

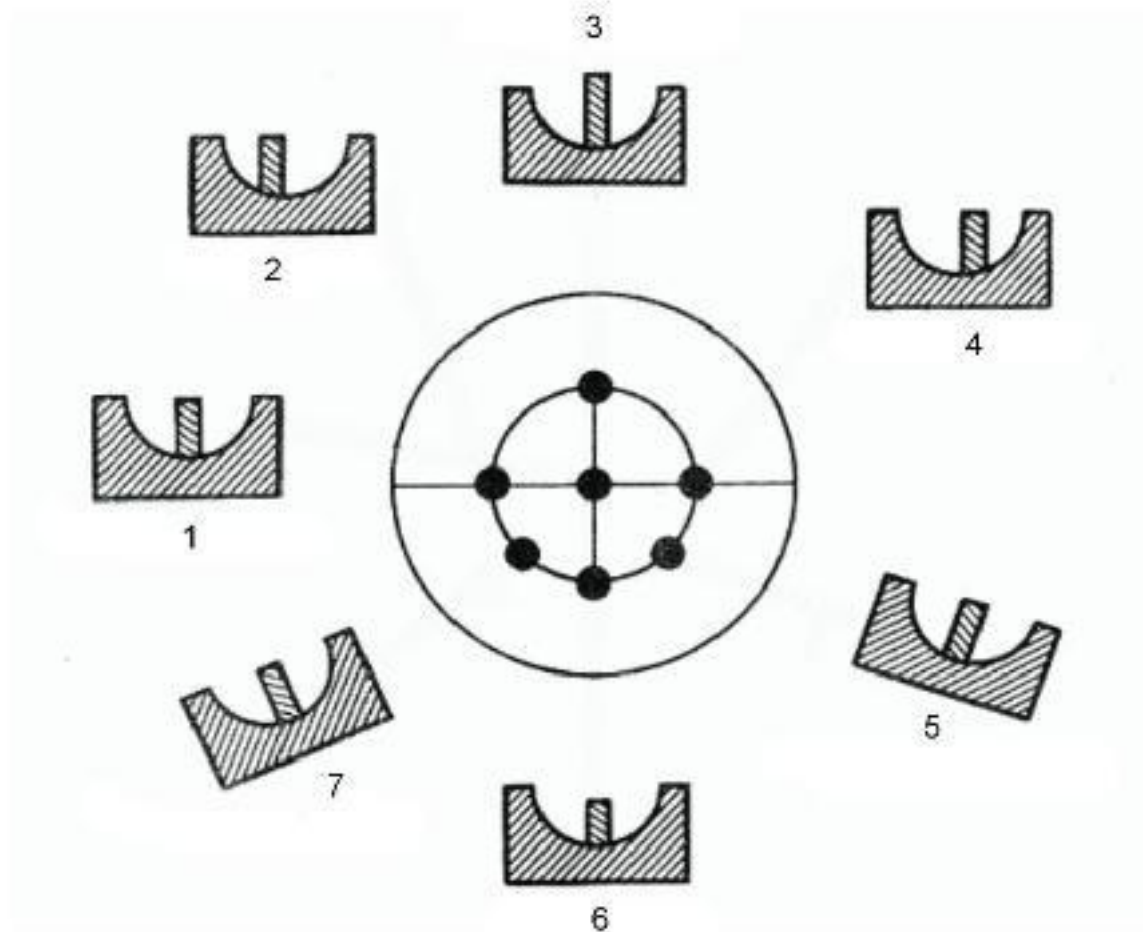
Звено, группа, команда
Полк
Дивизия
Рота
Бригада
Батальон
Армия
Фронт, округ
Отделение
Взвод

Капитан
Майор, подполковник
Ефрейтор
Полковник
Полковник, генерал-майор
Младший сержант
Генерал-майор
Лейтенант
Генерал-лейтенант
Генерал-полковник

Оценочные баллы: максимальный – 10 баллов; фактический – _____ баллов

Подписи членов жюри _____

ЗАДАНИЕ 8. Рассмотрите рисунок и напишите, что он иллюстрирует. Подпишите названия отдельных элементов рисунка 1-7. Укажите стрелками соответствие между этими элементами 1-7 и точками, изображенными на рисунке в центре круга.



Оценочные баллы: максимальный – **16 баллов**; фактический – _____ баллов

Подписи членов жюри _____

ЗАДАНИЕ 9.**Выполните тестовые задания**

№ п/п	Тестовые задания	Макс. балл	Кол-во набранных баллов
<i>Определите один правильный ответ</i>			
1.	При организации однодневного турпохода рекомендуется выбирать до конечной точки маршрута расстояние не более: а) 10 км в одну сторону; б) 15 км в одну сторону; в) 20 км в одну сторону; г) 25 км в одну сторону.	1	
2.	Основным источником энергии для человека являются: а) жиры; б) белки; в) витамины; г) углеводы.	1	
3.	Лунные сутки делятся: а) 15 земных суток; б) 20 земных суток; в) 25 земных суток; г) 29 земных суток.	1	
4.	Элемент дороги, предназначенный для движения безрельсовых транспортных средств, называется: а) дорога; б) проезжая часть; в) магистраль; г) трасса.	2	
5.	К кишечным инфекциям относят: а) чуму; б) столбняк; в) дизентерию; г) дифтерию.	2	

6.	<p>В случае аварийного приводнения самолета спасательные жилеты приводятся в рабочее состояние:</p> <p>а) после покидания салона самолета;</p> <p>б) после соприкосновения самолета с поверхностью воды;</p> <p>в) до соприкосновения самолета с поверхностью воды;</p> <p>г) перед выходом из салона самолета.</p>	2	
7.	<p>Завладение чужим имуществом путем обмана или подлога называется:</p> <p>а) кража;</p> <p>б) мошенничество;</p> <p>в) грабеж;</p> <p>г) вымогательство.</p>	3	
8.	<p>Умышленные деяния, за совершение которых максимальное наказание, предусмотренное УК РФ не превышает 10 лет лишения свободы относится к:</p> <p>а) преступлениям небольшой тяжести;</p> <p>б) преступлениям средней тяжести;</p> <p>в) тяжким преступлениям;</p> <p>г) особо тяжким преступлениям.</p>	3	
9.	<p>Химически опасные объекты строятся:</p> <p>а) на большом расстоянии друг от друга;</p> <p>б) с учетом розы ветров данной местности;</p> <p>в) на безопасном расстоянии от рек, водоемов, морского побережья и подземных водоносных слоев;</p> <p>г) с наветренной стороны жилых зон.</p>	3	
10.	<p>Самым многочисленным по боевому составу видом Вооруженных Сил Российской Федерации являются:</p> <p>а) Сухопутные войска;</p> <p>б) Военно-морской флот;</p> <p>в) Воздушно-космические силы;</p> <p>г) Мотострелковые войска.</p>	3	
11.	<p>Обязанности военнослужащих подразделяются на:</p> <p>а) общие, должностные, боевые и специальные;</p> <p>б) общие, должностные и специальные;</p> <p>в) общие, боевые и специальные;</p> <p>г) общие и специальные.</p>	3	

<i>Определите все правильные ответы</i>		
12.	<p>Кроме никотина табачный дым содержит:</p> <p>а) синильную кислоту;</p> <p>б) соляную кислоту;</p> <p>в) аммиак;</p> <p>г) соединения хлора;</p> <p>д) водород.</p>	3
13.	<p>Управлять квадроциклом, согласно ПДД, можно:</p> <p>а) с 16 лет;</p> <p>б) имея права категории А, так как квадроцикл приравнен к мотоциклу;</p> <p>в) с 18 лет;</p> <p>г) имея удостоверение тракториста-машиниста, так как квадроцикл приравнен к самоходной машине;</p> <p>д) имея водительское удостоверение любой категории.</p>	3
14.	<p>К запрещающим дорожным знакам относятся:</p> <p>а) таможня;</p> <p>б) опасность;</p> <p>в) железнодорожный переезд без шлагбаума;</p> <p>г) уступите дорогу.</p>	3
15.	<p>К заболеваниям, сопровождающимся инфекцией дыхательных путей относятся:</p> <p>а) грипп;</p> <p>б) чума;</p> <p>в) туляремия;</p> <p>г) дифтерия;</p> <p>д) корь;</p> <p>е) малярия.</p>	3
16.	<p>К индивидуальному снаряжению туриста в коллективном походе относятся:</p> <p>а) топор;</p> <p>б) туристский коврик;</p> <p>в) спальный мешок;</p> <p>г) палатка.</p>	3

17.	В состав танкового экипажа танка Т-80 входят: а) водитель; б) заряжающий; в) наводчик; г) стрелок-радист; д) механик-водитель.	3	
18.	По длительности проведения эвакуация может быть: а) временной; б) постоянной; в) среднесрочной; г) долгосрочной; д) короткой; е) продолжительной.	3	
19.	Проблесковый маячок желтого или оранжевого цвета означает: а) перевозку крупногабаритных грузов, взрывчатых, легковоспламеняющихся, радиоактивных веществ; б) перевозку групп детей; в) выполнение работ по строительству, ремонту или содержанию дорог; г) не является специальным сигналом	3	
20.	К корабельной (палубной) авиации ВМФ относятся следующие типы самолетов и вертолетов: а) Су-33; б) Ту-22 МЗ; в) Ил-38; г) МиГ-29 К; д) Ка-27.	3	
	Количество баллов	<i>max 51</i>	