

ЛЕНИНГРАДСКАЯ ОБЛАСТЬ  
ВСЕРОССИЙСКАЯ ОЛИМПИАДА ШКОЛЬНИКОВ ПО ОСНОВАМ БЕЗОПАСНОСТИ  
ЖИЗНЕДЕЯТЕЛЬНОСТИ

**КРИТЕРИИ И МЕТОДИКА ОЦЕНКИ  
ВЫПОЛНЕННЫХ ОЛИМПИАДНЫХ ЗАДАНИЙ  
муниципального этапа Всероссийской олимпиады  
школьников по основам безопасности жизнедеятельности  
10-11 классы**








**2020-2021 учебный год**

## 1. Задания открытого типа

По теоретическому туру максимальная оценка результатов участника старшей возрастной группы (10-11 классы) определяется арифметической суммой всех баллов, полученных за выполнение заданий и тестов и не должна превышать 150 баллов

**ЗАДАНИЕ 1.** Для опознавания лиц и объектов, имеющих право на защиту, предоставляемую международным гуманитарным правом, используются отличительные знаки и эмблемы. Укажите, что обозначают изображенные ниже знаки и эмблемы.

*Вариант ответа:*

	Нейтральная или демилитаризованная зона
	Объекты и силы Гражданской обороны
	Красный кристалл. Религиозно нейтральный знак Красного креста и Красного Полумесяца
	Объекты исторической и культурной ценности
	Знак Красного Полумесяца. Военные и гражданские медицинские службы, их транспорт и сотрудники.
	Установки и сооружения содержащие опасные силы
	Знак Красного креста. Военные и гражданские медицинские службы, их транспорт и сотрудники.

*Оценка задания.*

Максимальная оценка за правильно выполненное задание – **35 баллов**, при этом:

- ✓ за каждый правильный ответ начисляется по 5 баллов;
- ✓ при отсутствии правильных ответов, баллы не начисляются.

**ЗАДАНИЕ 2.** Впишите в левую часть таблицы наименования режимов функционирования РСЧС:

*Вариант ответа:*

Наименование режима	Условия функционирования или введения
Повседневной деятельности	При обычной производственно-промышленной, радиационной, химической, биологической (бактериологической), сейсмологической и гидрометеорологической обстановке, при отсутствии эпидемий, эпизоотии, эпифитотий.
Повышенной готовности	При ухудшении указанной обстановки, получении прогноза о возможности возникновения ЧС;
Чрезвычайной ситуации	При возникновении и во время ликвидации ЧС.

**Оценка задания.**

Максимальная оценка за правильно выполненное задание – **30 баллов**, при этом:

- ✓ за каждый правильный ответ начисляется по 10 баллов
- ✓ при отсутствии правильных ответов, баллы не начисляются.

**ЗАДАНИЕ 3.** Предписывающие знаки безопасности предназначены для разрешения определенных действий, работающих только при выполнении конкретных требований безопасности труда. Впишите в таблицу смысловые значения предписывающих знаков и дополните текст в колонке «Место установки знаков» недостающими фрагментами (словами или словосочетаниями).

**Вариант ответа:**

Смысловое значение	Изображение	Место установки знаков
Работать в защитных перчатках		На участках работ, связанных с опасностью <b>воздействия вредных или агрессивных сред, защита от возможного поражения электрическим током</b>
Работать в защитной обуви		При входе в рабочие помещения или на участки работ, связанных с опасностью <b>воздействия вредных или агрессивных сред</b>

<p><b>Работать в защитных наушниках</b></p>		<p>При входе в рабочие помещения или на участки работ с <b>повышенным уровнем шума</b></p>
<p><b>Работать в защитных очках</b></p>		<p>При входе на участки работ, связанных с опасностью <b>травмирования органов зрения.</b></p>
<p><b>Работать в предохранительном (страховочном) поясе</b></p>		<p>В местах выполнения работ где для <b>безопасной работы</b> требуется применение <b>предохранительных (страховочных) поясов</b></p>

**Оценка задания.**

Максимальная оценка за правильно выполненное задание – **10 баллов**, при этом:

- ✓ за каждый правильный ответ начисляется по 2 баллов
- ✓ при отсутствии правильных ответов, баллы не начисляются.

**ЗАДАНИЕ 4. Средства индивидуальной защиты органов дыхания или СИЗОД – это специально разработанные технические устройства, которые обеспечивают защиту органов дыхания от вредной, агрессивной внешней среды. Установите соответствие между СИЗОД и его предназначением. Результаты внесите в таблицу, вписав соответствующие буквы.**

СИЗОД		Предназначение СИЗОД	
1	Фильтрующий противогаз	А	Средство индивидуальной защиты органов дыхания для работы и выхода из опасной атмосферы, характеризующейся наличием вредных и опасных факторов, уровень которых превышает установленные нормативы

<b>2</b>	Фильтрующий респиратор	<b>Б</b>	Средство индивидуальной защиты органов дыхания при эвакуации из опасной атмосферы, характеризующейся наличием вредных и опасных факторов, уровень которых превышает установленные нормативы
<b>3</b>	Фильтрующий самоспасатель	<b>В</b>	Средство индивидуальной защиты органов дыхания и глаз для работы и выхода из опасной атмосферы, характеризующейся наличием вредных и опасных факторов, уровень которых превышает установленные нормативы

**Вариант ответа:**

1	2	3
<b>В</b>	<b>А</b>	<b>Б</b>

**Оценка задания.**

Максимальная оценка за правильно выполненное задание – **10 баллов**, при этом:

- ✓ за каждый правильный ответ начисляется по 2 баллов
- ✓ при отсутствии правильных ответов, баллы не начисляются.

**ЗАДАНИЕ 5.** Заполните до конца таблицу, в которой определите воинские звания (войсковые и корабельные) в соответствии с составами военнослужащих, установленные Федеральным законом Российской Федерации «О воинской обязанности и военной службе».

**Вариант ответа:**

Состав военнослужащих	Воинские звания	
	войсковые	корабельные
Солдаты и матросы	Рядовой, Ефрейтор	Матрос, Старший матрос
Сержанты и старшины	Мл. сержант, Сержант, Ст. сержант, Старшина	Старшина 2-й статьи, Старшина 1 -й статьи, Гл. старшина, Гл. корабельный старшина
Прапорщики и мичманы	Прапорщик, Ст. прапорщик	Мичман, Ст. мичман

Младшие офицеры	Мл. лейтенант, Лейтенант, Ст. лейтенант, Капитан	Мл. лейтенант, Лейтенант, Ст. лейтенант, Капитан-лейтенант
Старшие офицеры	Майор, Подполковник, Полковник	Капитан 3 -го ранга, Капитан 2-го ранга, Капитан 1 -го ранга
Высшие офицеры	Генерал-майор, Генерал-лейтенант, Генерал-полковник, Генерал армии, Маршал России	Контр-адмирал, Вице-адмирал, Адмирал, Адмирал флота РФ

***Оценка задания.***

Максимальная оценка за правильно выполненное задание – **39 баллов**, при этом:

- ✓ за каждый правильный ответ начисляется по 1 баллу
- ✓ при отсутствии правильных ответов, баллы не начисляются.

## 2. Задания закрытого типа

№ п/п	Тестовые задания	Макс. балл	Ответ
<i>Определите один правильный ответ</i>			
1.	 <p><b>Изображенным топографическим знаком на картах обозначают:</b></p> <p>а) хвойный лес; б) редколесье; в) смешанный лес; г) лиственный лес.</p>	1	<b>В</b>
2.	 <p><b>Изображенный дорожный знак имеет следующее смысловое значение:</b></p> <p>а) заповедник; б) перегон скота; в) дикие животные; г) перегон скота запрещен.</p>	1	<b>Б</b>
3.	 <p><b>Изображенный знак пожарной безопасности имеет следующее смысловое значение:</b></p> <p>а) пожарный водосточник; б) пожарный кран; в) пожарный гидрант; г) звуковой оповещатель пожарной тревоги.</p>	1	<b>А</b>
4.	 <p><b>Изображённые на рисунке грибы являются:</b></p> <p>а) условно съедобными;</p>	1	<b>Б</b>

	<p>б) съедобными;</p> <p>в) не съедобными;</p> <p>г) ядовитыми.</p>		
5.	<p><b>Полным называется голодание, если:</b></p> <p>а) человек лишен пищи и воды;</p> <p>б) человек лишен пищи, но не ограничен в водопотреблении;</p> <p>в) пища употребляется человеком в ограниченных количествах, недостаточных для восстановления энергозатрат;</p> <p>г) при достаточном количественном питании человек недополучает с пищей одно или несколько веществ.</p>	1	<b>А</b>
6.	<p><b>В колонне, перевозящей детей и включающей пять автобусов, медицинский работник должен находиться:</b></p> <p>а) в первом автобусе;</p> <p>б) в третьем автобусе;</p> <p>в) в четвёртом автобусе;</p> <p>г) в пятом автобусе.</p>	1	<b>Г</b>
7.	<p><b>В соответствии с Федеральным законом «О защите населения и территорий от чрезвычайных ситуаций природного и техногенного характера» потенциально опасный объект – это объект, на котором:</b></p> <p>а) проводятся спортивные и культурно-массовые мероприятия;</p> <p>б) предусмотрена вооружённая охрана;</p> <p>в) возможно одновременное пребывание более пяти тысяч человек;</p> <p>г) выпускается продукция для нужд армии.</p>	1	<b>В</b>
8.	<p><b>Лицо, заранее обещавшее приобрести или сбыть похищенные предметы (ст. 33 УК РФ «Виды соучастников преступления») является:</b></p> <p>а) исполнителем;</p> <p>б) пособником;</p> <p>в) подстрекателем;</p> <p>г) организатором.</p>	1	<b>Б</b>
9.	<p><b>Проблесковым маячком бело-лунного цвета может быть снабжен автомобиль:</b></p> <p>а) осуществляющий инкассацию;</p> <p>б) перевозящий крупногабаритный либо опасный груз;</p> <p>в) осуществляющий работы по содержанию или ремонту дороги;</p> <p>г) сопровождающий организованную колонну.</p>	1	<b>А</b>



10.	<p><b>Если URL веб-сайт начинается с «https://», и в интерфейсе браузера появилась иконка замка то данное соединение:</b></p> <p>а) не является безопасным;  б) является безопасным;  в) содержит рекламную информацию;  г) обязательно запросит авторизацию.</p>	1	Б
11.	<p><b>Отказ или повреждение технических устройств, применяемых на опасном производственном объекте, отклонение от установленного режима технологического процесса называется:</b></p> <p>а) авария;  б) инцидент;  в) катастрофа;  г) чрезвычайная ситуация.</p>	1	Б
12.	<p><b>В соответствии со Строевым уставом Вооруженных Сил Российской Федерации расстояние в глубину между военнослужащими (машинами), подразделениями и воинскими частями называется:</b></p> <p>а) интервал;  б) ширина строя;  в) дистанция;  г) глубина строя.</p>	1	В
13.	<p><b>В годы Великой Отечественной войны в период с 25 июля 1942 г. по 9 октября 1943 г. проходила:</b></p> <p>а) Висло-Одерская операция;  б) Операция по форсированию Днепра;  в) Контрнаступательная операция под Москвой;  г) Битва за Кавказ.</p>	1	Г
14.	<p><b>Жидкое, бесцветное отравляющее вещество с ароматом горького миндаля называется:</b></p> <p>а) синильная кислота;  б) аммиак;  в) хлор;  г) хлорпикрин.</p>	1	А
15.	<p><b>Кодовое наименование Крымской (Ялтинской) конференции 1945 г.:</b></p> <p>а) Буран;  б) Аргонавт;  в) Веста;</p>	1	Б

	г) Скала.		
<i>Определите все правильные ответы</i>			
16.	<p><b>Для определения сторон горизонта можно использовать следующие признаки:</b></p> <p>а) в католических костелах алтарь находится на западе;</p> <p>б) двери синагог находятся на востоке;</p> <p>в) кресты, расположенные на православном храме, нижняя часть нижней перекладины указывает на запад, верхняя на восток;</p> <p>г) двери мечетей находятся на севере;</p> <p>д) колокольня православного храма находится с западной стороны.</p>	3	А,Д,Г
17.	<p><b>В соответствии с инструкцией по применению и испытанию средств защиты, используемых в электроустановках, к электроразличительным средствам относятся:</b></p> <p>а) изолянта;</p> <p>б) указатели напряжения;</p> <p>в) диэлектрические фартуки;</p> <p>г) плакаты и знаки безопасности;</p> <p>д) кусачки.</p>	2	Б,Г
18.	<p><b>К преступлениям против порядка управления относятся:</b></p> <p>а) противоправное изменение Государственной границы Российской Федерации;</p> <p>б) клевета в отношении судьи, присяжного заседателя, прокурора, следователя, лица, производящего дознание, судебного пристава;</p> <p>в) присвоение полномочий должностного лица;</p> <p>г) уклонение от прохождения военной и альтернативной гражданской службы;</p> <p>д) вооруженный мятеж.</p>	2	А,Г
19.	<p><b>Для поражения бронированных целей предназначены:</b></p> <p>а) бетонобойные боеприпасы;</p> <p>б) подкалиберные боеприпасы;</p> <p>в) фугасные боеприпасы;</p> <p>г) кумулятивные боеприпасы;</p> <p>д) осколочные боеприпасы.</p>	2	А,Г

20.	<b>Военно-транспортная обязанность распространяется на:</b> а) автозаправочные станции; б) граждан – владельцев транспортных средств; в) консульские учреждения иностранных государств; г) лиц без гражданства; д) международные организации.	2	А,Б
<b>Количество баллов</b>			