

ЛЕНИНГРАДСКАЯ ОБЛАСТЬ
ВСЕРОССИЙСКАЯ ОЛИМПИАДА ШКОЛЬНИКОВ ПО ОСНОВАМ БЕЗОПАСНОСТИ
ЖИЗНЕДЕЯТЕЛЬНОСТИ
(МУНИЦИПАЛЬНЫЙ ЭТАП)
ТЕОРЕТИЧЕСКИЙ ТУР 2020/2021
старшая возрастная группа (10-11 классы)

Код/шифр участника

--	--	--	--	--	--	--	--

Уважаемый участник Олимпиады!

Вам предстоит выполнить теоретические (письменные) и тестовые задания.

Время выполнения заданий теоретического тура 90 минут.

Выполнение теоретических (письменных) заданий целесообразно организовать следующим образом:

- не спеша, внимательно прочитайте задание и определите, наиболее верный и полный ответ;
- отвечая на теоретический вопрос, обдумайте и сформулируйте конкретный ответ только на поставленный вопрос;
- если Вы отвечаете на задание, связанное с заполнением таблицы или схемы, не старайтесь детализировать информацию, вписывайте только те сведения или данные, которые указаны в вопросе;
- особое внимание обратите на задания, в выполнении которых требуется выразить Ваше мнение с учетом анализа ситуации или поставленной проблемы. Внимательно и вдумчиво определите смысл вопроса и логику ответа (последовательность и точность изложения). Отвечая на вопрос, предлагайте свой вариант решения проблемы, при этом ответ должен быть кратким, но содержать необходимую информацию;

- после выполнения всех предложенных заданий еще раз удостоверьтесь в правильности выбранных Вами ответов и решений.

Выполнение тестовых заданий целесообразно организовать следующим образом:

- не спеша, внимательно прочитайте тестовое задание;
- определите, какой из предложенных вариантов ответа наиболее верный и полный;
- обведите кружком букву, соответствующую выбранному Вами ответу;
- продолжайте таким образом работу до завершения выполнения тестовых заданий;
- после выполнения всех предложенных заданий еще раз удостоверьтесь в правильности выбранных Вами ответов;
- если потребуется корректировка выбранного Вами варианта ответа, то неправильный вариант ответа зачеркните крестиком, а новый выбранный ответ обведите кружком.

Предупреждаем Вас, что:

- при оценке тестовых заданий, где необходимо определить один *правильный ответ*, 0 баллов выставляется как за неверный ответ, а также, если участником отмечены несколько ответов (в том числе правильный), или все ответы;

- при оценке тестовых заданий, где необходимо определить все *правильные ответы*, 0 баллов выставляется, если участником отмечено большее количество ответов, чем предусмотрено в задании (в том числе правильные ответы) или все ответы.

Задание теоретического тура считается выполненным, если Вы вовремя сдаете его членам жюри. **Максимальная оценка - 150 баллов.**

Желаем вам успеха!

Общая оценка результата выполнения участником
заданий теоретического тура

_____ баллов

Председатель жюри _____ / _____ /

Подпись








Фамилия

1. Задания открытого типа

По теоретическому туру максимальная оценка результатов участника старшей возрастной группы (10-11 классы) определяется арифметической суммой всех баллов, полученных за выполнение заданий и тестов и не должна превышать 150 баллов

ЗАДАНИЕ 1. Для опознавания лиц и объектов, имеющих право на защиту, предоставляемую международным гуманитарным правом, используются отличительные знаки и эмблемы. Укажите, что обозначают изображенные ниже знаки и эмблемы.

Вариант ответа:

Оценка задания.

Максимальная оценка за правильно выполненное задание – **35 баллов**, при этом:

- ✓ за каждый правильный ответ начисляется по 5 баллов;
- ✓ при отсутствии правильных ответов, баллы не начисляются.

ЗАДАНИЕ 2. Впишите в левую часть таблицы наименования режимов функционирования РСЧС:

Вариант ответа:

Наименование режима	Условия функционирования или введения
	При обычной производственно-промышленной, радиационной, химической, биологической (бактериологической), сейсмологической и гидрометеорологической обстановке, при отсутствии эпидемий, эпизоотии, эпифитотий.
	При ухудшении указанной обстановки, получении прогноза о возможности возникновения ЧС;
	При возникновении и во время ликвидации ЧС.

Оценка задания.

Максимальная оценка за правильно выполненное задание – **30 баллов**, при этом:

- ✓ за каждый правильный ответ начисляется по 10 баллов
- ✓ при отсутствии правильных ответов, баллы не начисляются.

ЗАДАНИЕ 3. Предписывающие знаки безопасности предназначены для разрешения определенных действий работающих только при выполнении конкретных требований безопасности труда. Впишите в таблицу смысловые значения предписывающих знаков и дополните текст в колонке «Место установки знаков» недостающими фрагментами (словами или словосочетаниями).

Вариант ответа:

Смысловое значение	Изображение	Место установки знаков
		На участках работ, связанных с опасностью _____ _____
		При входе в рабочие помещения или на участки работ, связанных с опасностью _____ _____

		При входе в рабочие помещения или на участки работ с _____ _____
		При входе на участки работ, связанных с опасностью _____ _____
		В местах выполнения работ _____ _____

Оценка задания.

Максимальная оценка за правильно выполненное задание – **10 баллов**, при этом:

- ✓ за каждый правильный ответ начисляется по 2 баллов
- ✓ при отсутствии правильных ответов, баллы не начисляются.

ЗАДАНИЕ 4. Средства индивидуальной защиты органов дыхания или СИЗОД – это специально разработанные технические устройства, которые обеспечивают защиту органов дыхания от вредной, агрессивной внешней среды. Установите соответствие между СИЗОД и его предназначением. Результаты внесите в таблицу, вписав соответствующие буквы.

СИЗОД		Предназначение СИЗОД	
1	Фильтрующий противогаз	А	Средство индивидуальной защиты органов дыхания для работы и выхода из опасной атмосферы, характеризующейся наличием вредных и опасных факторов, уровень которых превышает установленные нормативы

2	Фильтрующий респиратор	Б	Средство индивидуальной защиты органов дыхания при эвакуации из опасной атмосферы, характеризующейся наличием вредных и опасных факторов, уровень которых превышает установленные нормативы
3	Фильтрующий самоспасатель	В	Средство индивидуальной защиты органов дыхания и глаз для работы и выхода из опасной атмосферы, характеризующейся наличием вредных и опасных факторов, уровень которых превышает установленные нормативы

Вариант ответа:

1	2	3

Оценка задания.

Максимальная оценка за правильно выполненное задание – **10 баллов**, при этом:

- ✓ за каждый правильный ответ начисляется по 2 баллов
- ✓ при отсутствии правильных ответов, баллы не начисляются.

ЗАДАНИЕ 5. Заполните до конца таблицу, в которой определите воинские звания (войсковые и корабельные) в соответствии с составами военнослужащих, установленные Федеральным законом Российской Федерации «О воинской обязанности и военной службе».

Вариант ответа:

Состав военнослужащих	Воинские звания	
	войсковые	корабельные
Солдаты и матросы		
Сержанты и старшины		
Прапорщики и мичманы		

Младшие офицеры		
Старшие офицеры		
Высшие офицеры		

Оценка задания.

Максимальная оценка за правильно выполненное задание – **39 баллов**, при этом:

- ✓ за каждый правильный ответ начисляется по 1 баллу
- ✓ при отсутствии правильных ответов, баллы не начисляются.

2. Задания закрытого типа

№ п/п	Тестовые задания	Макс. балл	Ответ
<i>Определите один правильный ответ</i>			
1.	 <p>Изображенным топографическим знаком на картах обозначают:</p> <p>а) хвойный лес; б) редколесье; в) смешанный лес; г) лиственный лес.</p>	1	
2.	 <p>Изображенный дорожный знак имеет следующее смысловое значение:</p> <p>а) заповедник; б) перегон скота; в) дикие животные; г) перегон скота запрещен.</p>	1	
3.	 <p>Изображенный знак пожарной безопасности имеет следующее смысловое значение:</p> <p>а) пожарный водосточник; б) пожарный кран; в) пожарный гидрант; г) звуковой оповещатель пожарной тревоги.</p>	1	
4.	 <p>Изображённые на рисунке грибы являются:</p> <p>а) условно съедобными;</p>	1	

	б) съедобными; в) не съедобными; г) ядовитыми.		
5.	Полным называется голодание, если: а) человек лишен пищи и воды; б) человек лишен пищи, но не ограничен в водопотреблении; в) пища употребляется человеком в ограниченных количествах, недостаточных для восстановления энергозатрат; г) при достаточном количественном питании человек недополучает с пищей одно или несколько веществ.	1	
6.	В колонне, перевозящей детей и включающей пять автобусов, медицинский работник должен находиться: а) в первом автобусе; б) в третьем автобусе; в) в четвёртом автобусе; г) в пятом автобусе.	1	
7.	В соответствии с Федеральным законом «О защите населения и территорий от чрезвычайных ситуаций природного и техногенного характера» потенциально опасный объект – это объект, на котором: а) проводятся спортивные и культурно-массовые мероприятия; б) предусмотрена вооружённая охрана; в) возможно одновременное пребывание более пяти тысяч человек; г) выпускается продукция для нужд армии.	1	
8.	Лицо, заранее обещавшее приобрести или сбыть похищенные предметы (ст. 33 УК РФ «Виды соучастников преступления») является: а) исполнителем; б) пособником; в) подстрекателем; г) организатором.	1	
9.	Проблесковым маячком бело-лунного цвета может быть снабжен автомобиль: а) осуществляющий инкассацию; б) перевозящий крупногабаритный либо опасный груз; в) осуществляющий работы по содержанию или ремонту дороги; г) сопровождающий организованную колонну.	1	

10.	<p>Если URL веб-сайт начинается с «https://», и в интерфейсе браузера появилась иконка замка то данное соединение:</p> <p>а) не является безопасным; б) является безопасным; в) содержит рекламную информацию; г) обязательно запросит авторизацию.</p>	1	
11.	<p>Отказ или повреждение технических устройств, применяемых на опасном производственном объекте, отклонение от установленного режима технологического процесса называется:</p> <p>а) авария; б) инцидент; в) катастрофа; г) чрезвычайная ситуация.</p>	1	
12.	<p>В соответствии со Строевым уставом Вооруженных Сил Российской Федерации расстояние в глубину между военнослужащими (машинами), подразделениями и воинскими частями называется:</p> <p>а) интервал; б) ширина строя; в) дистанция; г) глубина строя.</p>	1	
13.	<p>В годы Великой Отечественной войны в период с 25 июля 1942 г. по 9 октября 1943 г. проходила:</p> <p>а) Висло-Одерская операция; б) Операция по форсированию Днепра; в) Контрнаступательная операция под Москвой; г) Битва за Кавказ.</p>	1	
14.	<p>Жидкое, бесцветное отравляющее вещество с ароматом горького миндаля называется:</p> <p>а) синильная кислота; б) аммиак; в) хлор; г) хлорпикрин.</p>	1	
15.	<p>Кодовое наименование Крымской (Ялтинской) конференции 1945 г.:</p> <p>а) Буран; б) Аргонавт; в) Веста;</p>	1	

	г) Скала.		
<i>Определите все правильные ответы</i>			
16.	<p>Для определения сторон горизонта можно использовать следующие признаки:</p> <p>а) в католических костелах алтарь находится на западе;</p> <p>б) двери синагог находятся на востоке;</p> <p>в) кресты, расположенные на православном храме, нижняя часть нижней перекладины указывает на запад, верхняя на восток;</p> <p>г) двери мечетей находятся на севере;</p> <p>д) колокольня православного храма находится с западной стороны.</p>	3	
17.	<p>В соответствии с инструкцией по применению и испытанию средств защиты, используемых в электроустановках, к электробезопасным средствам относятся:</p> <p>а) изолянта;</p> <p>б) указатели напряжения;</p> <p>в) диэлектрические фартуки;</p> <p>г) плакаты и знаки безопасности;</p> <p>д) кусачки.</p>	2	
18.	<p>К преступлениям против порядка управления относятся:</p> <p>а) противоправное изменение Государственной границы Российской Федерации;</p> <p>б) клевета в отношении судьи, присяжного заседателя, прокурора, следователя, лица, производящего дознание, судебного пристава;</p> <p>в) присвоение полномочий должностного лица;</p> <p>г) уклонение от прохождения военной и альтернативной гражданской службы;</p> <p>д) вооруженный мятеж.</p>	2	
19.	<p>Для поражения бронированных целей предназначены:</p> <p>а) бетонобойные боеприпасы;</p> <p>б) подкалиберные боеприпасы;</p> <p>в) фугасные боеприпасы;</p> <p>г) кумулятивные боеприпасы;</p> <p>д) осколочные боеприпасы.</p>	2	

20.	Военно-транспортная обязанность распространяется на: а) автозаправочные станции; б) граждан – владельцев транспортных средств; в) консульские учреждения иностранных государств; г) лиц без гражданства; д) международные организации.	2	
Количество баллов			